

نصف درجة لكل فقرة

السؤال الأول : - اكتب المصطلح المناسب مما يلي : -

مخطط القصة

معدل العينة

السيناريو

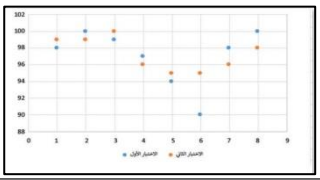
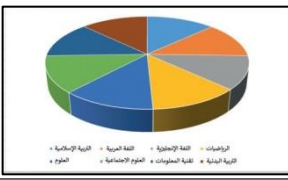
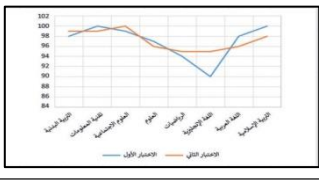
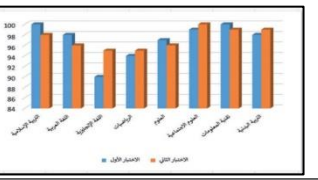
البكسل

مربعات صغيرة مُجمعة جنباً إلى جنب لكل من هذه المربعات لون محدد وعند دمجها جميعاً يتم تكوين الصورة .	البكسل
هو كمية التفاصيل بالصوت.	معدل العينة
هو رسم تشبيهي لفيلمك بأكمله.	مخطط القصة
هو كتابة وصف تفصيلي تسلسلي لأحداث الفيلم ويحتوي على ثلاث مكونات مهمة: الأحداث والحوار والأبطال	السيناريو

السؤال الثاني : ضع علامة \checkmark أو X :

✓	يمكنك عرض صورك بواسطة برنامج صورة مايكروسوفت (Microsoft Photos).	١
✓	الفيديو هو سلسلة من الصور التي تم التقاطها وعرضها في النهاية بتردد معين.	٢
✓	كل ما انخفض معدل البت كان حجم الملف أصغر والجودة أقل.	٣
✓	الديسيبل (db) هو الوحدة القياسية لقياس شدة الصوت.	٤
✓	اختيار البيانات هي الخطوة الأولى والأكثر أهمية لإنشاء المخطط.	٥
✓	المخطط البياني المصغر يستخدم لإظهار الاتجاهات في سلسلة من القيم.	٦
X	ملفات الصوت لها نوع واحد فقط " مضغوطة " .	٧
X	يُشير الرمز (HD) إلى الدقة القياسية للفيديو.	٨

السؤال الثالث: اكتب مسمى المخططات البيانية التالية:

			
المبعثر	الدائري	الخطي	العمودي/الشريطي