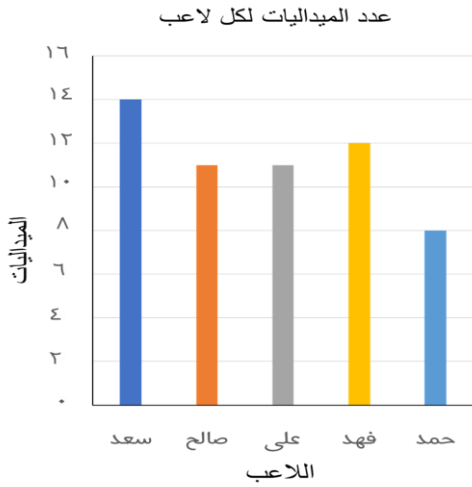




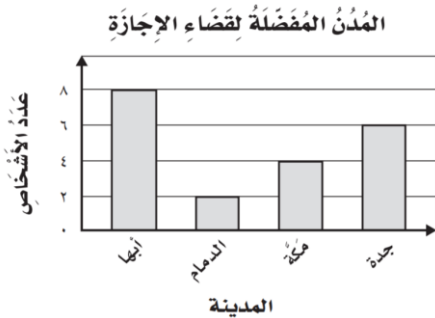
س١ / من الرسم أجب على ما يلي:

- (أ) ما عدد الميداليات التي حصل عليها صالح
- (ب) كم تزيد ميداليات سعد عن حمد
- (ج) ما عدد الميداليات التي حصل عليها اللاعبين
- (د) من اللاعبين اللذان حصلوا على نفس عدد الميداليات



٤

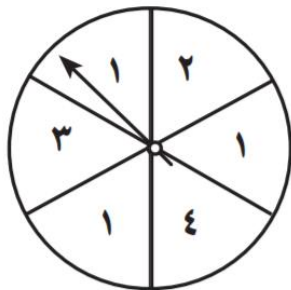
س٢ / مستعملاً التمثيل المجاور لإكمال بيانات الجدول بالإشارات والأرقام:



المدن	العدد
أبها	
الدمام	
مكة	
جدة	

٣

س٣ / صف احتمال وقوف المؤشر على كل عدد في القرص ذي المؤشر الدوار، وأكتب (أكيد، أ، أكثر احتمال، أو أقل احتمال، أو مستحيل):



٢

- (أ) ٢
- (ب) عدد أقل من ٥
- (ج) عدد زوجي
- (د) ٥
- (هـ) عدد فردي