








أختار من الصور التالية الأشياء التي تحتاج إليها المخلوقات الحية

لكي تنمو ثم ألوها :

☆ المخلوقات الحية تحتاج إلى :

	٣		٢		١
الغذاء ()		الحاسب الآلي ()		الهواء ()	
	٦		٥		٤
ضوء الشمس ()		الماء ()		السيارة ()	

السؤال الرابع: أصل كل جزء من أجزاء النبات باسمه المناسب:



الجذور
الساق
الأوراق
الأزهار
الثمار



أصل كل جزء من أجزاء النبات بوظيفته :

تصنع الغذاء

تصنع البذور

تمتص الماء

تحمل الاوراق

تحمي البذور



الجدور



الساق



الأوراق



الأزهار



الثمار

أصل بين كل نبات والبيئة التي يعيش بها :

أصل العمود الثاني بما يناسبه من العمودين الأول والثالث

نباتات كثيرة

أوراقها شوكية

تفقد الماء

تحتفظ بالماء

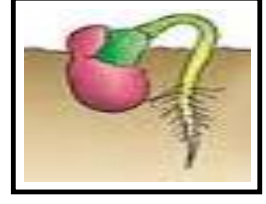
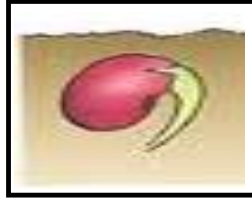
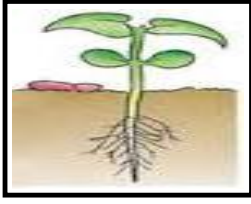
نباتات قليلة

نباتات الصحراء

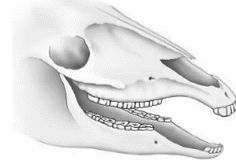
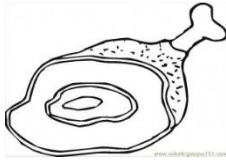
نباتات الغابة



أرتب بوضع الأرقام دورة حياة بذرة :



السؤال التاسع: أربط بين شكل أسنان الحيوان ونوع الطعام الذي يتناوله:





انتهت الأسئلة

مع أطيب التمنيات بالنجاح والتوفيق

الاسم / الصف اول /

استنتاج مفهوم التلوث من خلال الصور.

ضعي علامة (x) أمام الصور التي تعبر عن التلوث .



تسمية المكان الذي تعيش فيه المخلوقات الحية

صلي كل صورة بالاسم المناسب لها .

المحيط

المنطقة العشبية

الغابة

