

## خاصية الإبدال

$$٢٠ = ٥ \times ٤$$


$$٢٠ = ٤ \times ٥$$

## الجمع المكرر

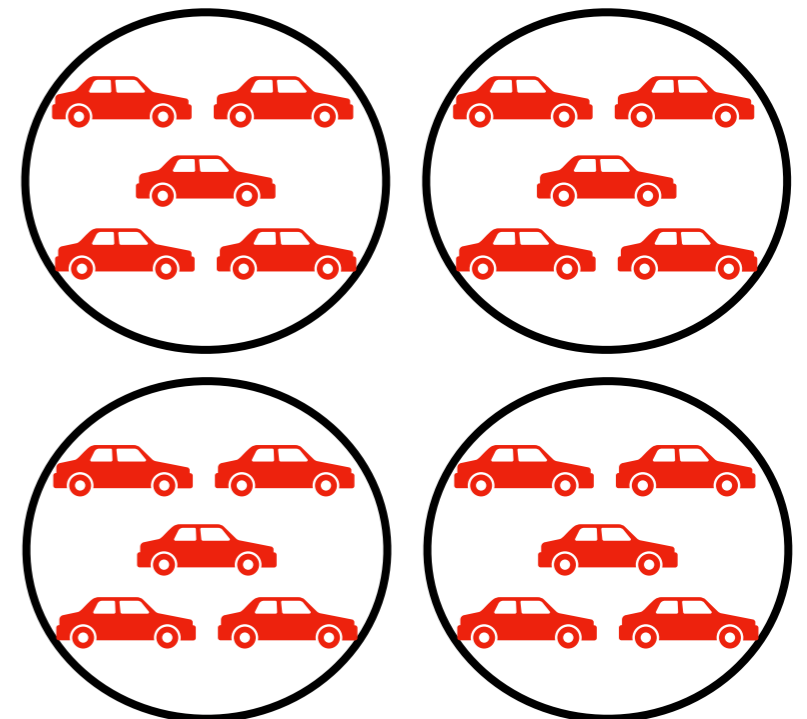
$$٢٠ = ٥ + ٥ + ٥ + ٥$$

$$٢٠ = ٥ \times ٤$$

## باستعمال الشبكة



## المجموعات



## خاصية الإبدال

$$٢٠ = ٥ \times ٤$$


$$٢٠ = ٤ \times ٥$$

## الجمع المكرر

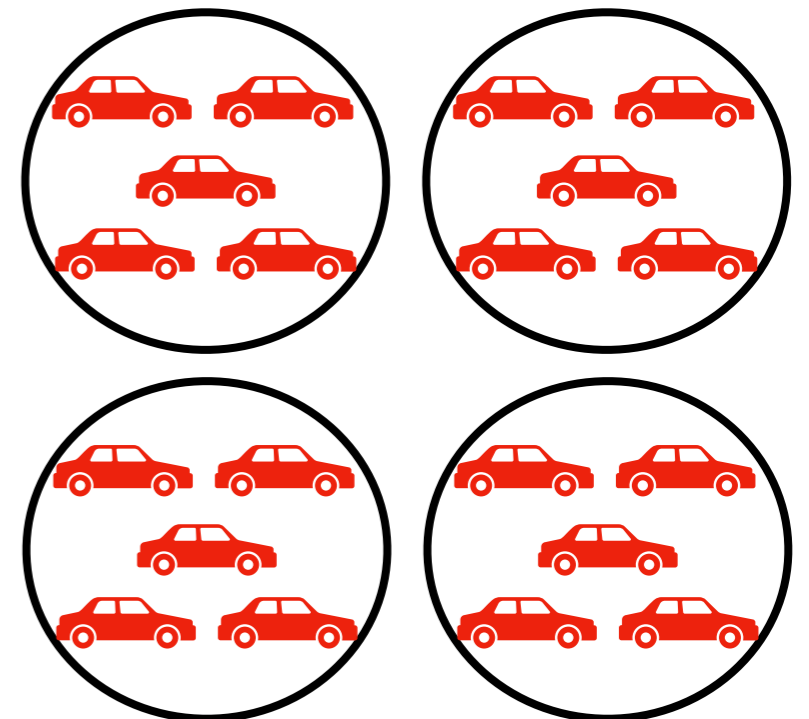
$$٢٠ = ٥ + ٥ + ٥ + ٥$$

$$٢٠ = ٥ \times ٤$$

## باستعمال الشبكة



## المجموعات



خاصية الإبدال

= X

= X

الجمع المكرر

= X

باستعمال الشبكة

المجموعات

خاصية الإبدال

= X

= X

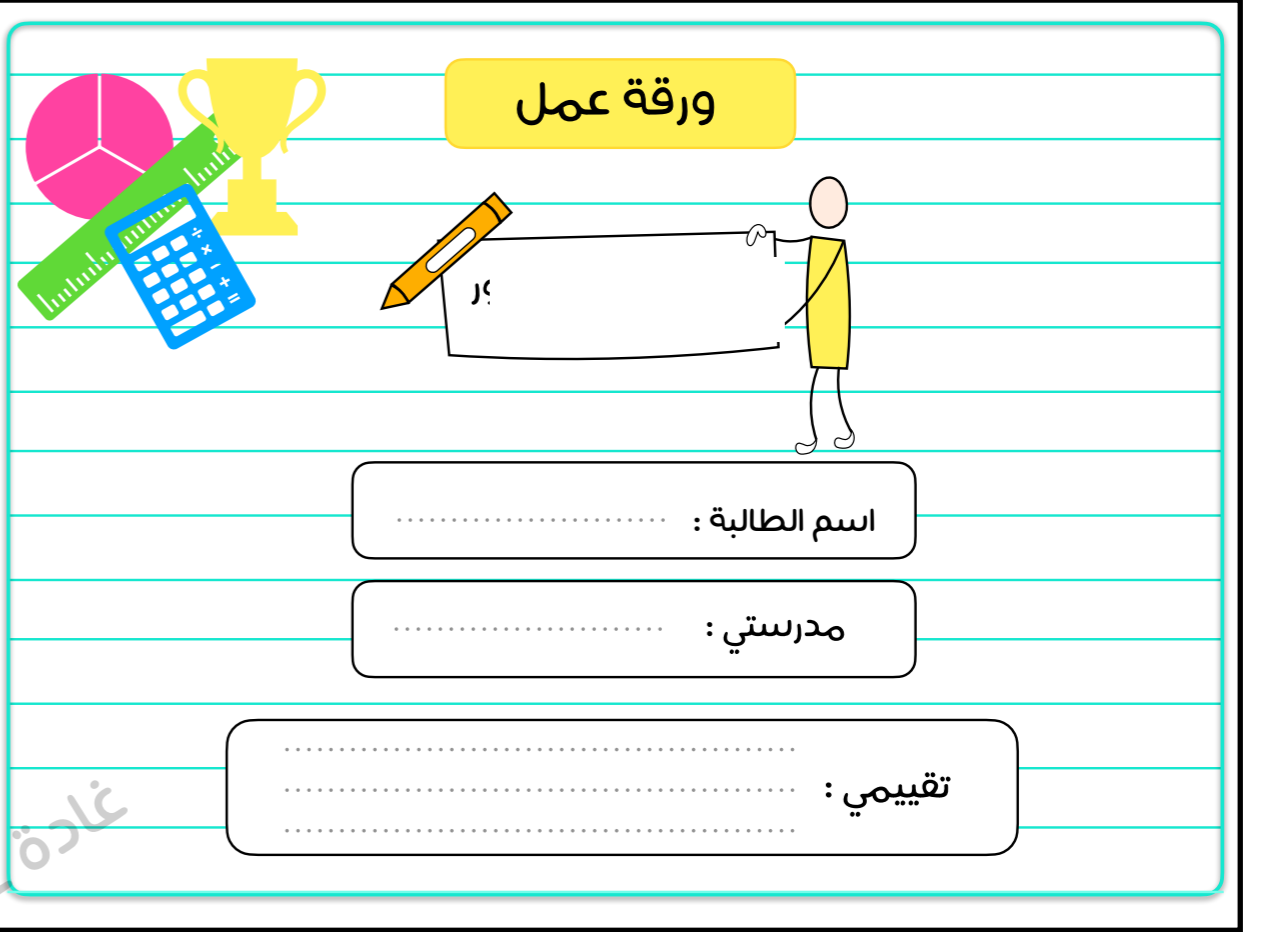
الجمع المكرر

= X

باستعمال الشبكة

المجموعات

ورقة عمل



اسم الطالبة: .....

مدرستي: .....

تقييمي: .....

خاصية الإبدال

= X

= X

الجمع المكرر

= X

باستعمال الشبكة

المجموعات

خاصية الإبدال

= X

= X

الجمع المكرر

= X

باستعمال الشبكة

المجموعات