

عبّر عن وجهة نظرك حول مزايا ومساوئ الغربية مع تبرير رأيك؟

من مزايا الغربية أنك قد تستطيع جمع المال بوقت أسرع من بلدك و سوف تتعرف على حضارات جديدة مساونها تبعدنا عن أهلنا وتضعف انتمائنا لوطننا ونفقدنا متعة الحياة ونفقد الإنسان أجمل أيام حياته وهو غارق في العمل.

عرف التفكير الناقد؟ هو عملية ذهنية يؤديها الفرد عندما يحتاج إلى الحكم على قضية أو مناقشة موضوع أو إجراء تقويم، عن طريق تحليل المعلومات وفرزها واختبارها بهدف التمييز بين الأفكار.

ما أهمية التفكير الناقد؟

- ١- الاعتراف بأخطائنا والتعلم منها .
- ٢- تحليل الأفكار والمعلومات التي نتلقاها مع تقييمها .
- ٣- التحقق من المعلومات من خلال البحث عن دليل أو برهان لإثباتها أو دحضها .
- ٤- تعزيز الاستقلالية في التفكير والتحرر والتبعية للآخرين .

خطوات التفكير الناقد :	
الملاحظة	شعور الفرد بحالة من التناقض حيال قضية ما، الأمر الذي يستثير تفكيره ، وعندها يبدأ الفرد بأخذ دور المفكر الناقد
الاستكشاف	محاولة اكتشاف التناقضات من خلال طرح الأسئلة والبحث عن أفكار وأجوبة جديدة .
مناقشة الآراء	نناقش في هذه المرحلة الأفكار المختلفة وتمييز نواحي القوة والضعف في الأفكار المعارضة، بطريقة موضوعية بعيدة عن التحيز
صياغة الأدلة والبراهين	من خلالها نصل إلى أجوبة وتفسيرات للموضوع اعتماداً على الأدلة والبراهين .
تبني التصورات الصحيحة	في حالة ظهر التناقض بين الأفكار والتصورات القديمة والجديدة ، تبدأ بالتخلي عن القديمة وتبني الجديدة، لنستفيد منها في حياتنا

عدد مهارات التفكير الناقد :

١- التمييز بين الآراء والحقائق	الرأي: القول المعبر عن الشعور والاعتقاد حيال موضوع ما . الحقيقة: تشمل التجربة الموضوعية الثابتة والاستنتاج العقلي والأدلة والبراهين.
٢- التحليل	تجزئة الموضوع بحيث نستطيع فهمه بشكل أفضل من خلال التفكير بكل جزء من الأجزاء على حدة.
٣- التقويم	تحديد درجة ارتباط المعلومات والبراهين المقدمة بموضوع النقاش أو القضية المطروحة فإما أن تكون العلاقة وثيقة أو ضعيفة وكلا الأمرين يحتاج إلى توضيح المبررات وتقديم الأدلة والبراهين
٤- الشرح وعرض النتائج	هو إعلان نتائج التفكير، وتقريره في ضوء الأدلة والحجج التي لا يمكن إنكارها .

يمكننا التفكير الناقد القدرة على : تحليل الوقائع - تحرير الأفكار وتنظيمها - عقد المقارنات - التوصل للاستنتاجات - حل المشكلات .

عرف المثابرة :

هي مواصلة العمل بجد وعزيمة لتجاوز المصاعب والعراقيل التي تواجهنا من خلال المحاولات المستمرة مع الإيمان بحتمية الوصول إلى ما نريد

ما أسس المثابرة:

الإرادة - الاستمرار في العمل - القيام بمحاولات متكررة - التغيير في كل محاولة . - تغليب الرغبة في النجاح على الخوف من الفشل .

عدد سمات المثابرة ؟	ما عوامل النجاح في الحياة؟
١- القدرة على تحديد الأهداف ووضع الخطط لإنجازها	١- اتخاذ المبادرة نحو تحقيق الهدف المحدد.
٢- التحلي بالإصرار والعزيمة والصبر حتى تحقيق النجاح	٢- الحفاظ على الانضباط والتصميم وقوة الإرادة
٣- العمل على تجاوز الصعوبات وتحويلها إلى فرصة متاحة.	٣- بذل الجهد والمثابرة بجد وإخلاص.
٤- تجديد الثقة بالنفس .	٤- تنمية المهارات وتعزيزها.
	٥- الاهتمام بالمواهب والعمل على تنميتها وتطويرها.

علل فشل معظم المشاريع التنموية؟ وماهي الحلول؟ غياب المتعة والاستمرارية والمثابرة في إنجاز هذه المشاريع. الحل هو من خلال ترسيخ مفهوم المثابرة لدى الأفراد وضرورة تركيز اهتمام المؤسسات التي تدير تلك المشاريع على متابعة مراحل التنفيذ حتى تدخل في دورة الإنتاج.

ما أثر المثابرة على الفرد والمجتمع؟ على الفرد: ١- تطوير طرق التفكير. ٢- تنمية حس الاجتهاد. ٣- المحاولة والإصرار. ٤- الثقة بالنفس .

على المجتمع: ١- تكريس ثقافة المثابرة في الدوائر مما يؤدي إلى الاهتمام بشؤون المواطنين

٢- حل مشاكل المواطنين بطرق مبتكرة مما يساعد على بناء الثقة بين أبناء المجتمع وزيادة قوته

علل مايلي:

استمرت مفاوضات مؤتمر مدريد للسلام عقداً من الزمن دون أن تفضي إلى نتيجة ؟

يعود ذلك إلى التعنت الصهيوني والطبيعة العدوانية والنزعة التوسعية والدعم الأمريكي لمواقفه .

ما الطرق التي اتبعتها سورية في تعزيز جبهات المقاومة لاستعادة الأراضي المحتلة؟ دعمها حركات المقاومة في فلسطين وفي الجنوب اللبناني .

ما الذي نتج عن دعم سورية للمقاومة؟ أحيى الأمل بأهمية التمسك بخيار المقاومة للانتصار على الأعداء مهما كانت قوتهم واستعادة الحقوق .

- ماهي الوسيلة التي اتبعتها الدول الاستعمارية لتنفيذ مشاريعها في المنطقة؟ استخدام الجماعات الإرهابية من أجل تفتيت الدول السورية .
كيف استطاعت سورية هزيمة هذا المشروع ؟ بمقاومة الشعب السوري وجيشه وقائده وصمودهم الأسطوري في مواجهة تلك المخططات .
علل: كان الشعب السوري على ثقة بأن مصير المشاريع التي تستهدفه ستبوء بالفشل ؟
استناداً إلى خبرته التاريخية وتمرسه الطويل ومثابرتة بعزيمة لا تلين في الصراع مع القوة الاستعمارية بدءاً من الغزوات الصليبية والمغولية والاحتلال العثماني (التركي) فالفرنسي فالصهيوني.

ضرورة قيام الإنسان بتطوير طرق تفكيره؟ ليتمكن من حل مشاكله بطريقة مبتكرة و الوصول لهدفه .
أهمية تمتع المثابر بالصبر والقدرة على التحمل؟ ليتغلب على الشعور باليأس مما يمكنه من تحقيق أهدافه.
الكثير من الأشخاص حققوا نجاحات كبيرة رغم عدم امتلاكهم لأي موهبة؟ لأنهم صبروا وثابروا حتى تمكنوا من تحقيق هذه النجاحات.

مفهوم المشاركة المجتمعية	أهمية المشاركة المجتمعية	عوامل تعيق المشاركة المجتمعية
- هي دور أفراد المجتمع في عمليات التنمية. - وهي نوع من التطوع يساهم من خلاله الأهالي تبعاً لنوع قدراتهم واهتمامهم لتوفير الخدمات للمجتمع المدني.	- تحمل المسؤولية من قبل أفراد المجتمع - خلق شعور بأن ما يقوم به الأفراد خدمة للمجتمع. - توفير الدعم المادي والمعنوي .	- غياب المشاورة بين أفراد المجتمع. - انعدام التطبيق الفعلي للنشاطات الاجتماعية . - غياب الدور التوجيهي للهيئات الاجتماعية التي تعمل على توعية الأفراد بضرورة المشاركة المجتمعية.

أهمية المشاركة في المناسبات الاجتماعية و الوطنية؟ تساهم في تعزيز التلاحم الشعبي والوطني بين المواطنين و تقوي روابط التواصل و المحبة
- عرف المشاركة المجتمعية : تعني كل نشاط يقوم به أفراد المجتمع ومنظماته وجمعياته الأهلية بشكل تطوعي دافعه الشور بالانتماء وتحمل المسؤولية تجاه المجتمع بغية الارتقاء به سواء بالفكر أو العمل أو تمويل المشروعات.
- يعتمد مفهوم المشاركة المجتمعية على التفاعل بين ثلاثة مكونات أساسية : ماهي ؟

منظمات المجتمع	القطاع الخاص	المؤسسات الحكومية
تهيئة المناخ الملائم للمشاركة في الأنشطة السياسية والاقتصادية والاجتماعية	تحريك العملية التنموية وتوفير فرص عمل جديدة	تهيئة البيئة السياسية والقانونية التي تساعد على المشاركة المجتمعية

ما أهمية المشاركة المجتمعية ؟

١- تنمية الشعور الجمعي بالوطن . ٢- التخلص من الأنانية وتحمل المسؤولية الشخصية والاجتماعية . ٣- تكريس مفهوم المواطنة وتعزيز الوحدة الوطنية . ٤- تعزيز التعاون الفعّل بين أفراد المجتمع . ٥- التشبيك بين المؤسسات الأهلية والحكومية . ٦- تقديم المساعدة للآخرين وتلبية مطالبهم .
- اعبر بأسلوبك عن أهمية المشاركة المجتمعية وأثرها في الفرد والمجتمع مستفيداً من العبارات السابقة.
تؤدي المشاركة المجتمعية إلى التخلص من الأنانية وتحمل المسؤولية الشخصية وتكرس مفهوم المواطنة وتعزز الوحدة الوطنية والتعاون بين أفراد المجتمع والتشبيك بين المؤسسات الأهلية والحكومية وتقديم المساعدة للآخرين وتلبية مطالبهم.

أشكال المشاركة المجتمعية	المفهوم	الأهمية	الأهداف
العمل التطوعي	العمل أو الجهد الذي يقدم دون مقابل مادي بدافع تحمل مسؤولية معينة أو تقديم خدمة للمجتمع .	١- تمكين روابط المحبة بين أفراد المجتمع . ٢- تنمية المهارات الشخصية للفرد كمهارة التواصل	١- تخفيف حجم الأعباء المادية عن الدولة . ٢- توفير الموارد .
المشاركة في المناسبات الوطنية	التفاعل والتواصل بين أبناء الوطن .	١- تمنح أفراد المجتمع مشاعر الانتماء والتعاون لبناء الوطن . ٢- الدفاع عنه .	الحفاظ على الهوية الوطنية .
المشاركة في الانتخابات	مساهمة المواطنين في إدارة الشؤون العامة عبر مرشحيهم .	١- ترسيخ قيم المواطنة . ٢- ترفع من درجة الوعي السياسي . ٣- تدعيم الديمقراطية وترسيخها في أذهان الناس .	١- احترام الرأي والرأي الآخر . ٢- وتنشيط الحياة السياسية . ٣- بناء مجتمع ديمقراطي متماسك .
المبادرات لتحقيق المصلحة العامة	اقتراح لفكرة لم تكن موجودة ينتج عن تنفيذها تلبية حاجة أفراد المجتمع .	تنمية مهارة التفكير الإبداعي للأفراد للمساهمة في حل مشكلات المجتمع .	توظيف الموارد البشرية والمادية لتحقيق التنمية .

ما هي العوامل المؤثرة في المشاركة المجتمعية : ((قد يأتي السؤال استنتاج معوقات المشاركة المجتمعية)) نفس الإجابات بإضافة كلمة (عدم) ؟
١- الوعي السياسي والثقافي والاجتماعي لأفراد المجتمع . ٢- حرية التعبير وإبداء الرأي . ٣- اهتمام المؤسسات الحكومية بالمشاركة في الخطط التنموية . ٤- وجود شهادات تقدير ونظام حوافز معينة . ٥- درجة تقدير أبناء المجتمع لجهود المشاركين وتشجيع الدولة . ٦- الإيمان بمبدأ تغليب المصلحة العامة على المصلحة الخاصة . ٧- التواصل بين المؤسسات الحكومية والمؤسسات الأهلية والأفراد .

فسر ما يلي :

فسر ارتباط مفهوم المشاركة المجتمعية بدرجة الوعي السياسي والثقافي التي يتمتع بها أفراد المجتمع .
كلما زاد الوعي السياسي والثقافي لأفراد المجتمع زاد الشعور بأهمية خدمة المجتمع وتحمل المسؤولية والمشاركة والتفاعل مع أبناء الوطن .
فسر ضرورة قيام الإنسان بتطوير طرق تفكيره؟ ليتمكن من تنمية مهارة التفكير الإبداعي للمساهمة في حل المشكلات المجتمعية .

*** مفهوم الإعلام وعناصره:**

يقصد بالإعلام تزويد الناس بالأخبار والمعلومات التي تساعدهم على تكوين آرائهم ورفع مستوى وعيهم وثقافتهم وتحملهم للمسؤولية. حيث تقوم به جهة رسمية أو غير رسمية عبر توجيه رسائل إلى جمهور مُستهدف

كيف تجسد نجاح الحملة الإعلانية "سورية تناديك"؟

من خلال استجابة الشباب السوري للانضمام إلى صفوف الجيش العربي السوري للتصدي للإرهاب المدعوم صهيونياً.
- ما دلالة عبارة "من دمشق... هنا القاهرة"؟ التكاثر والتلاحم بين البلدين الشقيقين.

*** عناصر الإعلام:**

المرسل	الجهة التي تصدر منها المعلومات والأخبار سواء كانت رسمية أو غير رسمية
الرسالة	هي المعلومات، والأخبار التي يريد المرسل تقديمها للمتلقي من خلال الوسيلة للتأثير في آرائه.
المتلقي	الجهة التي توجه إليها المعلومات والأخبار
الوسيلة	الأداة التي تستخدم لإيصال الأخبار والمعلومات وهي: مقروءة (صحف ومجلات) مسموعة (مذياع) مرئية (تلفاز) إلكترونية (حاسب، جوال)

ما هي أهمية الإعلام:

- ١- رفع مستوى الوعي والثقافة للأفراد.
- ٢- توفير التسلية من خلال تقديم الأفلام والمسلسلات والبرامج المنوعة.
- ٣- الإعلان والترويج للمنتجات والسلع.
- ٤- التعريف بالتراث الحضاري الإنساني وتبادل الثقافات بين الشعوب.
- ٥- التنشئة على القيم الإيجابية من خلال مراقبة البرامج وأفلام الرسوم المتحركة.

*** مجالات الإعلام:**

المجال	المضمون	الوظيفة
الإعلام الإخباري	الأخبار والبرامج السياسية والوقائع الأنبية.	تزويد الناس بالمعلومات والتعريف بأهم الأحداث المحلية والعالمية
الإعلام التنموي	التعريف بالخطط والمشاريع التنموية والمشاكل التي تعترضها.	تشجيع الناس على المشاركة في الأنشطة التنموية، وتقديم المبادرات لتنمية المجتمع وتطوره.
الإعلام التربوي	تقديم برامج تعليمية وتربوية للطلاب	تنمية مهارات الطلاب وقدراتهم وإثراء تجاربهم ومعارفهم.
الإعلام البيئي	توعية الناس وتزويدهم بالمعلومات المتعلقة بالقضايا البيئية.	تحريك الرأي العام لوقف تدمير البيئة والحد من التلوث.
الإعلام الترفيهي	تقديم برامج ترفيهية.	تنمية المهارات الترفيهية والتسلية.
الإعلام الرياضي	تقديم برامج رياضية.	اعداد جيل ذو بينية جسدية قوية.

عرف الإعلام التفاعلي: هو عملية اتصال تفاعلية ناتجة عن الاندماج بين الحاسوب والشبكات والوسائط المتعددة والأجهزة الذكية.

أبرز خواصه: التفاعل بين المرسل والمتلقي - تحول المتلقي إلى مرسل متى أراد - سهولة استخدامه وهو متاح للجميع.

ما هي أهم وسائل الإعلام الجديد؟ ١- مواقع التواصل الاجتماعي. ٢- الصحف الإلكترونية. ٣- صفحات الإنترنت.

ما هي متطلبات الإعلام الجديد؟

١- وجود جهاز إلكتروني (حاسوب أو هاتف جوال) ٢- شبكة إنترنت. ٣- بريد إلكتروني ٤- حساب بأحد مواقع التواصل الاجتماعي.

ما هي متطلبات التعامل مع وسائل الإعلام الجديدة؟ ١- امتلاك مهارات استخدامها وتوظيفها. ٢- استخدام مهارات التفكير الناقد.

ما هي مخاطر وسائل الإعلام الجديدة والإنترنت عموماً؟

١- حالة الغموض وعدم وضوح الشخصيات الحقيقية. ٢- هاشم الحرية العريض وعد وجود رقابة فعلية.

٣- نشر أخبار غير صحيحة وأفكار خاطئة. ٤- تضليل المتلقي مما يؤدي إلى ارتباطات خطيرة بشبكات الجريمة المنظمة والإرهاب.

أقارن بين الإعلام التقليدي والإعلام التفاعلي من حيث:

الإعلام التقليدي	الإعلام التفاعلي
الوسائل	صحف - إذاعة - تلفاز
التفاعل والمشاركة	لا يوجد تفاعل
الانتشار والوصول	محصور بأبناء البلد أو المنطقة
	حاسوب - شبكات تواصل - أجهزة ذكية.
	تعتمد على التفاعل والمشاركة بين المرسل والمتلقي وتحوله إلى صانع للإعلام.
	لا حدود له (جميع أنحاء العالم)

*** أثر وسائل الإعلام في المجتمع:**

الأثر الإيجابي	الأثر السلبي
- إتاحة الفرصة للمواطنين للتعبير عن الرأي.	- التضليل ونشر الأخبار غير الصحيحة.
- التعريف بحقوق وواجبات المواطن وتعزيز الانتماء الوطني.	- إضاعة الوقت وهدره بمتابعة برامج غير مفيدة.
- تشجيع المبادرات والأعمال التطوعية لإحداث تغيير إيجابي في المجتمع.	- الترويج للعنف والسلوك العدواني من خلال الأفلام والبرامج.
- مراقبة عمل مؤسسات الدولة.	- التحيز وعدم الموضوعية عند تقديم الخبر لأغراض متعددة.

فسر ما يأتي:

الإعلام الجديد هو إعلام جماهيري. لأنه يعتمد على المشاركة والتفاعل بين أكبر عدد من الجمهور المتلقي في العالم.

٢- تحول الكثير من الصحف والمجلات الورقية إلى وسائل إعلام إلكترونية. لسهولة انتشارها وسرعتها ووصولها إلى أكبر عدد ممكن من الجمهور وقلة تكلفتها المادية.

يعد مجتمع مدينة الثورة مجتمعاً مُصغراً عن المجتمع السوري؟ وضح ذلك.

مع قيام ثورة الثامن من آذار عام ١٩٦٣م تم بناء سد الفرات بالقرب منها مما جعلها مركزاً بشرياً واقتصادياً وثقافياً لمختلف أبناء المحافظات السورية وبالتالي شكلت لوحة فنية غنية للنسيج السوري تعكس صورة رائعة عن العيش المشترك والتناغم والانسجام بين أفراد المجتمع.

- عدد خصائص المجتمع السوري ؟

١-التنوع والتعدد	يتميز بتنوع بيئاته وأنماط معيشتته مع تعدد مكوناته التي يجمعها تاريخ مشترك ووعي وثقافة توجت بإقامة نظام سياسي مركزي (دولة موحدة) تعبر عن هوية وطنية جامعة.
٢-التكامل	وحدة المجتمع السوري لا تقوم على التشابه وإنما تتألف مكوناته المتنوعة لتشكل نسيجاً اجتماعياً متكاملًا
٣-المجتمع السوري فتي	أي ترتفع نسبة الشباب والطفولة ، مقارنة ببقية الفئات العمرية.
٤-العيش المشترك	تسود علاقات اجتماعية وثيقة ومصالح متبادلة ترسخ مبدأ العيش المشترك الذي يقوم على المساواة في الحقوق والواجبات وقبول الآخر.

-المجتمع السوري: هو ذلك الكل المتكامل الناتج عن تآلف السوريين وتوافقهم على أسس وعادات وقيم وتقاليد ضمن إطار الجغرافيا السورية.

***التنوع مصدر قوة وغنى للمجتمع السوري: (وازن بين المواطنة و المواطنون)**

المواطنة	مبدأ أساسي ينطوي على حقوق وواجبات يتمتع بها كل مواطن ويمارسها وفق القانون.
المواطنون	متساوون في الحقوق والواجبات لا تمييز بينهم في الجنس أو اللغة أو الدين .

مفهوم المواطنة: بمضامينه الانتماء والمشاركة والمساواة يعد الرابطة الأقوى التي تجمع المواطنين وتكفل لهم حقوقهم الأساسية

-أفسر : تنوع المجتمع السوري مصدر غنى معرفي وتفاعل حضاري.

١-ساعد على انطلاق حرية الفرد، وزاد من قدرته على الإبداع والابتكار.

٢-حقق مجتمعاً متمسكاً بوحدته الوطنية ، يرفض المشاريع الاستعمارية التقسيمية.

٣-أسس للعيش المشترك بين السوريين الذي يقوم على تكامل المصالح وإضفاء التفاعل الثقافي الأمر الذي يقوي الانتماء للوطن.

-أوضح العلاقة بين المواطنة وبين قدرة الفرد على الإبداع والابتكار. لأنها ساعدت على حرية الفرد مما رفع قدرته على الإبداع والابتكار.

-أعطى مثلاً عن مهرجانات وأعياد شعبية تعبر عن التنوع الثقافي في المجتمع السوري. عيد النيروز - مهرجان الربيع - مهرجان البادية.

تستند رعاية التنوع في المجتمع السوري على: قبول واحترام خصوصية كل مكونات المجتمع - إيجاد بيئة اجتماعية يسودها الأمان والتضامن.

يشكل التنوع قوة وغنى للمجتمع يتم تعزيزها عبر :

١- سن التشريعات والقوانين التي تؤكد المساواة ورفض التمييز واحترام التنوع الاجتماعي.

٢- تعزيز التواصل بين مختلف الفئات المجتمعية عبر المنظمات الشبابية التطوعية.

٣-تقوية الانتماء إلى الوطن ، وإضعاف الانتماءات العشائرية والقبلية.

٤-تضافر جهود المؤسسات التربوية والثقافية والاجتماعية في تجسيد التنوع.

***ما دور المؤسسات الاجتماعية التربوية والثقافية والإعلامية في رعاية التنوع؟**

- اكساب المتعلم مهارات حياتية تزيد من فعاليته ومشاركته في النشاطات الاجتماعية المختلفة- تكريس قيم التواصل والحوار وقبول الآخر.

- إشراف وزارة الثقافة على المهرجانات الثقافية، وتهتم بإحياء التراث الوطني المتنوع.

- تقديم الاعلام الوطني برامج تعريف بالعادات والتقاليد الشعبية لمختلف البيئات والفئات التي تشكل المجتمع السوري .

-التطور الاجتماعي الثقافي: هو جملة التغيرات التي تطرأ على بنية المجتمع وعلاقاته وطبيعة الأدوار الاجتماعية والعادات والتقاليد في فترة

زمنية قد تطول أو تقصر ينتقل عبرها المجتمع من مرحلة إلى أخرى أكثر تقدماً .

***ما هي العوامل المؤثرة في التطور الاجتماعي الثقافي ؟**

العامل البيئي	هو ما يؤثر في الحياة الاجتماعية مثل (الموقع والمناخ والتضاريس والأمطار وفيضانات الأنهار....
العامل السكاني	يقصد به العناصر المتعلقة بالسكان من حيث أجناسهم، وأعدادهم، وفئاتهم العمرية، ونسب توزعهم.
العامل الاقتصادي	يظهر دور الاقتصاد عبر تأثيره في طبيعة البنى الاجتماعية القائمة ، وفي الأعمال والمهن، والمستوى المعيشي والرفاه الاجتماعي
العامل التربوي	تؤثر عملية التربية و التعليم في النواحي الصحية والوقائية والتربوية والسلوكية في المجتمع، وهذا العامل الأهم (علل) لأنه يؤمن رأس المال البشري الذي يعد أهم دعائم تقدم المجتمعات .
العامل السياسي	تؤثر في المجتمعات مثل الاحتلال والحروب والتبعية وطبيعة النظام السياسي، والاضطرابات الداخلية.

كيف يمكن للتطور الثقافي أن يقضي على التعصب والطائفية والقبلية من وجهة نظرك؟

من خلال غرس القيم الاجتماعية والتعاون وأداء الواجبات وتقبل الرأي الآخر.

***أثر التطور التقني في المجتمع وثقافته :**

-أنتج أنماط علاقات جديدة. حيث قلت مواقع التواصل الاجتماعي ووسائل الاتصال الحديثة من الزيارات الاجتماعية واللقاءات المباشرة بين

الأفراد. وانعكس التطور التقني على بنية المجتمع فالمجتمعات التي تمتلك قابلية التطور يمكن أن توجهه بما يخدم توجهاتها .

وضح الآثار الإيجابية والسلبية للتطور التقني وفق المجالات الآتية :

مجال التغيير	الآثار الإيجابية	الآثار السلبية
الفرد	التعليم الذاتي - توسع الخيارات - سعة الاطلاع	أبعدت الشباب عن القراءة قللت وسائل التواصل من الزيارات الاجتماعية واللقاءات المباشرة بين الأفراد
الأسرة	اختصار المسافات بين المسافرين وذويهم وأهلهم من خلال وسائل التواصل الاجتماعي	ضعف ارتباط الفرد بالأسرة - ارتفاع نفقات الأسرة - التفكك الأسري
المدرسة	سهولة التعليم والوصول إلى المعلومة - توفير مقاطع وصور مرئية تساعد الطلاب على الفهم	إضاعة معظم الطلاب أوقاتهم في البرامج والألعاب وابتعادهم عن الدراسة
المجتمع	نشر ثقافة القانون - التحرر من العادات والتقاليد البالية - الانفتاح على المجتمعات الأخرى	تهديد الخصوصية - ظهور نوع جديد من الجرائم (الجرائم المعلوماتية)

فسر ما يأتي :

- العامل التربوي هو أهم دعائم تقدم المجتمع وتطوره. لأنه يؤمن رأس المال البشري الذي يعد أهم دعائم تقدم المجتمع.
- يتسم تطور المجتمع أثناء الصراعات والحروب بأنه بطيء. لأن كل إمكانياته وقدراته يتم توجيهها لإنهاء الصراع والحفاظ على بقائه.

مفهوم الهوية الوطنية: هي مجموعة الخصائص التي يشترك فيها شعب ينتمي لوطن واحد وتميزه عن غيره من شعوب العالم، وتتمثل في اللغة والقيم والعادات والتقاليد والمصالح المشتركة والرموز الوطنية.

*عناصر الهوية الوطنية:

١- اللغة	هي الأداة الأساسية للتفاهم بين أبناء الوطن ووعاء لكل إنجازات الأمة.
٢- الموقع الجغرافي	أرض الدولة وحدودها.
٣- الانتماء الوطني	هو شعور أبناء الوطن بارتباطهم به والسعي لتطويره، والدفاع عنه - وأداء واجباتهم بدقة وإتقان، واحترام الحقوق.
٤- التاريخ المشترك	هو الأحداث التي عاشها الأجداد والحضارات التي تعاقبت على أرض الوطن.
٥- الثقافة	هي الإنجازات الفكرية والمادية التي قدمتها الأمة عبر مسيرة تطورها التاريخية.
٦- الرموز الوطنية	العلم، النشيد الوطني، الجيش، شعار الدولة.
٧- العملة الوطنية	تعد رمزاً من رموز سيادتها الوطنية لا يجوز المساس بها.

* رموز الهوية الوطنية:

علم الجمهورية العربية السورية	النشيد الوطني السوري	شعار الجمهورية العربية السورية	الجيش العربي السوري
ما هي واجبات المواطن تجاه هويته الوطنية	ما هي واجبات المواطن تجاه الهويات الوطنية المختلفة	- الشعور بالرضا لكل ما هو إيجابي لوطنه، ويستاء من كل ما يضر بمصلحة هذا الوطن.	- التعامل باحترام مع أبناء الهويات الأخرى والانفتاح على ثقافتهم والاحتكاك بها دون المساس بخصوصيتها.
- التأكيد على هويتهم الوطنية (شراء المنتجات الوطنية - دعم العملة الوطنية)	- التمسك بهويتنا والحفاظ عليها في وجه محاولات بعض الهويات الأخرى طمس معالم هويتنا.	- ارتقاء المواطنون فوق أي انتماءات فرعية (عشائرية وقبلية وطائفية) تضعف الهوية الوطنية.	- الإنفتاح على الآخرين ينبغي أن لا يكون على حساب هويتنا الوطنية.
- إقامة العلاقات مع المواطنين الذين يشاركونه الهوية نفسها بما يحقق مصلحة الطرفين، وينعكس إيجاباً على المصلحة العامة	- الوقوف في وجه سياسات الدول المعادية (كالاحتلال والهيمنة والتدخل في الشؤون الداخلية ومحاولة تفتيت مكونات الوطن والدولة والشعب).		

أهمية الوعي بالهوية الوطنية والالتزام بها: (علل)

- استيعاب كل الانتماءات الأخرى لصالح الانتماء الوطني.
- ترسيخ قيم الاعتزاز بالهوية الوطنية والمحافظة عليها.
- يعزز حب الفرد لوطنه والانتماء له.
- إظهار القيم الإيجابية التي يمتاز بها المجتمع عن غيره من المجتمعات.
- تذكية روح التعاون بين أبناء الوطن.
- المضي قدماً في سبيل خدمة الوطن والتضحية من أجله والحفاظ على الوحدة الوطنية.

* ما دور مؤسسات الدولة في تعزيز الوعي بالهوية والوطنية :

وزارة التربية	وزارة الدفاع	وزارة الإعلام	وزارة السياحة
القضاء على الجهل والتخلف لخلق جيل واعي	تنمي لديهم أهمية التضحية والدفاع عن الوطن	بث برامج عن حب الوطن و دور كل مواطن فيه	الحفاظ على التراث الحضاري والترويج له.

فسر العلاقة بين الوعي الوطني وقوة الوطن وتطوره.؟ ازيد الوعي الوطني يؤدي إلى قوة الوطن وترابطه وتطوره.

*** ما العلاقة بين الإدارة المحلية والديموقراطية :**

- تسهم الإدارة المحلية في إعداد مواطنين ديمقراطيين قادرين وفاعلين (علل)
- ، لأنها تعطيهم الخبرات المتعلقة بالشأن العام وإبراز العناصر الصالحة للقيادة وتدريبها على تحمل المسؤوليات.
- إن تطبيق الإدارة المحلية يعد تجسيدا لمبدأ الديموقراطية (علل) يجعل الشعب مصدر كل سلطة ، من خلال الاختيار الحر لممثلي الشعب وتدريب السكان المحليين على تسيير شؤونهم واتخاذ القرارات في جو ديمقراطي يسمح بمشاركة المواطنين وحل مشكلاتهم.
- **أبين كيف تؤدي ممارسة الإدارة المحلية إلى تطبيق الديموقراطية :**

ممارسات الإدارة المحلية	الأثر الديموقراطي
مشاركة المواطنين	تعطيهم الخبرات المتعلقة بالشأن العام
الانتخابات الحرة	تمثيل المنتخبين بشكل صادق وسليم للمجتمع المحلي
معرفة الناخبين للمرشحين	وصول الشخص المناسب إلى المكان المناسب
اتخاذ القرارات على المستوى المحلي	تضمن الحريات ومشاركتهم بحل مشكلاتهم
إعداد القادة الإداريين	إبراز العناصر الصالحة للقيادة وتدريبها على تحمل المسؤوليات

عرف وحدات الإدارة المحلية ومجالسها في سورية:

تتمتع الوحدات الإدارية بالاستقلال المالي والإداري بإشراف الحكومة المركزية وهي: (المحافظة - المدينة - البلدة - البلدية) ولكل وحدة إدارية مجلس مقره مركز الوحدة، ويتألف من أعضاء منتخبين وفق أحكام قانون الانتخابات العامة، ويحدد وفق والآتي :

الوحدات الإدارية	مجالس الإدارة المحلية
المحافظة : حيز جغرافي ضمن التقسيم الإداري والمحلي يضم عدة مدن وبلدات وبلديات وقرى	مجلس المحافظة : يتكون من ممثل لكل ١٠٠٠٠٠ مواطن بما لا يقل عن ٥٠ عضواً ولا يزيد عن ١٠٠ عضو
المدينة : تجمع سكاني يزيد عدد سكانه عن ٥٠ ألف نسمة	مجلس المدينة : يتكون من ممثل لكل ٤٠٠٠٠ مواطن بما لا يقل عن ٢٥ عضواً، ولا يزيد عن ٥٠ عضواً
البلدة : مجموعة سكانية يتراوح عدد سكانها بين ١٠٠٠٠٠ نسمة و ٥٠ ألف نسمة	مجلس البلدة : يتكون من ممثل لكل ٢٠٠٠٠ مواطن بما لا يقل عن ١٠ أعضاء ولا يزيد عن ٢٥ عضواً
البلدية : كل تجمع سكاني أو مجموعة تجمعات سكانية يتراوح عدد سكانها بين ٥٠٠٠٠ و ١٠٠٠٠٠ نسمة	مجلس البلدية : يتكون من ١٠ أعضاء

يكون لكل مجلس مكتب تنفيذي مدته أربع سنوات

*** مهام مجالس الإدارة المحلية في سورية:**

اختصاصات مجلس المحافظة:	اختصاصات مجلس المدينة والبلدة والبلدية :
١- وضع أسس استثمار الثروات المحلية.	١- الموافقة على الأنظمة المعمارية وفق القوانين الناظمة.
٢- إحداث مراكز لخدمة المواطن.	٢- الإشراف على خطط الدفاع المدني والحماية من الكوارث .
٣- إقرار خطط إدارة الكوارث للتخفيف من أثارها.	٣- مراقبة التقيد بالأمن الصناعي والسلامة المهنية.
٤- التعاون مع مجالس المحافظات الأخرى.	٤- إحداث مراكز خدمة المواطن في المدينة أو البلدة أو البلدية.
٥- الموافقة على استجرار القروض.	٥- رعاية الشباب والرياضة ودعم الأنشطة المتعلقة بالأندية.
٦- قبول المنح والهبات والتبرعات.	

مفهوم الحق العام والحق الشخصي:

الحق العام	الحق الخاص
حق المجتمع في الدفاع عن نفسه حيال الجرائم المرتكبة التي تخل بأمن المجتمع وتنبو عنه جهات الادعاء في اقتضاء هذا الحق. ويمثل الحق العام القضايا التي تؤثر على عامة الناس أو المجتمع ككل.	حق الأفراد والأسر والشركات والمجموعات الصغيرة. وتتمثل صورته العديدة في جرائم الاعتداء على النفس كالإيذاء والضرب وغيرها من الجرائم التي يجوز للمجني عليه ان يعفو عنها.

التمييز بين الحق العام والحق الشخصي (قارن) :

- الحق العام : - انتهاكه يستوجب الغرامة - تكون للخزينة العامة للدولة - يطالب بها الادعاء العام - تكون بنص قانوني .
- الحق الشخصي : - انتهاكه يستوجب التعويض - يكون للمتضرر - يطالب به المدعي - لا يشترط أن يكون هناك نص قانوني.
- عرف القانون العام: مجموعة القواعد المنظمة لعلاقة الدولة مع الأفراد وتهدف جميعها إلى تحقيق المصلحة العامة.
- عرف القانون الدولي العام: مجموعة القواعد القانونية للمنظمة للعلاقات بين الدول فيما بينها، وبين المنظمات الدولية، وتنظم قواعد القانون الدولي العام العلاقات الدبلوماسية وحل النزاعات الدولية، ويتفرع عن هذا القانون بعض القوانين: كالقانون الدولي الإنساني، والقانون الجنائي الدولي
- ما هي فروع القانون العام؟

أ. القانون الدستوري	مجموعة القواعد القانونية المحددة لشكل الدولة ونظام الحكم فيها وتنظيم السلطة العامة والحقوق والحريات العامة للأفراد.
ب. القانون الإداري	مجموعة القواعد القانونية التي تنظم علاقة الإدارة العامة بالأفراد أو علاقة الإدارات فيما بينها والتي تهدف إلى تحقيق المصلحة العامة.
ج. القانون المالي	يتضمن مجموعة القواعد المالية من حيث الإيرادات والنفقات ويبين أوجه الإنفاق ومراقبتها ووسائل الإيرادات من ضرائب ورسوم.
د. قانون العقوبات	يتضمن مجموعة القواعد التي تبين الفعال المجرمة في المجتمع والعقوبات المقررة لها.

عرف القانون الخاص : هو قانون موجه نحو ضبط علاقات الأشخاص مع بعضهم ومنحهم مساحة من الحرية في اختيار نوع هذه العلاقات ويقسم لعدة فروع وهي:

معايير التمييز بين القانون العام والخاص:

المعيار	القانون العام	القانون الخاص
أطراف المسألة القانونية	تكون الدولة طرفاً في العلاقة	يكون أطراف العلاقة أفراداً
صفة أطراف المسألة القانونية	يضم أطراف معنوية تمثل الدولة ومؤسساتها	يضم أطرافاً من أفراد المجتمع
معيير المصلحة	يسعى لإحداث مصلحة عامة هدفها الكل	يسعى لحماية الحقوق الشخصية للأفراد

١- ماهي أهمية فلسطين؟ ١- تمثل فلسطين الجسر البري الوحيد الذي يربط قارة آسيا بقارتي أوروبا وأفريقيا.

٢- تشكل البوابة الجنوبية لبلاد الشام ونقطة الوصل بين جزأي الوطن العربي الغربي والشرقي.

٣- مهد الديانات السماوية الثلاث: اليهودية والمسيحية والإسلامية.

-استنتج أسباب إقامة الكيان الصهيوني من قبل بريطانيا وفرنسا على أراضي فلسطين. المصالح المشتركة - أهمية موقعها - وجود المقدسات.

* ماهي الممارسات الإرهابية الصهيونية بحق الفلسطينيين؟ إقامة وطن للصهاينة على أرض فلسطين - عملت على تشجيع هجرة اليهود إليها.

مصادرة الأراضي الزراعية - قيام كيانهم الصهيوني الغاصب - ارتكاب أبشع الجرائم من قتل وتهجير وتشريد واعتقال بحق الفلسطينيين.

-أبين موقف الشعب العربي الفلسطيني من الاحتلال الصهيوني؟ رفضه للصهاينة- التمسك بالأرض- المقاومة.

-الحلول التي أراها مناسبة لاستعادة الحقوق والأراضي الفلسطينية التي احتلها الصهاينة عام ١٩٤٨؟ المقاومة- التكاتف العربي.

-عدد أشكال النضال العربي الفلسطيني ضد الاعتداءات الصهيونية؟ الثورات والانتفاضات - الكفاح المسلح - اللجوء إلى المنظمات الدولية -

التأكيد على تنفيذ القرارات بضرورة انسحاب الكيان من الأراضي الفلسطينية التي احتلها.

*ما هي أهمية الجولان:

١-توفر مرتفعات الجولان حاجز دفاع طبيعي ضد الاعتداءات الصهيونية

٢- تشكل هضبة الجولان مصدراً مهماً للمياه.

٣-تعد أراضي الجولان من أخصب الأراضي الزراعية.

٤-يمتاز الجولان بتنوع الأماكن والمنتجعات السياحية فيه.

-استنتج أسباب احتلال الكيان الصهيوني للجولان؟ الموقع - الثروات - المياه.

*الممارسات الصهيونية العنصرية بحق أهلنا في الجولان:

١- طرد السكان من منازلهم بالقوة و ارتكاب المجازر.

٢- فرض هوية الكيان الصهيوني على أبناء الجولان.

٣-فرض اللغة العبرية وإلغاء المناهج الدراسية السورية.

٤- منع المزارعين من تصريف منتجاتهم.

-كيف عبر أهلنا في الجولان عن رفضهم للصهاينة؟ رفض قرارات الصهاينة - التمسك بالأرض - التمسك بالانتماء إلى الوطن - المقاومة.

*ما هي أو علل أهمية لواء إسكندرون:

١-يعتبر من أهم الموانئ البحرية المعتمدة للتصدير ، وخاصة للنفط.

٢-يعد من المناطق السياحية المهمة بما يحتويه من مواقع تاريخية وطبيعية خلابة.

٣ يتميز بوفرة مياهه ، وخصوبة أراضيه الصالحة للزراعة.

-أبين أسباب قيام تركيا باحتلال لواء الإسكندرون؟ الثروات المتوفرة - الموقع الهام - التحكم بالسياحة.

*عدد الممارسات التركية بحق أهالي لواء إسكندرون:

١-تترك اللواء

٢- تهجير السكان العرب الأصليين

٣-سرق الأراضي الزراعية دون دفع الأموال

٤- تغيير أسماء مدن اللواء من العربية إلى التركية

٥-تقسيم اللواء إلى عدة مناطق (علل) كي يصعب عودته لسورية.

-أعلل أهمية مطالبة سورية باستعادة لواء إسكندرون؟ لأنه جزء منها.

أقترح حلولاً لاسترجاع الأراضي العربية المحتلة؟ المقاومة - التمسك بالأرض

علل: يعد القرار الفرنسي بإعطاء اللواء لتركيا مخالفاً لصك الانتداب؟ لأن المادة الرابعة من صك الانتداب نصت على إلزام الدولة المنتدبة

باحترام وحدة البلاد الموكلة إليها والحفاظ على سلامة أراضيها وهو مالم يتقيد به الفرنسيون.

بعض المواد التي ينص عليها الإعلان العالمي لحقوق الإنسان

المادة ١ : يولد جميع الناس أحراراً ومتساوين في الحرية والكرامة.

المادة ٢ : لا يجوز التمييز بين البشر على أساس اللون أو الجنس أو اللغة أو الدين.

المادة ٥ : لا يجوز إخضاع أحد للتعذيب ولا للمعاملة القاسية أو اللاإنسانية.

المادة ٨١٧ : الناس متساوون أمام القانون، ولكل شخص حق اللجوء إلى المحاكم المختصة لإنصافه من أي عمل ينتهك حقوقه.

المادة ٩ : لا يجوز اعتقال أي إنسان أو حجزه أو نفيه تعسفاً.

المادة ١٣ : لكل فرد حرية التنقل والسفر والعودة إلى وطنه.

المادة ١٥ : لا يجوز حرمان أي شخص من جنسيته تعسفاً.

تمثل الممارسات التي يرتكبها الكيان الصهيوني في الأراضي العربية المحتلة، خرقاً واضحاً لكافة القوانين والأعراف الدولية علل ذلك؟

لأن مفهوم انتهاك حقوق الإنسان يشير إلى الممارسات والأفعال التي تؤدي إلى حرمان الأفراد من حرياتهم وحقوقهم الأساسية وما يمارس بحق الإنسانية من جرائم كالإبادة الجماعية والتعذيب والتجويب.

عرف المنظمات الدولية لحقوق الإنسان : هي هيئات تضم مجموعة من الدول، تنشأ باتفاق دولي بهدف لتحقيق أغراض ومصالح مشتركة .

الهدف المعطى لمنظمات حقوق الانسان	الوسائل المتبعة في تنفيذ السياسات	النتائج المترتبة لعمل تلك المنظمات
استخدام مفهوم حقوق الإنسان للتدخل في الشؤون الداخلية للدول	التدخل العسكري بحجة إنقاذ الشعوب وتقديم المساعدة لهم.	تدمير الدول - تهديم البنى التحتية للدول - تهجير السكان - ظهور منظمات إرهابية.

المنظمات الدولية غير الحكومية

تعريفها: هي منظمات تطوعية لا إرادية تنشأ باتفاق غير حكومي فيما بين الأفراد أو الجماعات، ولا تعمل هذه المنظمات عادة في مجال السياسة ولا تستهدف الربح. وقد أصبحت هذه المنظمات فاعلة في النظام الدولي. إلا أن بعض المنظمات تمارس النشاط السياسي تحت غطاء إنساني.

أما الجدول الآتي :

الهدف من تأسيس المنظمات الدولية غير الحكومية	مشكلة الموضوعية (المصادقية)	المشكلة السياسية (التمويل)
اتخاذ حماية حقوق الإنسان وسيلة لتدخل القوى الكبرى في الشؤون الداخلية للدول	هناك شكوك حول المصادقية فهي تسلط الضوء على حالات فردية وتتغاضى عن ممارسات تقوم بها دول تجاه شعوبها.	إصدار بيانات وتقارير بما يتناسب مع مصالح الدول الممولة لها

اختر إجابة: من المنظمات الدولية الغير الحكومية منظمة الصليب الأحمر

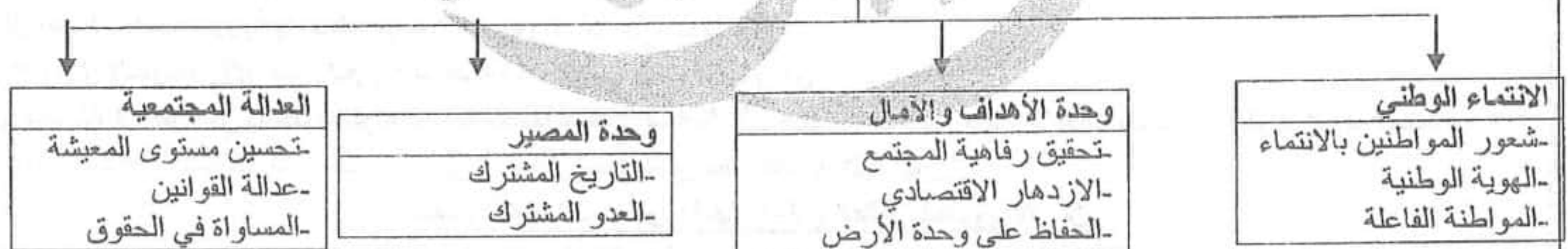
ما هي أشكال انتهاكات الكيان الصهيوني لحقوق أهلنا في الجولان السوري المحتل	ما هي أسباب عدم تنفيذ " ما يسمى بإسرائيل " لقرارات مجلس الأمن	مقترحاتي لاسترداد حقوقنا
طرد أهل الجولان من أراضيهم ومنعهم من العودة واستعادة ممتلكاتهم	عجز مجلس الأمن عن تنفيذ قراراته	
تغيير الطابع العمراني والديموغرافي للجولان المحتل	دعم الولايات المتحدة الأمريكية اللامحدودة للكيان الصهيوني	- مقاومة الاحتلال والعمل على طرده من أرضنا
فرض الجنسية والهوية الإسرائيلية على سكان الجولان السوري المحتل	مواقف الدول الأوروبية المنحازة للكيان الصهيوني	- استخدام الإعلام وسيلة لكشف ممارسات الاحتلال ودحض كذبه
منع من بقي في الجولان من التمتع بحقوقهم المدنية الأساسية السياسية والاقتصادية والاجتماعية والثقافية	اختراق الكيان الصهيوني لبعض النظم الحاكمة في الدول العربية	
اعتقال المناضلين من أهالي الجولان ورفض الافراج عنهم من قبل الكيان الصهيوني	الكيان الصهيوني غير شرعي لذلك فهو لا يلتزم بقرارات الشرعية الدولية	

اعط تفسيراً لما يأتي :

- استمرار الكيان الصهيوني في ممارساته المنتهكة لحقوق الإنسان في الأراضي العربية المحتلة . بسبب تغاضي القوى العظمى عن ممارساته ودعمها له .
- تزايد دور المنظمات الحقوقية غير الحكومية في التدخلات الدولية المتعلقة بحقوق الإنسان . بسبب استخدامها من قبل القوى العظمى للتدخل في شؤون باقي الدول .

تعريف الإرادة الوطنية : هي كل فعل يقوم به أبناء الوطن للحفاظ على وحدة وطنهم وحرية واستقلاله ، وبما يسهم في تطوره وتقدمه ، وتحقيق مصلحته العليا، وأداء دور إيجابي على مستوى العالم .*(ماهي) مكونات الإرادة الوطنية ؟

ما هي مكونات الإرادة الوطنية



*مظاهر الإرادة الوطنية في سورية :

المظهر الاجتماعي	المظهر السياسي	المظهر الاقتصادي	المظهر العسكري
يبرز عبر تناغم المجتمع السوري ووحدته وقبول أفرادها للتنوع والاختلاف فيما بينهم. مثال: المشاركة في المناسبات الوطنية.	يبرز عبر مشاركة أفراد المجتمع السوري جميعهم في الحياة السياسية، وصياغة دستور متفق عليه وممارستهم حق الانتخاب والتصويت. مثال: المشاركة في انتخابات مجلس الشعب والتصويت على دستور البلاد	يبرز عبر وقوف أفراد المجتمع السوري صفاً واحداً في مواجهة الأزمات الاقتصادية، والحصار الاقتصادي الشامل الذي تفرضه القوى المعادية، والعمل على تحسين الاقتصاد الوطني. مثال: الحفاظ على موارد البلاد الاقتصادية واستدامتها.	يبرز عبر اتحاد الشعب مع الجيش لمواجهة أي غزو خارجي محتمل، أو لتحرير الأراضي المحتلة من الأعداء. مثال: حرب تشرين التحريرية ومكافحة الإرهاب

* من خلال مظاهر الإرادة الوطنية السورية كيف يمكنني التعامل مع الحالات الآتية :

الحالة	آلية التعامل معها
العقوبات الاقتصادية	الوقوف صفاً واحداً - تحسين الاقتصاد الوطني
التطرف والتعصب	تعزيز الوحدة الوطنية - وقبول التنوع والاختلاف
الاعتداءات الصهيونية	اتحاد الشعب مع الجيش لمواجهتها - تحرير الأراضي المحتلة
استحقاق انتخاب الإدارة المحلية	المشاركة من خلال ممارسة حق الانتخاب والتصويت
خيانة الوطن	نبذ الخائن وتجريمه واتخاذ أقصى درجات العقوبة بحقه.

*العوامل المؤثرة في الإرادة الوطنية أوضح عبر الجدول الآتي كيفية التعامل الإيجابي مع كل من عامل مؤثر بالإرادة الوطنية، وكيف يمكن أن تؤثر سلباً في حال عدم توظيفها إيجابياً وانعكاس ذلك في مظاهر الإرادة الوطنية:

عوامل التأثير بالإرادة الوطنية	التوظيف الإيجابي	التأثير السلبي
التربية والتعليم	تنمية الإرادة الوطنية من خلال تطوير التعليم ورفع مستوى المتعلم.	إن ضعف مردودية التعليم يؤثر سلباً على المظهر الاجتماعي والاقتصادي للإرادة الوطنية
الموارد الاقتصادية	استثمار الموارد الاقتصادية مما يساهم في زيادة الدخل القومي وزيادة فرص العمل وزيادة الاستثمارات.	انخفاض الدخل القومي وانتشار الفقر والبطالة.
مستوى المعيشة والدخل	رفع مستوى المعيشة ودخل الفرد بما يحقق الرفاهية والتمسك بالوطن.	إن انخفاض مستوى المعيشة والدخل يشكلان دافعاً للاغتراب والهجرة.
فرص العمل	وفرة فرص العمل تبرز المظهر الاقتصادي للإرادة الوطنية	انتشار البطالة والفقر.
العلاقات السياسية مع دول العالم	إن بناء علاقات جيدة مع دول العالم، تعزز الشعور بالهوية الوطنية وترسخ الإرادة.	انتشار النزاعات الدولية والحروب.

أفسر ما يأتي:

- ١- للإرادة الوطنية دور مهم في تحرير الأراضي المحتلة. باتحاد الجيش والشعب في مواجهة العدوان
- ٢- أهمية وحدة الأهداف والآمال في تكوين الإرادة الوطنية. لأنها تؤدي إلى رفاهية المجتمع وازدهاره مما يساهم في تثبيت الإنسان بوطنه.

الوحدة الرابعة

عرف الموارد الطبيعية؟ هي كل ما تؤمنه الطبيعة من عناصر طبيعية يحتاجها الإنسان في بناء حضارته وبقائها. كالماء والهواء والتربة والنبات الطبيعي والمعادن (مصادر الطاقة). (علل) تتراجع كمية الموارد الطبيعية : نتيجة الاستغلال المفرط والإهمال.

ما الدلالات التي تحملها سرقة الكيان الصهيوني لتراب الجولان؟

- ١- السرقة العلنية والممنهجة ٢- خصوبة التراب السوري الذي لا يقدر بثمن ٣- التخريب الممنهج من قبل الصهاينة

- علل قيام الكيان الصهيوني على تجريف الأراضي في الجولان ونقل كميات كبيرة منها إلى داخل فلسطين المحتلة؟

لتحسين نوعية التربة هناك والاستفادة منها في الزراعة.

*الأهمية الاقتصادية لبعض الموارد الطبيعية:

- كيف تتجلى أهمية الموارد الطبيعية بالنسبة للإنسان؟

- ١- مصدر للغذاء ٢- مصدر لإنتاج السلع والخدمات ٣- تلبية حاجات الإنسان الأساسية ٤ - مساهمتها في الدخل الوطني

أمثلة : الزعفران السوري - الورد الشامية.

ما الخطوات التي اتخذتها الدولة لحماية الزعفران السوري ؟ تشكيل لجنة لإكثار زراعة الزعفران في مراكز ومحطات البحوث الزراعية.

- علل: إعلان منظمة الأمم المتحدة اليونسكو إدراج الورد الشامية ضمن قوائم التراث اللامادي للشعوب؟

بسبب أهميتها في ما يتصل بها من أنشطة وصناعات حرفية مثل الأدوية والعمارة والتجميل حيث تسهم هذه الأنشطة في تخفيف البطالة وزيادة المساحات الخضراء والحد من التلوث ومكافحة التصحر.

*جهود الدولة لاستدامة الموارد:

- إلى ماذا تهدف السياسة الاقتصادية للدولة ؟ تهدف إلى تلبية الحاجات الأساسية للمجتمع والأفراد، عبر تحقيق النمو الاقتصادي والعدالة الاجتماعية للوصول إلى التنمية الشاملة والمتوازنة والمستدامة.

كيف تتم إدارة الثروات الطبيعية والمنشآت والمؤسسات والمرافق العامة في سورية؟

تتولى الدولة استثمارها والإشراف على إدارتها لصالح مجموع الشعب وواجب المواطنين حمايتها.

-أكمل الجدول الآتي :

سياسة الدولة للحفاظ على الموارد	أثرها في حماية الموارد
دراسة الموارد	معرفة سبل تطويرها وحمايتها
اكتشاف موارد جديدة	زيادة الإنتاج وبالتالي زيادة الموارد
تحديد الأولويات في عمليات الإنتاج	الحد من استنزاف الموارد وزيادة الاعتماد على الموارد المتجددة

أعط تفسيراً لما يأتي :

١. قيام الحكومة السورية بتسمية بعض المناطق كمحميات طبيعية لحماية البيئة والمحيط الوطني والمحلي وحماية التنوع البيولوجي والتنوع الحيواني وأيضاً لأغراض البحث العلمي.
 ٢. تشكيل لجان للإكثار من زراعة الزعفران في سورية. بسبب تميز الزعفران السوري كمخزون للفوائد الطبية وخاصة ما يتعلق بمرض السرطان وعلاج شبكية العين فضلاً عن قيمته الغذائية والاقتصادية العالية.
- *لكيلا تستنزف الموارد:

بعض الموارد ومميزاتها	استنزاف الموارد	الاستثمار الأمثل للموارد
الفوسفات: يتميز بسهولة الاستخراج وقلة الشوائب فيه.	- الإفراط في استخدام الأسمدة الصناعية التي يدخل في تركيبها الفوسفات. - التصدير لاستخدامه في أغراض صناعية كالمنظفات	- الاعتماد في الزراعة على الأسمدة الطبيعية. - ترشيد تصديره.
الحمضيات: تتميز بإنتاج غزير ونوعية جيدة	- عدم قدرة السوق المحلية على استيعاب المنتج - صعوبات في تصديرها.	- زيادة عدد معامل العصائر. - استخدامها في الصناعات الدوائية والمستحضرات التجميلية.
أغنام العواس: تتميز بأنها من أجود أنواع اللحوم بالعالم	- تهريبها خارج الحدود. - نفوق الولادات بأعداد كبيرة. - الأمراض.	- زيادة عدد المحميات الطبيعية للرعي. - التركيز على المحاصيل العلفية. - تحسين الطبابة البيطرية. - إنشاء معامل الصناعات الغذائية.
النفط والغاز	- زيادة معدل الإنتاج إلى الحد الأقصى. زيادة الاستهلاك	- الاعتماد على موارد الطاقة المتجددة (الشمس والرياح) - تخفيض الاستهلاك إلى حد كفاية

مفهوم الموارد الاقتصادية:

- عرف الموارد: هو كل وسيلة نافعة وصالحة لإشباع حاجات إنسانية سواء بطريقة مباشرة أو غير مباشرة.
- الموارد الاقتصادية: هي نتاج أفكار الإنسان وما يترتب عليها من ابتكارات وتطبيقات تهدف إلى إنتاج موارد جديدة.
- أصبحت الموارد مصدراً للثروة علل ذلك؟ بسبب اكتشاف الإنسان أهميتها وتطوير أساليب استغلالها.
- * عدد أنواع الموارد الاقتصادية: ؟ ١- طبيعية: متجددة - غير متجددة.
- ٢- بشرية: الإنسان وما يمتلك من إمكانات جسمية وذهنية. ٣- مصنعة: وتنتج عن تفاعل الموارد البشرية مع الموارد الطبيعية.
- علل اهتمام معظم الدول في الوقت الحاضر بالموارد الاقتصادية؟
- لأنها تشكل عنصراً بالغ الأهمية في عملية الإنتاج حيث بقدر ما يتاح من موارد لمجتمع ما يتحدد مستوى الرفاهية الاقتصادية.
- عرف اقتصاد المعرفة؟

هو الاقتصاد الذي يوظف المعرفة أساساً في تقديم خدمات متجددة يمكن تسويقها وتحقيق الأرباح منها ووليد الثروة إما بتحويل المعرفة إلى سلع وخدمات أو بتطوير السلع التقليدية عن طريق استعمال المعرفة والتقنية في الإنتاج والتسويق.

* ما هي أهمية الموارد في التنمية الاقتصادية أو إلى ماذا يؤدي زيادة الثروات في الدولة:

- ارتفاع معدلات التنمية الاقتصادية - ارتفاع معدلات الاستثمار - زيادة الصادرات - تحقيق الأرباح - زيادة الدخل الوطني.

-يرأيك، كيف تنعكس معدلات التنمية على الفرد والمجتمع؟ من خلال رفاهية المجتمع وتقدمه.

ما هي مرتكزات اقتصاد المعرفة؟	الابتكار	التعليم	البنية التحتية	الإدارة
يستند إلى موارد بشرية مؤهلة ذات مهارات تقنية تعتمد ثقافة الإبداع والبحث والتطوير وربط مؤسسات التعليم بالمؤسسات الصناعية بغية مواكبة الثورة المعرفية المتنامية واستيعابها وتكييفها مع الاحتياجات المحلية.		العامل الأهم والأساسي في الإنتاجية والتنافسية الاقتصادية، ويوفر رأس المال البشري القادر على إدماج التكنولوجيا الحديثة في العمل.	المبنية على تقنيات المعلومات والاتصالات التي تسهل تبويب المعلومات والمعارف ونشرها وتبادلها. (صناعة البرمجيات - بنوك المعلومات)	وتعمل على: التخطيط الجيد - العمل المؤسسي - تحقيق العدالة - سن القوانين تكفل حقوق المبدعين - اتخاذ القرارات في الوقت المناسب

أقارن بين اقتصاد المعرفة والاقتصاد التقليدي من حيث:

وجه المقارنة	اقتصاد المعرفة	الاقتصاد التقليدي
إنتاج المقارنة	يحقق الوفرة دائماً	ترتبط الوفرة بوجود المواد الأولية
أساس تحقيق الأرباح	إدخال المعرفة في الإنتاج	تحويل المواد الأولية إلى مصنعة
استثمار الموارد الاقتصادية	الاستثمار الأمثل لعناصر الإنتاج والموارد لتلبية حاجات البشر المتزايدة	تنمو الاستثمارات بمعدل أقل بكثير من زيادة السكان
تقدم وتخلف الدول	يؤدي إلى تقدم الدول	يؤدي إلى تخلف الدول

أعط تفسيراً لما يأتي:

١- توجه معظم الدول للاعتماد على اقتصاد المعرفة.
بسبب محدودية الموارد الاقتصادية وتعدد الحاجات البشرية المتزايدة توجهت لاقتماد المعرفة القائم على اكتساب المعلومات وتطويرها واستثمارها في التكنولوجيا لتعزيز التنمية الاقتصادية مما نجم عنه وفرة هائلة في الإنتاج.

٢- ربط المؤسسات التعليمية بالمؤسسات الصناعية في اقتصاد المعرفة. لتوفير رأس المال البشري على إدماج التكنولوجيا الحديثة في العمل.
عرف الطاقة المتجددة:

هي الطاقة المستمدة من الموارد الطبيعية التي لا تنفذ ولا ينتج عنها مخلفات كثنائي أكسيد الكربون أو غازات ضارة تسبب زيادة الاحتباس الحراري (مثل احتراق الوقود الأحفوري أو مخلفات ضارة ناتجة عن المفاعلات النووية)
ما هي أهم مصادر الطاقة المتجددة:

١- الطاقة الشمسية: هي الطاقة المنبعثة من أشعة الشمس على شكل حرارة وضوء. (التدفئة - التبريد)

إيجابياتها: بديلاً مستداماً للوقود الأحفوري - طاقة نظيفة لا ينتج عنها تلوث بيئي - متاحة للجميع لا يمكن السيطرة عليها واحتكارها.

سلبياتها: طاقة لا تكون متوفرة طوال اليوم ولا طوال السنة- تحتاج لمساحات أرضية كبيرة للتمكن من استقبالها مما يؤثر على الحياة البرية باستنزاف المساحات الأرضية.

٢- الطاقة الهوائية: هي الطاقة المستمدة من حركة الهواء والرياح. (تحويلها إلى طاقة كهربائية بوساطة المولدات)

إيجابياتها: طاقة محلية متجددة لا تنتج أي غازات ملوثة - يمكن استخدام أراضي مزارع الرياح في أغراض أخرى كالزراعة والرعي - يمكن توليد كميات كبيرة من الكهرباء عن طريقها وتكاليف بسيطة.

سلبياتها: متغيرة حسب الزمن والمكان - تحتاج إلى مساحات كبيرة - تشوه المناظر في بعض المناطق - الضجيج

٣- الطاقة المائية: طاقة مستمدة من حركة المياه وخاصة الأنهار (محطات توليد الكهرباء - السدود)

إيجابياتها: طاقة محلية متجددة وغير ملوثة - كفاءتها أعلى من الرياح والشمس في تحويل الطاقة المائية إلى كهربائية- السدود تساهم في ري المزارع المحيطة

سلبياتها: قلة الأماكن الملائمة لإنتاج الطاقة - النفقات المائية العالية - التأثير بالعوامل الطبيعية كالجفاف - انهيار السدود (الفيضانات)
عدد أهم فوائد استخدام الطاقة المتجددة:

١- تحقيق التنمية المستدامة.

٢- توفير فرص عمل جديدة للشباب

٣- تخفيض الغازات المسببة للاحتباس الحراري.

٤- تحقيق النمو الاقتصادي وتحريك عجلة التنمية

٥- إنقاذ الأرواح وتحسين الصحة.

٦- القضاء على الفقر

ماهي توصيات جدول أعمال القرن الحادي والعشرين؟

١- دعا إلى تطوير سياسات الطاقة المستدامة وبرامجها عبر العمل على تطوير مزيج من مصادر الطاقة المتوفرة الأقل تلويثاً. ٢- الحد من تأثيرات البيئة غير المرغوبة لقطاع الطاقة مثل انبعاث غازات الاحتباس الحراري. ٣- دعم برامج البحوث اللازمة للرفع من كفاءة أساليب استعمال الطاقة.
أفسر سعي دول العالم للبحث عن طاقات بديلة للطاقة التقليدية.

١- بسبب تزايد الطلب على الطاقة في العالم لتزايد الأنشطة الاقتصادية والاجتماعية وخاصة في قطاع الصناعة والنقل

٢- نظراً للفوائد البيئية والاقتصادية التي توفرها ٣- دورها في تلبية الاحتياجات الإنسانية الأساسية

استنتج فوائد أخرى لاستخدام الطاقات المتجددة. تحقيق الرفاهية للمجتمع.

*سلوكيات بيئية :

ما أهمية مشروع المحطة الشمسية في الكسوة؟ ١- باكورة مشاريع توليد الكهرباء باستخدام الطاقة المتجددة في سورية.

٢- تولد المحطة حوالي ٢ مليون كيلو واط ساعي سنوياً مما يوفر ٥٠٠ طن من الفيول سنوياً ٣- أول خطوة عملية لدعم استراتيجية الطاقات

المتجددة في سورية. ٤- يدعم المشروع المنظومة الكهربائية على صعيد الشبكة العامة. ٥- يعد مصدراً للمشاريع الخاصة.

ما الفوائد الناتجة عن تركيب العنفة الريحية الأولى من نوعها في سورية بسواعد وخبرات وطنية بالقرب من جسر شين في قرية الذهبية؟

١- قدرة على الاستمرار بالعمل على مدار ٢٤ ساعة ولمدة ٢٥ عاماً. ٢- تنتج طاقة كهربائية تغطي تكاليفها بالكامل بعد ثلاث سنوات من تشغيلها. ٣- استطاعتها إنارة ما بين ٣-٥ آلاف منزل.

ماذا ينتج عن تركيب ١٥٠٠ عنفة ريفية في سورية؟

توفير ما بين ٧٠٠ إلى ١٠٠٠ مليار ليرة سورية من قيمة الفيول والغاز سنوياً ٢- تأمين الكهرباء لأكثر من ١٨ مليون شخص

لو اتخذت الحكومة قراراً باعتماد استراتيجية توليد الكهرباء باعتماد الطاقات المتجددة بدلاً من الفيول والغاز، ما لآثار المترتبة على هذا القرار؟

١- توفير الطاقة الكهربائية. ٢- توفير القطع الأجنبي بسبب الاستغناء عن الفيول والغاز. ٣- زيادة الإنتاج الصناعي. ٤- الحفاظ على البيئة.

* وضح مفهوم ترشيد استهلاك الطاقة:

هو الاستخدام الأمثل لموارد الطاقة المتوفرة وفي الوقت والمكان المناسب (يتطلب تغييراً في العادات والسلوك)

اذكر بعض الإجراءات التي يمكن اتباعها لترشيد استهلاك الطاقة؟

- إطفاء جهاز التكييف عند ترك الغرفة - تنظيف فلتير المكيف شهرياً لزيادة كفاءة التشغيل - إطفاء المصابيح الكهربائية غير اللازمة
- تركيب مصابيح توفير الطاقة - تركيب سخانات شمسية - الاستفادة من الإنارة الطبيعية.

فسر يؤدي استخدام الطاقات المتجددة إلى رفع المستوى الصحي في أي دولة

لأنها طاقة نظيفة لا ينتج عنها غازات ضارة أو مخلفات تسبب زيادة الاحتباس الحراري
ماذا يقصد بالعزوف عن القراءة: حالة عدم الإقبال على قراءة الكتب أو المجلات أو الصحف، وغيرها من مصادر المعرفة المكتوبة والاستفادة منها في فهم الموضوعات التي تتناولها تلك المصادر وتحليلها.

-فسر: تعد القراءة من أهم المعايير التي يقاس بها تقدم المجتمعات أو تلفها؟

لأن المجتمع القارئ هو مجتمع ينتج العلم والمعرفة ويطورها بما يخدم تقدمه ويرتقي بالإنسانية جمعاء.

-ما الطرق التي اتبعتها الأمم المتقدمة على نشر العلم؟

١-تشجيع القراءة.

٢-دعم المكتبات العامة والمدرسية.

٣-توفير كل الإمكانيات وفق خطة شاملة موجهة لجميع فئات المجتمع.

٤-تشجيع القراءة في وسائل النقل والأماكن العامة.

-فسر أهمية القراءة في بناء شخصية الفرد؟ تساهم في تكوين شخصيته المبدعة وتنمية ميوله واهتمامه. كما تكسبه المهارات الأساسية والقدرة على الفهم والتعبير عن الرأي والقدرة على التعامل مع المحيط للارتقاء به.

*عدد أهم أسباب العزوف عن القراءة؟ ١-عدم وجود مكتبة منزلية.

٢-تدني المستوى المعيشي وارتفاع أسعار الكتب.

٣-اعتیاد سماع القصص من الأهل أكثر من القراءة.

٤-الإقبال على التلفاز ووسائل التواصل الاجتماعي

٥-قلة المكتبات العامة والمنشآت الثقافية التي تحفز على القراءة.

٦-الاعتماد على المعلومات الجاهزة من الشبكة

-ما نتائج العزوف عن القراءة؟

على مستوى الفرد	على مستوى المجتمع
إضعاف القدرات العلمية والفكرية	انتشار الجهل والتخلف في المجتمع
تراجع القدرة على التعبير عن الرأي	عدم القدرة على مواكبة التطور الاقتصادي
سطحية التفكير	ضعف المردود المادي لتأليف الكتب مما يؤدي إلى تراجع الإنتاج الفكري للمجتمع

-حدد خطوات إرشادية لتشجيع على القراءة:

اقرأ صحفاً أو مجلات - ابحث عما تجعل بين طيات الكتب - ابدأ بالأسهل وابتعد عن الموسوعات في البداية - أنشئ مكتبة منزلية.

*الشُرود الذهني: عرف الشُرود الذهني: هو حالة عدم القدرة على التركيز والانتباه وانشغال الطالب بالتفكير بأمر خيالية بعيدة عن الواقع.

-هل تعرضت للشُرود الذهني، ما السبب؟ تمكنت من الخروج من هذه الحالة والعودة إلى تركيزك؟

-برأيك ماهي الآثار التي يتركها الشُرود الذهني على الطالب؟ تراجع مستوى تحصيله العلمي وعدم قدرته على تحقيق أمنيته وطموحاته.

*عدد أسباب الشُرود الذهني:

أسباب تتعلق بالطالب	أسباب تتعلق بالمعلم
-انشغال الطالب بمشكلة خاصة.	-طرح المدرس للموضوع بطريقة مملة.
-المعاناة من أمراض نفسية.	-استخدام لغة تفوق مستوى الطالب.
-ملل الطالب من تكرار المعلومات.	-عدم استخدام وسائل إيضاح.
-وجود بيئة غير مريحة.	-الانتقال غير السلس من فقرة إلى أخرى.
-التركيز على المظهر الخارجي للمدرس.	-عدم تغيير نبرة الصوت.
-الإجهاد وعدم النوم بشكل كاف.	-عدم توجيه أسئلة مفاجئة للطلاب.

ضع عبارة صح أمام العبارة الصحيحة و غلط أمام العبارة المغلوطة :

- رفع العلم السوري في سماء مدينة القنيطرة المحررة في ٢٦ حزيران ١٩٧٤م.

- كان جلاء آخر جندي فرنسي عن الأرض السورية في ١٧ نيسان ١٩٤٦

- في ١٥ أيار ١٩٤٨ حدثت نكبة فلسطين، فتحوّلت منطقة الجولان إلى ساحة مواجهة مباشرة مع العدو الصهيوني.

- في عدوان ٥ حزيران عام ١٩٦٧م احتل الكيان الصهيوني الأراضي العربية، وهي (الجولان، سيناء، غزة والضفة الغربية الفلسطينية).

- في ٦ تشرين الأول عام ١٩٧٣م، شن الجيشان السوري والمصري على جبهتي الجولان وسيناء هجوماً متزامناً على العدو الصهيوني

- حيث تمكن الجيش العربي السوري من تدمير خط "ألون" والتقدم محرراً أجزاء كبيرة من أراضي الجولان المحتل

- تقدم الجيش المصري مدمراً "خط بارليف" الصهيوني. ورغم توقف الحرب على الجبهة المصرية استمر الجيش السوري بحرب استنزاف

- نتيجة حرب الاستنزاف استطاع جيشنا الباسل رفع العلم السوري في سماء مدينة القنيطرة المحررة في ٢٦ حزيران ١٩٧٤م.

- دخلت سورية عام ١٩٩١م، مفاوضات مؤتمر مدريد للسلام وفق مبدأ "الأرض مقابل السلام" التي استمرت ما يقارب عقداً من الزمن

- من خلال دعم سوريا حركات المقاومة العربية في فلسطين وفي الجنوب اللبناني الذي تحرر بفعالها عام ٢٠٠٠م.

- كلما حقق الإنسان نجاحاً في حياته انعكس إيجاباً على مكانته وقيمه في مجتمعه.

- الخوف من نظرة الآخرين إلينا في حال الفشل، عقبة أمام تحقيق أهدافنا. - تحقيق الإنجازات تجاوز للتحديات وتغلب على مخاوف المستقبل.

بعض مجالات المشاركة المجتمعية في المجال الثقافي: حملات نشر القيم الوطنية والأخلاقية - المحافظة على اللغة - المهرجانات

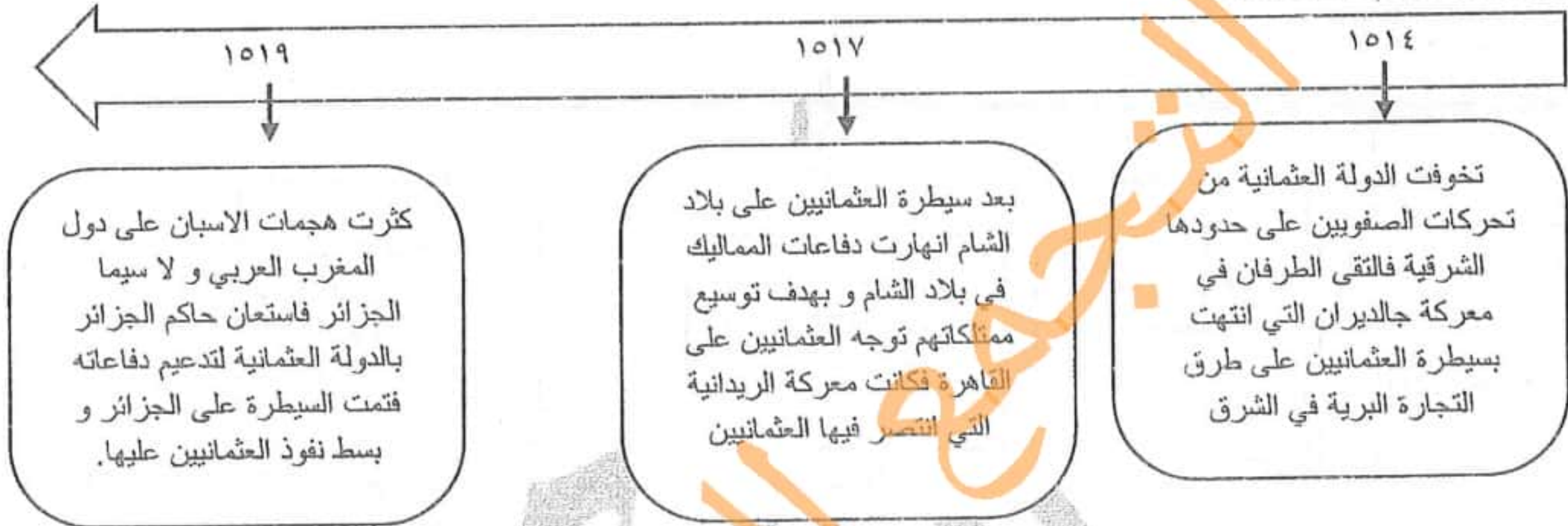
المجال البيئي: حملات الوعي البيئي - حماية الموارد الطبيعية - الحد من هدر المياه والطاقة.

المجال الصحي: مبادرات الاهتمام بالصحة العامة - المجال الاقتصادي: مبادرات مكافحة الفقر.

أولاً : اقرأ النص التاريخي ثم أجب :

زاد التنافس بين الدول الأوروبية للحصول على امتيازات من الدولة العثمانية. بهدف اعفانهم من الضرائب و تشكيل محاكم تجارية لكن في القرن التاسع عشر ضعفت الدولة العثمانية فتغير الغرض من الامتيازات فأصبحت وسيلة للتدخل في الشؤون الداخلية للدولة و أدت لتدخل بريطانيا في فلسطين و حماية اليهود فتغيرت أحوال المجتمع العربي الاقتصادية و زاد الامر سوءاً اكتشاف الدول الأوروبية لطريق رأس الرجاء الصالح .

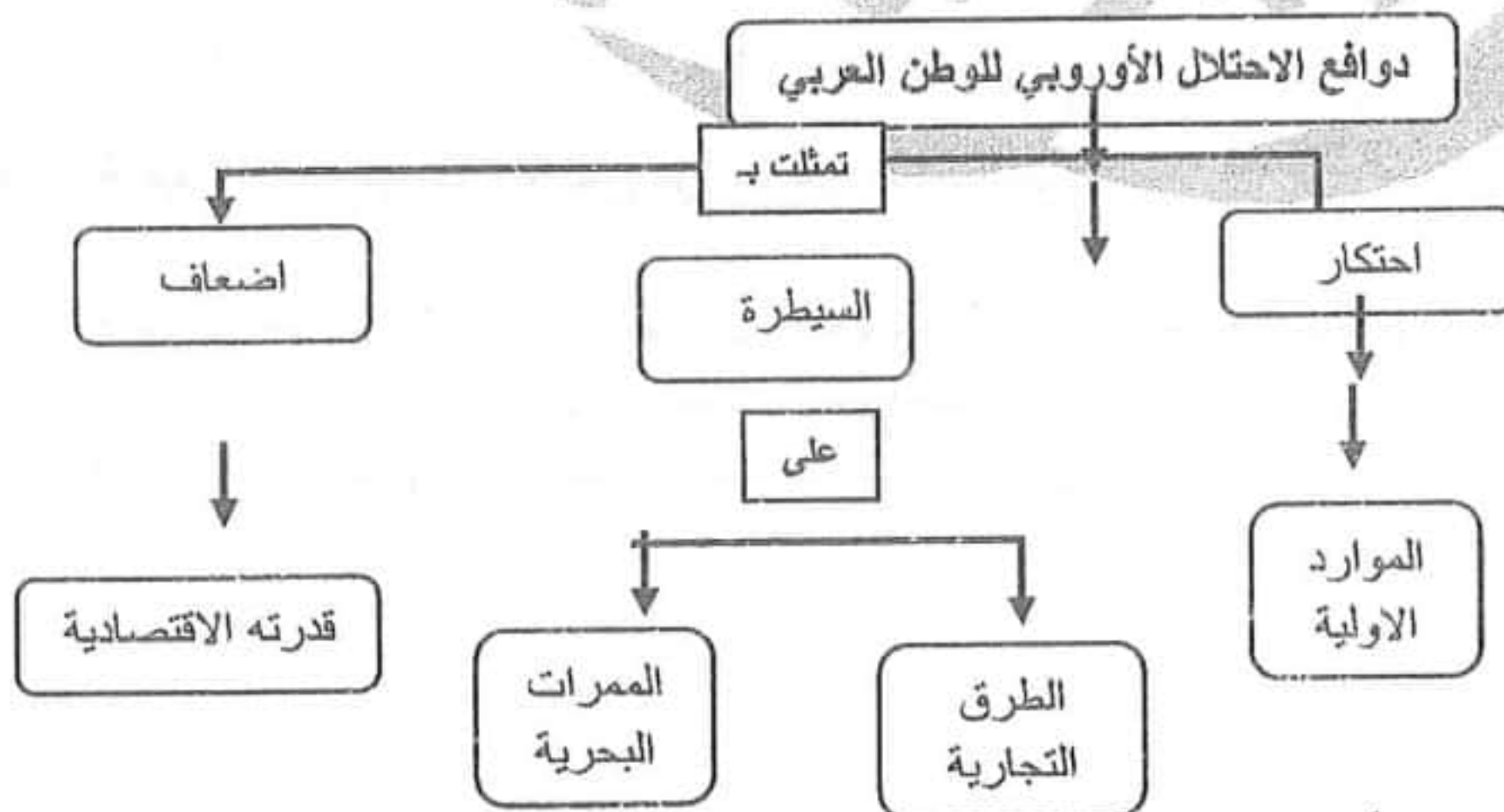
- ١ - ضع عنوان مناسب للنص ؟
- ٢ - صنف في جدول آثار الامتيازات على الدول الأوروبية و أثرها السلبي على البلاد العربية
- ٣ - استخرج من النص معلومة ذات صلة و أخرى غير ذات صلة .
- ٤ - استخلص من النص تعريفاً للامتيازات .
- ٥ - استخلص من النص حقيقة تاريخية ؟

ثانياً : اقرأ الجدول الزمني ثم أجب :

- ١ - ضع عنوان للجدول الزمني
- ٢- ما هي الوحدة التي قسم إليها الجدول الزمني ؟
- ٣- حدد القرن و العقد في تاريخ معركة الريدانية من الجدول الزمني ؟

٢- أكمل الجدول التالي وفق مبدأ السبب و النتيجة

السبب	النتيجة
ج-استعانة حاكم الجزائر بالدولة العثمانية	السيطرة على الجزائر
تأمين الحدود الشرقية	ج- قيام معركة جالديران

ثالثاً : اقرأ خريطة المفاهيم ثم أجب :

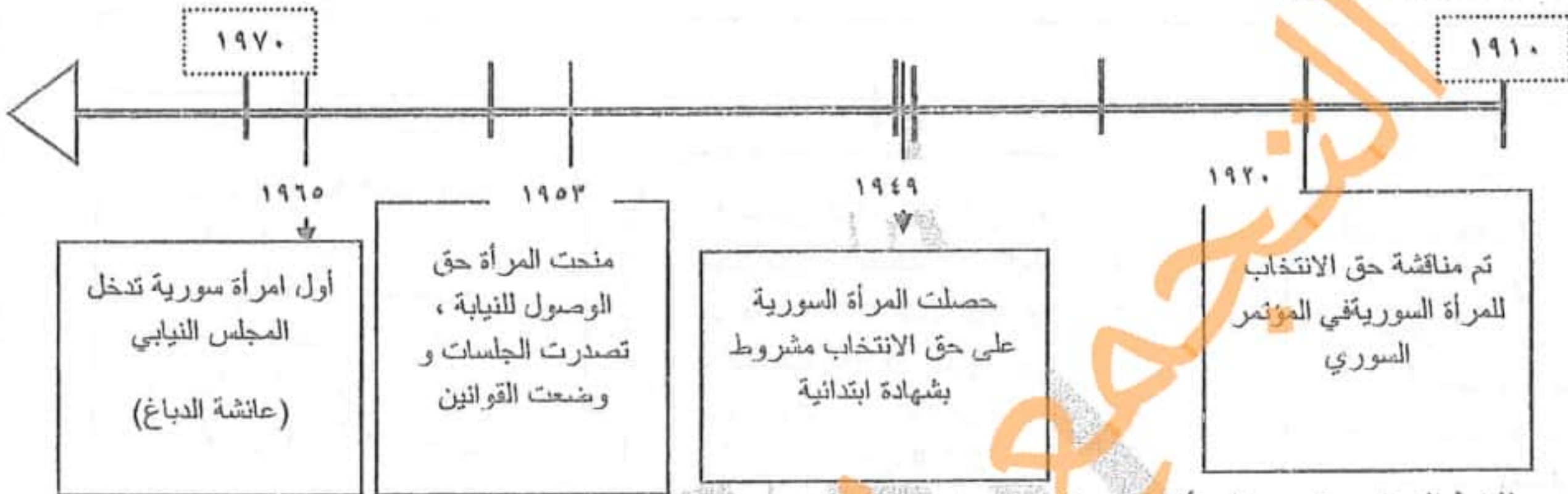
- ١- حول خريطة المفاهيم التالية إلى نص تاريخي مراعي شروط التحويل؟
- ٢- فسر ارسال الدول الاستعمارية بعثات استكشافية إلى الوطن العربي ؟ للسيطرة على طرقه و ممراته و ثرواته
- ٣- ما هدف الاحتلال من اغراق الأسواق العربية بالمنتجات الغربية ؟ لمحاربة الصناعة العربية و جعل أسواقنا مكاناً لتسويق منتجاته

أولاً : اقرأ النص التاريخي، ثم أجب :

لقد أدت سورية دوراً مهماً في تطور الحضارة الإنسانية فمنها انطلقت الأديان السماوية و بقيت أرضها طريقاً مهماً من طرق الحج المسيحي و الإسلامي ، وقد اهتم الحكام طيلة العصور الوسطى باستتباب الامن على طريق الحج لأنه وسع التبادل التجاري

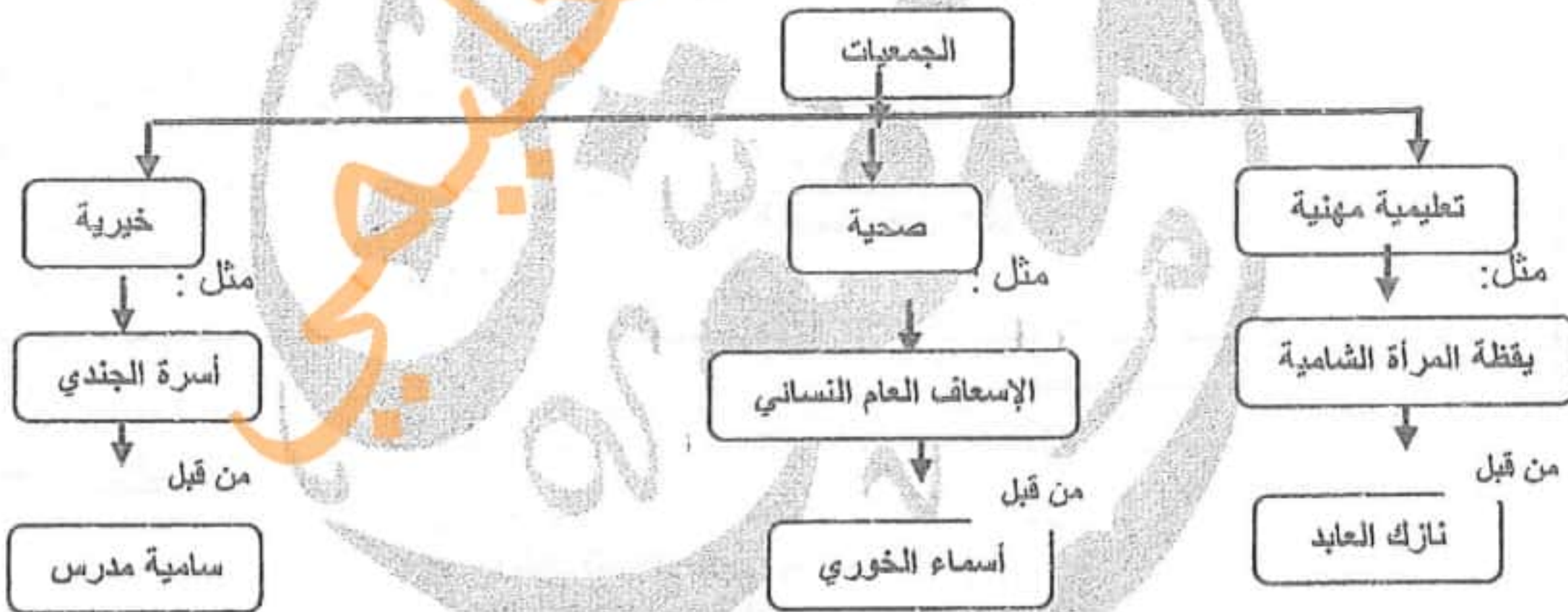
- ١- ما الفكرة الرئيسية للنص ؟ دور سوريا في الحضارة الإنسانية
- ٢- فسر أهمية طريق الحج في التبادلات التجارية ؟ بقيت أرضها طريقاً مهماً من طرق الحج المسيحي و الإسلامي
- ٣- استخرج من النص سبب و نتيجة -النتيجة :اهتمام الحكام طيلة العصور الوسطى باستتباب الأمن -السبب :لأنه وسع التبادل التجاري

ثانياً : اقرأ الجدول الزمني الآتي ثم أجب :



- ١ - ضع عنوان مناسب للخط الزمني ؟ دور المرأة السورية في الحياة السياسية
- ٢ - حدد الوحدة الزمنية التي قسم لها الخط الزمني ؟ عقود
- ٣ - حدد القرن و العقد لحدث وصول المرأة السورية للمجلس النيابي ؟ في القرن العشرين و في العقد السابع

ثالثاً : حول خريطة المفاهيم التالية إلى نص تاريخي مراعي شروط التحويل



حول خريطة المفاهيم السابقة إلى نص تاريخي مراعي شروط التحويل ؟

لقد تنوعت الجمعيات في سوريا فكان هناك جمعية تعليمية مهنية مثل (يقظة المرأة الشامية) التي أنشأت من قبل نازك العابد ، و نشأت جمعيات صحية مثل (الإسعاف العام النسائي) على يد أو من قبل أسماء الخوري ونشأت أيضا جمعيات خيرية مثل (أسرة الجندي) على يد سامية مدرس

أولاً : اقرأ النص التاريخي ثم أجب :

كان لظهور المطابع دوراً كبيراً في تطور الحياة العلمية و الثقافية في سورية حيث ظهرت الجرائد و الصحف التي كانت خير معلم ، غرست في نفوس الناس روحاً وطنية و عرفتهم بتاريخهم المجيد و إنَّ لا حياة للأحفاد دون سيرة الأجداد و تاريخ الأمم و سياستها و قوانين المشرعين و خطر المحتلين و إمكانية الاقتباس من المدينة الحديثة شرط ألا يلغي الشخصية الوطنية.

١- استنتج الفكرة الرئيسية للنص . دور المطابع في تطور الحياة العلمية في سورية

٢ - استخلص من النص النقاط الدالة على الأفكار التالية :

التمسك بالتراث	محاربة الجهل	تثقيف الناس	المطابع مدرسة وطنية
الجواب : الأخذ من سيرة الأجداد	تطور الحياة العلمية و الثقافية في سوريا	من خلال معرفة تاريخ الأمم	كانت خير معلم للناس - الجرائد و الصحف التي

٣- ما الصفات التي يجب أن يتمتع بها الصحفي لمزاولة العمل في الصحافة ؟ - المصداقية - عدم التعصب للأفكار - الاحتكاك بالناس

ثانياً : اقرأ الجدول الزمني ثم أجب :

١٩١٠م	١٩٢٠م
قام الشيخ صالح العلي بمقاومة الاحتلال الفرنسي عام ١٩١٨م وألحق الهزيمة بالفرنسيين، وقد شاركت النساء بالثورة.	وجه غورو إنذار للحكومة العربية وعلى الرغم من قبول الإنذار إلا إن وزير الحربية يوسف العظمة أكمل الاستعدادات الحربية وفي صبيحة عام ١٩٢٠م بدأت المعركة واستشهد عدد كبير وفي مقدمتهم يوسف العظمة ونتيجة تفوق الفرنسيين انتهت المعركة.
	الثورة السورية الكبرى عام ١٩٢٥م قامت لمواجهة الاحتلال الفرنسي، انطلقت من جبل العرب بقيادة سلطان باشا الأطرش وامتدت الثورة إلى دمشق وغطتها.

١ - حدد الوحدة الزمنية التي قسم لها الخط الزمني ؟ عقود

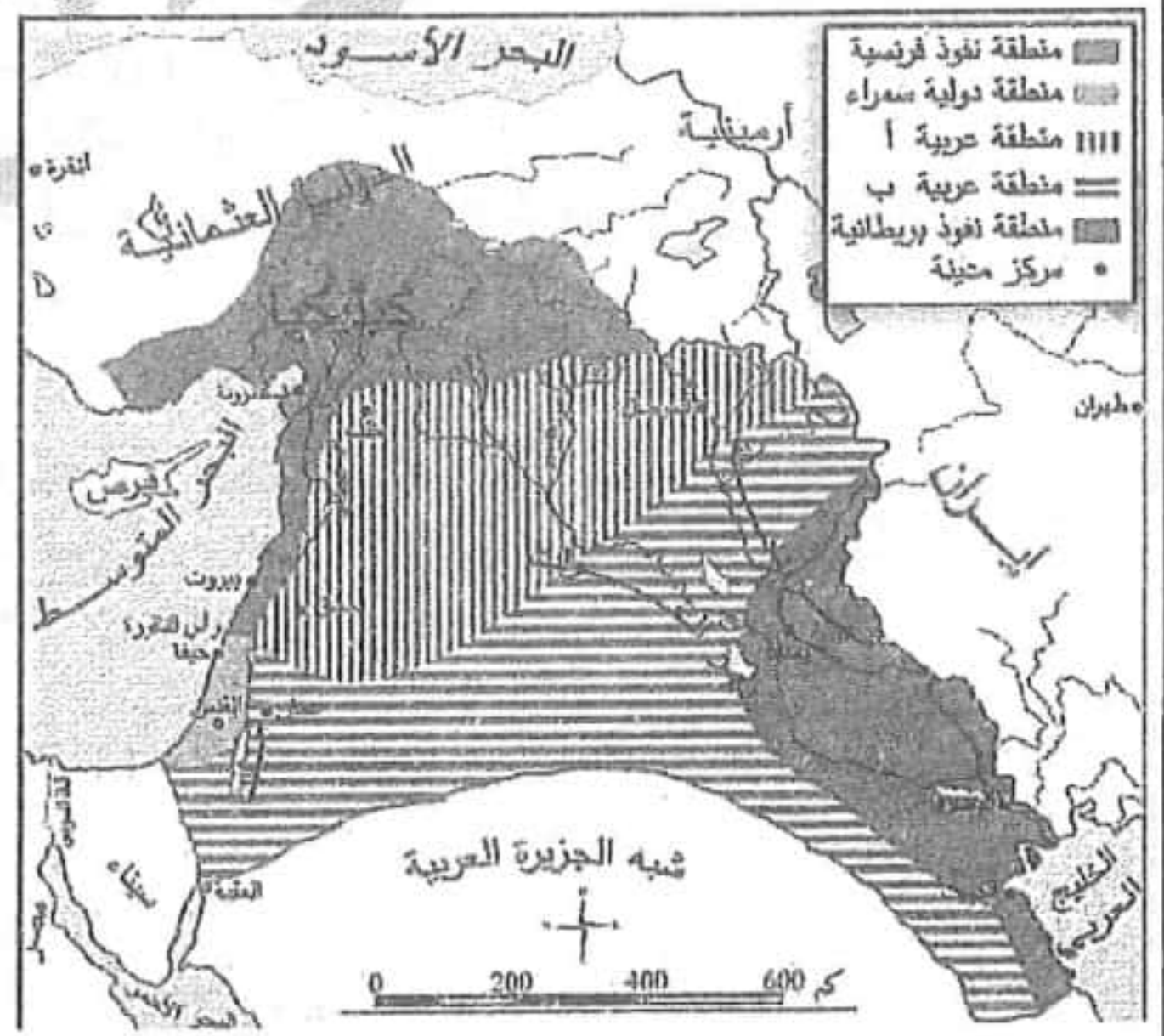
٢ - حدد القرن و العقد للحدث التاريخي (ثورة الساحل بقيادة الشيخ صالح العلي) في القرن العشرين و العقد الأول

٣ - أكمل الجدول التالي وفق مبدأ السبب و النتيجة .

الحدث	السبب	النتيجة
معركة ميسلون ١٩٢٠	رفضاً للاحتلال الفرنسي و انذار غورو	استشهاد يوسف العظمة و عدد كبير من الأبطال
الثورة السورية الكبرى ١٩٢٥	قامت لمواجهة الاحتلال الفرنسي ورفضاً لسياسته	امتدت الثورة إلى كل أنحاء سوريا و كبدت الفرنسيين خسائر فادحة

أجب عن الأسئلة من خلال قراءتك للخريطة التاريخية التالية:

- ١ - ضع عنوان للخريطة الجغرافية ؟ تقسيمات سايكس بيكو
- ٢ - حول الخريطة الجغرافية التالية إلى نص تاريخي مراعي شروط التحويل
- ٣ - استخلص من الخريطة مناطق نفوذ بريطانيا و مناطق نفوذ فرنسا و مناطق النفوذ العربية ؟
الفرنسي: الساحل السوري من رأس الناقورة حتى كليكيا.
البريطاني: بغداد والبصرة (وسط وجنوب العراق).
- ٤ - ماذا تضم المنطقة العربية (أ، ب)؟ ولماذا اختاروا لها هذه المنطقة برأيك؟
(أ): منطقة حكومة أو اتحاد حكومات عربية مرتبطة بفرنسا.
(ب): منطقة حكومة أو اتحاد حكومات عربية مرتبطة ببريطانيا
لخلق المنطقة اقتصادياً فهي داخلية و فقيرة وبالتالي جعلها تابعة للاستعمار.
- ٤ - ما الذي تستنتجه من اتفاق فرنسا وبريطانيا على اقتسام المنطقة رغم خضوعها للدولة العثمانية؟
أطماع الاستعمار الأوروبي (الفرنسي و البريطاني) وتأميره على حرية الشعوب لتحقيق مصالحها المشتركة. و ضعف الدولة العثمانية.



اقرأ النص التاريخي الآتي ثم أجب (٦٠ درجة):

في جو من الإلفة الاجتماعية اعتاد سكان سوريا على التعاضد والوفاء إذ البيوت في الأحياء الأثرية القديمة لا يفصل بينها سوى زقاق ضيق، وجدت فيه ظاهرة أطلق عليها تسمية (السباط أو السباط) (السقف بين الممرات والأزقة) نتجت عن التكافل الاجتماعي بين الجيران. وعلى الرغم من بساطته شكل حالة هندسية جميلة وفريدة. كأنه مظلة فوق الطرق، يمكن التفيؤ بظلها والاستمتاع بهوائها البارد، أو الوقاية من مطر الشتاء، كما أنها تحقق وظيفة بنائية لأنها تربط المباني ككتلة واحدة، ووظيفة اقتصادية لأنها استخدمت كمخزن في بعض الأحيان.

١- ما الظاهرة الاجتماعية التي تحدث عنها النص؟ ظاهرة السباط أو السباط (السقف بين الممرات والأزقة) ١٠ د



٢- ما سبب نشوء هذه الظاهرة؟ نتجت عن التكافل الاجتماعي بين الجيران ١٠ د

٣- صنف في الجدول الآتي فوائد السباط: لكل فائدة ١٠ د

فوائد اقتصادية	فوائد اجتماعية	فوائد بنائية
استخدمت كمخزن في بعض الأحيان	الاستمتاع بهوائها البارد أو الوقاية من مطر الشتاء	تربط المباني ككتلة واحدة

٤- ما شعورك عند زيارتك المناطق الأثرية في منطقتك؟ الفخر والاعتزاز بتراث الأجداد ١٠ د

ثانياً: اقرأ (الجدول) الخط الزمني ثم أجب (٥٠ درجة):



تأسست الجمعية السورية لذواقي الطعام عام ٢٠٠٢م وأصبحت عضواً في الأكاديمية الدولية لذواقي الطعام هدفها الحفاظ على تراث المطبخ السوري والتعريف به وتطويره وتحسينه وتشجيع انتشاره	حصل البارودي عام ١٩٤٧ على الموافقة لتأسيس أول معهد رسمي للموسيقا وتمكن عن طريق الفنانين المتميزين من تكريس المعهد لإحياء التراثية واهتم بإحياء رقص السماح وإعادة نشر كتاب الطيبخ لمحمد بن حسن البغدادي عام ١٩٦٤م.	قام جرجي البيطار بابتكار صناعة تطعيم الخشب أو الموزاييك حيث قام بصناعة أول قطعة موزاييك عام ١٨٦٠م. وتوافرت لهذه الصناعة المواد الأولية والخبرة الحرفية واليد المتدربة الماهرة والإتقان
---	---	--

١- ضع عنواناً "مناسباً" للجدول الزمني. ١٠ د

٢- ضع كلمة صح أمام العبارة الصحيحة وكلمة غلط أمام العبارة المغلوطة. ١٠ د لكل اختيار صحيح

أ- كانت صناعة أول قطعة موزاييك في العقد (السادس - السابع - الثامن)

ب- كان تأسيس الجمعية السورية لذواقي الطعام في الألفية (الثانية - الثالثة - الرابعة)

ت- حصل البارودي على الموافقة لتأسيس أول معهد رسمي للموسيقا في القرن (التاسع عشر - العشرون - الواحد والعشرون)

٣- أكمل الجدول الآتي: ١٠ د

الحدث	السبب	النتيجة
تأسيس الجمعية السورية لذواقي الطعام	الحفاظ على تراث المطبخ السوري	التعريف به وتطويره وتحسينه وتشجيع انتشاره
ابتكار صناعة تطعيم الخشب الموزاييك	توافر المواد الأولية والخبرة الحرفية واليد المتدربة الماهرة والإتقان	استمرارية الصناعات التراثية التقليدية

((أسئلة حفظية متفرقة على درجة عالية من الأهمية يجب حفظها إذا لم يكن لديك القدرة أن تجيب من النص بالإضافة إلى حل النماذج))
 (س) صنف سلبيات وإيجابيات الحملة الفرنسية على مصر و سوريا في جدول؟

سلبيات الحملة	إيجابيات الحملة
- أكدت أهمية المنطقة العربية التي أصبحت ميداناً للتنافس والاحتلال. - اتجهت فرنسا بأنظارها نحو الجزائر واحتلتها عام ١٨٣٠م، بينما هيمنت بريطانيا على الخليج العربي من خلال سلسلة من معاهدات الحماية.	- أظهرت الحملة الفجوة الكبيرة التي أصبحت تفصل بين أوروبا ومنطقتنا العربية في مختلف مجالات العلوم والصناعة. - أدخلت مطبعتين إلى مصر واحدة بالأحرف العربية والثانية بالأحرف الفرنسية. - تم وضع كتاب (وصف مصر) وبينت أهمية وصل البحر المتوسط بالبحر الأحمر.

(س) ما أعمال الحكومة العربية حكومة (على رضا الركابي)؟

- قامت بتعيين مجلساً للشورى من رجال العلم والأدب والقانون وذلك للمساعدة في إدارة البلاد.
- أصدرت جريدة رسمية في دمشق أسمتها (العاصمة). - شكلت محاكم.
- استحدثت مجمع اللغة العربية بدمشق، وأعدت العمل في كليتي الطب والحقوق

(س) كيف ظهر التنظيم والتخطيط لنجاح ثورة الشمال؟

- التجهيز لثورة الشمال بعد تشكل جمعية الدفاع الوطني بحلب عام ١٩١٩م التي حضر اجتماعاتها وزير الحربية يوسف العظمة.
- جمع الرجال والأموال للدفاع عن البلاد، فتبرعت زكية هنانو شقيقة إبراهيم هنانو بثروتها وأملكتها لصالح الثورة.

درب الملازم محمد الشغوري الثوار على استخدام السلاح ووضع الخطط الحربية

(س) ما المقصود بالانتداب وما حجة الدول الأوروبية في الموافقة عليه؟

هو نظام أقرته الدول الحليفة أي اختيار إحدى الدول الحليفة (بريطانيا وفرنسا)

حجة الأوروبيين لتتولى السيطرة على البلاد العربية بحجة أن أهلها غير قادرين على إدارة أنفسهم بأنفسهم

(س) ما النقاط التي أكد عليها المؤتمر السوري العام؟

- إجراء انتخابات تشريعية تجمع ممثلين عن المناطق السورية، رفض كافة القرارات والخطط والمؤامرات الغربية مؤكداً على الاستقلال التام لسورية الطبيعية ووحدة أراضيها، - عدم قبول الانتداب الفرنسي ووعده بلفور،
- دعا إلى استقلال العراق دون أن تكون هناك حواجز اقتصادية بينه وبين سورية

(س) ما أعمال الجنرال غورو لتنفيذ اتفاق سان ريمو؟ أو ما مضمون إنذار غورو؟

وجه الجنرال غورو إنذار للحكومة العربية في دمشق

- قبول الانتداب الفرنسي. - التوقف عن دعم الثوار - التصرف بسكة رفاق حلب الحديدية

- إلغاء التجنيد الاجباري - قبول العملة التركية التي أصدرتها فرنسا

(س) صنف سياسة فرنسا الاستعمارية في سوريا من النواحي التالية :

الاقتصادية	السياسية	الثقافية
- عمدت فرنسا فصل الساحل عن الداخل لخنقه اقتصادياً. - جعل البلاد سوق لتصريف منتجاتها. - جعلت البلاد مورداً للمواد الخام وربطت اقتصادها باقتصاد فرنسا.	- عمدت فرنسا إلى إنهاء الحكومة العربية في دمشق. - أقامت إدارة فرنسية، مع الاعتماد على موظفين فرنسيين من أصحاب الخبرة الذين كانوا سابقاً في إدارة الجزائر المحتلة. - طبقت سياسة التجزئة (فرق تسد) وأتمت اتفاقها مع تركيا عام ١٩٢١م بأن تنازلت لها عن منطقة كيليكيا.	- فرضت ثقافتهم بجعل اللغة الفرنسية لغة رسمية كالعربية. - درست جغرافيتها وتاريخها، وأجبرت طلاب المدارس على تحية علمها وإنشاد نشيدها الوطني.

(س) ما هدف فرنسا من فرض الثقافة الفرنسية؟

يهدف فرض ثقافة المحتل وإضعاف الهوية العربية والانتماء الوطني.

(س) فسر فصل فرنسا المناطق الساحلية عن الداخل؟

لعزل الداخل عن العالم الخارجي وخنقه اقتصادياً لإبقائه تحت السيطرة الفرنسية وإضعاف مقاومته.

(س) ما هي أهم نتائج الثورات السورية الكبرى ضد الاحتلال الفرنسي؟

- ازدياد ترابط أبناء مختلف المناطق السورية. - إجبار الاحتلال الفرنسي على القيام بإصلاحات إدارية. - إعادة توحيد سورية.
- المفاوضات مع الوطنيين، - إجراء انتخابات وطنية، لإنشاء جمعية تأسيسية ووضع دستور للبلاد.

عدد أسباب الثورة الفلسطينية الكبرى عام ١٩٣٥م:

- فرض بريطانيا انتدابها على أرض فلسطين
- تأسيس الوكالة اليهودية. - احتلال الأراضي.
- تسهيل تطبيق وعد بلفور ودعمت تزايد الهجرة اليهودية.
- فرض اللغة العبرية لغة رسمية ومحاربة اللغة العربية.
- ✚ من قاده: الشيخ عز الدين القسام عام ١٩٣٥م، وبعد استشهاده قاد فخري عبد الهادي.
- ✚ نتائجها: اضطر الاحتلال البريطاني إلى تعديل سياسته بإرسال لجنة "بيل" عام ١٩٣٧م التي أعلنت تقسيم فلسطين لأول مرة بين العرب واليهود الصهاينة.

عدد أسباب الثورة الجزائرية الكبرى ١٩٥٤م:

- بدأ الاحتلال الفرنسي للجزائر عام ١٨٣٠م. - سياسة فرنسا الاستبدادية.
- فرضها اللغة الفرنسية ومحاربة اللغة العربية. - مصادرة الأراضي وتوزيعها على المستوطنين الفرنسيين.
- ✚ أهم الثورات التي قامت في الجزائر: ثورة الأمير عبد القادر الجزائري.
- ✚ موقف الدول العربية من الثورة: تلقت دعماً عربياً من سورية ومصر.
- ✚ نتائج الثورة الجزائرية الكبرى عام ١٩٥٤م:
- اضطرت فرنسا للتفاوض مع الجزائريين بسبب ضغط الرأي العام الداخلي والأزمات الاقتصادية والمالية والخسائر التي تكبدتها، فكان استقلال الجزائر بعد توقيع اتفاقية إيفيان عام ١٩٦٢م، ولقد لقيت بـ "بلد المليون شهيد".
- ما هي أوجه الشبه والاختلاف بين الثورة الفلسطينية الكبرى والثورة الجزائرية الكبرى:

أوجه الشبه	أوجه الاختلاف
- كلاهما قامت بسبب الاحتلال وسياسة المستعمر بمحاربة اللغة العربية.	- الثورة الجزائرية انتهت بخروج المستعمر الفرنسي من الجزائر.
- كلاهما كبد العدو خسائر فادحة.	- الثورة الفلسطينية لا يزال الكيان الصهيوني يحتل أرض فلسطين.
- كلاهما شمل معظم مناطق البلاد.	
- كلاهما أجبر العدو على التفاوض وتغيير سياسته من العنف نحو اللين.	

س) علل رفض المندوب الفرنسي بونسو مسودة الدستور؟

لأنها لم تعترف بسلطة الانتداب، ولأنها تؤكد على وحدة سورية.

س) ما مضمون المادة التي أضافها بونسو على الدستور السوري وكيف قوبلت من الشعب؟

المادة ١١٦ التي تعكس مطالب فرنسا، قوبلت بالرفض، وعمت الاضطرابات فاضطرت فرنسا إلى الموافقة على إجراء انتخابات لمجلس نيابي جديد وانتخب محمد علي العابد أول رئيس للجمهورية العربية السورية عام ١٩٣٢م.

س) علل تعطيل أعمال المجلس النيابي ونفي فخري البارودي ورفاقه إلى منطقة الجزيرة شمالي سوريا؟

لأنه نظم حملة احتجاج ونظم المظاهرات التي أعقبت مرور أربعين يوماً على وفاة إبراهيم هنانو في حلب عام ١٩٣٥م

س) ما هي نتائج الإضراب الستيني؟

موافقة فرنسا على سفر أعضاء الوفد السوري إلى باريس، برئاسة هاشم الأتاسي الذين انتهوا فيه إلى الاتفاق مع الوفد الفرنسي على نص مشروع معاهدة عام ١٩٣٦م.

س) ما مضمون معاهدة عام ١٩٣٦م بين سوريا وفرنسا:

- اعتراف فرنسا بسورية كدولة مستقلة وأن عليها تهيئة جميع الظروف لقبولها عضواً في (عصبة الأمم) ضمن مهلة لا تتجاوز ثلاث سنوات. - تنشأ بين الدولتين علاقة صداقة.
- السماح لها ببقاء قاعدتين جويتين (المزة والنيرب). - مدة المعاهدة ٢٥ عاماً.
- س) ما الهدف الحقيقي لفرنسا من توقيع مثل هذه المعاهدات؟ المماثلة في تنفيذ الوجود وتهنئة الشعب.

س) صنف في جدول سلبيات وإيجابيات مشروع معاهدة عام ١٩٣٦م:

إيجابيات المشروع	سلبيات المشروع
- اعتراف فرنسا بسورية كدولة مستقلة وأن عليها تهيئة جميع الظروف لقبولها عضواً في عصبة الأمم ضمن مهلة لا تتجاوز ثلاث سنوات.	- تقدم سورية لفرنسا المساعدة أثناء الحرب بطرق المواصلات.
- تنشأ بين الدولتين علاقة صداقة.	- السماح لها ببقاء قاعدتين جويتين (المزة والنيرب).
	- مدة المعاهدة ٢٥ عاماً.

س) على ماذا نص قرارات عصبة الأمم حول اللواء وما رد الشعب عليها؟

- منح اللواء الاستقلال التام عن سورية في الشؤون الداخلية، - تكون اللغتان العربية والتركية لغتين رسميتين،
- عقد اتفاقية فرنسية - تركية تضمن وحدة اللواء وسلامته،

فعمت المظاهرات مختلف المدن السورية مع تسليم برقيات احتجاج لممثلي بريطانيا وتركيا

س) ما الإجراءات التي قامت بها تركيا لضم اللواء؟

- اهتمام الصحافة التركية باللواء ورفع القضية إلى عصبة الأمم للقيام بانتخابات - وتم إجبار المواطنين على تسجيل أنفسهم أتراك
- ترحيل عدد كبير من الأتراك إلى اللواء - تزوير الانتخابات.

(س) عدد أهم أعمال زكي الأرسوزي؟

النضال ضد الفرنسيين والأترك - إعلاء شأن لغة وثقافة وانتماء مواطني اللواء - قاد حركة لحماية اللواء وعروبته سُميت (عصبة العمل القومي) - أسس جريدة العروبة - وشارك في تظاهرات شبابية - فضح المؤامرة الفرنسية التركية وعملية تزوير نتائج الانتخابات في اللواء، فكان مصيره الإبعاد فسافر إلى دمشق ليتابع فيها نضاله الوطني ضد الفرنسيين.

(س) ما دوافع أو (علل) فرنسا للقيام بعدوان ٢٩ أيار عام ١٩٤٥م؟

فرض امتيازات اقتصادية وثقافية على الحكومة السورية التي طالبت فرنسا الوفاء بوعدها وإعلان الاستقلال وتسليمها الصلاحيات (س) ما موقف القيادة السورية بعد تصويت جمعية الأمم المتحدة عام ١٩٤٧م على قرار تقسيم فلسطين؟

وضعت القيادة السورية (لواء المشاة الأول) بقيادة العقيد عبد الوهاب الحكيم تحت تصرف اللجنة العسكرية العليا لكي تدخل به الحرب. (س) ما موقف الشعب العربي السوري من قرار تقسيم فلسطين؟

اندفع السوريون للتطوع في جيش الإنقاذ الذي أسندت قيادته إلى الضابط فوزي القاوقجي، وخاض السوريون عدة معارك إلى جانب أشقائهم العرب أبرزها معركة جدين والمالكية وسمخ التي سجلوا فيها أسى بطولاتهم وتضحياتهم. (س) صنف منجزات الوحدة (السورية - المصرية) في الجدول الآتي عام ١٩٥٨:

المجال الاقتصادي	المجال الثقافي والسياسي
إصدار قانون الإصلاح الزراعي تأميم المصانع والمصارف	دعم حركات التحرر العربية والعالمية توثيق العلاقة مع المعسكر الاشتراكي الاهتمام بالتعليم

(س) عطل اغتيال العقيد عدنان المالكي في ٢٢ نيسان عام ١٩٥٥م؟

لوقوفه ضد المشاريع الغربية كحلف بغداد، ولمساهمته في التقارب مع مصر تمهيداً لوحدة عربية (س) صنف نضال العقيد عدنان المالكي في الجدول الآتي:

الكفاح الوطني	الكفاح القومي
وقوفه ضد المشاريع الغربية كحلف بغداد	خاض المالكي معارك فلسطين عام ١٩٤٨م ساهم في التقارب مع مصر تمهيداً لوحدة عربية.

(س) ما نتائج ثورة الثامن من آذار عام ١٩٦٣م؟

دعم الاستقرار السياسي والاجتماعي والاقتصادي بقيادة حزب البعث العربي الاشتراكي، كان من أهم نتائجها العمل على بناء قاعدة اقتصادية متينة.

(س) قامت الحركة التصحيحية بقيادة الفريق حافظ الأسد في ١٦ تشرين الثاني عام ١٩٧٠م وضعت برنامج عمل كان من أهم نتائجه؟

تحقيق الاستقرار الداخلي وتحقيق تنمية اقتصادية واجتماعية وثقافية، فارتفع شأن سورية عربياً وعالمياً

(س) مواقف سوريا من قضايا الأمة العربية: (ما المبادئ الثابتة التي تمسكت بها سورية نهاية القرن العشرين)

- تدخلت لإنهاء الحرب الأهلية اللبنانية الثانية وساندة المقاومة في تحرير الجنوب اللبناني عام ٢٠٠٠م وصد عدوان عام ٢٠٠٦م.
 - دعم المقاومة الفلسطينية وانتفاضة الحجارة الأولى عام ١٩٨٧م والثانية عام ٢٠٠٠م ضد ممارسات الكيان الصهيوني.
 - رفض توقيع صلح منفرد مع الكيان الصهيوني ورفعت شعار (الأرض مقابل السلام).
 - اتخذت سورية موقف لعدم استفحال المشكلات التي أدت إلى حروب متتالية في الخليج العربي والاحتلال الأمريكي للعراق عام ٢٠٠٣
- كيف تصف الاستراتيجية السورية؟ دعم الأشقاء العرب - التمسك بالأرض - مواجهة التحديات.
 - لماذا اتخذت سورية هذه المواقف من قضايا الوطن العربي؟ لأن القيادة السورية تؤمن أن سوريا جزء لا يتجزأ من الوطن العربي.

(س) صنف الإنجازات التي حصلت في سورية بعد تولي الدكتور بشار الأسد الحكم من الناحية:

سياسية	ثقافية	اقتصادية	اجتماعية
التمسك باسترجاع الأراضي العربية المحتلة والجولان السوري المحتل. توطيد العلاقات الدولية.	بدأت بوادر حركة انفتاح كبير لاستخدام التقانة والتكنولوجيا.	ارتفاع متوسط دخل الفرد وقيام مشاريع اقتصادية كبيرة	ظهور صحف جديدة

(س) كيف واجه الشعب العربي في سورية الضغوط الخارجية التي تعرض لها عام ٢٠١١م؟

أثبت الشعب العربي السوري وعيه وتماسكه، من خلال المحافظة على استمرار عمل مؤسسات الدولة واستقرارها وانتف الجميع حول شخصية القائد لتجاوز هذه الأزمة كما اعتاد السوريون في تاريخهم الطويل

(س) صنف إجراءات الجمهورية العربية السورية لدعم أبناء الجولان في الجدول الآتي:

سياسي	اقتصادي	اجتماعي
رفضت احتلال الكيان الصهيوني للجولان ورفعت شعار "الأرض مقابل السلام"	تسويق منتجاتهم الزراعية (التفاح) وقبولهم في الجامعات السورية	وأصرت على منح الهوية السورية لأبناء الجولان.

وحدة الفلك الدرس الأول: حلم قد يتحقق

- ❖ فسر: اهتم الإنسان لفترة طويلة بالمريخ: وذلك من أجل معرفة: السبب الذي حوله من أرض ملأى بالمياه إلى أرض قاحلة - هل شهد المريخ حياة سابقة
- ❖ ما الشروط الواجب توفرها لضمان استمرار حياة الرواد في مشروع مارش: الماء - الغذاء - الأوكسجين
- ❖ بطاقة تعريفية لكوكب المريخ: الاسم: المريخ - اسم العائلة: المجموعة الشمسية - اللون: أحمر - الشكل: كروي مفلطح
- ❖ فسر تسمية المريخ بالكوكب الأحمر: بسبب ارتفاع نسبة أكاسيد الحديد في تربته
- ❖ يتم المريخ دورته حول الشمس خلال ٦٨٧ يوماً أرضياً وتسمى بالسنة المريخية
- ❖ يدور المريخ حول نفسه خلال ٢٤ ساعة و٣٧ دقيقة بحسب التوقيت الأرضي ويسمى باليوم المريخي
- ❖ المريخ هو الكوكب الرابع ضمن المجموعة الشمسية بالنسبة للبعد عن الشمس
- ❖ شكل مدار المريخ هو دائري إهليلجي
- ❖ فسر سبب اختلاف مدة السنة المريخية عن مدة السنة الأرضية: لأن المريخ أبعد عن الشمس من الأرض لذلك يحتاج إلى مدة زمنية أطول حتى ينهي دورته حول الشمس
- ❖ الحجم والجاذبية: يشكل حجم المريخ حوالي سدس حجم الأرض والجاذبية على المريخ تعادل ٢٨% من جاذبية الأرض
- ❖ علل اختلاف وزن الشخص نفسه بين المريخ والأرض: بسبب انخفاض الجاذبية على المريخ حيث تعادل ٢٨% من الجاذبية على الأرض
- ❖ مثال: إذا علمت أن الجاذبية على المريخ تعادل ٢٨% من جاذبية الأرض، فكم سيكون وزنك على المريخ:
لو فرضنا أن وزنك ٦٠ كغ فسيكون وزنك على المريخ: $(60 \times 28) \div 100 = 16.8$
- ❖ علل تأثير الأشعة الكونية والشمسية بشكل كبير في كوكب المريخ: لأن المريخ يحيط به غلاف جوي رقيق جداً ذو كثافة منخفضة بسبب جاذبيته الضعيفة
- ❖ قارن بين تركيب الغلاف الجوي للأرض وتركيب الغلاف الجوي للمريخ
- ❖ أولاً- الغلاف الجوي للأرض: النيتروجين (N₂): ويشكل نسبة ٧٨% من الغلاف الجوي و الأوكسجين (O₂): ويشكل نسبة ٢١% من الغلاف الجوي
- ❖ ثانياً- الغلاف الجوي للمريخ: ثاني أكسيد الكربون (CO₂): ويشكل نسبة ٩٥% من الغلاف الجوي والنيتروجين (N₂): وتشكل نسبة ٣% من الغلاف الجوي
- ❖ أعط المصطلح الجغرافي: طبقة موسمية متغيرة من الأغصية الجليدية تشكلت نتيجة تجمد ٣٠% من غاز ثاني أكسيد الكربون CO₂ في الغلاف الجوي للمريخ، ((الثلج الجاف))
- ❖ علل لماذا لا يصلح كوكب المريخ - بتركيبه غلافه الجوي - لعيش الإنسان: لأن ٩٥% من تركيبه غلافه الجوي هي ثاني أكسيد الكربون CO₂ وندرة وجود غاز الأوكسجين اللازم لحياة الإنسان
- ❖ علل: يتميز المريخ بطقس قاس جداً حيث تبلغ الحرارة نهاراً عند خط الاستواء ٢٠ درجة مئوية وتنخفض ليلاً إلى ما دون ٤٠ - درجة مئوية، أما في منطقتيه القطبيتين فتتنخفض إلى ما دون ١٢٥- : بسبب الغلاف الجوي الرقيق للمريخ الذي لا يستطيع تخزين الكثير من أشعة الشمس - بعده عن الشمس
- ❖ علل ارتفاع درجة الحرارة في الطبقات العليا من الغلاف الجوي للمريخ أثناء العواصف الترابية وانخفاضها عند سطح الكوكب: لأن الرمال في العاصفة تبقى عالقة في الجو لمدة طويلة وهي تمتص أشعة الشمس بشكل كبير مما يؤدي إلى ارتفاع درجة الحرارة في الطبقات العليا ويبقى السطح بارداً لقلة الإشعاع الشمسي الواصلة إليه
- ❖ علل بقاء الغبار عالقاً في الجو لمدة طويلة في كوكب المريخ: بسبب عدم وجود أمطار تزيله من الجو
- ❖ أفسر تشكل الفصول الأربعة في كوكب المريخ؟ دوران المريخ حول الشمس وثبات ميلان محور دورانه
- ❖ علل اختلاف ثخانة الأغصية الجليدية في القطبين ومساحة انتشارها: بسبب العواصف الغبارية حيث تؤثر جزئيات الغبار في مناخ المريخ بسبب امتصاصها لأشعة الشمس
- ❖ ما صفات تضاريس كوكب المريخ؟ تنوع مظاهر سطحه - وجود تفاوت كبير في ارتفاعاتها

- ❖ ما العوامل التي ساهمت في تشكيل تضاريس المريخ؟ اصطدام النيازك - ثوران البراكين - تأثير درجة الحرارة والرياح والجليد والهباء
- ❖ ماذا تعرف عن جبل أوليمبس على كوكب المريخ؟ جبل مخروطي بركاني ذو فوهة ضخمة - هو أعلى قمة في المجموعة الشمسية - أعلى من قمة إيفرست بثلاث مرات
- ❖ ماذا تعرف عن وادي مارينارس في كوكب المريخ؟ هو أكبر وأعمق أخدود صدعي في المجموعة الشمسية - نتج عن ارتطامات كبرى لنيازك ضخمة بسطح المريخ
- ❖ فسر آلية أو سبب تشكل الفوهات التصادمية على سطح المريخ؟ عند اصطدام كويكب أو نيزك بسطح المريخ يؤدي إلى تشكيل فوهة على شكل إناء لها حواف صخرية بارزة ناتجة عن قوة الاصطدام وتؤدي إلى تناثر الركام على جانبي الفوهة مشكلة فوهات ثانوية
- ❖ الحركة التراجعية للمريخ!! : المريخ لن يتوقف ولن يتباطأ وإنما ما يحدث هو حركة تراجعية ظاهرية تحدث لجميع كواكب المجموعة الشمسية ويتم مشاهدتها عند الوقوف على كوكب داخلي (مداره أقرب إلى الشمس) ورصد كوكب خارجي (يليه مباشرة ويكون مداره أبعد عن الشمس)
- ❖ هل من الممكن الحياة على المريخ؟ تعتبر الحياة على المريخ حالياً مستحيلة للأسباب التالية:
انعدام وجود المياه - عدم وجود الأوكسجين - طبيعة المناخ القاسية جداً
وحدة الفلك الدرس الثاني: رحلة الأرض، (الحركة المحورية)
- ❖ فسر: في بعض الليالي قد نرى بعض كواكب مجموعتنا الشمسية على استقامة واحدة: بسبب اختلاف سرعة دورانها مع كوكبنا في مداراتها حول الشمس نتيجة حركة الأرض المحورية والانتقالية
- ❖ فسر: كل المجموعات النجمية تغير مواقعها بالنسبة للناظر إليها من سطح الأرض: بسبب دوران الأرض حول محورها
- ❖ فسر: سكان النصف الشمالي من الكرة الأرضية يظهر لديهم نجم ثابت (نجم القطب): بسبب موقعه فوق محور دوران الأرض وقد اعتمدوا عليه في رحلاتهم البحرية وأسفارهم ليدلهم على جهة الشمال
- ❖ ما نتائج حركة الأرض المحورية: تعاقب الليل والنهار - اختلاف التوقيت - انحراف حركة الأجسام على سطح الأرض - تفلطح الأرض
- ❖ أعط المصطلح الجغرافي: هو خط وهمي منه يبدأ اليوم وإليه ينتهي ويمر على خط الطول ١٨٠ درجة مع تعرج ناحية اليمين أو اليسار، ويتحتم على المسافر الذي يعبر هذا الخط باتجاه الشرق تعديل التاريخ بأن ينقص يوماً واحداً، أما الذي يعبره غرباً فعليه أن يضيف يوماً واحداً ((خط التاريخ الدولي))
- ❖ علل اختلاف التوقيت بين منطقة وأخرى: لأن الشمس تشرق على الأجزاء الشرقية قبل الأجزاء الغربية
- ❖ ((معلومات هامة)): تقسم الأرض إلى ٢٤ حزمة ساعية، وكل حزمة ساعية تمثل ١٥ خط طول، تحتاج الحزمة إلى ساعة كاملة للمرور أمام الشمس، وهذا يعني أن كل خط طول يحتاج إلى ٤ دقائق للمرور أمام الشمس
- ❖ خطوات حل مسألة حساب توقيت مدينة بناءً على خط طول: نتبع الآتي:
١. إذا كانت المدينتان في الجهة نفسها بالنسبة لخط غرينتش، (المدينتان في الشرق أو المدينتان في الغرب) نطرح خطوط الطول
 ٢. إذا كانت المدينتان في جهتين مختلفتين بالنسبة لخط غرينتش، (واحدة في الشرق وواحدة في الغرب) نجمع خطوط الطول
 ٣. نضرب الناتج (فرق خطوط الطول) بـ ٤ لنحصل على فرق التوقيت بالدقائق
 ٤. نقسم الناتج (فرق التوقيت بالدقائق) على ٦٠ لنحصل على فرق التوقيت بالساعات
 ٥. إذا كانت المدينة المطلوب حساب الساعة فيها تقع على شرق المدينة (المعلوم توقيتها) نقوم بجمع فرق توقيت الساعات إلى الساعة المعلوم
 ٦. إذا كانت المدينة المطلوب حساب الساعة فيها تقع على غرب المدينة (المعلوم توقيتها) نقوم بطرح فرق توقيت الساعات من الساعة المعلوم
- ❖ خطوات حل مسألة حساب خط طول مدينة بناءً على التوقيت: نتبع الآتي:

١. نطرح الساعات لنحصل على فرق التوقيت بالساعات

٢. نضرب الناتج (فرق الساعات) ب ١٥ لنحصل على فرق خطوط الطول

٣. إذا كانت المدينة المطلوب حساب خط الطول فيها الساعة أقل تكون غرب المدينة المعلومة فنقوم بطرح فرق خطوط الطول من خط طول المدينة المعلومة

٤. أما إذا كانت المدينة المطلوب حساب خط الطول فيها الساعة أكبر تكون شرق المدينة المعلومة فنقوم بجمع فرق خطوط الطول إلى خط طول المدينة المعلومة

❖ علل عدم وجود مناطق زمنية رسمية في القطبين الشمالي والجنوبي: لأن القطبين الشمالي والجنوبي يشكلان نقطة التقاء خطوط الطول جميعها.

❖ برأيك ما المنطقة الزمنية التي يمكن أن يتبعها العاملون في مراكز الأبحاث في القطبين؟

١. تتبع بعض مراكز الأبحاث الدولية العاملة في القطبين المناطق الزمنية التي تتبعها بلدانها

٢. بينما يتبع البعض الآخر المنطقة الزمنية لأقرب منطقة مأهولة بالسكان

٣. في الوقت الذي لا يزال آخرون يتبعون التوقيت العالمي الموحد

وحدة الفلك الدرس الثالث رحلة الأبطال (الحركة الانتقالية)

❖ علل سبب حدوث الفصول الأربعة في الأرض: بسبب دوران الأرض حول الشمس وثبات ميل محورها على مستوى مدارها

■ نقطة الحضيض: هي النقطة التي تكون فيها الأرض في أقرب مواقعها من الشمس

■ نقطة الأوج: هي النقطة التي تكون فيها الأرض في أبعد مواقعها عن الشمس

❖ الانقلاب الصيفي (٢١ حزيران)

الصيف	في النصف الشمالي يبدأ فصل
مدار السرطان	تكون الأشعة عمودية على
يكون أطول نهار في السنة وتزداد ساعاته بالاتجاه شمالاً ليصل إلى ٢٤ ساعة بدءاً من الدائرة القطبية الشمالية	طول كل من النهار والليل في النصف الشمالي مع التفسير
وابتداءً من ٢١ حزيران يبدأ طول النهار يقصر حتى يبلغ ١٢ ساعة في ٢٣ أيلول ((التفسير)): يكون النصف الشمالي أكثر تعرضاً لأشعة الشمس من النصف الجنوبي، حيث تتخطى دائرة الإضاءة الدائرة القطبية الشمالية كلها، في حين تلامس الدائرة القطبية الجنوبية	
الشتاء	في النصف الجنوبي يكون فصل

❖ الاعتدال الخريفي (٢٣ أيلول)

٢٣ أيلول	
الخريف	في النصف الشمالي يبدأ فصل
خط الاستواء	تكون الأشعة عمودية على
يتساوى طول النهار والليل في نصفي الكرة الشمالي والجنوبي ((التفسير)): لأن نصفي الكرة الأرضية يتعرضان لأشعة الشمس بشكل متساو وتغطي دائرة الإضاءة القطبين الشمالي والجنوبي	طول كل من النهار والليل في النصف الشمالي مع التفسير
الربيع	في النصف الجنوبي يكون فصل

❖ الانقلاب الشتوي (٢١ كانون الأول)

٢١ كانون الأول

الشتاء	في النصف الشمالي يبدأ فصل
مدار الجدي	تكون الأشعة عمودية على
يكون أطول ليل في السنة ويزداد طول الليل كلما اتجهنا شمالاً حتى يصل إلى ٢٤ ساعة في الدائرة القطبية الشمالية ((التفسير)): لأن النصف الجنوبي يكون أكثر تعرضاً لأشعة الشمس من النصف الشمالي وتتخطى دائرة الإضاءة الدائرة القطبية الجنوبية كلها في حين تلامس الدائرة القطبية الشمالية	طول كل من النهار والليل في النصف الشمالي مع التفسير
الصيف	في النصف الجنوبي يكون فصل

❖ الاعتدال الربيعي (٢١ آذار)

الربيع	في النصف الشمالي يبدأ فصل
خط الاستواء	تكون الأشعة عمودية على
يتساوى طول النهار والليل في نصفي الكرة الشمالي والجنوبي ((التفسير)): لأن نصفي الكرة الأرضية يتعرضان لأشعة الشمس متساو وتغطي دائرة الإضاءة القطبين الشمالي والجنوبي	طول كل من النهار والليل في النصف الشمالي مع التفسير
الخريف	في النصف الجنوبي يكون فصل

❖ فسر: برغم وجود الأرض في نقطة الحضيض إلا أن النصف الشمالي يكون فيه فصل الشتاء: بسبب ميلان محور الأرض بدرجة ٢٣,٥ فيسمح بأن تكون الأشعة الشمسية أكثر استقامة على النصف الجنوبي فيبدأ فصل الشتاء في النصف الشمالي بسبب ضعف وتشتت أشعة الشمس الواصلة إليه

وحدة التقانة واستخدام المكان الدرس الأول: لكار ظاهرة أدوات

١. نظام المعلومات الجغرافية GIS:
 - أ. التخطيط الإقليمي: اختيار مواقع المراكز العمرانية
 - ب. الصحة: تحديد أماكن انتشار الأمراض
 - ت. الزراعة: تحديد أماكن توزيع التربة والمحاصيل
 - ث. الخدمات: خطوط نقل الطاقة
 - ج. إدارة الكوارث: نمذجة انهيار سد
٢. الصور الفضائية: تستخدم في دراسة المناخ والموارد الأرضية التي هي في حالة تغير مستمر مثل: (التلوث البيئي - طبقة الأوزون - الغطاء النباتي - التربة - الغطاء الجليدي)
٣. الدائرة النسبية: تستخدم لتحليل البيانات التي تتطلب إعطاء نسب مئوية
٤. الهرم السكاني: يستخدم في تحليل التركيب السكاني والعمرى
٥. الأعمدة البيانية: تستخدم في المقارنات (النمو السكاني بين عام وآخر - الهطولات المطرية خلال العام)
٦. الخريطة: تستخدم في إظهار توزيع الكثافة السكانية في بلد ما - توزيع الثروات

❖ املأ الجدول الآتي بما يناسبه من الأدوات التي استعملت في الدراسة السكانية

الدقة والبساطة	النص والاستبانة
المقارنة البصرية	الدائرة النسبية - خريطة توزيع المراكز البشرية
التطور عبر الزمن	الجدول الإحصائية - خريطة الأعمدة البيانية
التوزيع الجغرافي	خريطة المراكز البشرية

التركيبة السكانية | هرم السكان - الدائرة النسبية

الأدوات والتقانات المستعملة في دراسة الظواهر الجغرافية: نظام المعلومات الجغرافية GIS - الأشكال البيانية
الدائرة النسبية - نظام تحديد المواقع العالمي GPS - الخرائط - الاستبيان - المستندات والوثائق - الصور الفضائية - الزيارات الميدانية

وحدة التقنية واستخدام المكان الدرس الثاني استثمار المكان مهارة لا يتقنها الا المخططين البارعين

❖ ((ميناء غوادر)):

استخدامات ميناء غوادر سابقاً	ميناء لقوارب الصيد الصغيرة
الأسباب التي دفعت الصين لاستثمار ميناء غوادر	لإحياء مشروعها التجاري الضخم حزام واحد مشروع واحد
النتائج التي تتوقع الصين الحصول عليها من استثمار ميناء غوادر	أ. تدعيم مركزها الاقتصادي على أنها قوة عظمى ب. وصول بضائعها إلى أوروبا سريعاً ت. توجيه بضائعها إلى منطقة الخليج العربي مباشرة ومنه إلى أوروبا
كيف سيؤثر استثمار الصين ميناء غوادر في التجارة العالمية	سيطرة الصين على طرق التجارة العالمية
أتوقع الاستثمار المستقبلي لميناء غوادر معللاً رأيي	

جدول بأهم الثروات والمشاريع المقترحة

الثروة	المشروع المقترح	المسوغات والفوائد
ملح صفري	معجل لإنتاج ملح الطعام	١. وجود احتياطي من الملح الصخري ٢. تأمين مادة الملح اللازمة للطعام ٣. تشغيل اليد العاملة المحلية
التورب	مشروع زراعي لإنتاج البذور	١. وجود احتياطي من مادة التورب ٢. تأمين البذور اللازمة لغذاء السكان ٣. تشغيل اليد العاملة المحلية
إسفلت	معجل لإنتاج الإسفلت	١. وجود احتياطي من الإسفلت ٢. تأمين مادة الإسفلت اللازمة لتعبيد الطرق والشوارع ٣. تشغيل اليد العاملة المحلية
الجص	معجل لإنتاج الجص	١. وجود احتياطي من الجص ٢. تأمين مادة الجص اللازمة للبناء

٣. تشغيل اليد العاملة المحلية		
١. وجود احتياطي من البازلت ٢. تأمين مادة البازلت اللازمة للبناء ٣. تشغيل اليد العاملة المحلية	معمل استخراج وتصنيع البازلت	بازلت
١. وجود احتياطي من الرخام ٢. تأمين مادة الرخام اللازمة للبناء ٣. تشغيل اليد العاملة المحلية	معمل لإنتاج الرخام	رخام
١. وجود احتياطي من الرمال الكوارتزية ٢. تأمين مادة البلوك السيليسي اللازمة للبناء ٣. تشغيل اليد العاملة المحلية	معمل لإنتاج البلوك السيليسي	رمال كوارتزية
١. وجود احتياطي من الإسمنت ٢. تأمين مادة الإسمنت اللازمة للبناء ٣. تشغيل اليد العاملة المحلية	معمل لإنتاج مادة الإسمنت	خامات إسمنت
١. وجود احتياطي من خامات الحديد ٢. تأمين مادة الحديد اللازمة للبناء والصناعة ٣. تشغيل اليد العاملة المحلية	مشروع لاستخراج وتعددين خامات الحديد	خامات حديد
١. وجود احتياطي من خامات الحديد ٢. تأمين الطاقة الكهربائية اللازمة للمنازل والمصانع ٣. تشغيل اليد العاملة المحلية	مشروع لإنتاج الطاقة الكهربائية	سجيل زيتي
١. وجود احتياطي من الفوسفات ٢. تأمين الأسمدة اللازمة للزراعة ٣. تشغيل اليد العاملة المحلية	مشروع لإنتاج الأسمدة	فوسفات
١. وجود احتياطي من الملح السبخي ٢. تأمين مادة الملح اللازمة للطعام ٣. تشغيل اليد العاملة المحلية	مشروع لاستخراج الملح السبخي وإنتاجه	ملح سبخي

وحدة التضاريس: الدرس الأول: جيولوجيا خضراء

- ❖ ما المقومات التي أدت إلى تحويل منطقة بانفل إلى حديقة وطنية جيولوجية (جيوبارك)؟: صخورها كلسية وصوانية متآكلة تعود إلى ٢٠ مليون سنة - تحتوي متاهة من الممرات الجبلية والقمم المميزة - تعيش فيها مجموعة من الكائنات الحية الفريدة من نوعها
 - ❖ أقترح أنشطة ترفيهية يمكن للسائح ممارستها في منتزه بانفل الطبيعي: الدخول ضمن الممرات الجبلية والتعرف على الكائنات الحية الفريدة
 - ❖ كيف أثر إنشاء المنتزه الجيولوجي في حياة السكان الأصليين؟ وفر لهم فرص العمل مع الحفاظ على عاداتهم وتقاليدهم
 - ❖ ما فوائد إنشاء الجيوبارك وتصنيفها موقعا للتراث العالمي. (أفكر في النواحي الاقتصادية والبيئية والعلمية)
١. من الناحية الاقتصادية: تنشيط السياحة وتوفير فرص عمل
 ٢. من الناحية البيئية: الحفاظ على البيئة من التدهور والخراب وحمايتها
 ٣. من الناحية العلمية: تصبح مقصداً للمتعلمين ومحبي الاكتشاف وإغناء البحوث العلمية

- ❖ أعط المصطلح الجغرافي: منطقة تتراوح مساحتها بين بضعة أمتار مربعة وعدد من الكيلومترات المربعة ويكون لها أهمية جيولوجية أو علمية بسبب خصائصها (المعدنية - التركيبة الجيومورفولوجية والطبوغرافية): الموقع الجيولوجي
- ❖ برأيك كيف ستنعكس حماية البيئة في المواقع الجيولوجية على حياة سكان القرى القريبة مستقبلاً؟

١. زيادة عدد السائحين وبالتالي تحسن في المستوى الاقتصادي
٢. توفير الخدمات (طرق - كهرباء - محلات تجارية)
٣. توفير فرص عمل

وحدة التضاريس الدرس الثاني: تنوع في العوامل، تنوع في التضاريس

❖ أصنف العوامل التي أسهمت في تشكيل جبال قوس قزح

عوامل داخلية	عوامل خارجية
رواسب الأنهار	حركات جارية باطن الأرض
التعرية كالأمطار والرياح	ضغط الرسوبيات
البحر	التيارات الصاعدة المنحدرة

❖ ماذا تعرف عن جبال الأمانوس (اللكام)

كتلة جبلية على الساحل السوري في لواء إسكندرونة تقسم إلى كتلتين: شمالية شرقية تسمى جبال النور - جنوبية غربية تسمى الجبل الأحمر. يفصل بين الكتلتين الجبلين ممر بيلان الذي يصل بين سهل الحسق وخليج إسكندرونة. وسبب تشكل هذه الجبال الحركة الالتوائية الألبية - الانزياح الناجم عن الانهدام السوري الإفريقي

❖ أصنف المظاهر التضاريسية وفق الجدول الآتي:

الاسم التضاريس	العوامل الرئيسية التي أسهمت في تشكيلها:	
	داخلية	خارجية
جبال الأمانوس	الحركة الالتوائية الألبية والانزياح الناجم عن الانهدام السوري الإفريقي	
سهل الغاب	الانهدام الأفريقي الآسيوي	
وادي بردى		التحت والتعرية والترسيب المائي
صخور هاري القديمة		حت الأمواج
الصخور الصحراوية المنخورة		حت الرياح

وحدة التضاريس الدرس الثالث: مظاهر الأرض

❖ أقارن بين الجبال البحرية والقارية من حيث الشكل وسبب التشكل وإمكانية الاستثمار البشري

الجبال البحرية	الجبال القارية	التشكيل
أ. تلال بركانية ب. جبال بحرية منفردة	أ. سلاسل كبرى كجبال الألب الالتوائية والسراة الانكسارية ب. أو بشكل معزول كجبل فوجي البركاني	
بسبب ثوران البراكين في قاع المحيطات واندفاع الحمم المنصهرة التي تتبرد لتشكل قاعاً جديداً	نتيجة لحركة الصفائح وما نتج عنها من التواءات وانكسارات وبراكين	سبب التشكيل
يمكن استثمارها بالصيد	يختلف النشاط البشري على هذه الجبال	إمكانية الاستثمار البشري

باختلاف العوامل الجاذبة للسكان

- ❖ كيف تشكل خندق ماريانا؟ بسبب اصطدام صفيحة الفلبين القارية بصفيحة المحيط الهادئ مما أدى إلى اندساس صفيحة المحيط الهادئ تحت صفيحة الفلبين القارية
- ❖ عدد التضاريس التي تشكلت نتيجة الانهدام السوري الإفريقي
البحر الأحمر - البحر الميت - بحيرة طبرية - سهل الغاب - سهل البقاع
- ❖ أفسر تشكل الانهدام السوري الإفريقي: انزياح الصفيحة العربية من الشرق والصفيحة الإفريقية من الغرب وتحرك الصفيحتان نحو الشمال ولكن تحرك الصفيحة العربية بشكل أسرع من الإفريقية أدى لحدوث الصدع بينهما
- ❖ ما أوجه الشبه والاختلاف بين أخدود ماريانا المحيطي والأخدود الناتج عن الانهدام السوري الإفريقي؟
 - (١) أوجه الشبه: كلاهما نتج عن حركات تكتونية للصفائح الأرضية
 - (٢) أوجه الاختلاف: أخدود ماريانا نتج عن اصطدام صفيحة قارية بصفيحة محيطية، بينما الانهدام السوري الإفريقي نتج عن انزياح وابتعاد صفيحتين قاريتين



❖ أقرن بين السهول المحيطية العميقة والسهول القارية

من حسب	السهول المحيطية العميقة	السهول القارية
الشكل	مناطق مستوية عميقة في قاع المحيط وتجاور الحافات أو سواحل القارات	مناطق مجاورة للبحار والمحيطات وعلى ضفاف الأنهار
عوامل الشكل	(١) الرواسب القادمة مع التيارات المائية من الجوانب القارية (٢) الرسوبيات الناتجة عن بقايا الكائنات الحية المتحللة الفارقة من السطح	(١) عوامل خارجية (حت وترسيب) ريحي ونهري وساحلي وجليدي (٢) عوامل باطنية مثل السهول الانهدامية
مكانة الاستثمار	صعبة الاستثمار يمكن أن إقامة مشاريع استخراج نפט	مناطق استقرار بشري لتنوع مواردها ويمكن استثمارها في الزراعة

الدرس الأول: انتماسة في السماء

وحدة المناخ

❖ أعط المصطلح الجغرافي: ظاهرة ضوئية تظهر في الغلاف الجوي بأشكال تختلف تبعاً للظروف المرافقة ((قوس قزح))

شروط حدوث		
قوس الضباب	قوس قزح المقلوب	قوس قزح المألوف
وجود أشعة الشمس - وجود قطرات ماء عالقة في الغلاف الجوي دقيقة جداً أصغر ١٠٠ مرة من قطرة الماء في قوس قزح المألوف - ضباب أو غيوم كثيفة	وجود أشعة الشمس - خلو السماء من الغيوم المنخفضة - وجود سحب رقيقة من البلورات الثلجية على ارتفاعات عالية جداً	وجود أشعة الشمس - وجود قطرات ماء عالقة في الغلاف الجوي - ضباب أو غيوم كثيفة

❖ ما هي آلية تشكل قوس قزح؟

في البداية ينكسر ضوء الشمس الساقط بشكل مائل عند دخوله في قطرات المطر ويتحلل اللون الأبيض إلى ألوان الطيف السبعة ثم ينعكس في السطح الداخلي من القطرة وينكسر أيضاً عند خروجه من القطرة.

❖ ما الشروط اللازم توفرها لرؤية قوس قزح:

- (١) أن يكون مصدر الضوء خلف الناظر
- (٢) أن تتراوح الزاوية المحصورة بين خط البصر وأشعة الشمس بين (٤٠° - ٤٢°)
- (٣) أن تكون الجهة المقابلة للشمس من السماء ممتلئة بالسحب الداكنة اللون كي يستطيع الناظر التفريق والتمييز جيداً بين ألوان الطيف

❖ علل انحناء الألوان بزوايا مختلفة في قوس قزح: بسبب اختلاف طول الموجات الضوئية للألوان المختلفة التي تسبب انحناء الألوان بزوايا مختلفة مكونة الشكل المميز لقوس قزح

❖ علل تلاشي قوس قزح: يتلاشى قوس قزح عندما تتلاشى قطرات الماء العالقة في الجو أو تختفي أشعة الشمس

- ❖ إذا علمت أن قوس قزح يأخذ شكلاً دائرياً، ولكن ما يمنع رؤيته كاملاً وجود عوائق تتعلق بمظاهر سطح الأرض، فما الطريقة لرؤيته كاملاً؟ أستطيع رؤية قوس قزح كاملاً بشكله الدائري من ارتفاعات عالية مثل الطائرات وذلك لعدم وجود الأفق الذي يمنع رؤيته كاملاً
- ❖ ما هي آلية تشكل قوس قزح المقلوب؟: تجتاز أشعة الشمس البلورة الثلجية، وتنكسر، وتحلل بطريقة معاكسة لقوس قزح المألوف
- ❖ أفسر اللون الأبيض لقوس الضباب: لأن حجم قطرات الماء هذه لا يسمح للأمواج الضوئية الداخلة إلى القطيرة بالانكسار اللازم لتحللها فيتشتت الضوء

وحدة المناخ الدرس الثاني: درع الأرض من الأشعة فوق البنفسجية

- ❖ ما تعريف طبقة الأوزون: طبقة شفافة تحيط بكوكب الأرض على ارتفاع (١٥ - ٣٥ كم) تتكون من ثلاث ذرات أوكسجين تمتص أكثر من ٩٩% من الأشعة فوق البنفسجية الضارة القادمة من الشمس باتجاه الأرض
 - ❖ ما أسباب تآكل طبقة الأوزون ومصادرها؟
- (١) مركب كلوروفلوروكربون: مصادره (المكيفات - التبريد - ملطفات الجو - مثبتات الشعر)
 - (٢) أكاسيد النتروجين: مصادرها (المنشآت الصناعية - عوادم السيارات - المركبات الغازية التي تنفثها الطائرات التي تحلق على ارتفاع ١٢ كم)

❖ فسر آلية تآكل طبقة الأوزون

- (١) تقوم الأشعة فوق البنفسجية بتحليل وتفكيك مركب الكلوروفلوروكربون إلى غاز الكلور
- (٢) بالتالي يبدأ نشاط ذرة الكلور وانطلاقها فتدخل هذه الذرة النشطة بسلسلة من التفاعلات مع جزيئات غاز الأوزون الموجود في طبقة الأوزون وتبدأ بتدميرها

- ❖ ما أهمية طبقة الأوزون؟: إن طبقة الأوزون تعد جزءاً مهماً من الغلاف الجوي وذلك بسبب دورها في حماية كوكب الأرض من خطر الأشعة فوق البنفسجية، كما يحمي غاز الأوزون البيئة إذ: يبيد الجراثيم - يقتل البكتريا والفيروسات والطفيليات وتمتص طبقة الأوزون ٩٩% من الأشعة فوق البنفسجية الضارة القادمة من الشمس

❖ أبين خطورة تآكل طبقة الأوزون على كل مما يلي معللاً إجاباتي:

- (١) المناخ: حدوث ظاهرة الاحتباس الحراري بسبب ازدياد الأشعة فوق البنفسجية التي ترفع درجة حرارة الأرض
- (٢) الجليديات: نقص حجم الجليديات على سطح الأرض بسبب ذوبانها نتيجة ارتفاع درجة الحرارة
- (٣) الكائنات الحية: انتشار الأمراض بين الناس (أمراض جلدية - سرطانات) وازدياد الجراثيم والطفيليات والفيروسات بسبب نقص غاز الأوزون الذي يقضي عليها
- (٤) الاقتصاد: تدهور الاقتصاد بسبب تدني الإنتاجية الزراعية كما ستتأثر مهنة الصيد بشكل كبير بسبب تدمير البلانكتون والتي تعد الغذاء الرئيسي للكائنات البحرية

- ❖ كشفت وكالة الفضاء الأمريكية ناسا أن حجم التآكل في طبقة الأوزون أخذ ينكمش ويتقلص بسبب الجهود العالمية في حظر انبعاث الغازات المستنفذة لطبقة الأوزون. برأيك هل ستتعاوى طبقة الأوزون مستقبلاً؟ بين السبب:

■ نعم برأيي أن طبقة الأوزون ستتعاوى وذلك بسبب الجهود العالمية في حظر انبعاث الغازات المدمرة لطبقة الأوزون وقد أفادت دراسة للأمم المتحدة أن طبقة الأوزون تتعاوى بمعدل ما بين واحد وثلاثة في المئة كل عقد منذ عام ٢٠٠٠ وأنه نتيجة لتطبيق اتفاقية مونتريال تم تقادي تقلص طبقة الأوزون بشكل كبير في القطبين، وأن ثقب الأوزون في القارة القطبية الجنوبية سوف يغلق ويعود لوضعه الطبيعي بحلول عام ٢٠٦٠

- ❖ أقتح حلولاً يمكن أن تستفيد منها الحكومات أو المنظمات الدولية لمواجهة مشكلة تآكل طبقة الأوزون:

١. الحد ومنع انبعاث وانطلاق المركبات الضارة كمركب الكلوروفلوروكربون إلى الجو

٢. زراعة الأشجار حيث تعمل المساحات الخضراء على حل مشكلة الأوزون من خلال تحويل عنصر الكربون إلى أوكسجين وإعادته للغلاف الجوي من جديد
٣. التقليل من استخدام المعطرات التي تستخدم فيها مواد تضر بطبقة الأوزون واستبدالها بأشياء لا تسبب الضرر لتلك الطبقة
٤. الحد من استخدام المبيدات الحشرية التي تحتوي على مركبات ضارة بطبقة الأوزون

وحدة المياه

الدرس الأول: حركات المياه

❖ أعط المصطلح الجغرافي لكل مما يلي:

١. ارتفاع تدريجي في منسوب مياه البحر أو المحيط: المد
٢. انخفاض تدريجي في منسوب مياه البحر أو المحيط: الجزر

❖ أبتن أنواع المد مفسراً آلية حدوث كل نوع:

- (١) المد المنخفض: يحدث عندما يكون القمر تربع أول أو تربع ثاني على طول ضلع زاوية قائمة مركزها الأرض حيث تقلل جاذبية الشمس للأرض من قوة جاذبية القمر للمسطحات المائية
- (٢) المد المرتفع: يحدث عندما يكون القمر بديراً أو محاقاً وتقع الشمس والأرض والقمر على مستوى فلكي واحد، فتعمل قوتها جذب الشمس والقمر معاً لتبلغ ظاهرة المد أقصاها

❖ فوائد المد والجزر:

- (١) دخول السفن وخروجها من الموانئ
- (٢) توليد الطاقة الكهربائية حيث تعتبر ظاهرة المد والجزر من أشكال الطاقة المتجددة
- (٣) يزيل المد والجزر الملوثات من البحار والمحيطات

❖ ما أهمية ماكينة البطريق ووظائفها:

- (١) تطفو على سطح المياه بطول ٣٠ متر
- (٢) تحتوي بداخلها على جهاز تدوره حركة الأمواج
- (٣) قادرة على تحمل العواصف العاتية وملوحة المياه
- (٤) كل بطريق يمكنه توليد كهرباء تكفي لإمداد ٤٠٠ منزل بالطاقة الكهربائية

❖ ما الأسباب التي توجب علينا دراسة حركة الأمواج:

١. لأن هناك فرصة كبيرة لهذه التقنية لكي تصبح مصدراً أساسياً لتوليد الطاقة في المستقبل،
٢. تحديد آثارها السلبية على الحياة البحرية والاستخدامات الأخرى للإنسان للبحار والمحيطات، والسعي للحد منها

❖ ما آلية حدوث الأمواج؟

تختلف الأمواج تبعاً لسرعة الرياح وديمومتها التي تعد العامل الرئيس في تشكيلها، إذ تضغط على سطح الماء في عرض المسطحات المائية (مياه عميقة) مسببة تحرك الماء في مسارات دائرية بحيث يعود إلى مكانه مع حركة أمامية بسيطة، وتتكسر الأمواج بالقرب من الشاطئ، لأن كمية الماء غير كافية لاكتمال مساره كما تصطدم قاعدة الموجة بصخور الشاطئ أما إذا تضاعف ارتفاع الأمواج إلى عشرات الأمتار فإنها تتحول عند اقترابها من الساحل إلى ما يعرف بتسونامي المدمر

❖ قارن بين الأمواج البحرية العادية وأمواج التسونامي:

تنشأ بفعل الرياح ويرتبط حجمها وخصائصها بقوة الرياح وديومتها واتساع المسطح المائي	حركات أرضية كالزلازل في قاع البحار
يتباين حسب سرعة الرياح ويصل طول الموجة بين (٢٠ - ٢٠٠) متر	يتباين حسب عمق المياه ويصل إلى ٥٠٠ كم
تغير بسيط ويبقى الارتفاع في حدود عدة أمتار	يزداد ارتفاع الموجة كلما اقتربت من الساحل وتصل إلى ٣٠ متر
ترتبط سرعتها بسرعة الرياح وتصل سرعة الموجة إلى ١٠٠ كم في الساعة	تنخفض السرعة كثيراً عند الاقتراب من الساحل تصل إلى ٥٠ كم في الساعة

❖ أعط المصطلح الجغرافي:

هي حركة مياه البحار والمحيطات في اتجاهات محددة كحركة المياه على اليابسة بصق يصل إلى ٢ كم وبعض مئات الكيلومترات، وتصنف تبعاً للجهة التي تأتي منها: تيارات باردة قادمة من المناطق القطبية والتيارات حارة قادمة من المناطق الاستوائية. التيارات البحرية

❑ ما العوامل تؤثر في توجيه التيارات البحرية:

شكل خط الساحل - الرياح الدائمة - جهة الحركة البحرية للأرض - قوة كوريوليس (انحراف حركة الأجسام المتحركة)

❖ ما هي آلية تشكل التيارات البحرية وحركتها:

١. خصائص مياه البحار والمحيطات وخاصة فيما يتعلق بدرجة حرارتها وملوحتها بالإضافة إلى شكل السواحل
٢. حركة دوران الأرض حول محورها التي تؤدي إلى انحراف المياه باتجاه اليمين في النصف الشمالي وبتجاه اليسار في النصف الجنوبي (تأثير قوة كوريوليس في الأجسام المتحركة)
٣. الرياح، خاصة الدائمة منها. إذ تدفع الرياح المياه البحرية السطحية في اتجاهها نفسه.

❖ ما نتائج تباطؤ تيار الخليج الدافئ:

١. مواسم باردة جداً في أوروبا الغربية
٢. انخفاض كمية الأمطار والأسماك التي تعتمد عليها الكثير من مناطق الكاريبي والساحل الشرقي للولايات المتحدة الأمريكية

❖ استنتج الآثار الاقتصادية للتيارات البحرية في نشاط الموانئ مفسراً إجابتي:

١. تعمل التيارات الدافئة على رفع درجة حرارة سواحل المنطقة المارة بها كما هو الحال في شمال غرب أوروبا حيث يعمل تيار الخليج الدافئ على رفع درجة حرارة سواحلها ويمنع تجمدها مما يجعلها مفتوحة للملاحة طول فصل الشتاء
٢. تستفيد السفن من التيارات السطحية وتسير مع اتجاهه لتصل في وقت أقصر وبوقود أقل

❖ ما أثر تلاقي التيارات في ازدهار الثروة السمكية؟

تساعد عملية اختلاط المياه على صعود العناصر الغذائية من القاع، وتحمل التيارات الحارة معها كائنات صغيرة تعرف بالبلانكتون النباتي (الهوائم النباتية)، أما التيارات الباردة فتحمل البلانكتون الحيواني، وهما الغذاء الرئيسي للأسماك الصغيرة التي هي غذاء الأسماك الكبيرة

❖ أفسر كون اليابان في المرتبة الثانية عالمياً في كمية الصيد البحري: بسبب تلاقي تيار كوروشيفو الحار الذي يحمل البلاكتون النباتي مع تيار أوروشفو البارد الذي يحمل البلاكتون الحيواني وهما الغذاء الأساسي للأسماك الصغيرة التي تعتبر الغذاء الأساسي للأسماك الكبيرة لذلك تزداد كمية الأسماك بشكل كبير ويزداد الصيد

وحدة المياه الدرس الثاني: شرايين الحياة

❖ لماذا درس المصريون القدماء نظام جريان نهر النيل دراسة دقيقة؟

لمعرفة مواعيد فيضانه - ليتمكنوا من توزيع حصص المياه على أقاليم دولتهم

❖ لماذا بنى المصريون مقاييس متعددة ومختلفة الأنواع لنهر النيل عبر العصور التاريخية؟

■ لتحديد مواعيد الزراعة والحصاد وحماية الضرائب بالاعتماد على درجات الارتفاع الحجرية

❖ برأيك ما سبب توقف العمل بقياس فيضان نهر النيل بعد بناء السد العالي؟

■ لأن السد العالي عمل على تنظيم جريان النهر ووضع حد لفيضاناته الدورية

❖ أعط المصطلح الجغرافي: تبدلات غزارة ماء النهر على مدار العام. نظام جريان النهر

❖ ما العوامل المؤثرة في أنظمة الجريان النهريّة؟

١. موسم الهطل وكميته في مختلف فصول السنة
٢. درجة الحرارة وتأثيرها من حيث التبخر وذوبان الثلوج
٣. درجة انحدار السطح: فكلما زاد انحدار السطح زادت سرعة الجريان وقل تأثير التبخر
٤. طبيعة الصخور وخصائص التربة الفيزيائية: نفوذة أو كثيفة
٥. طبيعة الغطاء النباتي وكثافته فمثلاً تعيق كثافة الغطاء النباتي جريان المياه وتقلل من تدفقها
٦. العامل البشري: كاستعمال مياه النهر في الري والشرب

❖ أعط المصطلح الجغرافي

■ النهر الذي تتقارب غزارته طوال العام. النهر المنتظم الجريان

■ هو الذي تتباين غزارته بين فصل وآخر. النهر غير المنتظم الجريان

❖ معلومات عن نهر الفرات:

- ينبع من هضبة أرمينيا في تركيا
 - يدخل الأراضي السورية عند مدينة جرابلس ويلتقي فيها روافده الساجور والبليخ والخابور
 - يخرج من سورية عند مدينة البوكمال إلى الأراضي العراقية
 - يلتقي نهر دجلة عند كربة علي فيكونان معاً شط العرب الذي يصب في الخليج العربي عند مدينة الفاو
 - يعد الفرات أغزر مصدر مائي عذب في سورية
 - الفرات من الأنهار غير المنتظمة الجريان لذلك أنشئ عليه العديد من المشروعات فسر:
- درء خطر الفيضان - تخزين المياه - زيادة مساحة الأراضي المروية - توليد الطاقة الكهربائية

❖ فسر تذبذب غزارة نهر الفرات على مدار العام

نلاحظ أن غزارة نهر الفرات وأول فيضان له يكون مع فصل الشتاء في شهر كانون الثاني حيث تكون الأمطار غزيرة وبعدها تنخفض الغزارة في شهر شباط وآذار وفي شهر نيسان تزداد غزارة النهر وتصل أعلى مستوياتها في شهر أيار نتيجة ذوبان الثلوج

❖ أفسر فيضان نهر دجلة قبل نهر الفرات مع أنهما يتماثلان في المناطق المناخية؟

لأن نهر الفرات يعتمد في تغذيته على مياه الأمطار والثلوج ويكون فيضانه بعد ذوبان الثلوج في حين أن نهر دجلة يعتمد في تغذيته فقط على مياه الأمطار

❖ معلومات عن نهر النيل:

■ ينبع من هضبة البحيرات

■ عندما يصل إلى جنوبي السودان يسمى بحر الجبل

■ هناك يلتقي روافد كثيرة أهمها بحر الغزال وبحر العرب

■ بعد بحيرة نو يلتقي روافده الحبشية (السوبات، النيل الأزرق، عطبرة) التي تزوده بنحو ٨٤ % من مياهه

■ لا يرفده بعدها أي رافد دائم

■ يتفرع شمالي القاهرة إلى فرعي دمياط ورشيد اللذين يصبان في البحر الأبيض المتوسط

■ يعد نهر النيل أكثر أنهار العالم انتظاماً في جريانه في مجراه الأعلى حتى بحيرة نو، ثم يصبح في مجراه الأوسط والأدنى غير منتظم

الجريان

❖ فسّر تذبذب غزارة نهر النيل عند مجراه الأعلى على مدار العام، معللاً إجابتك:

نلاحظ أن معدل تذبذب نهر النيل عند مجراه الأعلى قليل لأنه يجري في منطقة شديدة الانحدار بالإضافة إلى أنه يستمد مياهه من الأمطار الغزيرة في المنطقة الاستوائية

❖ فسّر تبدلات غزارة نهر النيل عند مدينة الخرطوم على مدار العام:

نلاحظ تذبذب كبير في غزارة نهر النيل عند مدينة الخرطوم بحيث يصل إلى أدنى غزارة له في الشتاء والربيع ليرتفع في الصيف إلى أعلى غزارة بسبب الأمطار الصيفية، وبعد الخرطوم لا يتلقى روافد ويسير ضمن منطقة جافة.

❖ نهر السن:

■ نهر ساحلي يتشكل من نبع السن الكارستي

■ ينبع من السفوح الغربية لجبال اللاذقية

■ من أهم الينابيع المتجددة في سورية

■ يجري في منطقة يسودها المناخ المتوسطي

■ تكمن أهميته من أنه يوفر المياه لمحافظة اللاذقية (للشرب، ري سهل جبلة) ولجزء من محافظة طرطوس (الشرب) إذ تزداد الحاجة إليه في الصيف

■ يغلب على أراضي حوضه الصخور الكارستية (النفوذة)

■ يعتمد في تغذيته على الهطل والمياه الجوفية

■ يصب في البحر المتوسط بالقرب من مدينة بانياس بعد أن يجتاز مسافة لا تتجاوز ٦ كم

■ يتصف نهر السن من حيث نظام الجريان بأنه غير منتظم الجريان

❖ فسّر تذبذب غزارة نهر السن على مدار العام

نلاحظ أن نهر السن يفيض في فصل الشتاء نتيجة زيادة كمية الأمطار التي تلعب دوراً كبيراً في تغذية النهر لأن الأمطار تهطل شتاءً في المناخ المتوسطي، أما في فصل الصيف يشح النهر بسبب الحرارة والتبخر

وحدة التربة الدرس الأول: أسرار التربة

❖ الخصائص الفيزيائية للتربة

أولاً- لون التربة: من الخصائص التي يمكن ملاحظتها بالعين المجردة، ويعكس ما تحتويه التربة من مكونات

■ الدبال: بقايا نباتية وحيوانية متحللة

الكوارتز: هو معدن موجود في الرمل

١. يكون لون التربة أسود عندما تزيد فيها نسبة الدبال
٢. يكون لون التربة أحمر عندما تزيد فيها نسبة أكاسيد الحديد
٣. يكون لون التربة أبيض عندما تزيد فيها نسبة الكلس والكوارتز- أكاسيد الحديد
٤. يكون لون التربة بني عندما تتعادل فيها نسب (الكلس والكوارتز - الدبال
٥. يكون لون التربة كستنائي عندما تتعادل فيها نسبة الدبال وأكاسيد الحديد
٦. يكون لون التربة رمادي عندما تتعادل فيها نسبة الدبال والكلس والكوارتز
٧. يكون لون التربة أصفر عندما تتعادل فيها نسبة أكاسيد الحديد والكلس والكوارتز
٨. يكون لون التربة برتقالي عندما تقل نسبة الكلس والكوارتز وتزيد نسبة أكاسيد الحديد
٩. يكون لون التربة أصفر فاتح عندما تقل نسبة أكاسيد الحديد وتزيد نسبة الكلس والكوارتز

ثانياً- قوام التربة (نسيج التربة): يتكون نسيج التربة من الحبيبات التي يقل قطرها عن ٢ مم وهي (الرمل - السلت - الطين) ويختلف النسيج باختلاف نسبتها

□ نسيج التربة الرمي ذو ملمس خشن وحبيبي

□ نسيج التربة الطيني هو ذو ملمس لزج عندما يكون رطب

□ نسيج التربة السلتي ذو ملمس حريري عندما يكون رطب

((ملاحظة)): أخصب أنواع الترب هي التربة السلتيية

ثالثاً- بناء التربة ومساميتها ومدى نفوذيتها: بناء التربة هو الشكل الذي تترب فيه حبيبات التربة المختلفة، وتتنظم فيه مع بعضها البعض، ويؤثر البناء في المسامية (الفراغات) الموجودة في جسم التربة من حيث الحجم ومدى الانتشار، ومنه في مدى نفوذية التربة

((ملاحظة)): يوصف بناء التربة بأنه جيد عندما تشغل المسامات ما بين (ثلث إلى نصف) حجم التربة

قارن بين التربة الرملية والتربة الطينية

التربة الرملية (رمل)	التربة الطينية (طين)
البناء حبيبي وضعيف التماسك وهذا يجعل عملية الحراثة ويسمح بتوغل جذور النباتات	البناء كتلي وشديد التماسك وهذا يجعل عملية الحراثة غاية في الصعوبة ولا تسمح في توغل جذور النباتات
مساماتها كبيرة	مساماتها صغيرة
درجة النفوذية عالية وسهلة التصريف مما يؤدي إلى:	درجة النفوذية ضعيفة جداً وصعوبة في التصريف وهذا يؤدي إلى:
(١) صعوبة الاحتفاظ بالماء والغذاء	(١) الاحتفاظ بالماء والغذاء بدرجة عالية جداً
(٢) درجة تهوية عالية	(٢) درجة تهوية منخفضة

العمق	درجة العمق
أقل من ٥٠ سم	قليلة العمق
٥٠ - ١٠٠ سم	متوسطة العمق
١٠٠ - ١٥٠ سم	عميقة
أكثر من ١٥٠ سم	عميقة جداً

■ فسّر: التربة الرملية قليلة العمق: السبب هو البناء الحبيبي ضعيف التماسك مما يقلل الفرصة المتاحة لتوغل جذور النباتات ويعيقها
❖ ماذا يؤثر عمق التربة في إنتاجيتها؟

كلما ازداد عمق التربة ازدادت المساحة التي تنتشر فيها الجذور، فتزيد بذلك كمية المواد الغذائية الممتصة من قبل النباتات.

❖ أستنتج تأثير حموضة التربة أو قلويتها في قدرتها الإنتاجية: كلما كانت قيمة PH متعادلة زادت القدرة الإنتاجية للأرض وكلما زادت قلويتها يؤدي إلى انخفاض نشاط الكائنات الحية وعمليات التحليل وبالتالي نقص في الإنتاج

❖ ما هي وظائف الدبال؟

١. يمد التربة بالغذاء ويقوم بجمع حبيبات التربة

٢. منظم لحموضة التربة قلويتها

٣. يوفر الطاقة اللازمة لحياة الأحياء الدقيقة ونشاطها

٤. يحسن من بناء التربة (علل): لأنه يعمل كمادة لاصقة وهذا يؤدي إلى تجميع الحبيبات وزيادة المسام، وهذا يسمح بمرور الماء والهواء وتوغل الجذور في التربة

❖ انقل العبارات التالية إلى الجدول لتصنف المقترحات المناسبة لكل من الترتين الرملية والطينية

(زراعة الحواجز النباتية "المصدات الريحية" - إضافة سماد عضوي ورمل - أن تكون الحراثة عميقة - إضافة السماد العضوي - استخدام طرائق الري الحديثة مع مراعاة التصريف الدائم - أن تكون الحراثة سطحية - ينصح بزراعة المحاصيل الجذرية كالبطاطا والجزر - ينصح بزراعة المحاصيل المحبة للماء كالقطن)

التربة الطينية في أرض سعيد	التربة الرملية في أرض نبيل	المقترحات
(١) أن تكون الحراثة عميقة	(١) زراعة المصدات الريحية	
(٢) استخدام طرق الري الحديثة مع مراعاة التصريف الدائم	(٢) أن تكون الحراثة سطحية	
(٣) إضافة سماد عضوي ورمل	(٣) إضافة السماد العضوي	
(٤) زراعة المحاصيل المحبة للماء كالقطن	(٤) زراعة المحاصيل الجذرية كالبطاطا والجزر	

وحدة الترب الدرس الثاني: حليف البشرية الصامت (أمل المستقبل)

❖ فسّر: التربة التي نراها الآن هي كل ما نملك ويجب علينا العمل على الحفاظ عليها

■ تعد التربة مورداً طبيعياً متجدداً لكنه قابل للنفاذ إذا لم يحسن الإنسان استخدامه

■ قد يستغرق تشكل سنتيمتر واحد من التربة ما يصل إلى ١٠٠٠ عام

مستعيناً بالشكل ومن معلوماتي أبين أثر حماية التربة في كل مما يلي:

أثر حماية التربة: خصائصها

التنوع الحيوي	المياه	الاقتصاد	الامن الغذائي	البيئة
١. توفير بيئة خصبة للأحياء الدقيقة ٢. تأمين غذاء للحيوانات	١. تشكل التربة خزان للمياه ٢. تنقية المياه الجوفية	تحقيق تنمية اقتصادية من خلال الإنتاج الزراعي	تحقيق الأمن الغذائي من خلال الزراعة	تنظيم المناخ كالتقليل من غازات الاحتباس الحراري

❖ فسّر آلية حدوث تملح التربة :

عند ري التربة بالغمير تنزل المياه إلى الطبقات العميقة في التربة ويؤدي زيادة المياه إلى زيادة تركيز الأملاح الموجودة في التربة وبحسب الخاصة الشعرية ترتفع المياه إلى سطح التربة حاملة معها الأملاح المنحلة فتتبخر المياه وترسب الأملاح على سطح التربة ومع تكرار العملية يزيد تركيز الأملاح على سطح التربة وتخرج من دائرة الاستثمار الزراعي .

❖ فسّر سبب تملح التربة في الأراضي التي يزيد معدل الأمطار فيها عن ٤٥٠ مم في السنة

لا تملح التربة في الأراضي التي يزيد معدل الأمطار فيها عن ٤٥٠ مم في السنة إلا إذا:

تم استخدام مياه جوفية مالحة في الري - استخدام الأسمدة الكيميائية بشكل مفرط

❖ ما أسباب حدوث مشكلة تملح التربة

أسباب مشكلة تملح التربة	
البشرية	الطبيعية
١_ الري بالغمير دون وجود تصريف جيد ٢_ استخدام الأسمدة الكيميائية بكثرة	١_ ارتفاع درجة الحرارة والتبخر الشديد

ما نتائج مشكلة تملح التربة ؟

نتائج مشكلة تملح التربة	
بيئية	١_ آثار ضارة على نمو النباتات والمحاصيل ٢_ انخفاض جودة المياه ٣_ اختلال التوازن البيئي وموت الكائنات الدقيقة
اقتصادية	قلة الإنتاج الزراعي وخروج أراضي كثيرة من دائرة الاستثمار يؤدي إلى نقص الصادرات الزراعية وبالتالي تدهور الاقتصاد
اجتماعية	١_ هجرة أصحاب الأراضي ذات التربة المملحة وظهور مشكلة البطالة ٢_ مشكلة الأمن الغذائي

❖ ما هي الحلول التي قدمتها المراكز الدولية للزراعة لمساعدة المزارعين للتأقلم مع ملوحة التربة ؟

١. اعتماد أصناف عديدة من النباتات المتحملة للأملاح كنبات الساليكورنيا (الشانان) وهو من المحاصيل العلفية
٢. إنتاج بذور تتحمل الملوحة لاستبدال البذور المستوردة ببذور منتجة محلياً تقاوم الملوحة .

❖ كيف يمكن معالجة الترب المملحة ؟

غسل التربة بالتكرار لكنها عملية مكلفة تتطلب مدّ شبكة ريّ متكاملة وشق قنوات تصريف للتخلص من المياه الزائدة .

❖ ما الوسائل التي يمكن اتباعها لحماية التربة من التملح والحفاظ عليها سليمة مفعمة بالحياة

١_ استخدام أساليب الري الحديثة.

٢_ عند الري بالغمر أحافظ على التصريف الجيد لعدم حدوث التملح.

٣_ لا أستخدم الأسمدة الكيميائية بشكل مفرط

٤_ أقوم بزيادة خصوبة التربة باستخدام السماد العضوي (الدبال)

وحدة السكان تخطيط جد تنمية مستدامة

أختار من المشروعات الاستثمارية الآتية ما يناسب كل مدينة مراعيًا كثافتها السكانية وفق الآتي : مشروعات البنية التحتية للألعاب الرياضية العالمية _ مشروعات الموانئ _ مشروعات أبنية _ مشروعات بيئية (إعذاب مياه البحر - محميات طبيعية - الطاقة النظيفة) _ مشروعات علمية _ مشروعات جسور _ أنفاق _ طرق سريعة .

١_ مدينة ذات كثافة سكانية منخفضة :

المشروع المناسب : مشروعات بنية تحتية للألعاب الرياضية العالمية (أو أي مشروع مناسب)

مقومات إنشاء المشروع : وجود مساحات واسعة _ توفر رأس المال الهادي والبشري

الفائدة منه : تشجيع السياحة - توفير فرص عمل - جذب السكان

٢_ مدينة ذات كثافة سكانية متوسطة :

المشروع المناسب : مشروعات الموانئ

مقومات إنشاء المشروع : أن تكون المدينة تطل على البحر _ رأس المال _ اليد العاملة

الفائدة منه : تنشيط حركة المبادلات التجارية _ رفع الاقتصاد _ تشغيل أعداد من اليد العاملة

٣_ مدينة ذات كثافة سكانية مرتفعة :

الشروع المناسب : أنفاق وجسور

مقومات إنشاء المشروع : توفر اليد العاملة _ وجود الطرق الواسعة

الفائدة منه : التخفيف من الأزمة المرورية

ملاحظة هامة: قد يصلح المشروع الاستثماري لأكثر من مكان (مع اختلاف الكثافة السكانية)، وهذا يتوقف على مقومت إنشائه والفائدة منه.

❖ علل تضاعف عدد سكان إمارة أبو ظبي ١٣٣ مرة ؟ نتيجة النمو السكاني والهجرة الوافدة

❖ ماهي العوامل التي سرعت عملية النمو الديموغرافي والتوزع الجغرافي للسكان في إمارة أبو ظبي ؟

اكتشاف النفط - بروز الصناعات والخدمات

❖ ما العوامل الجاذبة للمواطنين إلى الأرياف ؟

١. تطور البنى التحتية والخدمات

٢. تطور وسائل النقل

٣. انخفاض الأسعار مقارنة بالمدن

٤. قيام بعض الشركات الكبرى في المناطق الريفية

❖ استنتج كيف أثرت هجرت اليد العاملة في البنية الاجتماعية والاقتصادية

الآثار الإيجابية : * التعرف على العادات والتقاليد * تطور الاقتصاد

الآثار السلبية : * صعوبة اندماج هذه العمالة مع المجتمع المحلي - * عدم توفر فرص عمل للسكان المحليين

❖ فسر لماذا تختلف الكثافة السكانية في سورية ؟

١_ منطقة ذات كثافة سكانية مرتفعة: في المنطقة الغربية المطلة على البحر المتوسط بسبب المناخ المعتدل والأمطار الوفيرة، كما ترتفع في المدن بسبب توفر فرص العمل وتوفر الخدمات

٢_ منطقة ذات كثافة سكانية متوسطة: في المناطق الداخلية والشمالية الشرقية على ضفاف الأنهار بسبب توفر التربة الخصبة والمياه الوفيرة والمناخ الملائم والثروات الباطنية حيث تتوفر فرص عمل

٣_ منطقة ذات كثافة سكانية منخفضة: في البادية بسبب قسوة المناخ وعدم توفر الخدمات

❖ ما المشكلات الناتجة عن اختلاف توزيع السكان في سورية ؟

في المناطق المرتفعة الكثافة تظهر العديد من المشكلات منها: السكن العشوائي ومشكلة المواصلات والازدحام المروري وعدم التوازن بين الموارد الطبيعية ومتطلبات الانسان بالإضافة إلى غلاء الأسعار وزيادة الطلب على الخدمات

أما في المناطق منخفضة الكثافة: توجد مساحات واسعة وموارد غير مستغلة وضعف في الخدمات وفرص العمل

❖ اقترح حلاً يحقق تنمية متوازنة عمرانياً وخدمياً واقتصادياً في سورية ؟

تنظيم المناطق الريفية وإيصال الخدمات إليها وربطها مع المدينة بطرق معبدة وإقامة المدارس والمستشفيات وتشجيع الاستثمارات الزراعية الهجرة في خدمة التنمية: قدرات وإمكانات ومساهمات المهاجرين مدهشة جداً

❖ ما الآثار السلبية للهجرة على الدول المستقبلية؟ زيادة أعداد السكان والضغط على الخدمات بصورة هائلة تفوق قدرتها الاستيعابية

❖ ما الآثار السلبية للهجرة على الدول المرسله؟ تغير توزيع السكان والافتقار إلى الكفاءات واليد العاملة

❖ ما الآثار الإيجابية للهجرة؟ التحويلات المالية التي يرسلها المهاجرون لبلدانهم - تبادل المعارف والخبرات المكتسبة - المشروعات الاستثمارية المشتركة التي يؤسسها المهاجرون.

وحدة الاقتصاد الدرس الأول: مفاتيح الراحة لأهل الفلاحة

❖ قارن بين المدرسة الحتمية والمدرسة الإمكانية ؟

المدرسة الحتمية: ترى أن مجمل النشاط البشرية هي انعكاس للظروف والمؤثرات الطبيعية المحيطة وأن الانسان مجرد آلة أو جهاز يقتصر دوره على الاستجابة فقط لتلك المؤثرات .

المدرسة الإمكانية: تؤكد دور الإنسان الإبداعي في الوسط الجغرافي الذي يعيش فيه وأنه يختار بمحض إرادته من البيئة الطبيعية المحيطة ما يلائم قدراته وأهدافه

❖ ما العلاقة بين دراسة الزراعة والجغرافية وأهمية كل منهما للآخر

علاقة ارتباط وثيق حيث أن الجغرافية توضح مقومات البيئة المحيطة وملائمتها للزراعة حيث يجب دراسة طبيعة الأرض الجغرافية ومعرفة خصائصها لنتمكن من معرفة نوع المحصول المناسب للزراعة كما تسهم الزراعة في الحفاظ على البيئة الجغرافية وتنظيم المناخ.

❖ ما العوامل المؤثرة في الزراعة ؟

العوامل الطبيعية	العوامل البشرية
مظاهر السطح (التضاريس)	التطور العلمي والتكنولوجي
المناخ	عدد السكان ومدى توفر اليد العاملة
التربة	السوق
موارد المياه	رأس المال
	طرق المواصلات والنقل
	السياسة الحكومية وخططها الزراعية
	العلاقات والارتباطات الخارجية

وحدة الاقتصاد الدرس الثاني: أين أصنع؟

❖ صنف الأنشطة الاقتصادية الأكثر ربحاً والأقل ربحاً معللاً اجابتي :

- ١_ انتاج كميات كبيرة من ثمار الزيتون. (نشاط اقتصادي أقل ربحاً لأنه يعتمد على انتاج المواد الخام رخيصة الثمن)
- ٢_ تحويل ثمار الزيتون (بالتصنيع) إلى زيت الطعام ومورد طاقة. (نشاط اقتصادي رابح لأنه يعتمد على انتاج مواد مصنعة غالية الثمن)
- ٣_ استخراج كميات كبيرة من خامات الحديد. (نشاط اقتصادي أقل ربحاً لأنه يعتمد على انتاج المواد الخام رخيصة الثمن)
- ٤_ تعدين خامات الحديد وتصنيع الآلات والمعدات. (نشاط اقتصادي رابح لأنه يعتمد على انتاج مواد مصنعة غالية الثمن)
- ٥_ تصنيع أدوات كهربائية والإلكترونية. (نشاط اقتصادي رابح لأنه يعتمد على انتاج مواد مصنعة غالية الثمن)
- ٦_ حفر واستخراج الصخور وتصنيع مواد البناء منه. (نشاط اقتصادي رابح لأنه يعتمد على انتاج مواد مصنعة غالية الثمن)
- ٧_ تصنيع الألبسة الجاهزة. (نشاط اقتصادي رابح لأنه يعتمد على انتاج مواد مصنعة غالية الثمن)

❖ أقرأ النص الآتي ثم أجب عن الأسئلة :

انتجت محافظة طرطوس نحو ٣٠٠ ألف طن من الحمضيات لعام ٢٠١٨م وقد استهلك السكان في المحافظة ١٠٠ ألف طن من الإنتاج وباع المزارعون نحو ٥٠ طن منه إلى باقي المحافظات وبقي لديهم كميات كبيرة تقدر ب ١٥٠ ألف طناً.

■ ما هي طرق تصريف الفائض من الإنتاج؟ وماهي الطريقة الأفضل برأيك؟

١_ التصنيع في معامل العصير الطبيعي - ٢_ الخزن والتبريد - ٣_ إغراق الأسواق المحلية بالمنتج بعد تخفيض أسعاره.

■ ما أسباب اختيار إنتاج العصائر الطبيعية ؟

١_ توفر المادة الخام بنوعية مناسبة للعصير.

٢_ توفر اليد العاملة.

٣_ وجود أسواق محلية وخارجية.

٤_ ارتفاع الجدوى الاقتصادية من تصنيع الحمضيات عصيراً

■ لماذا تعتبر الطرق الأخرى لتصريف انتاج غير مناسبة؟

غرف التبريد و التخزين تحتاج إلى تزويد مستمر بالكهرباء اللازمة لعمليات التبريد وحفظ الثمار من التلف وهذا يفرض تكاليف إضافية . *
وتؤدي سياسة إغراق الأسواق بالحمضيات وتخفيض أسعارها إلى ما دون أسعار التكلفة إلى خسارة كبيرة في أرباح المزارعين من الإنتاج وهذا قد ينتج عنه عدم زراعة الحمضيات والاتجاه نحو محاصيل أكثر ربحاً

■ اقترح طرائق جديدة لتصريف فائض الإنتاج تحقق مبدأ الجدوى الاقتصادية :

١_ تصدير فائض الإنتاج إلى الدول المجاورة

٢_ استخدامها في صناعات جديدة مثل المعلبات أو مستحضرات التجميل

❖ العوامل المؤثرة في قيام صناعة رابحة

اليد العاملة	الأسواق	مصادر الطاقة	المادة الخام	وسائل النقل
--------------	---------	--------------	--------------	-------------

❖ ما هي أشكال التوزيع الجغرافي للصناعات؟

١. مناطق مبعثرة: مناطق صناعية أو معامل منفردة في ضواحي المدن والأرياف (مصانع الأدوية)
٢. قرب مواقع استخراج المواد الخام: بسبب ارتفاع تكاليف النقل للمواد الخام ثقيلة الوزن (أفران صهر الحديد - تكرير النفط) أو بسبب أن المواد الخام سريعة التلف (معاصر قصب السكر)
٣. مصانع قرب المدن الكبرى: لسهولة النقل والتسويق والطلب المتزايد (الألبسة الجاهزة - الألبان - المثلجات)
٤. قرب مواقع استخراج الطاقة: الصناعات التي تستهلك كميات كبيرة من الطاقة (صناعة الألمونيوم بالقرب من السدود)
٥. قرب طرق المواصلات الرئيسية والموانئ البحرية: صناعات ثقيلة تتركز قرب الموانئ لسهولة الحصول على المواد الخام وتصريف الإنتاج (صناعة السفن)

❖ فسر أهمية الشوندر السكري؟ المحصول الوحيد في سورية الذي يعتمد عليه لإنتاج السكر - ثاني المحاصيل الصناعية بعد القطن

❖ فسر يجب إنشاء معامل السكر بالقرب من مناطق زراعة الشوندر السكري؟

لأن أي تأخير في عملية القلع بعد النضج يؤدي إلى خفض محتوى السكر في الجذور فضلاً عن أنها تتعرض للعفن والتلف إذا لم يبدأ بتصنيعها بعد اقتلاعها .

❖ ما الصعوبات التي تعترض تصنيع السكر والحلول المقترحة لها؟

المشكلات	الحلول المقترحة
عدم كفاية انتاج الشوندر للطاقة الفعلية للمعمل الموجود في المنطقة	زيادة زراعة الشوندر السكري بالقرب من المعمل
جلب الشوندر من المحافظات القريبة	إقامة معامل بالقرب من مكان زراعة الشوندر
تدني مواصفات الشوندر الوارد من مسافات بعيدة عن المعمل	حماية الشوندر ضمن برادات ونقله بسرعة
ارتفاع أجور النقل ورفع كلفة الإنتاج	تأمين مواصلات سريعة بأجور مقبولة
عدم انتظام توريد الشوندر من المناطق المجاورة	تنظيم جدول يحدد مواعيد استلام الشوندر من المناطق المجاورة

الدرس الثالث: مفاتيح تبادل تجاري دولي رقمي

وحدة الاقتصاد

❖ ما أهمية تدمير التجارة قديماً ؟ أو ما أثر المبادلات التجارية في الازدهار الاقتصادي في مملكة تدمر ؟
موقعها على طريق الحرير - كان لها مبادلات تجارية مع حضارات العالم القديم - خدمة القوافل وحمايتها مقابل رسوم مالية تحصلها بموجب القانون التدمري (التعرفة الجمركية) - اتسمت بامتلاكها منطقة للتجارة الحرة

❖ اقرأ النص التالي ثم أجب

تفتقر اليابان إلى الكثير من الموارد الطبيعية ولا سيما (المعادن ، الفحم الحجري ،) وتنتج من النفط ٦٠٠ ألف طن سنوياً وهو ما يعادل استهلاكها في يوم واحد إذ يقدر الاستهلاك السنوي ب ٢٠٠ مليون طن ومع ذلك تسهم ب ١٠ % من الإنتاج الصناعي العالمي وهذا جعلها ثاني قوة صناعية في العالم.

- ❑ كيف استطاعت اليابان سد احتياجاتها من النفط ؟ اعتمدت على تخصيص جزء من إيرادات صادراتها لاستيراد النفط الخام
- ❑ كيف حصلت اليابان على الترتيب الثاني عالمياً في القوة الصناعية ؟

حيوية الشعب الياباني ودقته ومهارته - دعم الدولة مالياً وعلمياً وتجارياً لتصبح ثالث أكبر اقتصاد في العالم - التخصص بصناعة منتجات عالية الثمن وعالية الدقة - الأولى بصناعة السفن وإنتاج الصلب وتقدم العالم في إنتاج الروبوت

❖ اقرأ النص التالي ثم أجب:

اعتمدت الحكومات المتعاقبة في اليابان على هذه الساسية لتجارتها إذ توسعت بأسواقها الداخلية وقدمت تسهيلات لتدفق رؤوس الأموال الأجنبية للاستثمار فيها وتحسين شروط تعاملاتها المالية وخفض تعرفتها الجمركية على الواردات وهذا خلق فرص عمل جديدة وزيادة مصادر الدخل المختلفة ليرتفع مستوى معيشة سكانها وتخصصت بصناعة منتجات عالية الثمن عالية الدقة وتصديرها لسد حاجة الأسواق العالمية للحصول على النقد الأجنبي وتمويل استيراد المواد الخام اللازمة لصناعتها .

١_ ما أثر التجارة اليابانية في تنمية الأنشطة الاقتصادية ؟ توسعت بأسواقها الداخلية وخلق فرص عمل جديدة

٢_ ما أثر التجارة اليابانية في الدخل الوطني ؟ زيادة مصادر الدخل المختلفة وزيادة مستوى معيشة سكانها

٣_ أفسر الميزان التجاري الربح لليابان ؟ لأنها تخصصت بصناعة منتجات عالية الدقة وغالبية الثمن وتصديرها لسد حاجة الأسواق العالمية في حين تستورد المواد الخام بأسعار رخيصة.

٤_ أستنتج مما سبق العوامل المؤثرة في قيام تجارة دولية ؟ خفض التعرفة الجمركية - تقديم تسهيلات لتدفق رؤوس الأموال الأجنبية - تحسين شروط المعاملات المالية

٥_ أستنتج أهمية التجارة الدولية مستفيداً من تجربة اليابان ؟ زيادة خزينة الدولة - ازدهار الاقتصاد وتطوره - تجعل الميزان التجاري ربح

❖ ما هي ميزات النفط العربي ؟ جودته _ غزارة آباره _ قربها من السطح ومن موانئ التصدير _ انخفاض تكاليف انتاجه

❖ أستنتج أثر انخفاض تكاليف الإنتاج في الأسواق العالمية ؟ انخفاض تكاليف الإنتاج تؤدي إلى انخفاض سعر المنتج وزيادة الطلب عليه

❖ أفسر أثر القوة الشرائية للسكان في التسوق وطلب المنتجات وأنواعها ؟

كلما زادت القوة الشرائية للسكان ازداد الطلب على المنتجات بمختلف أنواعها بما فيها الكماليات أما في حال انخفضت القوة الشرائية قل الطلب على المنتجات وأقتصر على الضروريات

❖ استنتج كيف أسهمت التجارة الالكترونية في تقارب الأسواق العالمية ذات البعد الجغرافي ؟ أسهمت بالتعرف على البضائع والمنتجات في مختلف البلدان وشراء السلع عن طريق الشبكة



❖ أكمل الجدول بفوائد التجارة الالكترونية :

الاقتصادية	الاجتماعية	البيئية
زيادة إنتاجية كل النشاطات الاقتصادية المختلفة	فرص عمل لربات البيوت والتمتعدين وذوي الاحتياجات الخاصة	تقلل الازدحام المروري
نمو الأسواق	تحسين مستوى المعيشة	تقليل التلوث

❖ ماهي خطوات التسويق الالكتروني ؟

إنشاء موقع الكتروني - تحميل الصور والفيديوهات عن المنتج - تقديم عروض عن المنتج - الحرص على أن يكون على الصفحات الأولى لنتائج البحث - اختيار أشهر المنصات لإطلاق الحملة الدعائية - التواجد بشكل دائم على الشبكات الاجتماعية

وحدة الاقتصاد الدرس الرابع: بين بنية المكان وعقوبة الإنسان في الهندسة

❖ ماهي شروط إنشاء طرق النقل البري:

أن تقام على أرض منبسطة - أن تحقق فائدة اقتصادية - أن توفر عنصر الأمان ملاحظة: النقل بالسكك الحديدية أرخص من النقل بالسيارات وأقل تأثراً بالعوامل المناخية

❖ ما هي شروط إنشاء طرق النقل النهري ؟

مرور النهر في مناطق قليلة الانحدار حيث يتسع مجراه - خلو المجرى النهري من العوائق كالجليد - توفر عنصر الأمان - يحقق فائدة اقتصادية.

❖ فسّر: يعد نهر السانت لورنس أعظم طريق للنقل النهري في أمريكا الشمالية، في حين لا يستعمل نهر كولورادو في الملاحة النهرية

لأن نهر السانت لورنس يمر من منطقة سهلية ومجراه واسع وخالي من العوائق ويتوفر فيه عنصر الأمان. أما نهر كولورادو يمر ضمن منطقة جبلية شديدة الانحدار ومجراه ضيق.

❖ أبين تأثير التحول إلى السكك الحديدية في أسعار خامات الحديد ثم أعلل إجابتي ؟

يرتفع سعر خام الحديد بسبب ارتفاع أجور النقل لأن النقل بالسكك الحديدية تكاليفه أكبر من النقل النهري

وحدة الاقتصاد الدرس الخامس: السياحة

❖ ما أنواع السياحة وفق المكان

السياحة الداخلية: هي سفر الفرد الواحد ضمن حدود دولته لمدة زمنية قصيرة. - السياحة الخارجية: هي تجوال الفرد وسفره إلى مناطق خارج حدود دولته لمدة زمنية لا تزيد على العام.

❖ ما وجباتك كسائح ؟

مراعاة طبيعة المجتمع وعاداته وتقاليده - تجنب الإساءة إلى الذوق العام - تقديم صورة جيدة عن بلدك

أنواع السياحة حسب النشاط (الشرح للتوضيح والفهم فقط)

السياحة الثقافية	هي زيارة المواقع الأثرية والمعالم التاريخية والمتاحف، فضلاً عن تعرف عادات وتقاليد الشعوب من غناء ورقص وأزياء شعبية تُعرف باسم الفولكلور الشعبي.
السياحة العلاجية	هي السفر بهدف العلاج والاستجمام إلى أماكن تتمتع بخصائص علاجية طبيعية كالمياه المعدنية الحارة، أو إلى دول متقدمة طبيياً تمتلك تقنيات علاجية متطورة.
السياحة البيئية	هي زيارة المناطق الطبيعية دون إحداث أي ضرر للنظام البيئي، وتهدف إلى زيادة الوعي البيئي والثقافي لأهمية هذه المناطق، وأكثرها انتشاراً هو زيارة المحميات الطبيعية.
السياحة الدينية	هي السفر بهدف الحج أو زيارة الأماكن المقدسة.
السياحة الرياضية	هي السفر للتمتع بمشاهدة الألعاب الرياضية المختلفة، أو زيارة معالم رياضية مشهورة، أو حتى المشاركة في هذه الألعاب.
سياحة المؤتمرات والأعمال	ويقصد بها السفر لهدف مهني بغرض حضور المعارض والمؤتمرات وما يرافقه من نشاطات متنوعة كالحجز في الفنادق والقيام بنشاطات سياحية مرافقة.
السياحة الترفيهية	هي السفر بغرض الاستجمام والترفيه والترويح عن النفس إلى وجهات تتمتع بمقومات طبيعية وخدمية متنوعة.
سياحة المغامرات	يقوم بعض المغامرون بتجارب خطيرة وممتعة في الوقت نفسه، وتحتاج إلى قوة جسدية وتدريب كبير قبل القيام بهذا النوع، مثل تسلق الجبال وركوب الأمواج والقفز المظلي.
السياحة التعليمية	وهي نشاط سياحي تهدف لاكتساب الخبرة في التعليم والنمو الفكري وتلمية المهارات عن طريق الرحلات المدرسية أو الرحلات العلمية أو دورات اللغة.

لنتهض ببلدنا سياحياً

عرّفت منظمة الأمم المتحدة للتربية والتعليم والثقافة (اليونسكو) التراث بأنه: «تراث الماضي لنا، والتي نعيش معها ونمررها إلى أجيال المستقبل، إذ إن التراث الثقافي والطبيعي يتميز بالعالمية، فهذه الأماكن هي لكل إنسان في العالم بغض النظر عن مكان وجوده الجغرافي في العالم.»

وقد وضعت المنظمة أربعة معايير طبيعية لإدراج موقع طبيعي ما ضمن لائحة التراث الطبيعي العالمي ويجب على الموقع المرشح أن يستوفي واحداً منها على الأقل لإدراجه على القائمة. وهذه المعايير هي:

- 1- أن يمتلك الموقع جمالاً طبيعياً استثنائياً.
- 2- أن يمتلك أمثلة بارزة على مراحل من تاريخ الأرض تبين تاريخاً جيولوجياً واضحاً.
- 3- أن يمتلك أمثلة بارزة بيئية وبيولوجية ومياهاً عذبة ساحلية بحرية.
- 4- أن يكون موئلاً لأنواع حيوانية أو نباتية مهددة بالانقراض وذات قيمة عالمية فريدة من وجهة نظر العلم.

محمية الفرنلق من أهم المواقع للسياحة البيئية في سورية تقع محمية الفرنلق شمال مدينة اللاذقية، وتعد الغابة الأكثر اكتمالاً في سورية، تتميز بأنها نشأت على أنواع من الصخور الاندفاعية الخضراء النادرة الوجود في سورية، وتحوي أنواعاً نباتية متنوعة أهمها السنديان والصنوبر، وأنواعاً من الحيوانات البرية كالذئاب والغزلان والأرانب وبعض أنواع الطيور النادرة.

■ برأيك هل يمكن إدراج محمية الفرنلق على لائحة التراث الطبيعي العالمي، أعلل إجابتي.

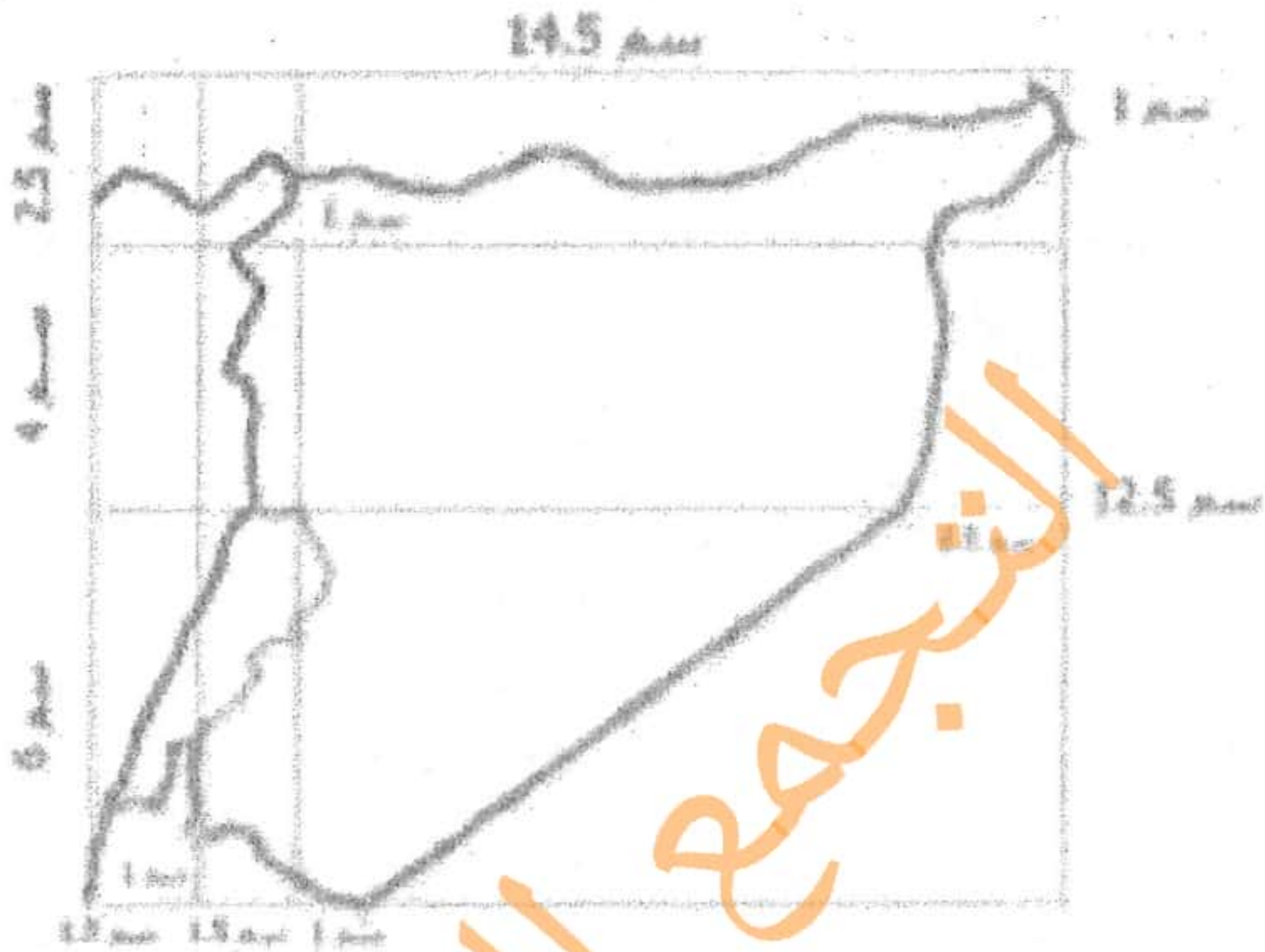
نعم، لأنها تعد الغابة الأكثر اكتمالاً في سورية، فيها الكثير من المظاهر الطبيعية النادرة كما تحتوي على نباتات متنوعة وحيوانات برية نادرة.

■ ماذا يجب علينا وعلى العالم في حال إدراج محمية الفرنلق على لائحة التراث العالمي؟

حماية من التلوث. - تشجيع السياح على زيارتها. - بناء المنتجعات السياحية. - الدعاية والإعلام.

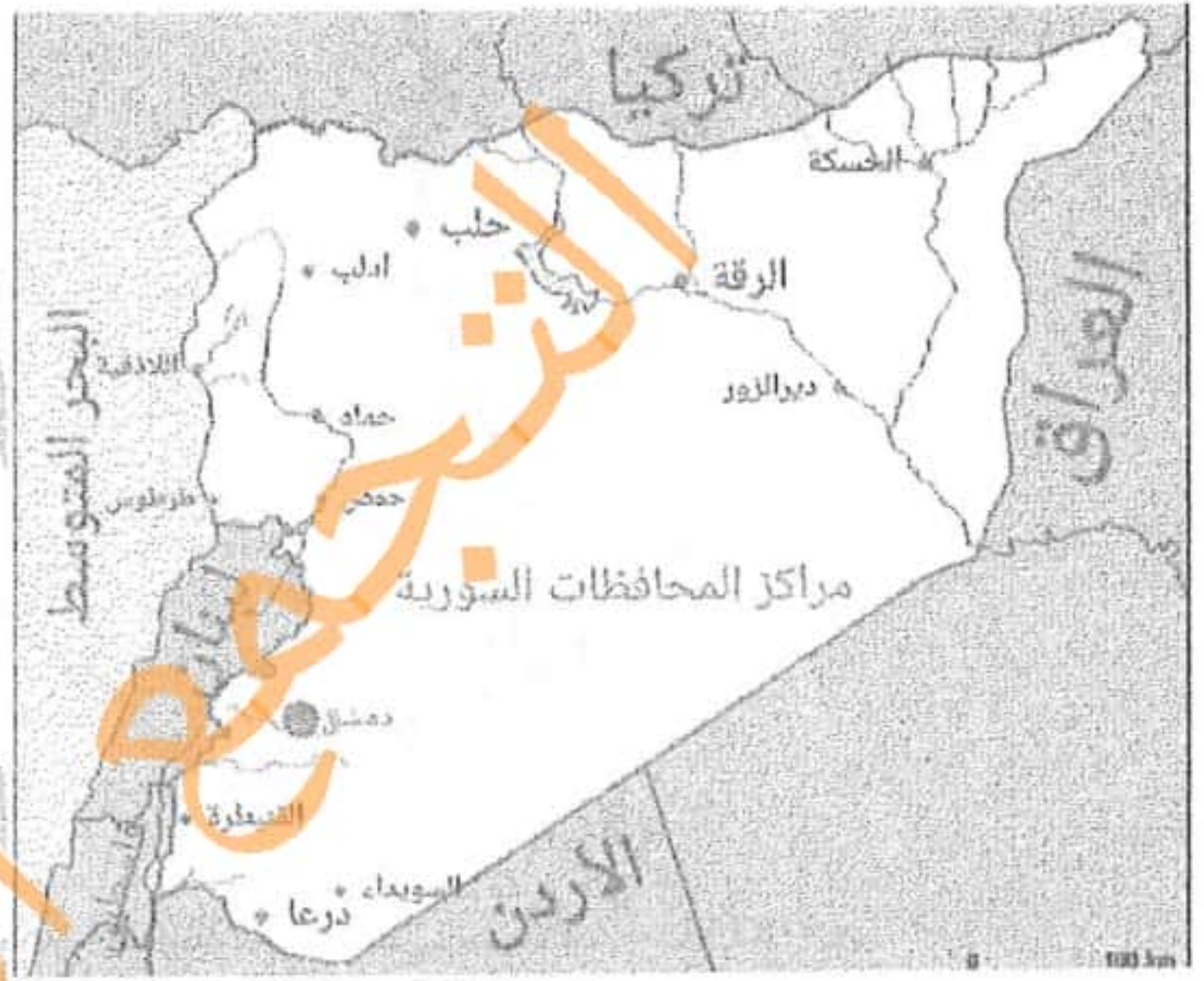
■ ما هو واجبنا الأخلاقي تجاه المناطق السياحية؟

المحافظة عليها من التلوث - عدم قطع الأشجار - وضع لوحات إرشادية - توعية الناس بضرورة المحافظة على المناطق السياحية.



الحدود البرية والبحرية مع مجرى الأنهار الرئيسية

الحدود البرية والبحرية مع مراكز المحافظات



أولاً - مسائل على حساب التوقيت في مدينة:

١. الساعة ١٥ في مدينة هونغ كونغ الواقعة على خط طول ١١٤ شرق غرينتش، كم تكون الساعة في مدينة أبو ظبي الواقعة على خط طول ٥٤ شرق غرينتش؟

.....
.....

٢. الساعة ١٠ صباحاً في مدينة الرقة الواقعة على خط طول ٣٩ شرق غرينتش، كم تكون الساعة في مدينة تشانغ مي الواقعة على خط طول ٩٩ شرق غرينتش؟

.....
.....

٣. الساعة ١١ صباحاً في مدينة أبو ظبي الواقعة على خط طول ٥٤ شرق غرينتش، كم تكون الساعة في مدينة الرباط الواقعة على خط طول ٦ غرب غرينتش؟

.....
.....

٤. الساعة ٩ صباحاً في مدينة تقع على خط طول ١٥ غرب غرينتش، كم تكون الساعة في مدينة تقع على خط طول ٧٥ شرق غرينتش؟

.....
.....

٥. الساعة ١٠ صباحاً في مدينة القدس الواقعة على خط طول ٣٠ شرق غرينتش، كم تكون الساعة في مدينة نيويورك الواقعة على خط طول ٧٥ غرب غرينتش؟

.....
.....

٦. إذا كانت الساعة ١٢ ظهراً في مدينة طهران الواقعة على خط طول ٥٠ شرق غرينتش، كم تكون الساعة في مكة الواقعة على خط طول ٤٠ شرق غرينتش؟

.....
.....

٧. إذا كانت الساعة ٩ صباحاً في مدينة صنعاء الواقعة على خط طول ٤٥ شرق غرينتش، كم تكون الساعة في مدينة نيويورك الواقعة على خط طول ٧٥ غرب غرينتش؟

.....
.....

٨. إذا كانت الساعة ١٢ ظهراً في مدينة لندن الواقعة على خط غرينتش، كم تكون الساعة في مدينة الإسكندرية الواقعة على خط طول ٣٠ شرق غرينتش؟

.....
.....

ثانياً - مسائل على حساب خط طول لمدينة:

١. إذا كانت الساعة ٨ صباحاً في مدينة تقع على خط طول ٤٥ شرق غرينتش، ما خط الطول الذي يمر من مدينة الساعة فيها ١١ صباحاً؟

٢. إذا كانت الساعة ٩ صباحاً في مدينة تقع على خط طول ٢٥ غرب غرينتش، ما خط الطول الذي يمر من مدينة الساعة فيها ١٢ ظهراً؟

٣. إذا كانت الساعة ١٠ صباحاً في مدينة تقع على خط طول ٤٠ شرق غرينتش، ما خط الطول الذي يمر من مدينة الساعة فيها ٩ صباحاً؟

٤. إذا كانت الساعة ١٤ في مدينة تقع على خط طول ٦٠ شرق غرينتش، ما خط الطول الذي يمر من مدينة الساعة فيها ١١ صباحاً؟

٥. إذا كانت الساعة ٧ صباحاً في مدينة تقع على خط طول ١٠ غرب غرينتش، ما خط الطول الذي يمر من مدينة الساعة فيها ٩ صباحاً؟

٦. إذا كانت الساعة ١١ صباحاً في مدينة تقع على خط طول ٣٩ شرق غرينتش، ما خط الطول الذي يمر من مدينة الساعة فيها ٧ صباحاً؟

٧. إذا كانت الساعة ١٠ صباحاً في مدينة تقع على خط طول ٢٥ شرق غرينتش، ما خط الطول الذي يمر من مدينة الساعة فيها ٨ صباحاً؟

٨. إذا كانت الساعة ٦ صباحاً في لندن الواقعة على خط غرينتش، ما خط الطول الذي يمر من مدينة الساعة فيها ٩ صباحاً؟