



بسم الله الرحمن الرحيم

ورقة عمل درس (تاريخ الخرائط وتطورها)

اسم الطالب : الصف : خامس /

س / ما المقصود بالخريطة ؟

ج /

س / ضع علامة (√) أمام العبارة الصحيحة وعلامة (×) أمام العبارة الخاطئة فيما يلي :

- ١ - يذكر المؤرخون أن الإنسان عرف الخرائط قبل معرفة الكتابة
- ٢ - كان البابليون في العراق والفرعون في مصر من أوائل من رسم الخرائط
- ٣ - أنشأ العالم المسلم محمد الإدريسي أول خريطة عالمية صحيحة مبنية وفق الأصول العلمية

س / اذكر اثنين من الفروق بين الخريطة الورقية والخريطة الرقمية :

- ١-
- ٢-



بسم الله الرحمن الرحيم

ورقة عمل درس (تاريخ الخرائط وتطورها)

اسم الطالب : الصف : خامس /

س / ما المقصود بالخريطة ؟

ج /

س / ضع علامة (√) أمام العبارة الصحيحة وعلامة (×) أمام العبارة الخاطئة فيما يلي :

- ١ - يذكر المؤرخون أن الإنسان عرف الخرائط قبل معرفة الكتابة
- ٢ - كان البابليون في العراق والفرعون في مصر من أوائل من رسم الخرائط
- ٣ - أنشأ العالم المسلم محمد الإدريسي أول خريطة عالمية صحيحة مبنية وفق الأصول العلمية

س / اذكر اثنين من الفروق بين الخريطة الورقية والخريطة الرقمية :

- ١-
- ٢-



بسم الله الرحمن الرحيم

ورقة عمل درس (السكان)

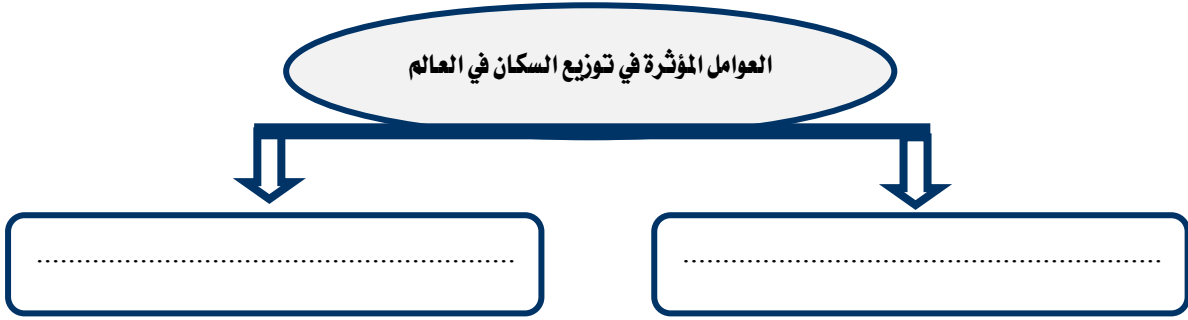
اسم الطالب : / الصف : خامس /

س / اختر الاجابة الصحيحة من بين الأقواس فيما يلي :

- (منتظماً - متفاوت - متساوي)
(أفريقيا - آسيا - أوروبا)
(آسيا - استراليا - افريقيا)
(أفريقيا - آسيا - أوروبا)

- ١ - يتوزع السكان توزيعاً
٢ - أكثر سكان العالم يسكن في قارة
٣ - يقل عدد السكان في قارة
٢ - أكثر سكان العالم يسكن في قارة

س / اذكر العوامل المؤثرة في توزيع السكان في العالم ؟



بسم الله الرحمن الرحيم

ورقة عمل درس (السكان)

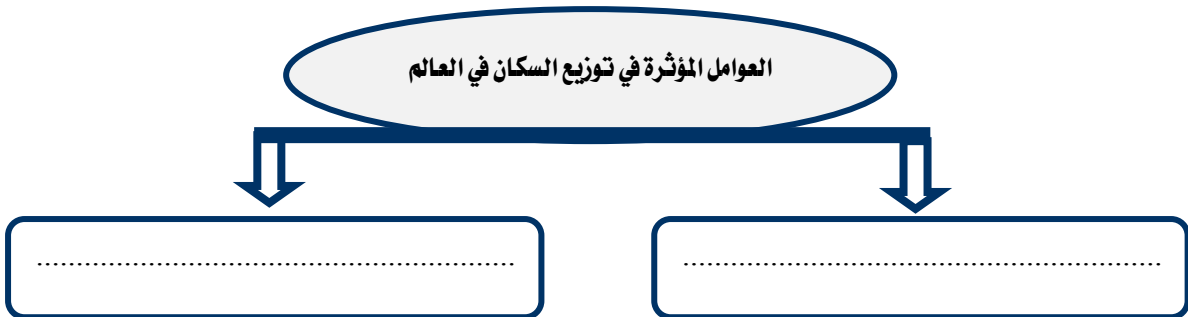
اسم الطالب : / الصف : خامس /

س / اختر الاجابة الصحيحة من بين الأقواس فيما يلي :

- (منتظماً - متفاوت - متساوي)
(أفريقيا - آسيا - أوروبا)
(آسيا - استراليا - افريقيا)
(أفريقيا - آسيا - أوروبا)

- ١ - يتوزع السكان توزيعاً
٢ - أكثر سكان العالم يسكن في قارة
٣ - يقل عدد السكان في قارة
٢ - أكثر سكان العالم يسكن في قارة

س / اذكر العوامل المؤثرة في توزيع السكان في العالم ؟





سم الله الرحمن الرحيم

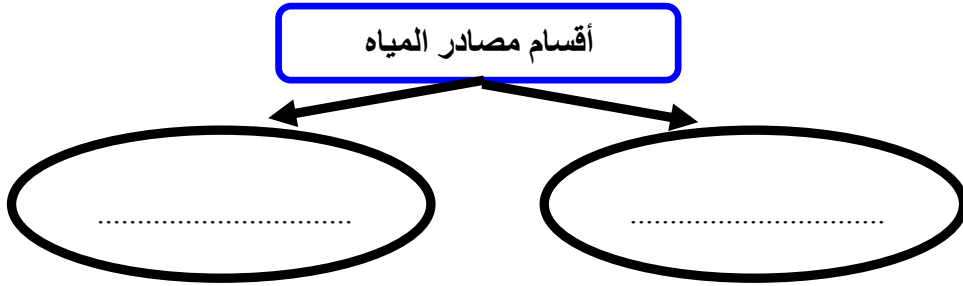
ورقة عمل درس (توزيع السكان – العوامل الطبيعية : التضاريس والمياه)

اسم الطالب : الصف : خامس /

س / اكمل الفراغات التالية بما يناسب ؟

- يكثّر السكان في و غير الوعرة ، في حين وجود السكان كلما زاد التضاريس وزادت وعورتها .

س / تنقسم مصادر المياه إلى قسمين اذكرها؟



س / ما مناطق المائيّة في وطني المملكة العربية السعودية الجاذبة للسكان ؟

ج /



سم الله الرحمن الرحيم

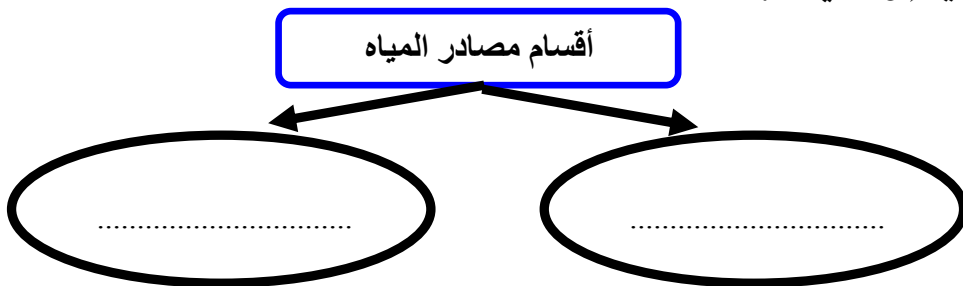
ورقة عمل درس (توزيع السكان – العوامل الطبيعية : التضاريس والمياه)

اسم الطالب : الصف : خامس /

س / اكمل الفراغات التالية بما يناسب ؟

- يكثّر السكان في و غير الوعرة ، في حين وجود السكان كلما زاد التضاريس وزادت وعورتها .

س / تنقسم مصادر المياه إلى قسمين اذكرها؟



س / ما مناطق المائيّة في وطني المملكة العربية السعودية الجاذبة للسكان ؟

ج /



بسم الله الرحمن الرحيم

ورقة عمل درس (توزيع السكان – العوامل الطبيعية : المناخ والموارد)

اسم الطالب : الصف : خامس /

س / ضع علامة (√) أمام العبارة الصحيحة وعلامة (×) أمام العبارة الخاطئة فيما يلي :

- ١ – تزداد الكثافة السكانية في المناطق القطبية
- ٢ – تنقل الكثافة السكانية في الصحارى الحارة
- ٣ – يبتعد الإنسان عن المناطق الاستوائية بسبب ارتفاع رطوبة الجو

س / تنقسم الموارد الطبيعية إلى قسمين أذكرها؟

..... / ١

..... / ٢



بسم الله الرحمن الرحيم

ورقة عمل درس (توزيع السكان – العوامل الطبيعية : المناخ والموارد)

اسم الطالب : الصف : خامس /

س / ضع علامة (√) أمام العبارة الصحيحة وعلامة (×) أمام العبارة الخاطئة فيما يلي :

- ١ – تزداد الكثافة السكانية في المناطق القطبية
- ٢ – تنقل الكثافة السكانية في الصحارى الحارة
- ٣ – يبتعد الإنسان عن المناطق الاستوائية بسبب ارتفاع رطوبة الجو

س / تنقسم الموارد الطبيعية إلى قسمين أذكرها؟

..... / ١

..... / ٢

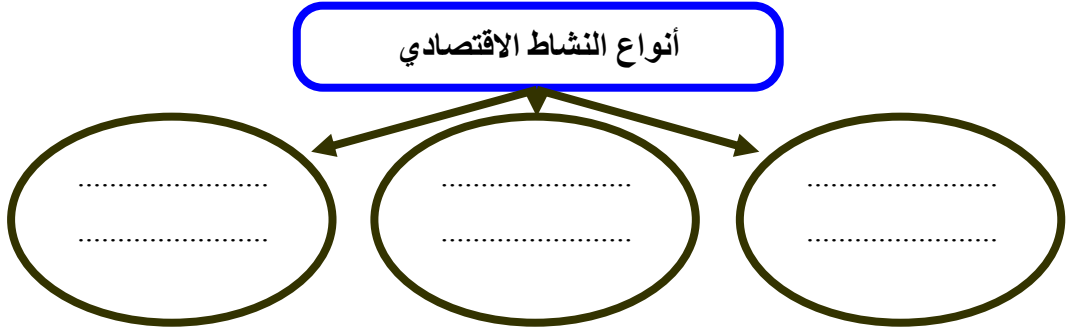


بسم الله الرحمن الرحيم

ورقة عمل درس (توزيع السكان – العوامل البشرية)

اسم الطالب : الصف : خامس /

س / ينقسم النشاط الاقتصادي الى ثلاثة أنواع اذكرها ؟



س / ضع علامة (√) أمام العبارة الصحيحة وعلامة (×) أمام العبارة الخاطئة فيما يلي :

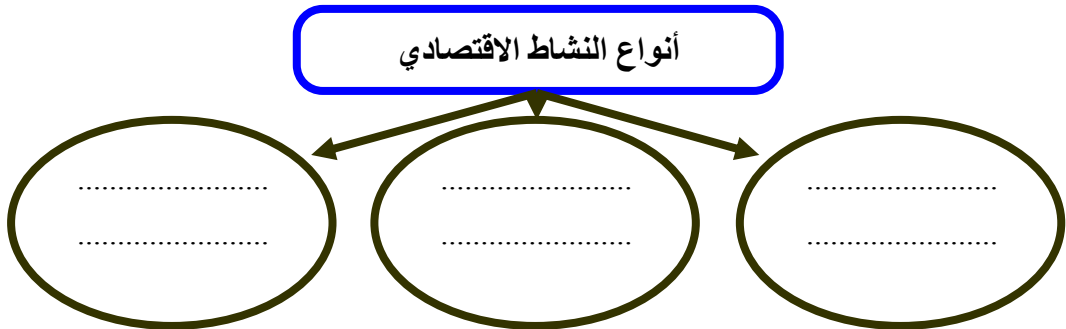
- ١ – النشاط الاقتصادي هو الاعمال والجهود التي يؤديها الإنسان ؛ لتلبية احتياجاته الأساسية
- ٢ – تعد النزاعات والحروب أحد أهم العوامل المؤثرة في توزيع السكان
- ٣ – الأمن سبب رئيسي في استقرار السكان وجذبهم

بسم الله الرحمن الرحيم

ورقة عمل درس (توزيع السكان – العوامل البشرية)

اسم الطالب : الصف : خامس /

س / ينقسم النشاط الاقتصادي الى ثلاثة أنواع اذكرها ؟



س / ضع علامة (√) أمام العبارة الصحيحة وعلامة (×) أمام العبارة الخاطئة فيما يلي :

- ١ – النشاط الاقتصادي هو الاعمال والجهود التي يؤديها الإنسان ؛ لتلبية احتياجاته الأساسية
- ٢ – تعد النزاعات والحروب أحد أهم العوامل المؤثرة في توزيع السكان
- ٣ – الأمن سبب رئيسي في استقرار السكان وجذبهم

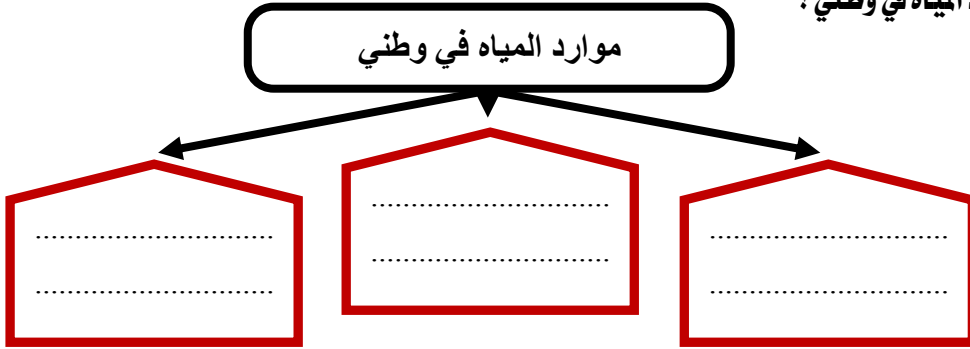


بسم الله الرحمن الرحيم

ورقة عمل درس (المياه)

اسم الطالب : الصف : خامس /

س / اذكر موارد المياه في وطني ؟



س / ما واجبنا تجاه نعمة المياه ؟

ج /

س / كيف نحافظ على الثروة المائية :

١-

٢-

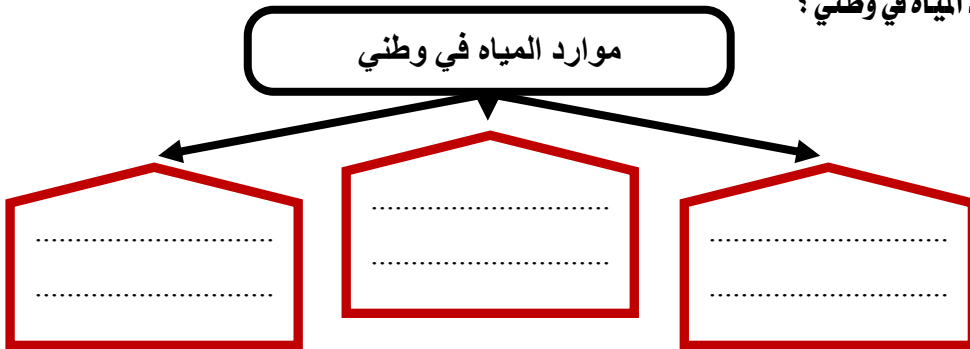


بسم الله الرحمن الرحيم

ورقة عمل درس (المياه)

اسم الطالب : الصف : خامس /

س / اذكر موارد المياه في وطني ؟



س / ما واجبنا تجاه نعمة المياه ؟

ج /

س / كيف نحافظ على الثروة المائية :

١-

٢-

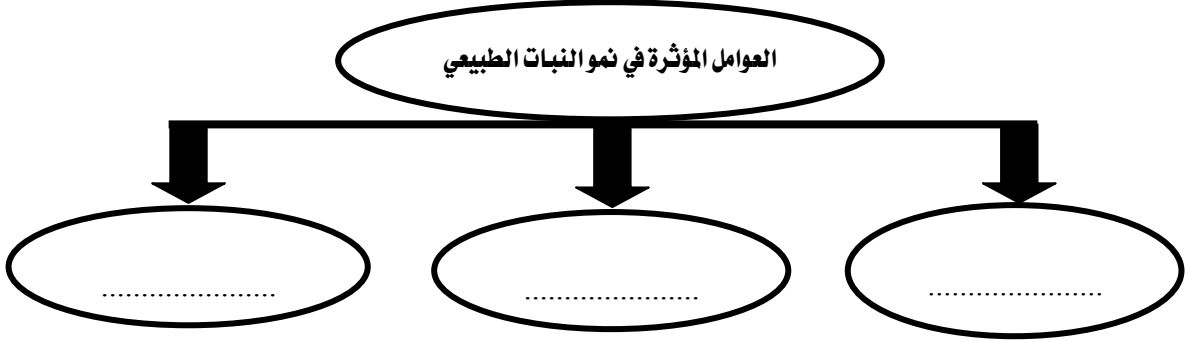


بسم الله الرحمن الرحيم
ورقة عمل درس (النبات الطبيعي)

اسم الطالب : الصف : خامس /

س / تتأثر النباتات الطبيعية في وطني المملكة العربية السعودية بأحواله المناخية ؛ لذا تتنوع إلى نوعين أذكرهما :

س / اذكر العوامل المؤثرة في نمو النبات الطبيعي :



س / اذكر أسماء نباتات تنمو في منطقتك ؟

ج /

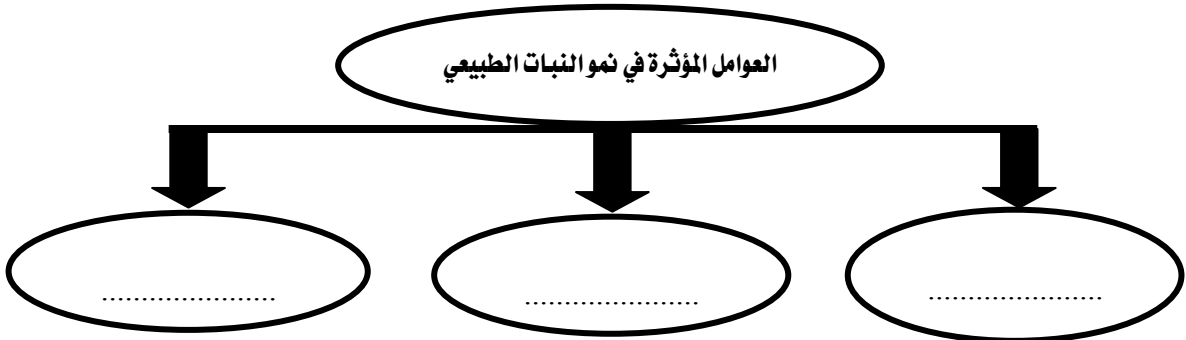


بسم الله الرحمن الرحيم
ورقة عمل درس (النبات الطبيعي)

اسم الطالب : الصف : خامس /

س / تتأثر النباتات الطبيعية في وطني المملكة العربية السعودية بأحواله المناخية ؛ لذا تتنوع إلى نوعين أذكرهما :

س / اذكر العوامل المؤثرة في نمو النبات الطبيعي :



س / اذكر أسماء نباتات تنمو في منطقتك ؟

ج /



بسم الله الرحمن الرحيم
ورقة عمل درس (الثروة الحيوانية)

اسم الطالب : / الصف : خامس /

س / اذكر أسباب قلة الثروة الحيوانية في وطني المملكة العربية السعودية ؟

أسباب قلة الثروة الحيوانية في وطني

.....
----------------	----------------	----------------	----------------

س / اذكر أسباب تنمية الثروة الحيوانية ؟

٤	٣	٢	١
---------------------	---------------------	---------------------	---------------------



بسم الله الرحمن الرحيم
ورقة عمل درس (الثروة الحيوانية)

اسم الطالب : / الصف : خامس /

س / اذكر أسباب قلة الثروة الحيوانية في وطني المملكة العربية السعودية ؟

أسباب قلة الثروة الحيوانية في وطني

.....
----------------	----------------	----------------	----------------

س / اذكر أسباب تنمية الثروة الحيوانية ؟

٤	٣	٢	١
---------------------	---------------------	---------------------	---------------------



بسم الله الرحمن الرحيم
ورقة عمل درس (النفط والمعادن)

اسم الطالب : الصف : خامس /

س / أكمل الفراغات التالية بما يناسب :

- أ - يعد النفط من أهم الموارد في وطني المملكة العربية السعودية حيث يأتي في المركز عالمياً في الاحتياط منه
- ب - يعد حقل الغوار أكبر حقل نفطي في العالم ،
- كما يعد حقل السفانية أكبر حقل نفطي في العالم
- ج - معظم حقول النفط في وطني المملكة العربية السعودية هي في المنطقة

س / اذكر ثلاثة من أهم المعادن في وطني المملكة العربية السعودية :

أهم المعادن في وطني

.....
-------	-------	-------



بسم الله الرحمن الرحيم
ورقة عمل درس (النفط والمعادن)

اسم الطالب : الصف : خامس /

س / أكمل الفراغات التالية بما يناسب :

- أ - يعد النفط من أهم الموارد في وطني المملكة العربية السعودية حيث يأتي في المركز عالمياً في الاحتياط منه
- ب - يعد حقل الغوار أكبر حقل نفطي في العالم ،
- كما يعد حقل السفانية أكبر حقل نفطي في العالم
- ج - معظم حقول النفط في وطني المملكة العربية السعودية هي في المنطقة

س / اذكر ثلاثة من أهم المعادن في وطني المملكة العربية السعودية :

أهم المعادن في وطني

.....
-------	-------	-------



بسم الله الرحمن الرحيم
ورقة عمل درس (الزراعة والرعي)

اسم الطالب : / الصف : خامس /

س / اختر الاجابة الصحيحة من بين الأقواس فيما يلي :

- ١ - تأتي الزراعة في الصدارة بين (الأنشطة الاجتماعية - الأنشطة السكانية - الأنشطة الاقتصادية)
٢ - من عوامل نجاح الزراعة (الرمال - البحار - الأراضي الصالحة للزراعة)

س / ما أهم مشكلة تواجه الزراعة في وطني المملكة العربية السعودية ؟

ج /

س / اذكر اسباب تراجع حرفة الرعي في وطني المملكة العربية السعودية :

١-

٢ -

٣ -



بسم الله الرحمن الرحيم
ورقة عمل درس (الزراعة والرعي)

اسم الطالب : / الصف : خامس /

س / اختر الاجابة الصحيحة من بين الأقواس فيما يلي :

- ١ - تأتي الزراعة في الصدارة بين (الأنشطة الاجتماعية - الأنشطة السكانية - الأنشطة الاقتصادية)
٢ - من عوامل نجاح الزراعة (الرمال - البحار - الأراضي الصالحة للزراعة)

س / ما أهم مشكلة تواجه الزراعة في وطني المملكة العربية السعودية ؟

ج /

س / اذكر اسباب تراجع حرفة الرعي في وطني المملكة العربية السعودية :

١-

٢ -

٣ -



بسم الله الرحمن الرحيم

ورقة عمل درس (الصناعة والتجارة والخدمات)

اسم الطالب : الصف : خامس /

س / ما المقصود بالصناعة؟

ج /

س / عدد أهم مقومات الصناعة؟

أهم مقومات الصناعة

.....
----------------	----------------	----------------	----------------	----------------	----------------

س / عدد أربعة من أهم الصناعات في وطني المملكة العربية السعودية :

ج / ١ - ٢ -

٣ - ٤ -

س / تنقسم التجارة إلى نوعين اذكرهما؟

أنواع التجارة

.....
-------	-------



بسم الله الرحمن الرحيم

ورقة عمل درس (الصناعة والتجارة والخدمات)

اسم الطالب : الصف : خامس /

س / ما المقصود بالصناعة؟

ج /

س / عدد أهم مقومات الصناعة؟

أهم مقومات الصناعة

.....
----------------	----------------	----------------	----------------	----------------	----------------

س / عدد أربعة من أهم الصناعات في وطني المملكة العربية السعودية :

ج / ١ - ٢ -

٣ - ٤ -

س / تنقسم التجارة إلى نوعين اذكرهما؟

أنواع التجارة

.....
-------	-------