



مدونة المناهج السعودية

<https://eduschool40.blog>

الموقع التعليمي لجميع المراحل الدراسية

في المملكة العربية السعودية

حل واجب الاقتصاد الجزئي لجميع الشعب

يمثل الجدول التالي الكميات المطلوبة من البيبيسي لمستهلكين والكميات المعروضة من البيبيسي عند أسعار مختلفة.

السعر	الكميات المطلوبة للمستهلك 1	الكميات المطلوبة للمستهلك 2	الكميات المطلوبة للمستهلك 3	طلب السوق Qd	الكميات المعروضة للمنتج 1	الكميات المعروضة للمنتج 2	الكميات المعروضة للمنتج 3	عرض السوق Qs
١ ريال	80	140	70	290	50	90	30	170
٢ ريال	70	130	60	260	60	100	40	200
٣ ريال	60	120	50	230	70	110	50	230
٤ ريال	50	110	40	200	80	120	60	260
٥ ريال	40	100	30	170	90	130	70	290
٦ ريال	30	90	20	140	100	140	80	320

١. أكمل الجدول السابق وذلك بحساب طلب السوق وعرض السوق (اجب على الجدول):

تم اكمال الجدول وذلك عن طريق حساب طلب السوق وعرض السوق.
طريقة حساب طلب السوق:

جمع الكميات المطلوبة للمستهلك ١ و ٢ و ٣ عند الأسعار المختلفة وهي كالتالي:
عند السعر ١ ريال الكميات المطلوبة كانت: $80 + 140 + 70 = 290$
عند السعر ٢ ريال الكميات المطلوبة كانت: $70 + 130 + 60 = 260$
وهكذا حتى الوصول الى سعر ٦ ريال

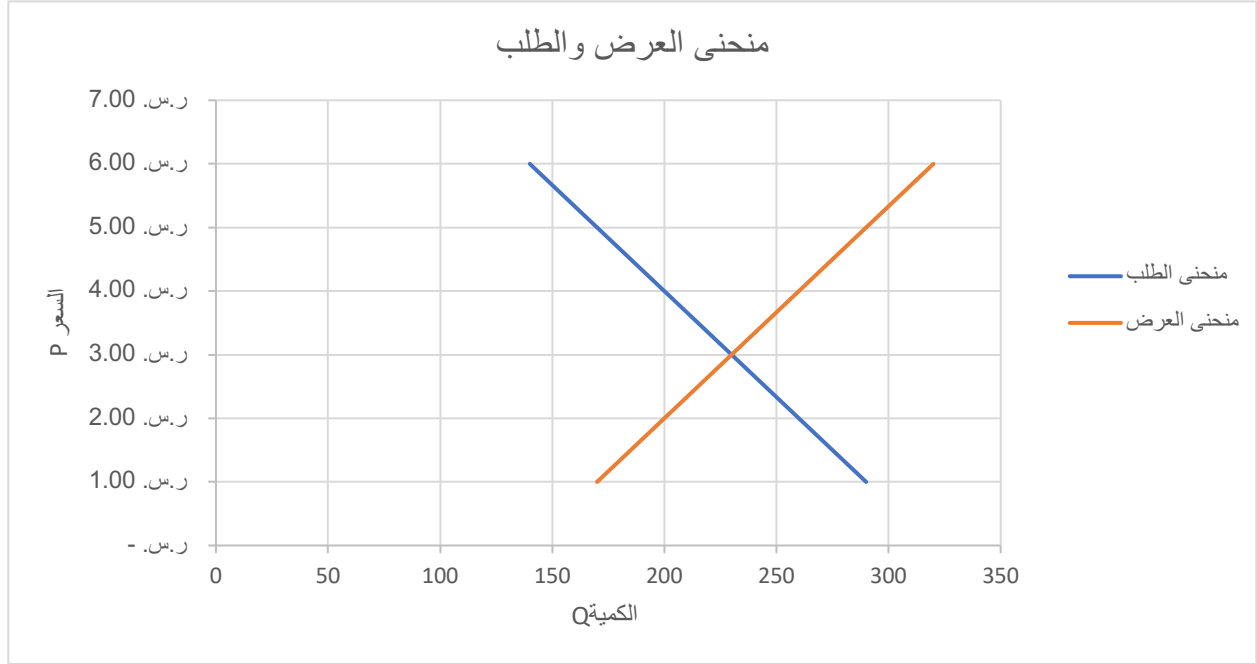
طريقة حساب عرض السوق:

جمع الكميات المعروضة للمنتج ١ و ٢ و ٣ عند الأسعار المختلفة وهي كالتالي:
عند السعر ١ ريال الكميات المعروضة كانت: $30 + 90 + 50 = 170$
عند السعر ٢ ريال الكميات المعروضة كانت: $40 + 100 + 60 = 200$
وهكذا حتى الوصول الى سعر ٦ ريال

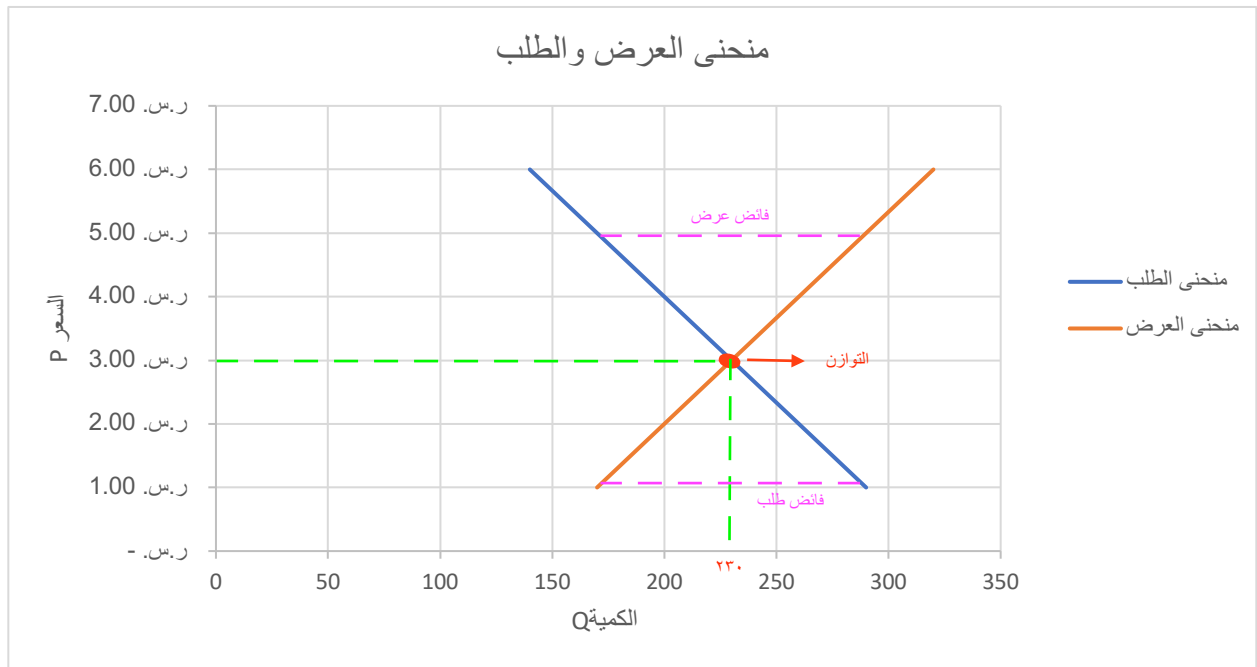
يحصل التوازن عند سعر ٣ ريال حيث ان الكمية المطلوبة تساوي ٢٣٠ والكمية المعروضة ٢٣٠

حل واجب الاقتصاد الجزئي لجميع الشعب

٢. ارسم منحنى طلب السوق ومنحنى عرض السوق (في رسمة واحدة)



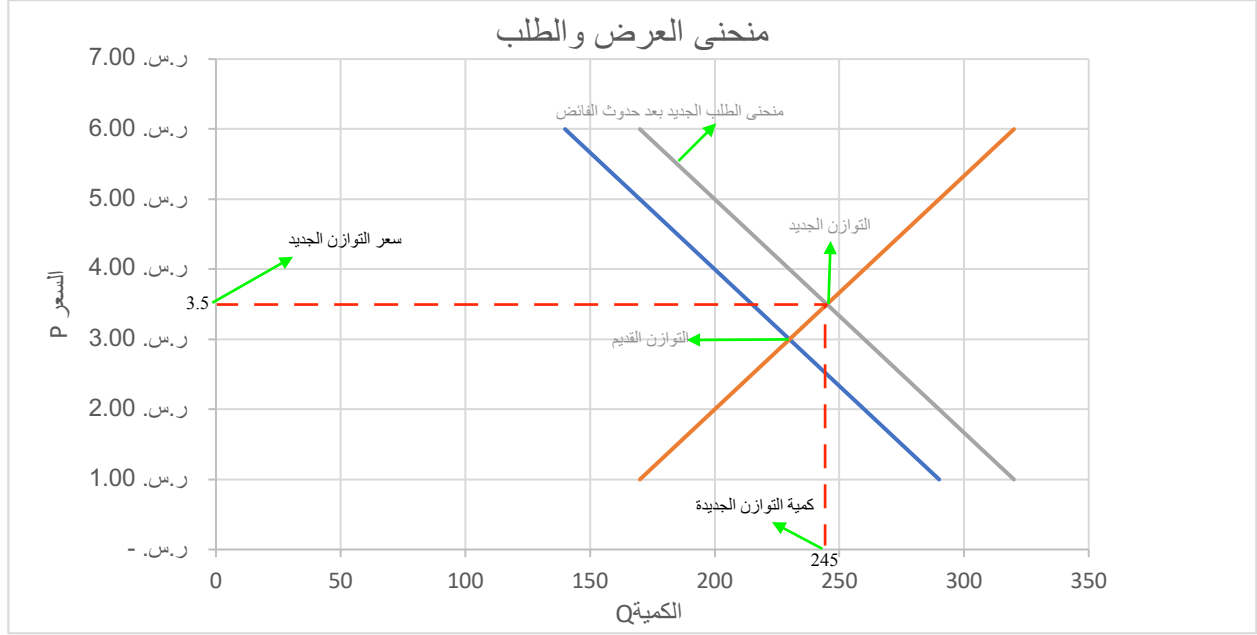
٣. حدد على الجدول وعلى الرسم نقطة توازن السوق؟ (ما هو سعر التوازن وكمية التوازن)؟ ثم على الرسم حدد الفائض في الطلب والفائض في العرض؟
تم التحديد على الجدول وعلى الرسم، سعر التوازن هو ٣ ريال وكمية التوازن هي ٢٣٠ علبة بيبسي وتم تحديد فائض الطلب والعرض على الرسم



حل واجب الاقتصاد الجزئي لجميع الشعب

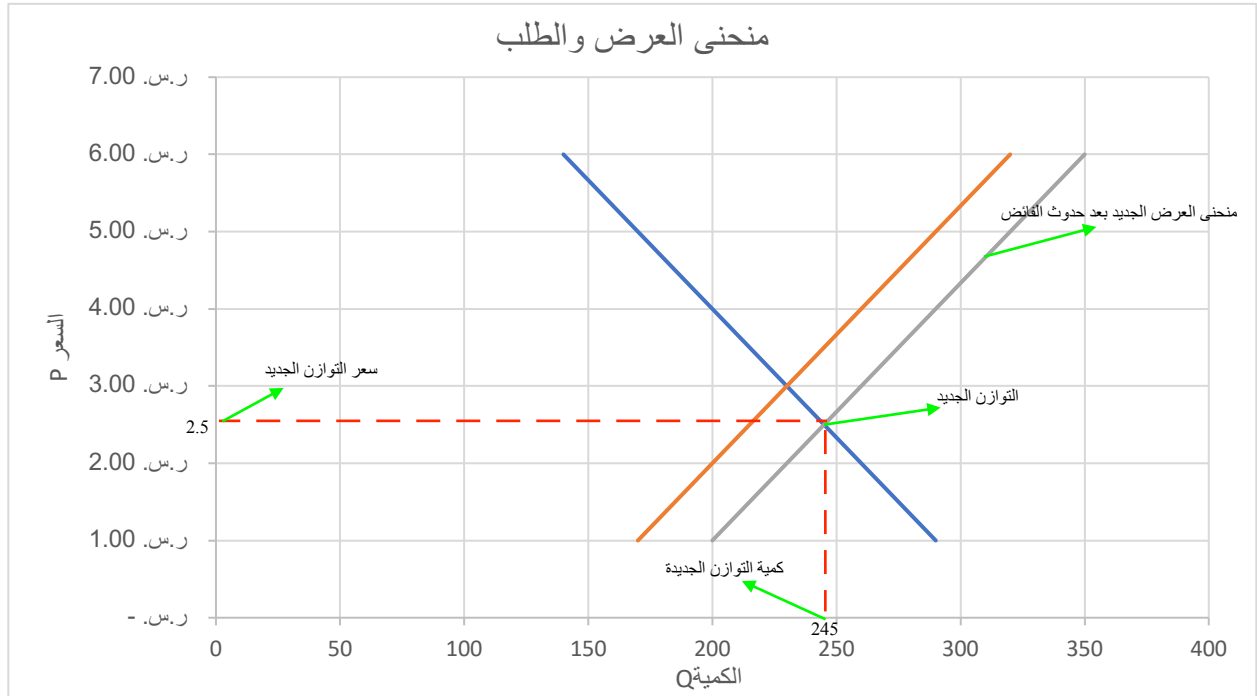
٤. لو حدث خلل في وضع التوازن (حالة فائض طلب) اشرح (مع الرسم) كيفية الرجوع إلى وضع التوازن؟

فائض الطلب سيؤدي إلى انتقال منحنى الطلب إلى اليمين مما يؤدي إلى تغيير الوضع التوازني وسيكون هناك ارتفاع بالأسعار وارتفاع بالكميات.



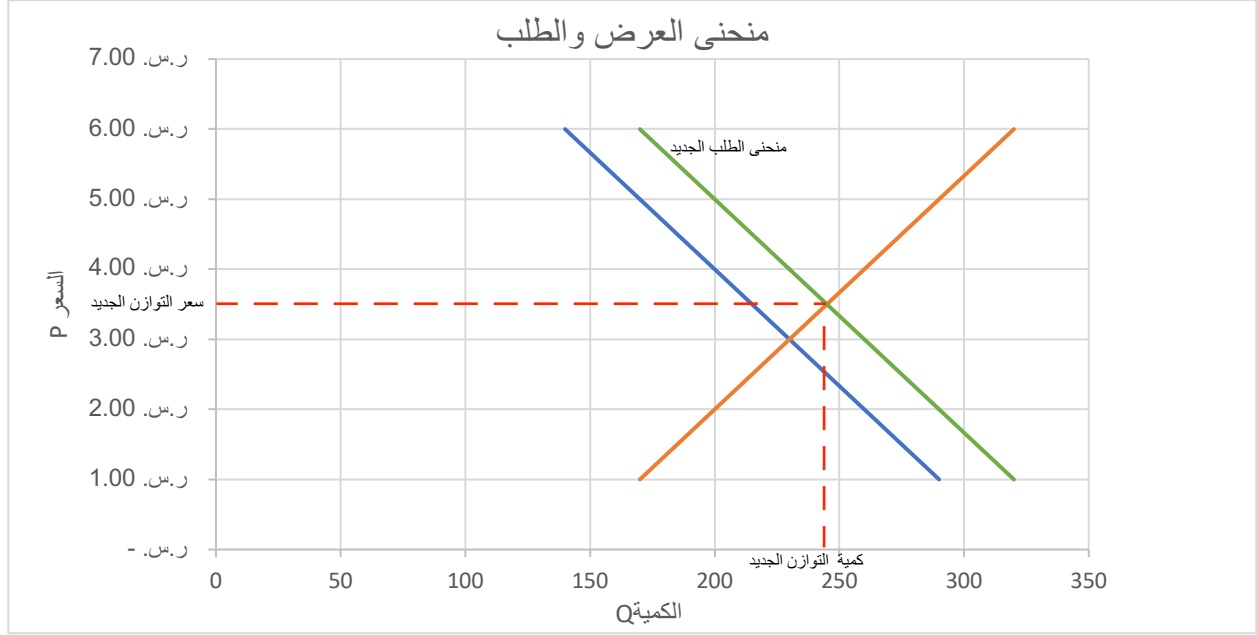
٥. لو حدث خلل في وضع التوازن (حالة فائض عرض) اشرح (مع الرسم) كيفية الرجوع إلى وضع التوازن؟

فائض العرض سيؤدي إلى انتقال منحنى العرض إلى اليمين مما يؤدي إلى تغيير الوضع التوازني وسيكون هناك انخفاض بالأسعار وارتفاع بالكميات.



حل واجب الاقتصاد الجزئي لجميع الشعب

٦. نفترض زيادة في أسعار السلع البديلة ما تأثير ذلك على وضع التوازن في السوق، اشرح مع الرسم؟
ارتفاع أسعار السلع البديلة سيؤدي الى انتقال منحنى الطلب الى اليمين مما يؤدي الى تغير الوضع التوازني وسيكون هناك ارتفاع بالأسعار وارتفاع بالكميات.



٧. نفترض انخفاض أسعار خدمات عناصر الإنتاج (انخفضت تكلفة الإنتاج) ما تأثير ذلك على وضع التوازن في السوق، اشرح مع الرسم؟
انخفاض تكلفة الإنتاج ستؤدي الى انتقال منحنى العرض الى اليمين مما يؤدي الى تغير الوضع التوازني وسيكون هناك انخفاض بالأسعار وارتفاع بالكميات.

