

نماذج امتحانية شاملة

الحل سوف ينشر على مجموعة مجدولين التعليمية

نموذج (1)

السؤال الأول : اقرأ النص التاريخي الآتي ، ثم أجب : (90 درجة)

لصناعة البروكار خصوصية في الحرف التقليدية السورية، فقد ازدهرت إلى أن وصل صداها إلى جميع بلدان العالم، وارتبط اسمها بمدينة دمشق . وارتدت الملكة (إليزابيث الثانية) التي ارتدت ثوباً من البروكار الدمشقي بمناسبة زفافها، نسج خصيصاً لها من الحرير الطبيعي الموشى بخيوط الذهب والفضة، والمحلّى برسوم نباتية خاصة وطيور، قام بنسجه المعلم قاسم الأيوبي على نول يدوي قديم، في معامل النعسان بباب شرقي، شهدت هذه الصناعة تعديلات بإدخال آلات حديثة،(كانطون مزير) الذي نقل صناعة البروكار من نول يدوي إلى نول ميكانيكي كهربائي عام 1890م، فوجدت أعداد كبيرة من المصانع كالشركة السورية للنسيج تأسست عام 1937 م.

- 1- ضع عنواناً للنص ؟
- 2- ما الحقائق التاريخية الواردة في النص .
- 3- ما المستمر والمتغير في النص .
- 4- علام يدل ارتداء الملكة إليزابيث الثانية فستان زفافها من البروكار السوري ؟

السؤال الثاني : اقرأ الجدول الزمني ، ثم أجب : (50 درجة)

1960 م

1930 م

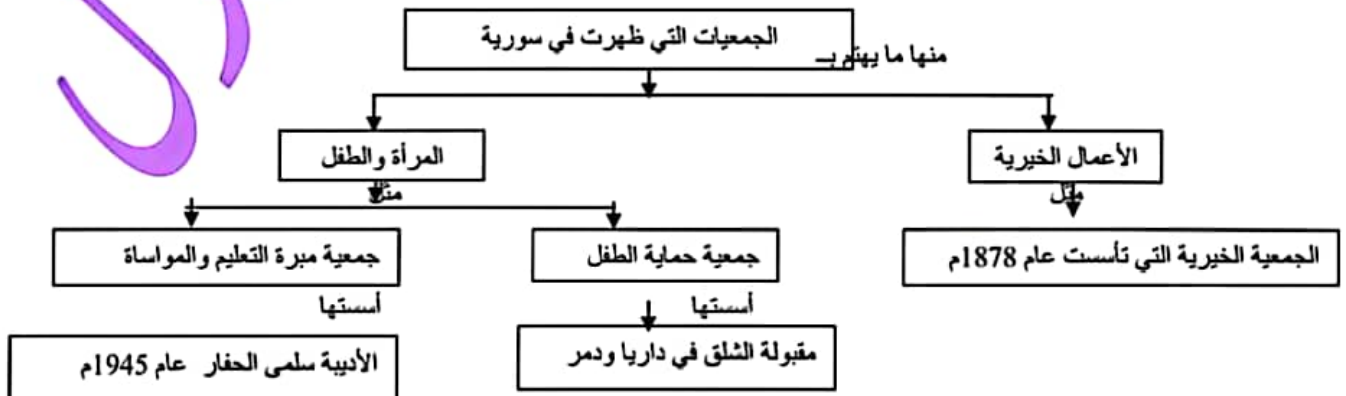
الوحدة السورية المصرية عام 1958 م وجد السوريون الوحدة مع مصر حلاً للمشكلات ووسيلة للتصدي للاعتداءات ، وكان من إنجازاتها تأمين الشركات والمصانع وتوزيع الأراضي على الفلاحين .	عدوان 29 أيار عام 1945 م طلبت الحكومة السورية من فرنسا الوفاء بوعودها لكنها ماطلت ، فطالبت بامتيازات اقتصادية وثقافية ، وراحت المنفعة الفرنسية تقصف مدينة دمشق بالقنابل فهدمت الابنية واشتعلت الحرائق في كل مكان .	الاضراب الستيني عام 1936 م بدأ بسبب تعطيل أعمال المجلس النيابي ، فتأججت المشاعر الوطنية واستمر الإضراب ستين يوماً ، حيث شكل وسيلة ضغط سياسي على الاحتلال الفرنسي .
--	--	--

- 1- ضع عنواناً مناسباً للجدول الزمني .
- 2- اختر الإجابة الصحيحة مما يأتي وانقلها إلى ورقة إجابتك :
أ- قسم الجدول الزمني إلى : (أعوام - عقود - قرون - ألفية)
ب- حدثت الوحدة بين سورية ومصر في العقد : (الثالث - الرابع - الخامس - السادس)
4- أكمل الجدول وفق مبدأ السبب والنتيجة :

الحدث	السبب	النتيجة
الأضراب الستيني	تعطيل أعمال المجلس النيابي
الوحدة السورية المصرية	تأمين الشركات والمصانع وتوزيع الأراضي على الفلاحين

السؤال الثالث : أجب عن أحد السؤالين الآتيين : (60 درجة)

- 1- أعد تنظيم المعلومات الواردة في خريطة المفاهيم الآتية ، لتشكل نصاً تاريخياً :



- 2- صنف في جدول أعمال غرفة دمشق (التجارية - الخدمية) :

نشرت أسعار البضائع والعملة في الجرائد المحلية - نفذت مشروع مياه عين الفيحة - مراقبة السياسات الجمركية والضريبية
تمثيل المؤسسات التجارية والصناعية

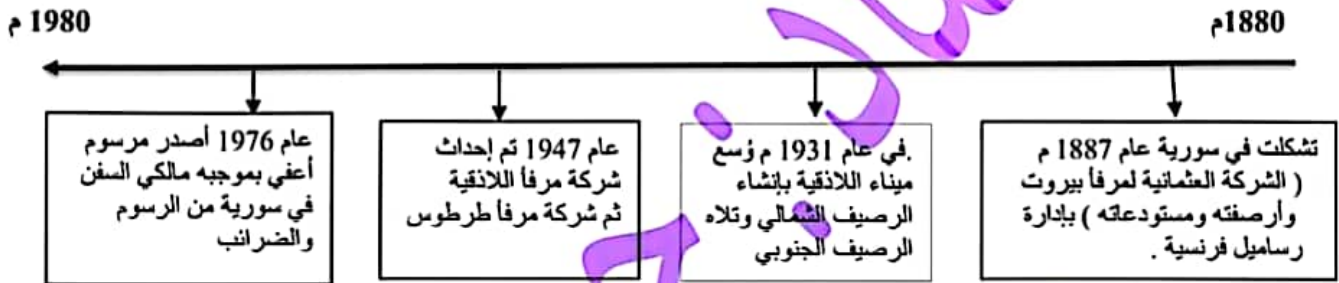
(21) يرجى تسجيل الاسم الثلاثي ورقم الهاتف لدى صاحب المكتبة من أجل إضافتك لدى مجموعة مجدولين التعليمية

السؤال الأول : اقرأ النص التاريخي الآتي ، ثم أجب : (90 درجة)

أسست غرفة تجارة دمشق عام 1830 م نتيجة نمو الوعي عند التجار تجاه المخاطر المحدقة بالأوضاع الاقتصادية في سورية، وللدفاع عن مصالحهم وتنظيم كفالاتهم، وبعد احتلال فرنسا لسورية عملت هذه الغرفة على مراقبة السياسات الجمركية والضريبية التي أتبعها الاحتلال، ونشرت في الجرائد المحلية وبشكل يومي أسعار البضائع والعملة وكل ما يهم التجار، ونفذت كثيراً من مشاريع البنى التحتية كمشروع جر مياه عين الفيجة إلى مدينة دمشق عام 1932 م، بمساهمة وطنية من لطفي الحفار وفارس الخوري وغيرهما، وافتتح معرض في مدرسة التجهيز ، وفي الوقت الحاضر تمارس رفة تجارة دمشق نشاطها في خدمة وتمثيل المؤسسات التجارية والصناعية والترويج لها والدفاع عنها .

- 1- ما الفكرة الرئيسية للنص .
- 2- ما الحقائق الواردة في النص .
- 3- ما المعلومات غير ذات الصلة
- 4- ما الدليل على المساهمة الوطنية لدى لطفي الحفار وفارس الخوري .
- 5- صنف أعمال غرفة دمشق في النص الآتي من الناحيتين (التجارية - الخدمية) .

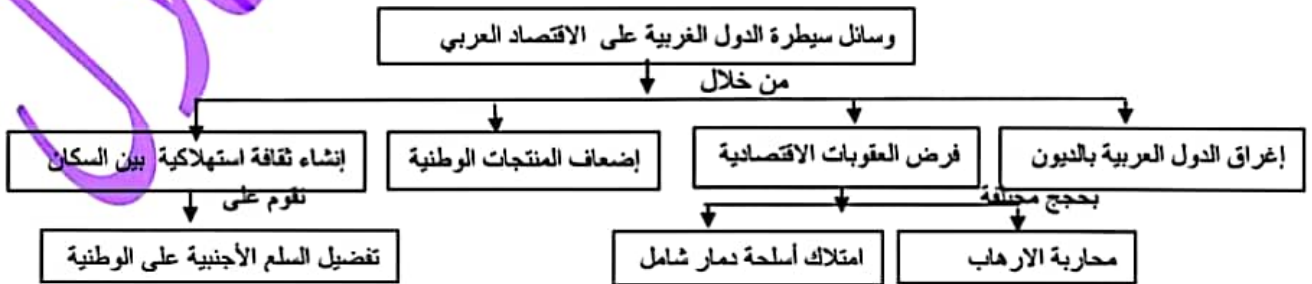
السؤال الثاني : اقرأ الجدول الزمني ، ثم أجب : (50 درجة)



- 1- ضع عنواناً مناسباً للجدول الزمني .
- 2- اختر الإجابة الصحيحة :
أ- قسم الجدول الزمني إلى : (أعوام - عقود - قرون - الفية)
ب- تم إحداث شركة مرقا اللاذقية في العقد : (الثالث - الرابع - الخامس - السادس)
3- ما دور الموانئ في الحياة الاقتصادية في سورية .

السؤال الثالث : أجب عن أحد السؤالين الآتيين : (60 درجة)

1- أعد تنظيم المعلومات الواردة في خريطة المفاهيم الآتية ، لتشكل نصاً تاريخياً :



2 - صنف الصعوبات التي تعرض لها الفلاح أثناء الاحتلال العثماني في النص الآتي إلى : (سياسية - اقتصادية - اجتماعية) :

((استمرت سيطرة النظام الإقطاعي على الأراضي الزراعية أثناء الاحتلال العثماني، وكان هناك صعوبة في ربط مناطق الإنتاج بمناطق الاستهلاك، وبقيت أدوات الزراعة على حالها القديم، وزادت الحروب والاضطرابات الداخلية من معاناة الفلاحين))

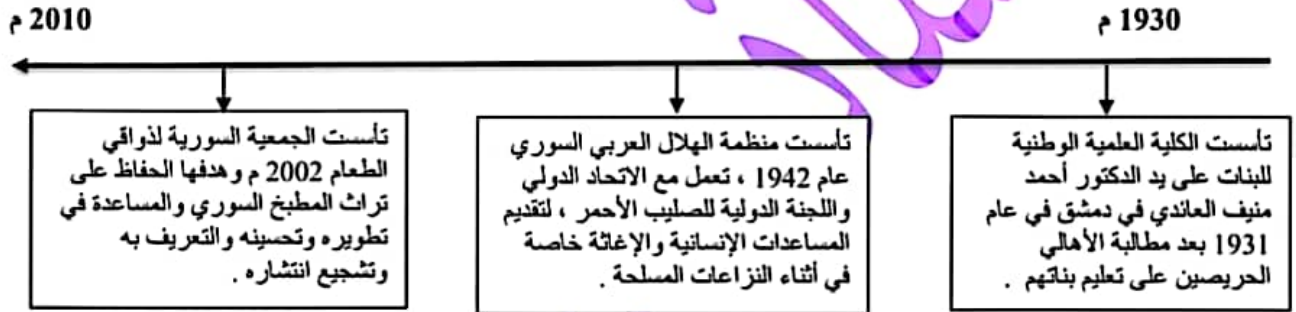
(22) يرجى تسجيل الاسم الثلاثي ورقم الهاتف لدى صاحب المكتبة من أجل إضافتك لدى مجموعة مجدولين التعليمية

السؤال الأول : اقرأ النص التاريخي الآتي ، ثم أجب : (90 درجة)

كانت الكتب والمخطوطات تُكتب بخط اليد، وعندما لم يعد إنتاج النساخ كافياً لحاجات الناس المتطلعة للمعرفة وخاصة بعد ارتفاع أجورهم وبطء إنتاجهم، أصبحت الحاجة ملحة لإيجاد طريقة ميكانيكية لنسخ الكتب، فأدخلت أول مطبعة عربية إلى سورية على يد البطريرك أنثاسيوس دباس عام 1702 م، وتم تحويل المدرسة الجقمقية إلى متحف للخط العربي .
قال المؤرخ محمد كرد علي : (بلغ عدد المطابع في الشام ثمانين مطبعة طبعت قصصاً مُعربة وأشعاراً ودواوين قديمة وحديثة وكتباً دينية ورسائل علمية في المعارف العامة، وقليلاً من كتب العرب التي لا يزال الألوف منها محفوظاً في خزاننا وخزان الغرب)

- 1- ما الفكرة الرئيسية للنص ؟
- 2- الأفكار الواردة في نص محمد كرد علي ، حقيقة أم رأي ؟ ولماذا ؟
- 3- ما المعلومات غير ذات الصلة الواردة في النص ؟
- 4- علام يدل ازدياد الحاجة إلى النساخ ؟

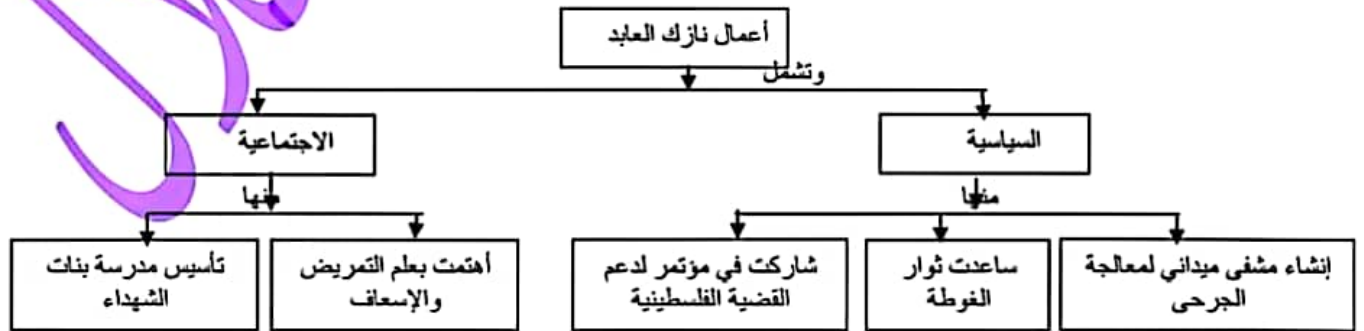
السؤال الثاني : اقرأ الجدول الزمني ، ثم أجب : (50 درجة)



- 1- ضع عنواناً مناسباً للجدول الزمني .
- 2- اختر الإجابة الصحيحة :
أ- قسم الجدول الزمني إلى : (أعوام - عقود - قرون - الفية)
ب- تم تأسيس الجمعية السورية لذواقي الطعام في القرن : (18 - 19 - 20 - 21)
ج- علام يدل تأسيس الكلية العلمية الوطنية للإناث .

السؤال الثالث : أجب عن أحد السؤالين الآتيين : (60 درجة)

1- أعد تنظيم المعلومات الواردة في خريطة المفاهيم الآتية ، لتشكل نصاً تاريخياً :



2 - صنف في جدول منجزات الوحدة السورية - المصرية إلى : (سياسية - اقتصادية - ثقافية) :

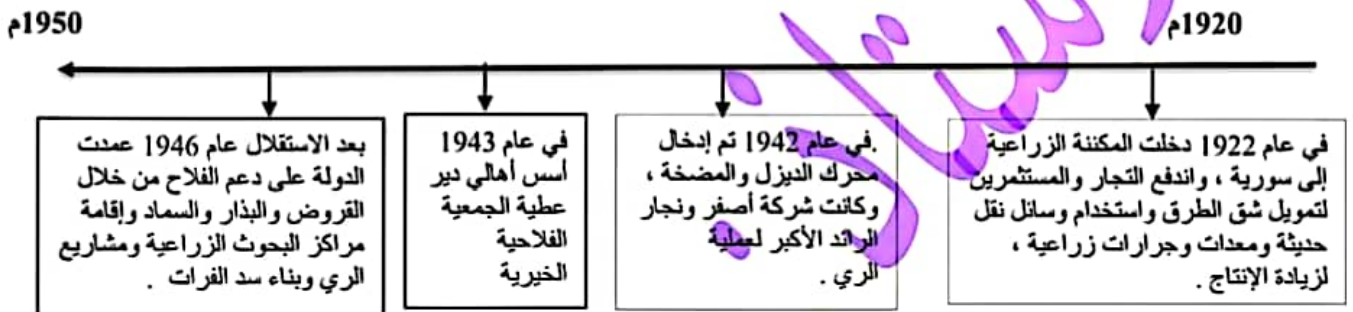
إصدار قانون الإصلاح الزراعي - دعم حركات التحرر العربية والعالمية - تأمين المصانع والمصارف - الاهتمام بالتعليم
توثيق العلاقة مع المعسكر الاشتراكي

السؤال الأول : أقرأ النص التاريخي الآتي ، ثم أجب : (90 درجة)

نتج عن الإضراب الستيني موافقة فرنسا على سفر أعضاء الوفد السوري إلى باريس، برئاسة هاشم الأتاسي، انتهوا فيه إلى الاتفاق مع الوفد الفرنسي على نص مشروع معاهدة عام 1936 م ، التي نصت على اعتراف فرنسا بسورية كدولة مستقلة و قبولها عضواً في (عصبة الأمم) وأن تنشأ بين الدولتين علاقة صداقة، تقدم سورية لفرنسا المساعدة أثناء الحرب بطرق المواصلات ، مع السماح لها ببقاء قاعدتين جويتين (المزة والنيرب)، مدة المعاهدة 25 عاماً، لكن البرلمان الفرنسي عاد إلى سياسة المماطلة ولم يصادق على المعاهدة فبقيت مشروعاً .

- 1- ضع عنواناً للنص .
- 2- ما الحقائق الواردة في النص .
- 3- برأيك ما الهدف الحقيقي لفرنسا من توقيع مشروع معاهدة عام 1936 م .
- 4- صنف في جدول إيجابيات وسلبيات مشروع معاهدة عام 1936 م .

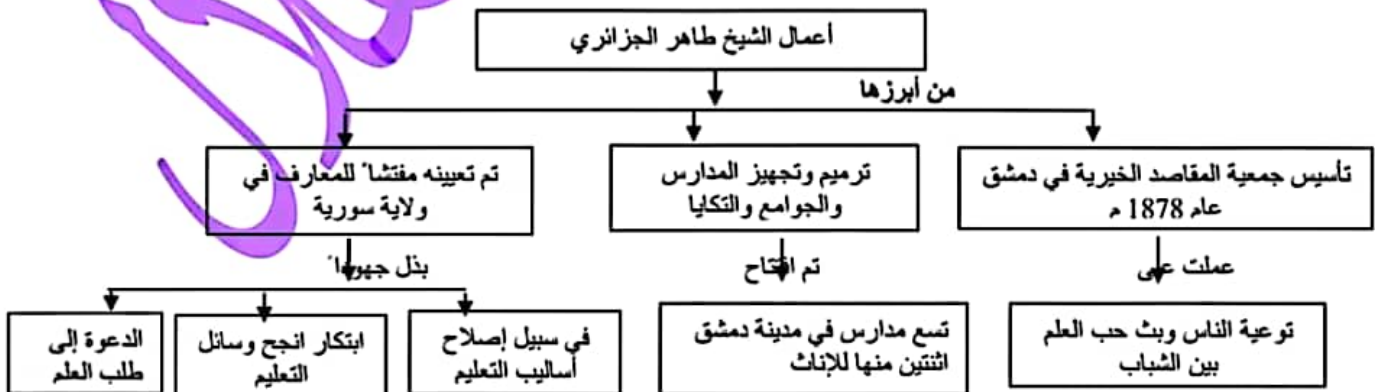
السؤال الثاني : أقرأ الجدول الزمني ، ثم أجب : (50 درجة)



- 1- ضع عنواناً مناسباً للجدول الزمني .
- 2- اختر الإجابة الصحيحة :
 - أ - قسم الجدول الزمني إلى : (أعوام - عقود - قرون - ألفية)
 - ب- دخلت المكننة الزراعية إلى سورية في العقد : (الأول - الثاني - الثالث - الرابع)
 - ت - تم تأسيس الجمعية الخيرية الفلاحية في دير عطية في القرن : (17 - 18 - 19 - 20)
 - 3- ما المستمر وما هو المتغير في هذا الجدول الزمني .
 - 4- ما الصعوبات التي واجهت الفلاح أثناء الاحتلال العثماني .

السؤال الثالث : أجب عن أحد السؤالين الآتيين : (60 درجة)

1- أعد تنظيم المعلومات الواردة في خريطة المفاهيم الآتية ، لتشكل نصاً تاريخياً :



2 - صنف في جدول أعمال عدنان المالكي على الصعيد : (الوطني - القومي) :

وقوفه ضد المشاريع الغربية كحلف بغداد - تسلم العديد من المناصب السياسية والعسكرية - خاض معارك فلسطين عام 1948 .
المساهمة في التقارب مع مصر لتحقيق الوحدة العربية - النضال ضد الاحتلال الفرنسي

(24) يرجى تسجيل الاسم الثلاثي ورقم الهاتف لدى صاحب المكتبة من أجل إضافتك لدى مجموعة مجدولين التعليمية

السؤال الأول : أقرأ النص التاريخي الآتي ، ثم أجب : (90 درجة)

كان للعدوان الفرنسي صدى عالمي فدعمت الدول العربية الموقف السوري، ووقفت بريطانيا ضد فرنسا، واستخدم الأتحاد السوفيتي حق الفيتو لأول مرة في مجلس الأمن في شباط عام 1946 م لإفشال محاولة الفرنسيين إطالة عمر نظام الانتداب في سورية، ما زاد إصرار السوريين على انسحاب جميع القوات الأجنبية من أراضيهم ، وعدم منح أي امتياز لأية قوة مهما كانت وعندما لم يجد الفرنسيون أي أمل في استمرار احتلالهم سلمت فرنسا جميع الثكنات العسكرية إلى الحكومة السورية، كان حلف بغداد أخطر الأحلاف العسكرية. واحتفلت سورية بالجملاء بتاريخ 17 نيسان عام 1946 م.

- 1- ضع عنواناً للنص .
- 2- ما الحقائق الواردة في النص .
- 3- ما المعلومات غير ذات الصلة الواردة في النص .
- 4- ما سبب استخدام الاتحاد السوفيتي حق الفيتو في مجلس الأمن لأول مرة
- 5- ما دلالة تسليم فرنسا جميع الثكنات العسكرية إلى الحكومة السورية .

السؤال الثاني : أقرأ الجدول الزمني ، ثم أجب : (50 درجة)

1930

1910

1918	1919	1920	1925
ثورة الساحل بعد الاحتلال الفرنسي للساحل السوري عقد الشيخ صالح العلي مؤتمراً في عام 1918 لمقاومة الاحتلال الفرنسي . وحققوا انتصارات كبيرة ضد الاحتلال الفرنسي بعد أن غنموا الكثير من الأسلحة ، وأهم المعارك معركة وداي ورور .	ثورة الشمال بدأ التجهيز لثورة الشمال بقيادة إبراهيم هنانو ضد الاحتلال الفرنسي . كانت الخطوة الأهم هو الاتصال بين ثورتي هنانو وثورته الشيخ صالح العلي . نتيجة إجراءات فرنسا في تدمير القرى بالطيران ومصادرتها الممتلكات وإعدام الشبان واعتقال الزعماء توقفت الثورتان	معركة ميسلون بدأت معركة ميسلون بقيادة يوسف العظمة بدمشق ضد القوات الفرنسية ، لكن أسلحة القوات الفرنسية وتعدادها مكنها من التقدم ، فسقط العديد من الشهداء وفي مقدمتهم يوسف العظمة وأصبحت دمشق بيد الجيش الفرنسي	الثورة السورية الكبرى أدت سياسة الاحتلال الفرنسي إلى قيام الثورة السورية الكبرى ، بقيادة سلطان باشا الأطرش وخاض عدة معارك ضد القوات الفرنسية وأهمها معركة الكفر واستطاع الثوار أن يهاجموا القوات الفرنسية بشكل عنيف ومحكم ولم يستطع الفرنسيين تنظيم أنفسهم ونفذت ذخيرتهم

- 1- ضع عنواناً مناسباً للجدول الزمني .
- 2- اختر الإجابة الصحيحة :
أ- قسم الجدول الزمني إلى : (أعوام - عقود - قرون - ألفية)
ب- قامت معركة ميسلون في العقد : (الأول - الثاني - الثالث - الرابع)
3- أكمل الجدول الآتي وفق مبدأ السبب والنتيجة :

الحدث	السبب	النتيجة
ثورة الساحل	الاحتلال الفرنسي للساحل السوري
معركة ميسلون	استشهاد يوسف العظمة ورفاقه واحتلال فرنسا لدمشق

السؤال الثالث : أجب عن أحد السؤالين الآتيين : (60 درجة)

- 1- أعد تنظيم المعلومات الواردة في خريطة المفاهيم الآتية ، لتشكل نصاً تاريخياً :

إجراءات فرنسا الاستعمارية في سورية

تمثلت



- 2 - صنف في جدول إجراءات الكيان الصهيوني بحق أبنائنا في الجولان السوري إلى : (السياسية - الثقافية - الاجتماعية)

فرض هوية الاحتلال - سرقة آثار الجولان وتزويرها بعبارة عبرية - إضعاف الانتماء القومي - عزل الجولان عن الوطن الأم سورية - فرض اللغة والمناهج العبرية - تفكيك الترابط الاجتماعي - ربط المؤسسات التعليمية بهم .

(25) يرجى تسجيل الاسم الثلاثي ورقم الهاتف لدى صاحب المكتبة من أجل إضافتك لدى مجموعة مجدولين التعليمية

السؤال الأول : اقرأ النص التاريخي الآتي ، ثم أجب : (90 درجة)

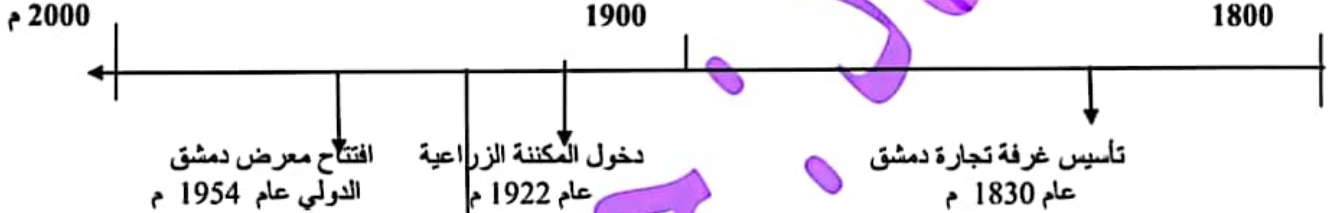
كان للعدوان الفرنسي صدى عالمي فدعمت الدول العربية الموقف السوري، ووقفت بريطانيا ضد فرنسا، واستخدم الأتحاد السوفيتي حق الفيتو لأول مرة في مجلس الأمن في شباط عام 1946 م لإفشال محاولة الفرنسيين إطالة عمر نظام الانتداب في سورية، ما زاد إصرار السوريين على انسحاب جميع القوات الأجنبية من أراضيهم ، وعدم منح أي امتياز لأية قوة مهما كانت وعندما لم يجد الفرنسيون أي أمل في استمرار احتلالهم سلمت فرنسا جميع الثكنات العسكرية إلى الحكومة السورية، ووافقت الأمم المتحدة على قرار تقسيم فلسطين ، واحتفلت سورية بالجلاء بتاريخ 17 نيسان عام 1946 م..

- 1- ما الأفكار الفرعية للنص ؟ (20 درجة)
- 2- اذكر حقيقتين تاريخيتين وردتا في النص . (20 درجة)
- 3- اذكر معلومات غير ذات صلة وردت في النص . (10 درجات)
- 4- ما دلالة تسليم فرنسا جميع الثكنات العسكرية إلى الحكومة السورية . (20 درجة)
- 5- أكمل وفق مبدأ السبب والنتيجة : (20 درجة)

السبب	النتيجة
العدوان الفرنسي على سورية
.....	جلاء القوات الفرنسية عن سورية عام 1946 م

(50 درجة)

السؤال الثاني : اقرأ الخط الزمني ، ثم أجب :



- 1- ضع عنواناً مناسباً للخط الزمني .
- 2- اختر الإجابة الصحيحة مما يأتي وانقلها إلى ورقة إجابتك :
 - أ- الوحدة الزمنية التي قسم على أساسها الخط الزمني : حقبة - قرون - عقود - أعوام
 - ب- تأسست نقابة صناع النسيج في العقد : (الأول - الثاني - الثالث - الرابع) من القرن العشرين .
 - 3- ما الهدف من إقامة الجمعيات التعاونية الفلاحية .

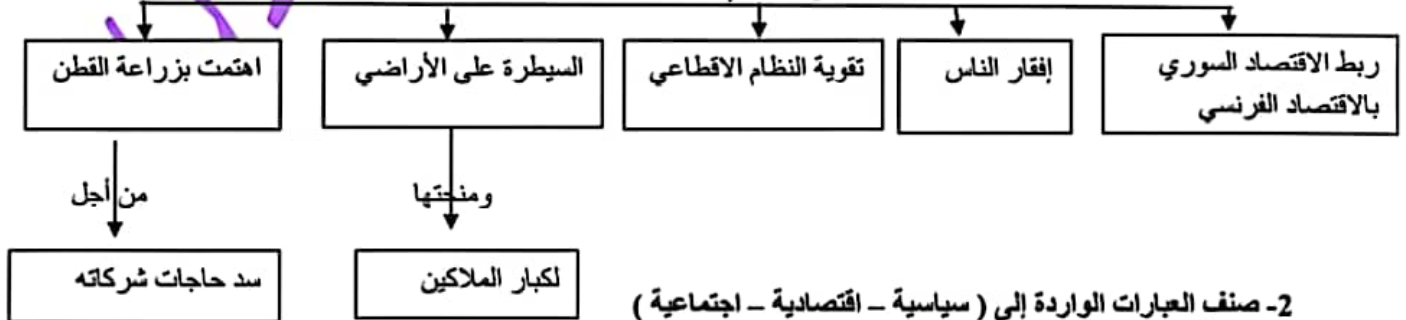
(60 درجة)

السؤال الثالث : أجب عن أحد السؤالين الآتيين :

أ - أعد تنظيم المعلومات الواردة في خريطة المفاهيم الآتية ، لتشكل نصاً تاريخياً :

السياسة التي اتبعتها فرنسا بعد احتلالها سورية

عملت على



2- صنف العبارات الواردة إلى (سياسية - اقتصادية - اجتماعية)

- أ- عانى الفلاحون في ظل الاحتلال العثماني من الفقر .
- ب- عمد التجار السوريون لاستيراد أدوات الإنتاج الأوروبية .
- ت- وضعت سورية بموجب اتفاقية سايكس بيكو تحت الانتداب الفرنسي .
- ث - عمد الاحتلال السيطرة على الطرق التجارية والممرات الحيوية .

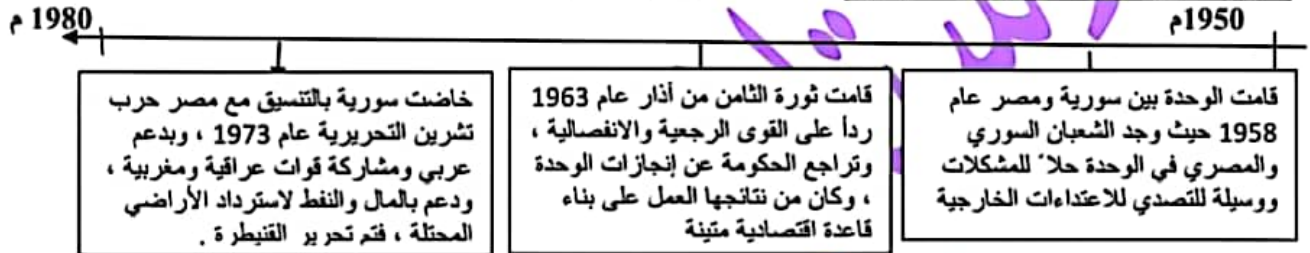
(26) يرجى تسجيل الاسم الثلاثي ورقم الهاتف لدى صاحب المكتبة من أجل إضافتك لدى مجموعة مجدولين التعليمية

السؤال الأول : اقرأ النص التاريخي الآتي ، ثم أجب : (90 درجة)

بعد احتلال الكيان الصهيوني للجزان السوري عام 1967 م عمل على عزله عن الوطن الأم سورية وإضعاف الانتماء القومي العربي، عن طريق فرض هوية الاحتلال على المواطنين العرب السوريين، وربط المؤسسات التعليمية بهم، وفرض اللغة والمناهج العبرية، ومصادرة الأراضي والمياه، وتفكيك الترابط الاجتماعي بين سكان الجزان، وانطلقت الثورة الفلسطينية عام 1935 ضد الكيان الصهيوني وأيضاً عمد الاحتلال على سرقة آثار الجزان وتزويرها بعبارات عبرية في مخابر فنية ، قاوم سكان الجزان مخططات الاحتلال بتمسكهم بالجنسية العربية السورية واللغة العربية وأراضيهم .

- 1- ما الفكرة الرئيسية للنص
- 2- اذكر حقيقتين تاريخيتين وردتن في النص .
- 3- اذكر معلومات غير ذات صلة وردت في النص .
- 4- ما دلالة تمسك أبناء الجزان بالهوية الوطنية .
- 5- صنف في جدول إجراءات الكيان الصهيوني بحق أبنانا في الجزان السوري إلى : (سياسية - ثقافية) (30 درجة)

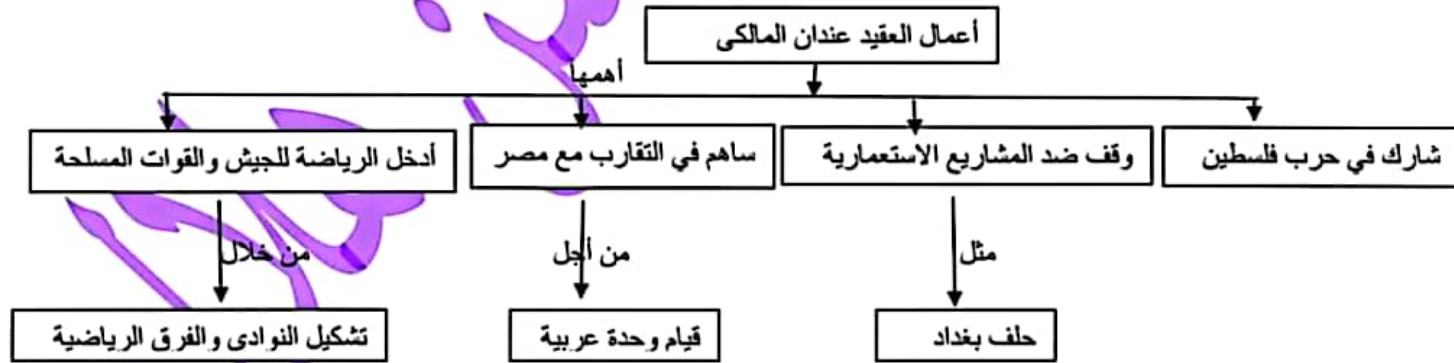
السؤال الثاني : اقرأ الخط الزمني ، ثم أجب : (50 درجة)



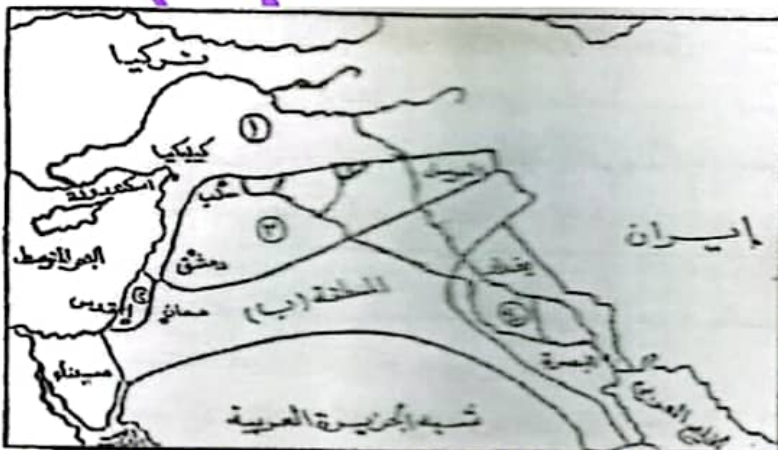
- 1- ضع عنواناً مناسباً للخط الزمني .
- 2- اختر الإجابة الصحيحة مما يأتي وانقلها إلى ورقة إجابتك :
 - أ- الوحدة الزمنية التي قسم على أساسها الخط الزمني : حقبة - قرون - عقود - أعوام
 - ب- قامت الوحدة بين سورية ومصر في العقد : (الخامس - السادس - السابع - الثامن) من القرن العشرين .
 - 3- فسر تعتبر حرب تشرين التحريرية معركة قومية .

السؤال الثالث : أجب عن أحد السؤالين الآتيين : (60 درجة)

أ - أعد تنظيم المعلومات الواردة في خريطة المفاهيم الآتية ، لتشكل نصاً تاريخياً :



ب - انقل إلى ورقة إجابتك الأرقام المحددة على الخريطة واكتب المسمى المناسب لكل منها وفق تقسيمات اتفاقية (سايكس - بيكو)



(27) يرجى تسجيل الاسم الثلاثي ورقم الهاتف لدى صاحب المكتبة من أجل إضافتك لدى مجموعة مجدولين التعليمية

السؤال الأول : اقرأ النص التاريخي الآتي ، ثم أجب : (90 درجة)

بُنيت التكية عام 1558 م بإشراف مهندسين من مختلف البلدان المهندس العطار الدمشقي والمهندس سنان باشا من تركيا وملا آغا من إيران ، تتألف من كتلتين معماريتين يصل بينهما سوق به دكاكين ، التكية الكبرى وفيها جامع ومدرسة وتكية صغرى فيها حرم للصلاة وغرف وسوق تجاري ، وسهل طريق الحج الشامي التمازج والاختلاط بين الشعوب ، ومن وظائف التكية السليمانية تطبيب المرضى وعلاجهم ، وإيواء الطلبة الغرباء ، وتقديم وجبات الطعام للفقراء والمحتاجين ، وأصبح بعض هذه الغرف مأوى للفقراء واليتامى وأبناء السبيل.

- 1- ما الفكرة الرئيسية للنص
 - 2- اذكر حقيقتين تاريخيتين وردت في النص .
 - 3- اذكر معلومات غير ذات صلة وردت في النص .
 - 4- ما دلالة أن التكية السليمانية بُنيت بأفكار جماعية عالمية .
 - 5- صنف في جدول وظائف التكية السليمانية إلى : (اجتماعية - اقتصادية)
- (10 درجات)
(20 درجة)
(10 درجات)
(20 درجة)
(30 درجة)

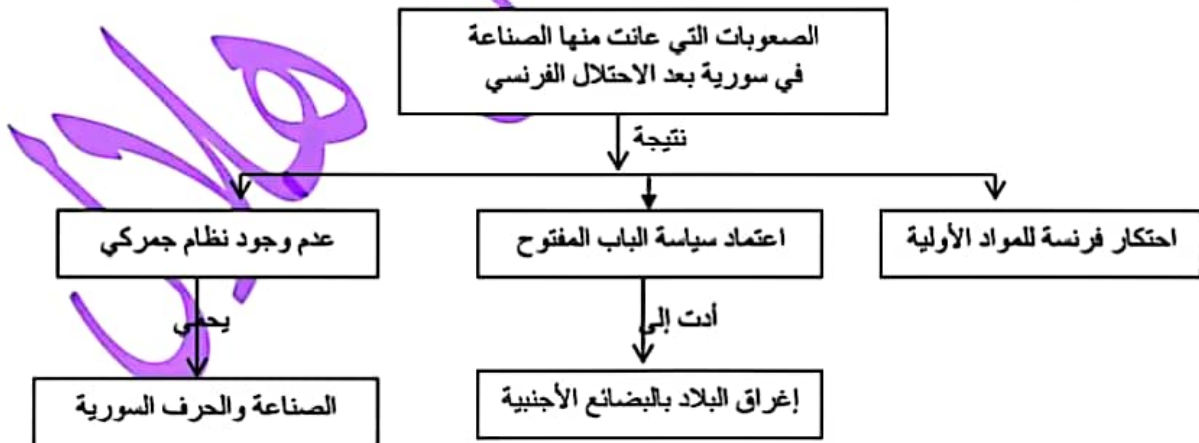
السؤال الثاني : اقرأ الخط الزمني ، ثم أجب : (50 درجة)



- 1- ضع عنواناً مناسباً للخط الزمني .
- 2- اختر الإجابة الصحيحة مما يأتي وانقلها إلى ورقة إجابتك :
أ- الوحدة الزمنية التي قسم على أساسها الخط الزمني : حقبة - قرون - عقود - أعوام .
ب- أول سيدة تدخل المجلس النيابي في العقد : (الخامس - السادس - السابع - الثامن) من القرن العشرين .
3- ما الحقوق التي حصلت عليها المرأة السورية .

السؤال الثالث : أجب عن أحد السؤالين الآتيين : (60 درجة)

أ - أعد تنظيم المعلومات الواردة في خريطة المفاهيم الآتية ، لتشكل نصاً تاريخياً :



ب- صنف في جدول أهمية طريق الحج الشامي من الناحية : (الاقتصادية - الاجتماعية)

غذ الطريق بين دمشق والحجاز الأكثر سلامة وأماناً، فاهتم الحكام طيلة العصور الوسطى والحديثة، بتعميره واستنباب الأمن على طوله، لأنه وسع التبادل الاقتصادي وسهل التمازج والاختلاط بين الشعوب ودفعهم للاطلاع على الأفكار والمستجدات في بلدان بعضهم بعضاً، ينطلق من مدينة دمشق التي شاركت أحيائها كافة في مظاهر الاستعداد لتسيير قافلة الحج، مع عشرات الآلاف من الصناع وأصحاب الخدمات الذين يعيشون على هذه القافلة، وتجهيزها من أولى مراحل الحج وحتى الخروج من بوابة الله (بوابة مصر) جنوب مدينة دمشق في حي الميدان.

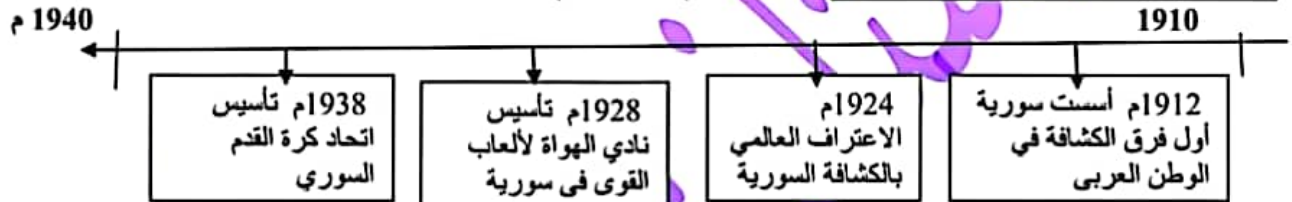
(28) يرجى تسجيل الاسم الثلاثي ورقم الهاتف لدى صاحب المكتبة من أجل إضافتك لدى مجموعة مجدولين التعليمية

السؤال الأول : اقرأ النص التاريخي الآتي ، ثم أجب : (90 درجة)

عاش السوريون ظروف اقتصادية صعبة بسبب الحرب العالمية الأولى (1918 - 1914 م) ، التي ألقت بنتائجها على الفئات المتوسطة والفقيرة ، فتدهورت أوضاع الزراعة وتدنّى مستوى الإنتاج ، فاشتدّ الجلاء و غُظم القحط والجوع ، ومما زاد الأوضاع سوءاً الإجراءات التي اتخذها حاكم دمشق العسكري خلال الحرب العالمية الأولى جمال باشا ضد الأهالي ومنها مصادرة المحاصيل الزراعية ، وفرض الإعانات لدعم الجيش العثماني ، ومصادرة الأملاك والأموال ، بالإضافة إلى موجة من الجراد أصابت المحاصيل الزراعية ، واهتمام فرنسا بزراعة القطن ، وكانت أسوأ ما جرى بتاريخ سورية ، فاشتدّ الجوع ونقص الخبز .

- 1- ضع عنواناً مناسباً للنص . (10 درجات)
- 2- اذكر حقيقتين تاريخيتين وردت في النص . (20 درجة)
- 3- اذكر معلومات غير ذات صلة وردت في النص . (10 درجات)
- 4- ما الخليل على تعرض الفلاحين للظلم من قبل جمال باشا . (20 درجة)
- 5- صنف في جدول أوضاع السوريين في ظل الاحتلال العثماني إلى : (اجتماعية - اقتصادية) (30 درجة)

السؤال الثاني : اقرأ الخط الزمني ، ثم أجب : (50 درجة)

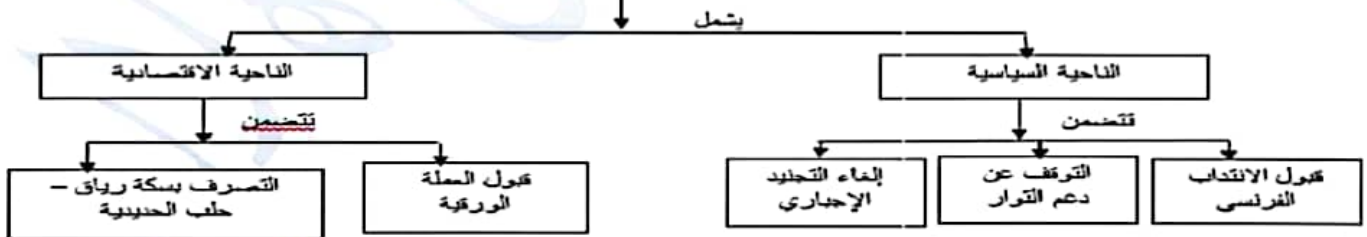


- 1- ضع عنواناً مناسباً للخط الزمني .
- 2- اختر الإجابة الصحيحة مما يأتي وانقلها إلى ورقة إجابتك :
 - أ- الوحدة الزمنية التي قسم على أساسها الخط الزمني : حقبة - قرون - عقود - أعوام
 - ب- تأسست في سورية أول فرق الكشافة في العقد : (الأول - الثاني - الثالث - الرابع) من القرن العشرين .
 - 3- بم تفسر الاعتراف العالمي بالكشافة السورية .

السؤال الثالث : أجب عن أحد السؤالين الآتيين : (60 درجة)

أ - أعد تنظيم المعلومات الواردة في خريطة المفاهيم الآتية ، لتشكل نصاً تاريخياً :

يبدو إنذار الجنرال الفرنسي جورو



ب- أعد كتابة المعلومات الواردة على الخريطة لتشكل نصاً تاريخياً .

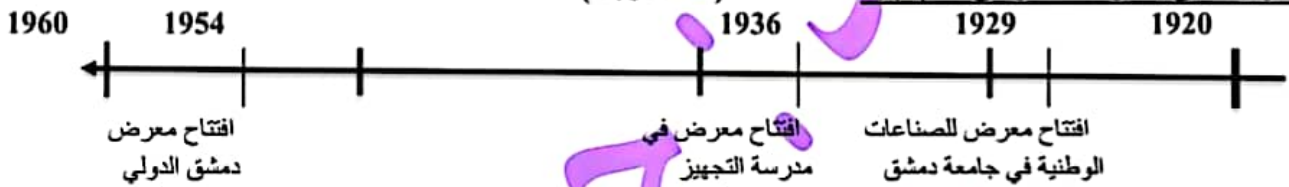
السؤال الأول : اقرأ النص التاريخي الآتي ، ثم أجب : (90 درجة)

أصبحت الحرب في فلسطين أمراً محتوماً بعد تصويت جمعية الأمم المتحدة عام 1947 م على قرار تقسيم فلسطين، فوضعت القيادة السورية (لواء المشاة الأول) بقيادة العقيد عبد الوهاب الحكيم تحت تصرف (اللجنة العسكرية العليا) لكي تدخل به الحرب، كما اندفع السوريون للتطوع في جيش الإنقاذ الذي أسندت قيادته إلى الضابط فوزي القاوقجي، خاض السوريون عدة معارك إلى جانب أشقائهم العرب أبرزها معركة جدين والملكية وسمخ التي سجلوا فيها أسماً بطولاتهم وتضحياتهم، إلا أن ضعف الإمكانيات والخبرة العسكرية وحدائث الجيوش العربية وتدخل الدول الغربية لتأمين الحماية للكيان الصهيوني حالت دون نجاح مهمته وأدت إلى خسارة العرب للحرب.

- 1- ما الفكرة الرئيسية للنص .
- 2- ما الأفكار الفرعية للنص .
- 3- استنتج الحقائق التي وردت في النص .
- 4- فسر مشاركة السوريين بشكل شعبي ورسمي في حرب فلسطين .
- 5- أكمل الجدول الآتي وفق مبدأ السبب والنتيجة .

السبب	النتيجة
.....	قيام حرب فلسطين عام 1948 م
ضعف الإمكانيات والخبرة العسكرية وحدائث الجيوش العربية

السؤال الثاني : اقرأ الخط الزمني ، ثم أجب : (50 درجة)

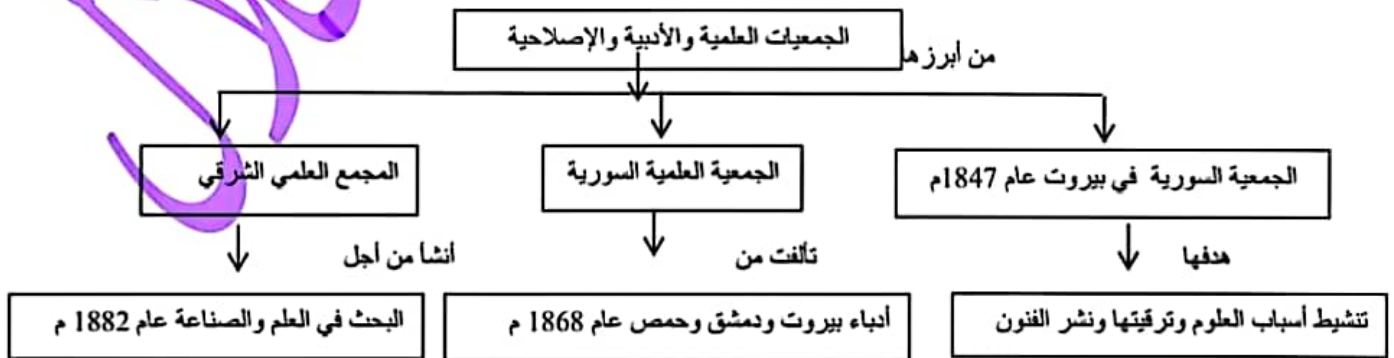


- 1- ضع عنواناً مناسباً للخط الزمني .
- 2- اختر الإجابة الصحيحة مما يأتي وانقلها إلى ورقة إجابتك :

- أ- الوحدة الزمنية التي قسم على أساسها الخط الزمني : حقبة - قرون - عقود - أعوام .
- ب- تم افتتاح معرض دمشق الدولي في العقد : (الثالث - الرابع - الخامس - السادس) من القرن العشرين .
- 3- برأيك ما أهمية إقامة المعارض المحلية والدولية في ظل المنافسة الشديدة للمنتجات الأجنبية .

السؤال الثالث : أجب عن أحد السؤالين الآتيين : (60 درجة)

- 1- أعد تنظيم المعلومات الواردة في خريطة المفاهيم الآتية ، لتشكل نصاً تاريخياً :



- 2- انسب المسميات الآتية إلى أحد التراثين (المادي - غير المادي) :

اللباس الشعبي - الفوازير - الأمثال الشعبية - صناعة الفخار - أكلة الفلافل والحمص - التعابير

(30) يرجى تسجيل الاسم الثلاثي ورقم الهاتف لدى صاحب المكتبة من أجل إضافتك لدى مجموعة مجدولين التعليمية

التاريخ | حل نموذج رقم : 1

النص التاريخي :

1- عنوان النص :

تطور صناعة البروكار - (البروكار هوية دمشق)

2- الحقائق التاريخية الواردة في النص :

1- ارتداء الملكة إليزابيث الثانية ثوباً من البروكار الدمشقي.

2 - قيام المعلم قاسم الأيوبي بنسج ثوب الملكة إليزابيث في معامل النصان في باب شرقي .

3- نقل أنطوان مزرن صناعة البروكار من يدوي إلى ميكانيكي

كهربائي عام 1890 .

4- تأسيس الشركة السورية للنسيج عام 1937 م .

3- المستمر : صناعة النسيج

المتغير : تطور وسائل الإنتاج من نول يدوي إلى نول ميكانيكي .

4 - يدل على المهارة والدقة في صناعة البروكار الدمشقي ،

والشهرة العالمية الكبيرة التي وصلت إليها هذه الصناعة .

الخط الزمني :

1- عنوان الخط الزمني : تطور الأحداث السياسية في سورية ما بين

عامي 1930- 1960

2- اختيار الإجابة :

1- عقود

2- العقد السادس

3- * النتيجة : شكلت وسيلة ضغط على الاحتلال الفرنسي .

* السبب : حلاً للمشكلات ووسيلة للتصدي والاعتداءات .

خارطة المفاهيم :

ظهرت بعض الجمعيات في سورية منها ما يهتم في الأعمال الخيرية مثل الجمعية الخيرية التي تأسست عام 1875 م . ومنها ما يهتم بالمرأة والطفل مثل جمعية حماية الطفل التي أسستها مقبولة الشلق في داريا ودمر . وكذلك جمعية مبرة التعليم والمواساة التي أسستها الأديبة سلمى الحفار عام 1945 م .

التصنيف :

الأعمال التجارية	الأعمال الخدمية
* مراقبة السياسات الجمركية والضريبية .	* نشرت أسعار البضائع والعملة في الجرائد المحلية .
* تمثيل المؤسسات التجارية والصناعية .	* نفذت مشروع مياه عين الفيحة .

التاريخ هل نموذج رقم 2

النص التاريخي :

1- الفكرة الرئيسية للنص : أعمال غرفة تجارة دمشق

2- الحقائق الواردة في النص :

- تأسيس غرفة تجارة دمشق عام 1830 م
- احتلال فرنسا لسورية .
- نشرت أسعار البضائع والعملة
- نفذت مشروع مياه عين الفيحة عام 1932 م
- مساهمة لطفي الحفار وفارس الخوري

3- معلومات غير ذات الصلة : افتتح معرض في مدرسة التجهيز

4- مساهمتهم في مشروع جر مياه عين الفيحة .

5- التجارية : * مراقبة السياسات الجمركية والضريبية

* نشر أسعار البضائع والعملة وكل ما يهم التجار

* الترويج عن المؤسسات التجارية والصناعية

الخدمية : * تنفيذ مشروع مياه عين الفيحة

الخط الزمني :

1- عنوان الخط الزمني : تطور بناء المرافئ في سورية ما بين

عامي 1880- 1980 م

2- اختيار الاجابة :

1- عقود

2- العقد الخامس

3- دورها في استيراد البضائع وتصدير المنتجات الوطنية .

خارطة المفاهيم :

اتبعت الدول الغربية وسائل للسيطرة على الاقتصاد العربي من خلال
إغراق الدول العربية بالديون ، وفرض العقوبات الاقتصادية بحجج
مختلفة منها محاربة الإرهاب أو امتلاك أسلحة دمار شامل ، وعملت
أيضاً على إضعاف المنتجات الوطنية ، وإنشاء ثقافة استهلاكية بين
السكان تقوم على تفضيل السلع الأجنبية على الوطنية .

التصنيف :

الاجتماعية	الاقتصادية	السياسية
* معاناة الفلاحين	* ربط مناطق الإنتاج بمناطق الاستهلاك . * بقاء أدوات الزراعة على حالها القديم .	* الحروب . * الاضطرابات الداخلية .

التاريخ هل نموذج رقم 1

النص التاريخي :

أولاً :

1- الفكرة الرئيسية :

تطور عملية النسخ والطباعة في سورية

2- أفكار محمد كرد علي (حقيقة) :

لأنها مثبتة من خلال عدد المطابع الذي بلغ ثمانين مطبعة ،

ولا تزال الألوف من المطبوعات محفوظة في خزائن سورية

والغرب .

3- المعلومات غير ذات الصلة : تم تحويل المدرسة الجقمقية إلى

متحف للخط العربي .

4- يدل على غزارة الإنتاج الثقافي وزيادة عدد المثقفين ، وزيادة

الوعي الثقافي لدى المجتمع .

الخط الزمني :

1- عنوان الخط الزمني : تأسيس الكليات والمنظمات والجمعيات في

سورية ما بين عامي 1930 - 2010 م

2- اختيار الإجابة :

1- عقود

2- القرن 21

3- يدل على اهتمام السوريين في تعليم بناتهم من أجل المساهمة في

بناء الوطن .

خارطة المفاهيم :

أعمال نازك العابد وتشمل الأعمال السياسية ومنها : إنشاء مشفى ميداني لمعالجة الجرحى ، وساعدت ثوار الغوطة ، وشاركت في مؤتمر لدعم القضية الفلسطينية ، وكذلك الأعمال الاجتماعية ومنها أهتمت بعلم التعريض والإسعاف ، وتأسيس مدرسة بنات الشهداء .

التصنيف :

الثقافية	الاقتصادية	السياسية
* الاهتمام بالتعليم	* إصدار قانون الإصلاح الزراعي . * تأميم المصانع والمصارف	* دعم حركات التحرر العربية والعالمية * توثيق العلاقة مع المهجر الاشتراكي .

التاريخ هل بصودج رقم 4

النص التاريخي :

النص التاريخي :

1- عنوان النص : النضال السياسي للحصول على الاستقلال

2- الحقائق الواردة في النص :

- الإضراب الستيني
- سفر أعضاء الوفد السوري إلى باريس .
- ترأس هاشم الأتاسي الوفد السوري .
- نص مشروع معاهدة 1936م .
- اعتراف فرنسا بسورية دولة مستقلة .
- قبول سورية في عصبة الأمم .
- السماح ببقاء قاعدتين جويتين (المزة - النيرب)
- مدة المعاهدة 25 سنة .

3- الهدف الحقيقي لفرنسا تخفيف الضغط السياسي عليها وكسب المزيد

من الوقت .

4-

سلبيات مشروع معاهدة عام 1936 م	إيجابيات مشروع معاهدة عام 1936 م
* تقدم سورية طرق المواصلات لفرنسا أثناء الحرب	* اعتراف فرنسا بسوريا دولة مستقلة .
* السماح لفرنسا بإقامة قاعدتين جويتين (المزة - النيرب)	* تهيئة الظروف لقبول سوريا في عصبة الأمم المتحدة
* مدة المعاهدة 25 عام .	* تنشأ بين الدولتين علاقات صداقة .

خارطة المفاهيم :

من أبرز أعمال الشيخ طاهر الجزائري : تأسيس جمعية المقاصد الخيرية في دمشق عام 1878 م التي عملت على توعية الناس وحث حب العلم بين الشباب ، وأيضاً من أعماله ترميم وتجهيز المدارس في الجوامع والتكايا حيث تم افتتاح تسع مدارس في مدينة دمشق اثنتين منها للإناث . وتم تعيينه مفتشاً للمعارف في سورية حيث بذل جهوداً في سبيل إصلاح أساليب التعليم ، وابتكار أنجح وسائل التعليم ، والدعوة إلى طلب العلم .

التصنيف :

الصعيد القومي	الصعيد الوطني
* وقوفه ضد المشاريع الغربية كحلف بغداد	* تسلم العديد من المناصب السياسية والعسكرية
* خاض معارك فلسطين عام 1948 م	* النضال ضد الاحتلال الفرنسي
* المساهمة في التقارب مع مصر لتحقيق الوحدة العربية	

الخط الزمني :

1- **عنوان الخط الزمني :** تطور الزراعة في سورية ما بين عامي 1920-1950 م .

2- **اختيار الإجابة :**

- أ- عقود
ب- العقد الثالث
ج- القرن 20
3- **المستمر :** هو العمل بالزراعة .
المتغير : هو طريقة إدخال المكننة حيث انتقلت من حالة فردية إلى حالة جماعية .
4- **الصعوبات التي واجهت الفلاح في أثناء الاحتلال العثماني .**
صعوبة ربط مناطق الإنتاج بمناطق الاستهلاك ، بقاء أدوات الزراعة على حالها القديم ، الحروب والاضطرابات الداخلية .

التاريخ هل نموذج رقم 5

النص التاريخي :

1- عنوان النص : استقلال سورية

2- الحقائق الواردة في النص :

- العدوان الفرنسي على سورية
- وقوف بريطانيا ضد فرنسا
- استخدام الاتحاد السوفيتي حق الفيتو عام 1946 م .
- الانتداب الفرنسي على سورية .
- تسليم الفرنسيين جميع الثكنات إلى الحكومة السورية .
- احتفلت سورية بعيد الجلاء 17 نيسان عام 1946 م .

3- المعلومات غير ذات الصلة :

كان حلف بغداد أخطر الأخطار العسكرية .

4- لإفشال محاولة الفرنسيين إطالة عمر نظام الانتداب على سورية .

5- فقدانهم الأمل في استمرار احتلالهم لسورية .

الخط الزمني :

1- عنوان الخط الزمني : الثورات السورية ضد الاحتلال الفرنسي

2- اختيار الاجابة :

- أ- عقود
- ب- العقد الثاني

3- النتيجة : حققوا انتصارات كبيرة ضد الاحتلال الفرنسي وغموا

الكثير من الأسلحة .

السبب : امتلاك الفرنسيين الكثير من الأسلحة والقوات .

خارطة المفاهيم :

تمثلت إجراءات فرنسا الاستعمارية في سورية من الناحية السياسية من خلال إقامة إدارة فرنسية ، اعتمدت سياسة فرق تسد ، الاتفاق مع تركيا للتنازل عن كيليكيا .

وتمثلت من الناحية الثقافية من خلال جعل اللغة الفرنسية لغة رسمية ، درّست جغرافيتها وتاريخها ، إجبار الطلاب على تحية علمها .

التصنيف :

الاجتماعية	الثقافية	السياسية
* إضعاف الانتماء القومي العربي .	* ربط المؤسسات التعليمية بهم .	* عزل الجولان عن الوطن
* تفكيك الترابط الاجتماعي بين سكان الجولان .	* فرض اللغة والمناهج العبرية .	* الأم سورية
	* سرقة آثار الجولان وترويضها	* فرض هوية الاحتلال على المواطنين العرب السوريين
	* بعبارة عبرية	

التاريخ هل نموذج رقم : 1

خارطة المفاهيم :

عملت السياسة الفرنسية بعد احتلالها لسورية على ربط الاقتصاد السوري بالاقتصاد الفرنسي ، وإفقار الناس ، وتقوية النظام الإقطاعي ، والسيطرة على الأراضي ومنحها لكبار الملاكين . واهتمت بزراعة القطن من أجل سد حاجات شركاته .

التصنيف :

أ- عانى الفلاحون في ظل الاحتلال العثماني من الفقر .

(اجتماعية)

ب - عمد التجار السوريون لاستيراد أدوات الإنتاج الأوربية .

(اقتصادية)

ت- وضعت سورية بموجب اتفاقية ساكس بيكو تحت الانتداب الفرنسي . (سياسية)

ث - عمد الاحتلال السيطرة على الطرق التجارية والممرات الحيوية .

(اقتصادية)

النص التاريخي :

الأفكار الفرعية :

1- الصدى العالمي للعدوان الفرنسي .

2- استخدام الاتحاد السوفيتي حق الفيتو .

3- إصرار السوريون على انسحاب القوات الأجنبية .

4- تسليم الفرنسيون الثكنات العسكرية للسوريين .

5- احتفال السوريون بجلاء القوات الفرنسية .

الحقائق التاريخية :

1- استخدام الاتحاد السوفيتي حق الفيتو عام 1946 م .

2- تسليم الفرنسيون الثكنات العسكرية للسوريين .

3- جلاء القوات الفرنسية 17 نيسان عام 1946 م .

معلومات غير ذات الصلة :

وافقت الأمم المتحدة على قرار تقسيم فلسطين .

ما دلالة :

فقدانهم الأمل في استمرار احتلالهم لسورية .

مبدأ السبب والنتيجة :

النتيجة : الدعم العربي للموقف السوري - استخدام الاتحاد

السوفيتي حق الفيتو أول مرة في مجلس الأمن .

السبب : النضال والكفاح المستمر للسوريين .

الخط الزمني :

1- عنوان الخط الزمني : التطور الاقتصادي في سورية ما بين

في القرنين التاسع عشر والعشرين .

2- اختيار الإجابة :

1- قرون

2- العقد الثالث

3- تنظيم الفلاحين وتقديم الدعم لهم في الحصول على حقوقهم .

التاريخ هل نموذج رقم : 7

النص التاريخي :

الفكرة الرئيسية :

ممارسات الكيان الصهيوني بحق أبنائنا في الجولان .

الحقائق التاريخية :

1- احتلال الكيان الصهيوني للجولان عام 1967 م .

2- فرض اللغة والمناهج العبرية .

3- مصادرة الأراضي والمياه .

4- انطلاق الثورة الفلسطينية عام 1935 م .

معلومات غير ذات الصلة :

انطلاق الثورة الفلسطينية عام 1935 م .

ما دلالة :

رفضهم للاحتلال والرغبة في تحرير أرضهم والعودة إلى حضن الوطن .

التصنيف :

الثقافية	السياسية
1- ربط المؤسسات العلمية بهم	1- عزله عن الوطن الأم سورية
2- فرض اللغة والمناهج العبرية .	2- فرض هوية الاحتلال على المواطنين السوريين .
3- سرقة آثار الجولان .	
4- تزويرهم الآثار بعبارات عبرية في مخابر فنية .	

الخط الزمني :

1- عنوان الخط الزمني : تطور الأحداث السياسية في سورية ما بين عامي 1950 م - 1980 م .

2- اختيار الإجابة :

1- عقود

2- العقد السادس

3- بسبب مشاركة القوات المصرية والعراقية والمغربية في الحرب .

خارطة المفاهيم :

أهم أعمال العقيد عدنان المالكي مشاركته في حرب فلسطين ، وقوفه ضد المشاريع الاستعمارية مثل حلف بغداد ، ومساهمته في التقارب مع مصر من أجل قيام وحدة عربية ، وأيضاً إدخاله الرياضة للجيش والقوات المسلحة من خلال تشكيل النوادي والفرق الرياضية .

الخريطة الجغرافية :

(1) : (الانتداب الفرنسي)

(2) : (منطقة دولية)

(3) : (منطقة عربية)

(4) : (الانتداب البريطاني)

التاريخ هل نموذج رقم 9

النص التاريخي :

الفكرة الرئيسية :

تدهور الزراعة في ظل الاحتلال العثماني

الحقائق التاريخية :

- 1- الحرب العالمية الأولى (1914 - 1918 م)
- 2- إجراءات الحاكم العسكري جمال باشا ضد الأهالي .
- 3- موجة الجراد التي أصابت المحاصيل الزراعية .
- 4- مصادرة جمال باشا للمحاصيل الزراعية .

معلومات غير ذات الصلة :

اهتمام فرنسا بزراعة القطن

ما الدليل :

مصادرة المحاصيل من الفلاحين

التصنيف :

خارطة المفاهيم :

تشمل بنود إنذار الجنرال الفرنسي غورو من الناحية السياسية قبول الانتداب الفرنسي ، و التوقف عن دعم الثوار ، وأيضاً إلغاء التجنيد الإجباري . وتشمل من الاقتصادية قبول العملة الورقية ، والتصرف بسكة ريباق - حلب الحديدية .

الخريطة الجغرافية :

انطلقت عدة ثورات ضد الاحتلال الفرنسي منها ثورة الشمال وأهم معاركها : اسكنرون ، حارم ، إدلب ، جسر الشغور . وأيضاً ثورة الساحل وأهم معاركها : وادي ورور ، ومعركة تلخ في حمص ، وانطلقت عدة ثورات في لبنان وأهم معاركها راشيا .

الاقتصادية

الاجتماعية

- | | |
|---|---------------------------|
| 1- تدني مستوى الإنتاج . | اشتداد الجوع ونقص الخبز . |
| 2- اشتد الغلاء | |
| 3- مصادرة جمال باشا للمحاصيل الزراعية . | |
| 4- موجة الجراد التي أصابت المحاصيل الزراعية . | |

الخط الزمني :

1- عنوان الخط الزمني : تطور الكشافة السورية ما بين عامي 1910 م - 1940 م .

2- اختيار الاجابة :

- 1- عقود
- 2- العقد الثاني
- 3- بسبب دورها الإيجابي الهام في نشر الوعي والثقافة بين جيل الشباب

التاريخ | حل نموذج رقم : 111

النص التاريخي :

1- الفكرة الرئيسية :

خسارة العرب لحرب فلسطين

2- الأفكار الفرعية للنص :

- 1- قرار تقسيم فلسطين .
 - 2- التجهيزات لخوض المعركة .
 - 3- مشاركة السوريين في حرب فلسطين .
 - 4- خسارة العرب لحرب فلسطين .
- 3- يدل على الانتماء القومي للشعب السوري والوقوف إلى جانب أشقائهم الفلسطينيين .

4- الحقائق التي وردت في النص :

- تصويت الأمم المتحدة على تقسيم فلسطين عام 1947 م .
- قيادة العقيد عبد الوهاب الحكيم لواء المشاة الأول .
- قيادة فوزي القاوقجي لجيش الإنقاذ .
- خوض العرب لمعركة جديين والمالكية .
- خسارة العرب لحرب فلسطين .

5- مبدأ السبب والنتيجة :

- * السبب : قرار الأمم المتحدة بتقسيم فلسطين .
- * النتيجة : خسارة العرب لحرب فلسطين .

الخط الزمني :

1- عنوان الخط الزمني : تطور افتتاح المعارض في سورية ما بين

عامي 1920- 1960

2- اختيار الإجابة :

- 1- عقود
- 2- العقد الرابع
- 3- دورها في التعريف والترويج للمنتجات الوطنية .

خارطة المفاهيم :

تم إنشاء الجمعيات العلمية والأدبية والإصلاحية في سورية وكان من أبرزها الجمعية السورية في بيروت عام 1847 م التي كان هدفها تنشيط أسباب العلوم وترقيتها ونشر الفنون ، وأيضاً الجمعية العلمية السورية التي تألقت من أدياء بيروت ودمشق وحمص عام 1868 م ، وكذلك المجمع العلمي الشرقي الذي أنشأ من أجل البحث في العلم والصناعة عام 1882 م .

التصنيف :

التراث المادي	التراث غير المادي
اللباس الشعبي	الفوازير
صناعة الفخار	الأمثال الشعبية
أكلة الفلافل والحمص	التعابير

أ - أجب عن الأسئلة التالية :

1) ضع كلمة (صح) أمام العبارة الصحيحة وكلمة (غلط) أمام العبارة غير الصحيحة وانقلها إلى ورقة إجابتك: (40 درجة)

- 1 - () تمنح المشاركة المجتمعية في المناسبات والأعياد الوطنية مشاعر الانتماء .
- 2 - () نبدأ بالتخلي عن الأفكار القديمة ونبني الأفكار الجديدة في مرحلة صياغة الأدلة والبراهين .
- 3 - () أنتج التطور التقني في المجتمع السوري أنماط علاقات جديدة .
- 4 - () ينظم القانون التجاري طبيعة العلاقات بين الأشخاص لحماية حقوقهم كأفراد .

2) - أكتب على ورقة إجابتك العبارات الواردة في المجموعة (أ) وما يناسب كل منها في المجموعة (ب) : (24 درجة)

- المجموعة (أ) : شخص يقوم بسرقة منزل - عقد استئجار منزل - تخريب الحدائق
- المجموعة (ب) : القانون البيئي - القانون الإداري - القانون الجنائي - القانون المدني

3) - اختر الإجابة الصحيحة مما يأتي ، وانقلها إلى ورقة إجابتك : (18 درجة)

- أ - أحد معوقات المثابرة :
القيام بدورات تدريبية - السعي لتغيير الواقع - الخوف من الفشل - معرفة الإنسان قدراته
- ب - إحدى الوحدات الإدارية التالية ليس لديها مجلس إدارة محلي :
القرية - المدينة - البلدة - البلدية

4) - ضعف الانتماءات الفرعية (العشائرية ، القبلية) في المجتمع السوري ، علل ذلك . (18 درجة)

ب- أجب عن سؤاليين فقط من الأسئلة التالية :

(100 درجة)

1- دراسة حالة :

((تمر العديد من الدول بأزمات اقتصادية تؤدي إلى انهيار حاد في قيمة عملتها الوطنية ، وغالبا في هذه الأزمات تطرح أفكاراً للتعامل بعملات لدول أخرى قد يكون ذات فائدة اقتصادية أكبر ، إلا أنها تبقى متمسكة بعملتها الوطنية))

- أ- لماذا لا تتخلى الدول عن عملتها الوطنية .
- ب- برأيك ، كيف نحافظ على عملتنا الوطنية .
- 2- وازن بين : الإعلام التنموي و الإعلام البيئي من حيث : المضمون والوظيفة .
- 3- عبر بأسلوبك : عن الوعي بالهوية الوطنية .

الاسم :

امتحان شهادة الدراسة الإعدادية العامة والشرعية دورة عام

الهل سوف ينشر على مجموعة مجدولين التعليمية

نموذج (2)

التربية الوطنية :

1 - أجب عن الأسئلة التالية :

1) ضع كلمة (صح) أمام العبارة الصحيحة وكلمة (غلط) أمام العبارة غير الصحيحة وانقلها إلى ورقة إجابتك: (40 درجة)

- 1 - () مفهوم المواطنة يساعد على حرية الفرد والقدرة على الإبداع والابتكار .
- 2 - () الإدارة المحلية هي التي تتخذ القرارات عن المواطنين في حل مشكلاتهم .
- 3 - () يعد الانتماء الوطني من مكونات الإرادة الوطنية .
- 4 - () يقاس غنى الدول و فقرها بما تملكه من ثروات كامنة.

2) - أكتب على ورقة إجابتك العبارات الواردة في المجموعة (أ) وما يناسب كل منها في المجموعة (ب) : (24 درجة)

المجموعة (أ) : مرتكزات المثابرة - سمات المثابرة - أهمية المثابرة

المجموعة (ب) : الإيمان بالقدرات الشخصية - مناقشة الآراء - الاستمرار في العمل - التحلي بالإصرار وقوة العزيمة

3) - اختر الإجابة الصحيحة مما يأتي ، وانقلها إلى ورقة إجابتك : (18 درجة)

أ - من المنظمات الدولية غير حكومية :

الاتحاد الأوروبي - منظمة التعاون الإسلامي - الهلال الأحمر - الأمم المتحدة

ب - يتطلب التعامل مع وسائل الإعلام الجديدة والإنترنت امتلاك :

رأس المال - مهارات التفكير الناقد - وعي ثقافي وسياسي - معرفة باللغات العالمية

4) - يعزز التفكير الناقد الاستقلالية عن الآخرين ، علل ذلك . (18 درجة)

ب- أجب عن سؤاليين فقط من الأسئلة التالية : (100 درجة)

1- دراسة حالة :

((تحاول الدول العربية تجاوز حالة التخلف الاقتصادي التي تعاني منها، من خلال إدخال المعرفة إلى بعض القطاعات الاقتصادية التي

يغلب عليها الطابع التقليدي وذلك من خلال استيراد التكنولوجيا ولكن تبقى هذه الطريقة محدودة التأثير ما لم يتم العمل على توطین

التكنولوجيا وإنتاجها في البلاد العربية)).

أ- ما المشكلة التي تعاني منها الدول العربية .

ب- ما الطريقة التي تحاول بها الدول العربية حل المشكلة .

ج- إلى ماذا يؤدي توطین المعرفة في الدول العربية .

2- وازن بين الإعلام التفاعلي والإعلام التقليدي من حيث : الوسائل - التفاعل والمشاركة - الانتشار والوصول

3- ما العوامل المؤثرة في المشاركة المجتمعية .

1) ضع كلمة (صح) أمام العبارة الصحيحة وكلمة (غلط) أمام العبارة غير الصحيحة وانقلها إلى ورقة إجابتك: (40 درجة)

- 1- () الخوف من نظرة الآخرين إلينا في حال الفشل ، عقبة أمام تحقيق أهدافنا .
- 2- () من سمات المجتمع السوري الانغلاق وعدم الانفتاح على الآخر .
- 3- () تقتصر انتهاكات حقوق الإنسان على الممارسات المتبعة في الحروب والأعمال العسكرية .
- 4- () الطاقة الشمسية تستنزف المساحات الأرضية ويؤثر سلباً في الحياة البرية .

2) - أكتب على ورقة إجابتك العبارات الواردة في المجموعة (أ) وما يناسب كل منها في المجموعة (ب) : (24 درجة)

المجموعة (أ) : أهمية الإعلام - مجالات الإعلام - الأثر السلبي للإعلام

المجموعة (ب) : الإعلام التنموي - تبادل الثقافات بين الشعوب - المشاركة في الانتخابات - التضليل وتشويه الحقائق

3) - اختر الإجابة الصحيحة مما يأتي ، وانقلها إلى ورقة إجابتك : (18 درجة)

أ - يتم تعزيز التنوع في المجتمع السوري من خلال :

إحياء التراث الوطني - رفض المشاريع الاستعمارية - ترسيخ مبدأ العيش المشترك - تضافر جهود المؤسسات التربوية والثقافية
ب - من أسباب الشرود الذهني :

الإجهاد وعدم النوم الكافي - ربط التعلم بالمواقف الحياتية - التعلم من خلال التطبيق - استخدام المجسمات والصور والرسوم

4) - يمثل الجولان السوري أهمية بالنسبة للكيان الصهيوني ، علل ذلك . (18 درجة)

ب- أجب عن سؤاليين فقط من الأسئلة التالية : (100 درجة)

1- دراسة حالة :

((من الصعب أن تجد مجتمعاً من المجتمعات في حالة من الثبات المطلق فهي دائماً في تغير مستمر ، فقد يكون نحو الأسوأ ، ويسمى ذلك تفككاً أو تدهوراً ، وقد يكون نحو الأفضل وندعوه تطوراً . حيث كلما كان المجتمع مستقراً استطاع تسخير إمكاناته المتاحة في تحقيق التنمية وإنتاج عوامل تطوره ، أما في حالات الصراع فإن المجتمع يواجه كل إمكاناته وقدراته من أجل حسم الصراع والحفاظ على بقائه .))

أ- ما العلاقة بين تطور المجتمع واستقراره ؟

ب- ما الآثار التي تتركها حالة عدم الاستقرار على حركة تطور المجتمع ؟

ج- برأيك ما الدروس المستفادة من حالات الصراع في المجتمع ؟

2- وازن بين القانون العام والقانون الخاص من حيث : معيار المصلحة - أطراف المسألة القانونية - صفة أطراف المسألة القانونية .

3- ما عوامل النجاح في الحياة .

الحل سوف ينشر على مجموعة مجدولين التعليمية

نموذج (4)

التربية الوطنية :

أ - أجب عن الأسئلة التالية :

1) ضع كلمة (صح) أمام العبارة الصحيحة وكلمة (غلط) أمام العبارة غير الصحيحة وانقلها إلى ورقة إجابتك: (40 درجة)

- 1- () يساعد التفكير الناقد على تهيئة بيئة مناسبة للحوار .
- 2- () الإعلام الترفيهي هو تزويد الناس بالمعلومات والتعريف بأهم الأحداث المحلية والعالمية .
- 3- () عندما يكون أحد الأطراف من الأجانب يطبق القانون الخاص .
- 4- () الإرادة الوطنية هي كل فعل يقوم به أبناء الوطن للحفاظ على وحدة وطنهم وحرية واستقلاله .

2) - أكتب على ورقة إجابتك العبارات الواردة في المجموعة (أ) وما يناسب كل منها في المجموعة (ب) : (24 درجة)

المجموعة (أ) : الثقافة - العملة الوطنية - التاريخ المشترك

المجموعة (ب) : الأحداث التي عاشها الأجداد - الوعي بالهوية الوطنية - الإنجازات الفكرية والمادية - رمز السيادة الوطنية

3) - اختر الإجابة الصحيحة مما يأتي ، وانقلها إلى ورقة إجابتك : (18 درجة)

أ - التخلي عن الأفكار القديمة وتبني الأفكار الجديدة :

الاستكشاف - مناقشة الآراء - تبني التصورات الصحيحة - صياغة الأدلة والبراهين

ب - الاستخدام المفرط لموارد الطبيعة يؤدي إلى :

تجدها - تراجعها - ديمومتها - تعددها

4) - توجه معظم الدول للاعتماد على اقتصاد المعرفة ، علل ذلك . (18 درجة)

ب- أجب عن سؤاليين فقط من الأسئلة التالية : (100 درجة)

1- دراسة حالة :

((الدعاية والإعلام التي اعتمدها العدو الصهيوني من قيام كيانه استندت إلى تزييف الوقائع وتشويه الحقائق لتضليل الرأي العام العالمي عبر تصوير أنفسهم بأنهم الضحية وهم دعاة السلام والفلسطينيون هم جلادون وإرهابيون وكل ما يقومون به هو دفاع عن أنفسهم ضد العرب دعاة القتل والإجرام والإرهاب ومع ظهور الإعلام المقاوم تمكن الرأي العام العالمي من المقارنة والاستنتاج بأن الحقيقة مغايرة تماماً للدعايات الصهيونية .))

عالج هذا الموضوع من خلال فهمك لدور الإعلام في المجتمع

أ- كيف استطاع الإعلام الصهيوني خداع الرأي العام العالمي لفترة طويلة

ب- بم تفسر التغيير في الرأي العام العالمي تجاه الشعب العربي الفلسطيني

ج- ما الحقائق التي ظهرها الإعلام المقاوم ؟

2- وازن بين اقتصاد المعرفة والاقتصاد التقليدي من حيث : إنتاج الموارد - تحقيق الأرباح - استثمار الموارد - التقدم والتخلف

3- ما الممارسات التركية بحق أهالي لواء إسكندرون .

أ - أجب عن الأسئلة التالية :

1) ضع كلمة (صح) أمام العبارة الصحيحة وكلمة (غلط) أمام العبارة غير الصحيحة وانقلها إلى ورقة إجابتك: (40 درجة)

- 1- () الثروات الطبيعية والمنشآت والمرافق العامة هي ملكية خاصة .
- 2- () تمثل ذريعة حماية حقوق الإنسان إحدى وسائل الدول الكبرى للتدخل في شؤون الدول الأخرى .
- 3- () يسمى القانون العام لحماية الحقوق الشخصية للأفراد .
- 4- () المساواة في الحقوق والواجبات تشجع على الإبداع والابتكار .

2) - أكتب على ورقة إجابتك العبارات الواردة في المجموعة (أ) وما يناسب كل منها في المجموعة (ب) : (24 درجة)

المجموعة (أ) : أهمية المشاركة المجتمعية - أشكال المشاركة المجتمعية - العوامل المؤثرة في المشاركة المجتمعية

المجموعة (ب) : حماية الموارد الطبيعية - حرية التعبير وإبداء الرأي - تنمية الشعور الجمعي بالوطن - المشاركة في الانتخابات

3) - اختر الإجابة الصحيحة مما يأتي ، وانقلها إلى ورقة إجابتك : (18 درجة)

أ - يعمل على تحريك العملية التنموية وتوفير فرص عمل جديد :

القطاع الخاص - منظمات المجتمع - المؤسسات الحكومية - مجلس الشعب

ب - قانون ينظم علاقة الإدارة العامة بالأفراد ويهدف إلى تحقيق المصلحة العامة :

القانون المالي - القانون الدستوري - قانون العقوبات - القانون الإداري

4) - يؤدي استخدام الطاقات المتجددة إلى رفع المستوى الصحي في أي دولة ، علل ذلك . (18 درجة)

ب- أجب عن سؤالين فقط من الأسئلة التالية : (100 درجة)

1- دراسة حالة :

((تسهم الإدارة المحلية في إعداد مواطنين ديمقراطيين قادرين وفاعلين لأنها تعطيهم الخبرات المتعلقة بالشأن العام هذا بالإضافة

إلى إبراز العناصر الصالحة للقيادة وتدريبها على تحمل المسؤوليات فأبواب المجالس النيابية المفتوحة سوف تفسح المجال أمام

النخب الشابة الصاعدة للدخول إلى الحياة السياسية وممارسة دورها سواء أكان في القيادة أو الإدارة)) .

عالج هذا الموضوع من خلال فهمك للإدارة المحلية في سورية

أ- ما الأثر الديمقراطي لمشاركة المواطنين في ممارسات الإدارة المحلية ؟

ب- كيف يتم وصول الشخص المناسب للمكان المناسب ؟

ج- كيف يتم إعداد القادة الإداريين في مجالس الإدارة المحلية ؟

2- وازن بين العمل التطوعي والمشاركة في المناسبات الوطنية من حيث : الأهمية - الأهداف

3- ما العوامل المؤثرة في الإرادة الوطنية .

أ - أجب عن الأسئلة التالية :

1) ضع كلمة (صح) أمام العبارة الصحيحة وكلمة (غلط) أمام العبارة غير الصحيحة وانقلها إلى ورقة إجابتك: (40 درجة)

- 1- () من أهداف المشاركة في الانتخابات تنشيط الحياة السياسية وبناء مجتمع ديمقراطي متماسك .
- 2- () الانتماءات الضيقة تضعف الانتماء الوطني .
- 3- () من المنظمات الدولية الغير حكومية الجامعة العربية .
- 4- () تتسم الموارد في الاقتصاد التقليدي بوفرتهما وقدرتها على تلبية حاجات الفرد والمجتمع.

2) - أكتب على ورقة إجابتك العبارات الواردة في المجموعة (أ) وما يناسب كل منها في المجموعة (ب) : (24 درجة)

المجموعة (أ) : التكامل - العيش المشترك - المجتمع الفتى

المجموعة (ب) : ارتفاع نسبة الشباب - مكونات متنوعة تشكل نسيج اجتماعي - علاقات اجتماعية وثيقة - الانتماء العشائري والقبلي

3) - اختر الإجابة الصحيحة مما يأتي ، وانقلها إلى ورقة إجابتك : (18 درجة)

أ - ليست من مكونات الإرادة الوطنية :
وحدة المصير - الانتماء الوطني - خلق حالة من الاستقرار المجتمعي - العدالة المجتمعية

ب - من واجبات المواطن تجاه الهويات الوطنية المختلفة :

الشعور بالرضا لكل ما هو إيجابي - استيعاب كل الانتماءات الأخرى
الوقوف في وجه سياسة الدول المعادية - نبذ التعصب والتخلف

4) - التنوع في المجتمع السوري مصدر غنى وتفاعل حضاري ، علل ذلك . (18 درجة)

ب- أجب عن سؤاليين فقط من الأسئلة التالية : (100 درجة)

1- دراسة حالة :

((استيقظ أبو ماجد باكراً وكعادته حمل معوله متجهاً نحو حقله وبينما هو يقلب الأرض توجه إليه أحد المستوطنين الصهاينة تسانده وتنازره ثلة من قوات الاحتلال مهدداً إياه قائلاً : عليك أن تغادر هذه الأرض لقد أصبحت ملكي ولم تعد أرضك عليك الخروج منها حالاً وإلا قتلتك نظر إليه أبو ماجد نظرة تحدٍ وقدماه مزروعان في الأرض قائلاً : أفضل الموت على أن يكتب التاريخ أن قلاحاً فلسطينياً ترك أرضه للمستوطنين الصهاينة وغادرها دون مقاومة))

عالج هذا الموضوع من خلال فهمك حقناً في أرضنا

أ- وضح موقف أبي ماجد تجاه المستوطن الصهيوني .

ب- أوضح أهمية فلسطين .

ج - ما أسباب إقامة الكيان الصهيوني من قبل بريطانيا وفرنسا على أراضي فلسطين .

2- وازن بين اختصاصات مجلس المحافظة واختصاصات مجلس المدينة

3- ما إيجابيات الطاقة الشمسية .

1) ضع كلمة (صح) أمام العبارة الصحيحة وكلمة (غلط) أمام العبارة غير الصحيحة وانقلها إلى ورقة إجابتك: (40 درجة)

- 1- () كثرة الوقوع في الأخطاء يفقدنا القدرة على الاستمرار .
- 2- () يحظى الإعلام بأهمية كبيرة باعتباره مصدراً أساسياً لتثقيف الناس ورفع مستوى وعيهم .
- 3- () التطور الثقافي يزيد من التعصب والطائفية والقبلية .
- 4- () تتجلى أهمية الموارد الطبيعية أنها تسهم في زيادة الدخل الوطني .

2) - أكتب على ورقة إجابتك العبارات الواردة في المجموعة (أ) وما يناسب كل منها في المجموعة (ب) : (24 درجة)

المجموعة (أ) : الابتكار - البنية التحتية - الإدارة

المجموعة (ب) : التخطيط الجيد - تقنيات المعلومات والاتصالات - رأس المال البشري - ربط مؤسسات التعليم بالمؤسسات الصناعية

3) - اختر الإجابة الصحيحة مما يأتي ، وانقلها إلى ورقة إجابتك : (18 درجة)

أ - الهدف المعلن للمنظمات الدولية غير الحكومية :

العمل الإنساني - الاستخبارات - الجاسوسية - الدعاية

ب - من أهم إيجابيات طاقة الرياح :

كلفتها منخفضة
تلبى حاجات المجتمع
- طاقة محلية متجددة لا ينتج عنها غازات ملوثة
- لا يمكن السيطرة واحتكارها

4) - يتسم تطور المجتمع أثناء الصراعات والحروب بأنه بطيء ، علل ذلك (18 درجة)

ب- أجب عن سؤاليين فقط من الأسئلة التالية : (100 درجة)

1- دراسة حالة :

جاء في كلمة السيد الرئيس بشار الأسد بتاريخ 17 / 2 / 2020 م

((إن الانتصار في المنطق الوطني يبدأ مع بداية الصمود ولو كان في اليوم الأول وبهذا المنطق فإن حلب انتصرت وسورية انتصرت انتصرنا جميعاً على الخوف الذين حاولوا زرعه في قلوبنا انتصرنا على الأوهام التي حاولوا غرسها في قلوبنا انتصرنا على التفكك على الحقد على الخيانة وعلى كل من يمثل هذه الصفات ويحملها ويمارسها)) .

عالج هذا الموضوع من خلال فهمك حقناً في أرضنا

أ- ما الفكرة العامة التي أراد السيد الرئيس إيصالها في كلمته .

ب- ما عوامل الصمود الواردة في كلمة السيد الرئيس .

ج- اقترح أفكاراً جديدة يمكن عبرها تكريس الإرادة الوطنية .

2- قارن بين : بين أهمية الجولان وأهمية لواء اسكندرون من حيث : الأهمية السياحية - الأهمية الاقتصادية

3- ما أهمية الموارد في التنمية الاقتصادية

الاسم :

امتحان شهادة الدراسة الإعدادية العامة والشرعية دورة عام

الهل سوف ينشر على مجموعة مجدولين التعليمية

نموذج (8)

التربية الوطنية :

1) ضع كلمة (صح) أمام العبارة الصحيحة وكلمة (غلط) أمام العبارة غير الصحيحة وانقلها إلى ورقة إجابتك: (40 درجة)

- 1 - () يسهم اقتصاد المعرفة في استثمار الموارد بأقل جهد وتكلفة .
- 2 - () تعد فلسطين الجسر الوحيد بين قارات آسيا وأوروبا وأمريكا .
- 3 - () يتسم المجتمع السوري بالثبات المطلق .
- 4 - () تحقيق الإنجازات تجاوز للتحديات وتغلب على مخاوف المستقبل .

2) - أكتب على ورقة إجابتك العبارات الواردة في المجموعة (أ) وما يناسب كل منها في المجموعة (ب) : (24 درجة)

المجموعة (أ) : القانون المدني - القانون الجنائي - القانون الدستوري

المجموعة (ب) : يبحث في شكل نظام الحكم - تنظيم طبيعة العلاقات بين الأشخاص - تمويل نفقات الدولة - حماية الأفراد من الاعتداءات

3) - اختر الإجابة الصحيحة مما يأتي ، وانقلها إلى ورقة إجابتك : (18 درجة)

أ - من التحديات التي تواجه الهوية الوطنية :

السيطرة على موارد البلاد - الانفتاح على ثقافات الشعوب - التدخل الخارجي في الشؤون الداخلية - الاعتراف بحقوق الآخرين

ب - من المبادئ الاقتصادية في الدستور السوري أن الثروات الطبيعية ملكية :

خاصة - عامة - للجمعيات الأهلية - المستثمر

4) - الإعلام الجديد هو إعلام جماهيري ، علل ذلك . (18 درجة)

ب- أجب عن سؤاليين فقط من الأسئلة التالية : (100 درجة)

1- دراسة حالة :

((يتميز المجتمع العربي عامة والسوري خاصة بالتنوع والتعددية ، التي شكلت مصدر قوة وتفاعل حضاري عبر التاريخ العربي ،

إلا أن القوى الاستعمارية الكبرى نظرت إليها على أنها منفذ للهيمنة والسيطرة على البلدان العربية ، من خلال تطبيق سياسة (فرق تسد) .))

أ- ما أبرز خصائص المجتمع العربي عامة والسوري خاصة ؟

ب- برأيك هل التنوع والتعددية في مجتمعنا يشكل عامل قوة أو عامل ضعف ؟ ولماذا ؟

2- وازن بين الآثار الإيجابية والسلبية للتطور التقني في مجال (الأسرة - المجتمع) .

3- بين أهمية الإعلام .

1) ضع كلمة (صح) أمام العبارة الصحيحة وكلمة (غلط) أمام العبارة غير الصحيحة وانقلها إلى ورقة إجابتك: (40 درجة)

- 1- () من معوقات المشاركة المجتمعية ارتفاع درجة الوعي السياسي .
- 2- () جهل المواطن بحقوقه وواجباته يؤثر سلباً في الهوية الوطنية .
- 3- () تسهم التدخلات تحت إطار الأمم المتحدة في وقف انتهاكات حقوق الإنسان .
- 4- () يوجد علاقة وثيقة بين استثمار الطاقة والأبعاد البيئية للتنمية المستدامة .

2) - أكتب على ورقة إجابتك العبارات الواردة في المجموعة (أ) وما يناسب كل منها في المجموعة (ب) : (24 درجة)

المجموعة (أ) : اللغة - العملة الوطنية - الانتماء الوطني

المجموعة (ب) : رمز من رموز السيادة الوطنية - وعاء لكل إنجازات الأمة - أداء الواجبات بدقة واتقان - الإنجازات الفكرية والمادية

3) - اختر الإجابة الصحيحة مما يأتي ، وانقلها إلى ورقة إجابتك : (18 درجة)

- أ - تحول الإنسان في الإعلام الجديد إلى :
مشارك وفاعل وصانع للإعلام - جهادي - متلق - متابع
- ب - العامل الأهم والأساسي في الإنتاجية في اقتصاد المعرفة هو :
وسائل الإنتاج - الموارد - التسويق - التعليم

4) - العامل التربوي هو أهم دعائم تقدم المجتمع وتطوره ، علل ذلك . (18 درجة)

ب- أجب عن سؤاليين فقط من الأسئلة التالية : (100 درجة)

1- دراسة حالة :

((لقد كان الشعب العربي السوري على ثقة بأن مصير المشاريع التي تستهدفه ستبوء بالفشل ، استناداً إلى خبرته التاريخية ، وتمرسه الطويل ومثابرتة بعزيمة لا تلين في الصراع مع القوى الاستعمارية بدءاً من الغزوات الصليبية والمغولية والاحتلال العثماني فالفرنسي فالصهيوني ، والعقوبات الاقتصادية الظالمة بحق الشعب السوري))

أ- ما التحديات والأخطار التي يواجهها الشعب السوري .

ب- ما الرؤية للتعامل مع التحديات والأخطار .

- 2- وازن بين : ممارسات الاحتلال الصهيوني في فلسطين وممارسات الاحتلال التركي في لواء اسكندرون في (المجال السياسي) .
- 3- بين أهمية المشاركة المجتمعية .

1) ضع كلمة (صح) أمام العبارة الصحيحة وكلمة (غلط) أمام العبارة غير الصحيحة وانقلها إلى ورقة إجابتك: (40 درجة)

- 1 - () تساعد القراءة في تكوين شخصية الفرد المبدعة والمبتكرة .
- 2 - () الاستثمار الأمثل للموارد طريقة غير مجدية في مواجهة ندرتها .
- 3 - () يعين أعضاء مجلس الإدارة المحلية بقرار من وزير الإدارة المحلية .
- 4 - () تتمتع جميع وسائل الإعلام بالاستقلالية والحيادية من الجهات المالكة و الممولة لها .

2) - أكتب على ورقة إجابتك العبارات الواردة في المجموعة (أ) وما يناسب كل منها في المجموعة (ب) : (24 درجة)

المجموعة (أ) : وحدة الأهداف والأمال - وحدة المصير - العدالة المجتمعية

المجموعة (ب) : شعور المواطنين بالانتماء - تحقيق رفاهية المجتمع - تحسين مستوى المعيشة - التاريخ المشترك

3) - اختر الإجابة الصحيحة مما يأتي ، وانقلها إلى ورقة إجابتك : (18 درجة)

أ - القانون الخاص هو القانون الذي :

يحكم العلاقات الدولية - يبين تقسيم سلطات الدولة - يحكم العلاقات ذات العنصر الأجنبي - يبين نظام الحكم في الدولة

ب - الجهة التي تقوم بتهيئة البيئة السياسية والقانونية للمشاركة المجتمعية :

المجتمع المدني - الفرد بصفته الشخصية - القطاع الخاص - المؤسسات الحكومية

4) - تزايد دور المنظمات الحقوقية غير الحكومية في التدخلات الدولية المتعلقة بحقوق الإنسان ، علل ذلك . (18 درجة)

ب- أجب عن سؤاليين فقط من الأسئلة التالية : (100 درجة)

1- دراسة حالة :

((يؤدي استقرار المجتمع إلى تمكينه من تسخير قدراته المتاحة في تحقيق التنمية وإنتاج عوامل تطوره ، أما في حالات الصراع فإن

كل إمكانياته وقدراته يتم توجيهها لإنهاء الصراع والحفاظ على بقائه ، وتبقى الدروس المستفادة من الصراع قاعدة أساسية

(أسوء استقرار أفضل من أي صراع) تحكم توجهه وتوضح أهمية الاستقرار في تحقيق تطوره .))

أ- ما العلاقة بين تطور المجتمع واستقراره ؟

ب- برأيك كيف يمكن للمجتمع أن يحول المخاطر التي تهدده إلى فرصة للتطور .

2- وازن بين : قارن بين المجتمع السوري قديماً وحديثاً من حيث : دور المرأة - التعليم .

3- ما مظاهر انتهاك حقوق الإنسان بحق الشعب الفلسطيني .

التربية الوطنية حل النموذج رقم (1)

عبارة (صح) (غلط) :

1- صح 2- غلط 3- صح 4- غلط

التوصيل :

1- شخص يقوم بسرقة منزل : القانون الجنائي

2- عقد استئجار منزل : القانون المدني

3- تخريب الحدائق : القانون البيئي

اختيار الإجابة :

أ- الخوف من النشل . ب- القرية

التعليل :

ضعف الانتماءات الفرعية (العشائرية ، القبلية) في المجتمع السوري بسبب تعزيز التواصل بين مختلف الفئات المجتمعية عبر المنظمات الشبابية التطوعية بما يقوي الانتماء إلى الوطن ، ويضعف الانتماءات العشائرية والقبلية.

دراسة الحالة :

1- لماذا لا تتخلى الدول عن عملتها الوطنية ؟

لأنها تعد رمزا من رموز سياتها الوطنية لا يجوز المساس بها .

2- برأيك كيف نحافظ على عملتنا الوطنية ؟

استثمار الموارد الطبيعية وتصنيعها وتصديرها ، ودور المواطنين والمغتربين خارج القطر في دعم الليرة السورية من خلال التعامل مع المصارف السورية .

الموازنة :

الإعلام التنموي	الإعلام البيئي
المضمون	التعريف بالخطط والمشاريع التنموية والمشاكل التي تعترضها
الوظيفة	توعية الناس وتزويدهم بالمعلومات المتعلقة بالقضايا البيئية
	تحريك الرأي العام لوقف تدمير البيئة والحد من التلوث
	تشجيع الناس على المشاركة في الأنشطة التنموية وتقديم المبادرات لتنمية المجتمع وتطوره

عبر بأسلوبك :

الوعي بالهوية الوطنية .

1- يرسخ قيم الاعتزاز بها والمحافظة عليها .

2- يعزز حب الفرد لوطنه والانتماء له .

3- يظهر القيم الإيجابية التي يمتاز بها مجتمعه من غيره من المجتمعات .

4- يذكي روح التعاون بين أبناء الوطن .

5- يضمن إعطائهم حقوقهم بالتساوي .

6- يدفعهم للمضي قدماً في سبيل خدمته والتضحية من أجله .

التربية الوطنية حل النموذج رقم (2)

عبارة (صح) (غلط) :

1- صح 2- غلط 3- صح 4- غلط

التوصيل :

- 1- مرتكزات المثابرة : الاستمرار في العمل
- 2- سمات المثابرة : التحلي بالإصرار وقوة العزيمة
- 3- أهمية المثابرة : الإيمان بالقدرات الشخصية

اختيار الإجابة :

أ- الهلال الأحمر ب- مهارات التفكير الناقد

التعليل :

يعزز التفكير الناقد الاستقلالية عن الآخرين لأنه يطور قدرتنا على قبول الآخرين وتفهمهم بعقلية منفتحة .

دراسة الحالة :

- 1- المشكلة التي تعاني منها الدول العربية .
التخلف الاقتصادي بكافة قطاعاته
- 2- الطريقة التي تحاول بها الدول العربية حل المشكلة .
استيراد التكنولوجيا الحديثة من الدول المتقدمة .
- 3- إلى ماذا يؤدي توطين المعرفة في الدول العربية .
يؤدي إلى القضاء على التخلف والاستغناء عن الاستيراد ، والاعتماد على القدرات المحلية ، وتحقيق الاكتفاء الذاتي

الموازنة :

الإعلام التقليدي	الإعلام التفاعلي	الوسائل
تلفاز - راديو - صحف ومجلات	حاسوب - شبكة انترنت - بريد الكتروني	التفاعل والمشاركة
بشكل أقل	بشكل أكبر	الانتشار والوصول
انتشار أقل	انتشار أكبر	

عبر بأسلوبك :

- العوامل المؤثرة في المشاركة المجتمعية
- 1- الوعي السياسي والثقافي والاجتماعي لأفراد المجتمع .
 - 2- حرية الرأي وإبداء الرأي .
 - 3- الإيمان بمبدأ تغليب المصلحة العامة على المصلحة الخاصة .
 - 4- التواصل بين المؤسسات الحكومية والمؤسسات الأهلية والأفراد
 - 5- درجة اهتمام المؤسسات الحكومية بالمشاركة في الخطط التنموية
 - 6- درجة تقدير أبناء المجتمع لجهود المشاركين وتشجيع الدولة.

التربية الوطنية حل النموذج رقم (3)

عبارة (صح) (غلط) :

- 1- صح 2- غلط 3- غلط 4- صح

التوصيل :

- 1- أهمية الإعلام : تبادل الثقافات بين الشعوب
2- مجالات الإعلام : الإعلام التمثيلي
3- الأثر السلبي للإعلام : التضليل وتشويه الحقائق

اختيار الإجابة :

ب- الإجهاد وعدم النوم الكافي

أ- تضافر جهود المؤسسات التربوية والثقافية

التعليل :

يمثل الجولان السوري أهمية بالنسبة للكيان الصهيوني لأن مرتفعات الجولان توفر حاجز دفاع طبيعي ضد الاعتداءات الصهيونية كما تشكل هضبة الجولان مصدراً مهماً للمياه و تعد أراضي الجولان من أخصب الأراضي الزراعية .

دراسة الحالة :

- 1- ما العلاقة بين تطور المجتمع واستقراره ؟
يؤدي استقرار المجتمع إلى تمكينه من تسخير قدراته المتاحة في تحقيق التنمية وإنتاج عوامل التطور .
2- ما الآثار التي تتركها حالة عدم الاستقرار على حركة تطور المجتمع ؟
يؤدي إلى التخلف الاقتصادي والاجتماعي والثقافي ، وتراجع حركة التطور وانتشار الفقر والبطالة .
3- برأيك ما الدروس المستفادة من حالات الصراع في المجتمع ؟
القاعدة الأساسية (أسوأ استقرار أفضل من أي صراع) لأن الصراع يؤدي بالقضاء على المجتمع على مختلف الأصعدة .

الموازنة :

القانون الخاص	القانون العام	
مصلحة شخصية	مصلحة عامة	معيار المصلحة
أطراف العلاقة أفراداً	الدولة طرفاً في العلاقة	الأطراف التي تتكون منها المسألة القانونية
يضم أطرافاً من أفراد المجتمع	يضم أطرافاً معنوية تمثل الدولة ومؤسساتها	صفة أطراف المسألة القانونية

عبر بأسلوبك :

- ما عوامل النجاح في الحياة
1- اتخاذ المبادرة نحو تحقيق الهدف المحدد .
2- الحفاظ على الانضباط والتصميم وقوة الإرادة .
3- بذل الجهد والمثابرة بجد وإخلاص .
4- تنمية المهارات وتعزيزها .
5- الاهتمام بالموهب والعمل على تنميتها وتطويرها .

التربية الوطنية حل النموذج رقم (4)

عبارة (صح) (غلط) :

1- صح 2- غلط 3- صح 4- صح

التوصيل :

1- الثقافة: الإنجازات الفكرية والمادية 2- العملة الوطنية : رمز السيادة الوطنية 3- التاريخ المشترك : الأحداث التي عاشها الأجداد

اختيار الإجابة :

أ- تبني التصورات الصحيحة ب- تراجعها

التحليل :

توجه معظم الدول للاعتماد على الاقتصاد المعرفة .

للتوظيف الأمثل لعناصر الإنتاج والاستثمار الأفضل لتلك الموارد ولتلبية الحاجات البشرية المتزايدة.

دراسة الحالة :

- 1- كيف استطاع الإعلام الصهيوني خداع الرأي العالمي لفترة طويلة من خلال تزييف الوقائع وتشويه الحقائق لتضليل الرأي العام العالمي
- 2- بم تفسر التغير في الرأي العام العالمي تجاه الشعب العربي الفلسطيني بمساهمة وسائل الإعلام العربية الداعمة للمقاومة العربية التي دفعته للمقارنة والاستنتاج بان الحقيقة مغايرة تماماً للادعاءات الصهيونية .
- 3- ما الحقائق التي ظهرها الإعلام المقاوم :
أظهر الصهاينة بانهم مجرمون وقتلة وارهابيون ليكشف حقيقة امام الرأي العام العالمي .

الموازنة :

الاقتصاد التقليدي	اقتصاد المعرفة	انتاج الموارد
ترتبط الوفرة بوجود المواد الأولية	يحقق الوفرة دائماً	انتاج الموارد
تحويل المواد الأولية إلى مصنعة	إدخال المعرفة في الإنتاج	أساس تحقيق الأرباح
الندرة في استثمار الموارد	الاستثمار الأمثل للموارد	استثمار الموارد الاقتصادية
يؤدي إلى تخلف وتراجع الدول	يؤدي إلى دول متقدمة ومتطورة	تقدم وتخلف الدول

عبر بأسلوبك :

الممارسات التركية بحق أهالي لواء إسكندرون

- 1- انتهجت تركيا سياسة تترك اللواء .
- 2- تهجير السكان العرب الأصليين الى داخل سورية .
- 3- سرقة الأراضي الزراعية دون دفع الأموال للمتضررين .
- 4- تغيير اسماء مدن اللواء كافة من العربية الى التركية .
- 5- تقسيم اللواء الى عدة مناطق كي يصعب عودته لسورية .

التربية الوطنية حل النموذج رقم (5)

عبارة (صح) (غلط) :

1- غلط 2- صح 3- غلط 4- صح

التوصيل :

- 1- أهمية المشاركة المجتمعية : تنمية الشعور الجمعي بالوطن
- 2- أشكال المشاركة المجتمعية : المشاركة في الانتخابات
- 3- العوامل المؤثرة في المشاركة المجتمعية : حرية التعبير وإبداء الرأي

اختيار الإجابة :

أ- القطاع الخاص ب- القانون الإداري

التعليل :

يؤدي استخدام الطاقات المتجددة إلى رفع المستوى الصحي في أي دولة لأنها طاقة أقل تلويثاً للبيئة مما يؤدي إلى الحد من التأثيرات البيئية غير المرغوبة مثل انبعاث غازات الاحتباس الحراري .

دراسة الحالة :

- 1- ما الأثر الديمقراطي لمشاركة المواطنين في ممارسات الإدارة المحلية ؟
جعل الشعب مصدر السلطة في المجتمع من خلال اختيار ممثلين .
- 2- كيف يتم وصول الشخص المناسب للمكان المناسب ؟
من خلال معرفة الناخبين لمرشحيهم واختيارهم وفقاً لقدراتهم المهنية والعملية .
- 3- كيف يتم إعداد القادة الإداريين في مجالس الإدارة المحلية ؟
من خلال تهيئة الفرص للمواطنين لتسلم مهامهم في مختلف مؤسسات الدولة .

الموازنة :

المشاركة في المناسبات الوطنية	العمل التطوعي	
تمنح أفراد المجتمع مشاعر الانتماء والتعاون لبناء الوطن والدفاع عنه .	1- يسهم في تمتين أواصر المحبة والمودة بين أفراد المجتمع 2- يسهم في تنمية المهارات الشخصية للفرد كمهارة التواصل وإدارة الوقت والقيادة	الأهمية
الحفاظ على الهوية الوطنية .	تخفيف حجم الأعباء المادية عن الدولة وتوفير الموارد .	الأهداف

العوامل المؤثرة في الإرادة الوطنية

1- التربية والتعليم

2- الموارد الاقتصادية

3- مستوى المعيشة والدخل

4- فرص العمل

5- العلاقات السياسية مع دول العالم .

التربية الوطنية حل النموذج رقم (6)

عبارة (صح) (غلط) :

1- صح 2- صح 3- غلط 4- غلط

التوصيل :

- 1- التكامل : مكونات متنوعة تشكل نسيج اجتماعي
- 2- العيش المشترك : علاقات اجتماعية وثيقة
- 3- المجتمع الفتى : ارتفاع نسبة الشباب والطفولة

اختيار الإجابة :

أ- خلق حالة من الاستقرار الجمعي

ب- الوقوف في وجه سياسة الدول المعادية

التعليل :

التنوع في المجتمع السوري مصدر غنى وتفاعل حضاري .
لأن التنوع في المجتمع السوري يؤدي إلى تمازج وتناغم الأماط المختلفة للعيشة مما يجعله من أكثر المجتمعات في الوطن العربي تنوعاً

دراسة الحالة :

- 1- وضع موقف أبي ماجد تجاه المستوطن الصهيوني .
دليل على التمسك بالأرض ، وشجاعة الإنسان العربي ، والنضال من أجل استعادة الأراضي المغتصبة .
- 2- أوضح أهمية فلسطين .
مهد الديانات السماوية الثلاث (اليهودية - المسيحية - الإسلامية) - نقطة وصل بين جزأي الوطن العربي الشرقي والغربي - الجسر البري الوحيد الذي يربط قارة آسيا بقارتي أوروبا وأفريقيا
- 3- ما أسباب إقامة الكيان الصهيوني من قبل بريطانيا وفرنسا على أراضي فلسطين .
زرع الكيان في قلب الوطن العربي لخدمة مصالح الدول الغربية ، وليمنع وحدة الوطن العربي .

الموازنة :

اختصاصات مجلس المحافظة	اختصاصات مجلس المدينة
1- وضع أسس استثمار الثروات المحلية . 2- التعاون مع مجالس المحافظات الأخرى . 3- إحداث مراكز لخدمة المواطنين 4- الموافقة على استئجار القروض 5- إقرار خطط إدارة الكوارث 6- قبول المنح و التبرعات	1- الموافقة على الأنظمة المعمارية 2- الإشراف على خطط الدفاع المدني و الحماية من الكوارث 3- مراقبة التقيد بالأمن الصناعي و السلامة المهنية. 4- إحداث مراكز خدمة للمواطنين 5- رعاية الشباب و الرياضة

إيجابيات الطاقة الشمسية

- 1- تعد بديلاً للوقود الأحفوري
- 2- الشمس مصدر قد لا ينضب إلا بعد مليارات السنين .
- 3- طاقة نظيفة لا ينتج عن إنتاجها واستهلاكها تلوث بيئي .
- 4- لا يمكن السيطرة عليها واحتكارها من قبل فئات أو جهات أو دول ، فهي متاحة للجميع .

التربية الوطنية حل النموذج رقم (7)

عبارة (صح) (غلط) :

1- غلط 2- صح 3- غلط 4- صح

التوصيل :

1- الابتكار : ربط مؤسسات التعليم بالمؤسسات الصناعية

2- البنية التحتية : تقنيات المعلومات والاتصالات

3- الإدارة : التخطيط الجيد

اختيار الإجابة :

أ- العمل الإنساني ب- طاقة محلية متجددة لا ينتج عنها غازات ملوثة

التعليل :

يتسم تطور المجتمع أثناء الصراعات والحروب بأنه بطيء .
لأن المجتمع يواجه كل إمكانياته وقدراته من أجل حسم الصراع لصالحه والحفاظ على بقائه .

دراسة الحالة :

1- ما الفكرة العامة التي أراد السيد الرئيس إيصالها في كلمته .

إن الانتصار يأتي من الصمود .

2- ما عوامل الصمود الواردة في كلمة السيد الرئيس .

الانتصار على الخوف - الانتصار على التفكك - الانتصار على الحقد - الانتصار على الخيانة .

3- اقترح أفكاراً جديدة يمكن عبرها تكريس الإرادة الوطنية .

نشر الوعي بين المواطنين وضرورة التلاحم بين أبناء الشعب في مواجهة الأخطار و المؤامرات الداخلية والخارجية .

الموازنة :

أهمية لواء إسكندرون	أهمية الجولان المحتل	
يعد من المناطق السياحية المهمة بما يحتويه من مواقع تاريخية وطبيعية خلابة .	يمتاز بتنوع الأماكن والمنتجعات السياحية فيه	الأهمية السياحية
* يتميز اللواء بوفرة مياهه * يتميز بخصوبة أراضيه الصالحة لزراعة الحبوب والقطن والتبغ والمشمش والتفاح والبرتقال والزيتون	* تشكل هضبة الجولان مصدراً مهماً للمياه . * وتعد أراضيه من أخصب الأراضي الزراعية	الأهمية الاقتصادية

- أهمية الموارد في التنمية الاقتصادية

1- زيادة موارد وثروات الدولة .

4- زيادة الدخل الوطني .

2- زيادة الصادرات

5- ارتفاع معدلات الاستثمار .

3- تحقيق الأرباح

6- ارتفاع معدلات التنمية الاقتصادية

التربية الوطنية حل النموذج رقم (8)

1 عبارة (صح) (غلط) :

1- صح 2- غلط 3- غلط 4- صح

التوصيل :

- 1- القانون المدني : تنظيم طبيعة العلاقات بين الأشخاص
- 2- القانون الجنائي : حماية الأفراد من الاعتداءات
- 3- القانون الدستوري : يبحث في شكل نظام الحكم

اختيار الإجابة :

- أ- من التحديات التي تواجه الهوية الوطنية : التدخل الخارجي
- ب- من المبادئ الاقتصادية في الدستور السوري أن الثروات الطبيعية ملكية : عامة

التعليل :

الإعلام الجديد هو إعلام جماهيري.

لأن الإنسان لم يعد مجرد متلقٍ لها بل أصبح فاعلاً ومرسلاً وجزءاً من شبكة تفاعلية ضخمة يمكن الوصول إليها بأقل جهد وأقل تكلفة .

دراسة الحالة :

- 1- ما أبرز خصائص المجتمع السوري بشكل خاص .
 - 2- برأيك هل التنوع والتعددية في مجتمعنا يشكل عامل قوة أو عامل ضعف؟ ولماذا؟
- يشكل عامل قوة ، لأنه يشكل فضاء رحباً بين أفراد وإقامة علاقات قائمة على التعاون والعيش المشترك .

الموازنة :

الأثر الإيجابي	الأثر السلبي	
اختصار المسافات بين المغتربين وذويهم وأهلهم من خلال وسائل التواصل الاجتماعي	ضعف ارتباط الفرد بالأسرة - ارتفاع نفقات الأسرة - التفكك الأسري	الأسرة
نشر ثقافة القانون - التحرر من كثير من العادات والتقاليد البالية - الانفتاح على المجتمعات الأخرى	تهديد الخصوصية - ظهور نوع جديد من الجرائم : الجرائم المعلوماتية	المجتمع

عبّر بأسلوبك :

أهمية الإعلام .

- 1- يسهم في رفع الوعي والثقافة للأفراد .
- 2- الإعلان والترويج للمنتجات والسلع
- 3- توفير التسلية والترفيه
- 4- التعريف بالتراث الحضاري
- 5- التنشئة على القيم الإيجابية

التربية الوطنية حل النموذج رقم (9)

عبارة (صح) (غلط) :

1- غلط 2- صح 3- غلط 4- صح

التوصيل :

- 1- اللغة : وعاء لكل الإنجازات
- 2- العملة الوطنية : رمز من رموز السيادة الوطنية
- 3- الانتماء الوطني : أداء الواجبات بدقة وإتقان .

اختيار الإجابة :

- أ- تحول الإنسان في الإعلام الجديد إلى : مشارك وفاعل وصانع للإعلام .
- ب- العامل الأهم والأساسي في الإنتاجية في اقتصاد المعرفة هو : التعليم

التعليل :

- العامل التربوي هو أهم دعائم تقدم المجتمع وتطوره .
لأنه يؤمن رأس المال البشري الذي يعد أهم دعائم تقدم المجتمعات

دراسة الحالة :

- 1- ما التحديات والأخطار التي يواجهها الشعب السوري .
الاحتلال والعدوان - المؤامرات والمشاريع الاستعمارية .
- 2- ما الرؤية للتعامل مع التحديات والأخطار .
الكفاح والنضال المستمر - الثقة بأن مصير المشاريع الاستعمارية سيبيء بالفشل .

الموازنة :

الاحتلال التركي	الكيان الصهيوني	
تقسيم اللواء إلى عدة مناطق لصعوبة استعادته كاملاً	بناء جدار الفصل العنصري بين المناطق اليهودية والعربية والتميز العنصري ضد العرب وإعلان القدس عاصمة لإسرائيل	المجال السياسي

عبر بأسلوبك :

- أهمية المشاركة المجتمعية .
- 1- تنمية الشعور الجمعي بالوطن .
 - 2- تعزيز التعاون بين أفراد المجتمع .
 - 3- تكريس مفهوم المواطنة وتعزيز الوحدة الوطنية .

التربية الوطنية حل النموذج رقم (10)

عبارة (صح) (غلط) :

1- صح 2- غلط 3- غلط 4- غلط

التوصيل :

- 1- وحدة الأهداف والآمال : تحقيق رفاهية المجتمع .
- 2- وحدة المصير : التاريخ المشترك .
- 3- العدالة المجتمعية : تحسين مستوى المعيشة .

اختيار الإجابة :

- أ- القانون الخاص هو القانون الذي : يحكم العلاقات ذات العنصر الأجنبي .
- ب- الجهة التي تقوم بتهينة البنية السياسية والقانونية للمشاركة المجتمعية : المؤسسات الحكومية .

التعليل :

تزايد دور المنظمات الحقوقية غير الحكومية في التدخلات الدولية المتعلقة بحقوق الإنسان .
لأنها أصبحت وسيلة جديدة تلجأ إليها القوى الكبرى للتدخل في الشؤون الداخلية للدول بذريعة انتهاك حقوق الإنسان .

دراسة الحالة :

- 1- ما العلاقة بين تطور المجتمع واستقراره . .
- 2- يؤدي استقرار المجتمع إلى تمكينه من تسخير قدراته المتاحة في تحقيق التنمية وإنتاج عوامل تطوره .
- 2- برأيك كيف يمكن للمجتمع أن يحول المخاطر التي تهدده إلى فرصة للتطور .
من خلال توجيه إمكانياته لمواجهة الصراع في سبيل الحفاظ على بقائه واستقراره .

الموازنة :

المجتمع السوري قديماً	المجتمع السوري حديثاً	
ربة منزل - العمل في الزراعة	تشارك المرأة في كل ميادين الحياة	دور المرأة
المدارس الرسمية محدودة ، انتشار ظاهرة الكتلاب	انتشار كبير للمدارس والتعليم الأساسي إلزامي ومجاني	التعليم

عبر بأسلوبك :

مظاهر انتهاك حقوق الإنسان بحق الشعب الفلسطيني .

- 1- ارتكاب العديد من الممارسات الإرهابية كالقتل والمجازر .
- 2- تهجير أكثر من ثلثي الشعب الفلسطيني والاستيلاء على أرضيه
- 3- الحرمان من الجنسية وفرض هوية الكيان الصهيوني عليهم .
- 4- بناء المستوطنات العنصرية ورفض الاعتراف بحق الفلسطينيين بالعودة إلى وطنهم .
- 5- بناء جدار الفصل العنصري لعزل الصهاينة عن المناطق العربية .

ثانياً: الجغرافية: (200 درجة)

(30 درجة)

السؤال الأول: اختر الإجابة الصحيحة وانقلها إلى ورقة إجابتك:

- 1- أحد الأنهار التالية يفيض بسبب ذوبان الثلوج: نهر النيل - نهر الفرات - نهر دجلة - نهر السن
- 2- تنتشر حقول النفط والغاز في سورية في: المنطقة الساحلية - المنطقة الجنوبية - المنطقة الشرقية - المنطقة الوسطى
- 3- استثمار الموارد على الوجه الأمثل لتسفيد منها الأجيال القادمة: التنمية المستدامة - التوطين الصناعي - الثورة الرقمية - الثورة الرقمية

(80 درجة)

السؤال الثاني: أجب عن أربعة فقط من الأسئلة الآتية:

- 1 - ضع كلمة (صح) أمام العبارة الصحيحة و (غلط) أمام العبارة المغلوطة مع تصويبها، لكل مما يأتي:
أ - الكتبان الرملية على سطح المريخ تفوق نظيرتها في كوكب المريخ من حيث المساحة والارتفاع.
ب- السياحة الترفيهية تحتاج إلى قوة جسدية وتدريب كبير على التجارب الخطيرة.
2- فسر كلاً مما يأتي:
أ- يكون 21 كانون الأول أطول ليل في السنة وتزداد ساعاته بالاتجاه شمالاً.
ب- فيضان نهر دجلة قبل نهر الفرات.
3- ما شروط حدوث قوس قزح المقلوب.
4 - ما أوجه الشبه والاختلاف بين أخدود ماريانا المحيطي والأخدود الناتج عن الانهدام السوري الأفريقي ..

(50 درجة)

السؤال الثالث: حلل النص الآتي، ثم أجب:

- (تحدث التيارات البحرية نتيجة اتصال المحيطات بعضها ببعض ، وباختلاف أيضاً خصائص المياه (درجة الحرارة والكثافة والملوحة) وكذلك باختلاف العروض الجغرافية . حركة دوران الأرض (قوة كوريوليس) و أيضاً تأثير اختلاف منسوب المياه (نقصاً أو زيادة) بين مسطحين مائيين متجاورين في انتقال التيارات البحرية .
- أ- ما الدور التي تلعبه التيارات بالنسبة للمناخ .
 - ب- ما تأثير قوة كوريوليس بالنسبة للأجسام المتحركة .
 - ت- برأيك ما تأثير تيار الخليج الحار على سواحل أوروبا الغربية

(40 درجة)

السؤال الرابع: ارسم خريطة الجمهورية العربية السورية مسمياً حدودها، وثبت عليها مع التسمية ما يأتي:
موقع مدينة القنيطرة - مجرى نهر السن

(30 درجة)

السؤال الأول: اختر الإجابة الصحيحة وانقلها إلى ورقة إجابتك:

- 1- تلعب دوراً في تعديل المناخ: الأمواج البحرية - قوة كوريوليس - التيارات البحرية - حركتنا المد والجزر
- 2- يمكن رؤية قوس قزح دائري بشكل كامل: عند الشاطئ - من بناء - من طائرة - عند النهر
- 3- من الآثار الإيجابية للهجرة للدولة المستقبلية: تنمية الاقتصاد القومي - زيادة عدد الذكور - ارتفاع الأسعار - الكثافة السكانية

(80 درجة)

السؤال الثاني: أجب عن أربعة فقط من الأسئلة الآتية:

- 1 - ضع كلمة (صح) أمام العبارة الصحيحة و (غلط) أمام العبارة المغلوطة مع تصويبها، لكل مما يأتي:
أ - تقوم الأشعة الحمراء بتحطيم مركبات الكلوروفلوروكربون CF_2Cl_2 في طبقة (الستراتوسفير) .
ب- في التوطين الصناعي يجب أن يُراعى الجانب البيئي والجدوى الاقتصادية .
2- فسر كلاً مما يأتي:
أ- تحتل اليابان المرتبة الثانية عالمياً في كمية الصيد البحري .
ب- آلية حدوث تملح التربة .
3- ما صفات التضاريس على سطح المريخ .
4 - قارن بين الانقلاب الصيفي والاعتدال الخريفي في نصف الكرة الشمالي من حيث: أشعة الشمس - طول الليل والنهار

(50 درجة)

السؤال الثالث: حلل النص الآتي، ثم أجب:

- المد والجزر ظاهرة طبيعية تحدث لمياه المحيطات والبحار. وتعتبر جاذبية القمر هي أهم عامل في حدوث المد والجزر. يحدث المد والجزر مرتين كل يوم لحركات المد والجزر أهمية بالغة فهي تعمل على تطهير البحار والمحيطات من الشوائب، وكذلك تطهير مصبات الأنهار والموانئ من الرواسب. كما يستغلها الإنسان في تحديد مواعيد دخول السفن إلى الموانئ التي تقع على مياه ضحلة.
- أ - اكتب شروط حدوث ظاهرة المد والجزر ..
 - ب - برأيك ما تأثير حركة المد والجزر على النشاط البشري وكيف يمكن الاستفادة من هذه الظاهرة ..
 - ج - ما الأداة المناسبة لدراسة ظاهرة المد والجزر.

(40 درجة)

السؤال الرابع: ارسم خريطة الجمهورية العربية السورية مسمياً حدودها، وثبت عليها مع التسمية ما يأتي:
موقع مدينة ألدب - مجرى نهر الفرات

الجغرافية : (200 درجة)

السؤال الأول : اختر الإجابة الصحيحة وانقلها إلى ورقة إجابتك :

- (30 درجة)
- 1- من نتائج الحركة المحورية للأرض : تفلطح الأرض - حدوث الفصول الأربعة - تعاقب الليل والنهار - تساوي الليل والنهار
 - 2- أداة جغرافية من ميزاتها المقارنة البصرية : الجداول الإحصائية - الدائرة النسبية - الاستبانة - نظام CIS
 - 3- من فوائد التجارة الإلكترونية من الناحية الاقتصادية : قلة الازدحام المروري - انخفاض التلوث - زيادة الأرباح - ارتفاع الأسعار
- (80 درجة)

السؤال الثاني : أجب عن أربعة فقط من الأسئلة الآتية :

- 1 - ضع كلمة (صح) أمام العبارة الصحيحة و (غلط) أمام العبارة المغلوطة مع تصويبها ، لكل مما يأتي :
أ - يعود تشكل جبال الأمانوس إلى الحركة الالتوائية الألبية والانزياح الناتج عن الانهدام السوري الأفريقي .
ب- تعتمد صناعة السكر في سورية على قصب السكر .
2- فسر كلاً مما يأتي :
أ- يرتبط إنتاج السكر وحلواته بمدى بقاء المحصول في الأرض ونضجه .
ب- اللون الأبيض لقوس الضباب .
3- ما المشكلات الناتجة عن اختلاف توزيع السكان في سورية .
4 - قارن بين الجبال البحرية والجبال القارية من حيث : الشكل - سبب التشكل - الاستثمار البشري

السؤال الثالث : حلل النص الآتي ، ثم أجب :

- (50 درجة)
- تكمّن أهمية الشوندر السكري من كونه المحصول الوحيد في سورية الذي يعتمد عليه لإنتاج السكر ، كما أنه ثاني المحاصيل الصناعية بعد القطن ويزرع في (سهل الغاب ووادي الفرات) ، يرتبط إنتاج السكر ودرجة حلواته بمدى بقاء المحصول في الأرض ، ونضجه لأن أي تأخير في عملية القلع بعد النضج يؤدي إلى خفض محتوى السكر في الجنور ، وهذا ما يقلل جدواه الاقتصادية .
- أ- ما المشكلات التي تعاني منها زراعة الشوندر السكري في سورية
 - ب- ما المقترحات لحل هذه المشاكل
 - ج- زراعة الشوندر السكري هل هو مشروع اقتصادي أكثر ربحاً أم أقل ربحاً ؟ مبرراً إجابتك .

(40 درجة)

السؤال الرابع : ارسم خريطة الجمهورية العربية السورية مسمياً حدودها ، وثبت عليها مع التسمية ما يأتي :
موقع مدينة درعا - مجرى نهر العاصي

الجغرافية : (200 درجة)

السؤال الأول : اختر الإجابة الصحيحة وانقلها إلى ورقة إجابتك :

- (30 درجة)
- 1- يؤدي إلى إخلال في التوازن البيئي : الاحتباس الحراري - قتل البكتريا والفيروسات - السيول والفيضانات - ذوبان الجليديات
 - 2- يقل تأثير التبخّر للأنهار إذا : تناقصت درجة الانحدار - زادت درجة الانحدار - كانت الأرض منبسطة - الصخور كثيفة
 - 3- أفضل مكان لصناعة تكرير النفط : قرب الموانئ - قرب المدن الكبرى - قرب الآبار والحقول - قرب مناجم الحديد
- (80 درجة)

السؤال الثاني : أجب عن أربعة فقط من الأسئلة الآتية :

- 1 - ضع كلمة (صح) أمام العبارة الصحيحة و (غلط) أمام العبارة المغلوطة مع تصويبها ، لكل مما يأتي :
أ - يعتمد نهر السن في تغذيته على ذوبان الثلوج من الجبال .
ب- كلما كانت التربة متعادلة ازدادت خصوبتها وقدرتها الإنتاجية .
2- فسر كلاً مما يأتي :
أ- يتزامن فصل الشتاء في نصف الكرة الشمالي ووجود الأرض في نقطة الحضيض .
ب- انخفاض تكاليف إنتاج النفط في الخليج العربي .
3- ما العوامل المؤثرة في قيام التجارة الدولية .
4 - قارن بين قوس قزح المألوف وقوس قزح المقلوب من حيث : وسط الانكسار - الشكل - ترتيب الألوان

السؤال الثالث : حلل النص الآتي ، ثم أجب :

- (50 درجة)
- ((هضبة اللجاة هي هضبة بازلتية ذات طبيعة صخرية وعرة وصعبة تقع جنوب سوريا، تمثل اللجاة حالياً محمية طبيعية، وهي محمية الإنسان والمحيط الحيوي الوحيدة في سوريا حتى الآن، وتتميز بتنوع بيولوجي كبير، وبغناها الشديد بالمواقع الأثرية القديمة. وقد تشكلت قبل ملايين السنين نتيجة البراكين والحمم التي قذفها بركان جبل العرب - الخامد حالياً -، والتي شكلت هذه الصبة البازلتية الضخمة)) .
- أ- بين أسباب تشكل هذه التضاريس .
ب- برأيك ما المشروع المناسب

(40 درجة)

السؤال الرابع : ارسم خريطة الجمهورية العربية السورية مسمياً حدودها ، وثبت عليها مع التسمية ما يأتي :
موقع مدينة حلب - موقع مدينة دير الزور

- السؤال الأول : اختر الإجابة الصحيحة وانقلها إلى ورقة إجابتك :
- 1- سبب ثخانة الأغشية الجليدية في المريخ : الكثبان الرملية - الأمطار الغزيرة - العواصف الغبارية - انخفاض درجات الحرارة
 - 2- تعد جبال السراة من الجبال : الالتوائية - الانكسارية - المنعزلة - البركانية
 - 3- سبب اللون الأصفر للتربة الرملية وجود نسبة عالية من : أكاسيد الحديد - الدبال - كربونات الصوديوم - الكلس والكوارتز

السؤال الثاني : أجب عن الأسئلة الآتية : (80 درجة)

- 1 - ضع كلمة (صح) أمام العبارة الصحيحة و (غلط) أمام العبارة المغلوطة مع تصويبها ، لكل مما يأتي :
أ - تختلف بنية المريخ عن بنية الأرض بوجود الغطاء في بنية المريخ .
ب- تشكل وادي بردي نتيجة عوامل الحت والتعرية والترسيب المائي .
2- فسر كلاً مما يأتي : أ- عدم انتظام جريان نهر النيل عند مدينة الخرطوم .
ب- الحركة التراجعية الظاهرية لكوكب المريخ بالنسبة لسكان الأرض .
3- ما هي العوامل المؤثرة في أنظمة الجريان النهرية
4 - قارن بين التيارات المائية الباردة والتيارات المائية الحارة من حيث : مكان نشؤها - تعديل المناخ - الأهمية الاقتصادية :

السؤال الثالث : حلل النص الآتي ، ثم أجب : (50 درجة)

- (طبقة الأوزون طبقة شفافة تحيط بكوكب الأرض على ارتفاع (15 - 35 كم) ، ونتيجة التطور العلمي انبعثت غازات ضارة كثيرة ، منها مركب الكلوروفلوروكربون وكان لها تأثير كبير في تآكل طبقة الأوزون ، وبسبب الجهود العالمية بدأ التآكل يتقلص)
- أ- ما أهمية طبقة الأوزون بالنسبة لكوكب الأرض .
 - ب- ما الأثار الناتجة عن تآكل طبقة الأوزون بالنسبة للكائنات الحية .
 - ت - ما الأداة الجغرافية المناسبة لدراسة ومراقبة تآكل طبقة الأوزون .

السؤال الرابع : ارسم خريطة الجمهورية العربية السورية مسمياً حدودها ، وثبت عليها مع التسمية ما يأتي : (40 درجة)

موقع مدينة درعا - مجرى نهر الفرات

- السؤال الأول : اختر الإجابة الصحيحة وانقلها إلى ورقة إجابتك :
- 1- يبدأ فصل الشتاء في النصف الشمالي عندما تكون الشمس عمودية على : خط الاستواء- مدار السرطان- مدار الجدي - الدائرة القطبية
 - 2- تضاريس تشكلت بسبب عوامل الحت والترسيب النهري : سهل الغاب - وادي بردي - جبال الأمانوس - جبال اللاذقية
 - 3- إذا علمت أن وزن (أوس) على الأرض 20 كغ فسوف يكون وزنه على المريخ هو : 5.6 كغ - 10.2 كغ - 8.7 كغ - 7.6 كغ

السؤال الثاني : أجب عن الأسئلة الآتية : (80 درجة)

- 1 - ضع كلمة (صح) أمام العبارة الصحيحة و (غلط) أمام العبارة المغلوطة مع تصويبها ، لكل مما يأتي :
أ - تشكلت بحيرة طبرية نتيجة الانهدام السوري الأفريقي .
ب- يتصف نهر السن بأنه منتظم الجريان .
2- فسر كلاً مما يأتي : أ- أسباب تآكل طبقة الأوزون .
ب- سبب تشكل خندق ماريانا .
3 - احسب التوقيت في مدينة A الواقعة على خط 20 غرب غرينتش ، علماً أن الساعة 9 في مدينة B الواقعة على خط 25 شرقاً
4- قارن بين التربة الطينية والتربة الرملية من حيث : نسيج التربة - بناء التربة - المسامية - نسبة الدبال

السؤال الثالث : حلل النص الآتي ، ثم أجب : (50 درجة)

- (سهل الغاب كان عبارة عن مستنقعات جففت مياهه لتتحول إلى أراضي صالحة لزراعة جميع أنواع الحاصلات الزراعية ، ومن أهم هذه الحاصلات الشوندر السكري ، ويزرع في مساحات كبيرة لتوافر شروط الزراعة في هذه المنطقة .)
- اقترح مشروعاً لهذه المنطقة مبيناً ما يلي :
- (نوع مشروع - مقومات المشروع - فوائد المشروع - الشروط ليكون المشروع صديق البيئة)

السؤال الرابع : ارسم خريطة الجمهورية العربية السورية مسمياً حدودها ، وثبت عليها مع التسمية ما يأتي : (40 درجة)

موقع مدينة حلب - مجرى نهر العاصي

(30 درجة)

السؤال الأول : اختر الإجابة الصحيحة وانقلها إلى ورقة إجابتك :

- 1- من العوامل الباطنية المشكلة للجيال البحرية : المياه الجارية - الجليد - حركة الصفائح - ثوران البراكين
- 2- يزداد نشاط الكائنات الحية في التربة : القلوية - المعتدلة - الحامضية - الكلسية
- 3- من الآثار الإيجابية لهجرة الأيدي العاملة بالنسبة للدول المستقبلية : ارتفاع نسبة الذكور - تنمية الاقتصاد - انتشار البطالة - نقص الكفاءات

(80 درجة)

السؤال الثاني : أجب عن الأسئلة الآتية :

- 1 - ضع كلمة (صح) أمام العبارة الصحيحة و (غلط) أمام العبارة المغلوطة مع تصويبها ، لكل مما يأتي :
أ - من فوائد المد والجزر عملية دخول وخروج السفن من الموانئ .
ب- تزداد القدرة الإنتاجية للنبات في التربة القلوية .
- 2- فسر كلاً مما يأتي :
أ - بقاء الغبار عالقاً في جو المريخ مدة طويلة من الزمن .
ب- حدوث الانهدام السوري - الأفريقي .
- 3- ما الأسباب التي توجب علينا للدراسة حركة الأمواج . (ما فوائد الأمواج)
- 4 - قارن بين نهر الفرات ونهر النيل من حيث : نظام الجريان - مصدر التغذية

(50 درجة)

السؤال الثالث : حلل النص الآتي ، ثم أجب :

- (تعد التربة مورداً طبيعياً متجدداً ولكنه قابل للنفاذ إذا لم يحسن الإنسان استخدامه ، وهناك الكثير من الأسباب التي توجب علينا أن نقدرها ونعمل للحفاظ على خصوبتها ، ومن أهم المشاكل التي تعاني منها بشكل كبير هي التملح .)
- أ- ما الأسباب البشرية لمشكلة تملح التربة .
 - ب- ما النتائج الاقتصادية لمشكلة تملح التربة .
 - ت- برأيك كيف يمكن حل مشكلة تملح التربة .

(40 درجة)

السؤال الرابع : ارسم خريطة الجمهورية العربية السورية مسمياً حدودها ، وثبت عليها مع التسمية ما يأتي :

موقع مدينة طرطوس - مجرى نهر بردى

ثانياً : الجغرافية : (200 درجة)

(30 درجة)

السؤال الأول : اختر الإجابة الصحيحة وانقلها إلى ورقة إجابتك :

- 1- غاز يشكل نسبة % 95 من تركيب الغلاف الجوي للمريخ : الأكسجين - النتروجين - الهيدروجين - ثاني أكسيد الكربون
- 2- من شروط حدوث قوس قزح المقلوب وجود : قطرات مطر - بلورات ثلجية - ضباب كثيف - غيوم داكنة
- 3- حصلت اليابان على الترتيب الثاني عالمياً في القوة الصناعية بسبب : وجود النفط - الموقع الجغرافي - حيوية الشعب الياباني - وجود رأس المال

(80 درجة)

السؤال الثاني : أجب عن أربعة فقط من الأسئلة الآتية :

- 1 - ضع كلمة (صح) أمام العبارة الصحيحة و (غلط) أمام العبارة المغلوطة مع تصويبها ، لكل مما يأتي :
أ - العوامل الجاذبة للمواطنين إلى الأرياف التطور الكبير في البنى التحتية والخدمات وقيام الشركات في الريف .
ب- يبدأ فصل الخريف في النصف الشمالي عندما تكون الشمس عمودية على مدار السرطان .
- 2- فسر كلاً مما يأتي :
أ- تشكل الفوهات التصادمية على سطح المريخ .
ب- تشكل جبال الأمانوس .
- 3- ما أسباب مشكلة تملح التربة .
- 4 - قارن بين السهول القارية - السهول المحيطية العميقة من حيث : عوامل التشكل - إمكانية الاستثمار البشري .

(50 درجة)

السؤال الثالث : حلل النص الآتي ، ثم أجب :

- (نهر السن نهر ساحلي يتشكل من نبع السن الكارستي ، ينبع من السفوح الغربية لجبال اللاذقية ، وهو من الينابيع المتجددة ، يجري في منطقة يسودها المناخ المتوسطي ، ويوفر مياه الشرب لمحافظة اللاذقية وجزء من محافظة طرطوس .)
- أ- على ماذا يعتمد نهر السن في تغذيته ،
 - ب- بين سبب تذبذب مياه نهر السن على مدار العام .
 - ت- ما الأداة الجغرافية المناسبة لدراسة غزارة مياه نهر السن .

(40 درجة)

السؤال الرابع : ارسم خريطة الجمهورية العربية السورية مسمياً حدودها ، وثبت عليها مع التسمية ما يأتي :

موقع مدينة حماة - موقع مدينة الرقة .

ثانياً: الجغرافية: (200 درجة)

السؤال الأول: اختر الإجابة الصحيحة وانقلها إلى ورقة إجابتك:

- 1- تشكلت بحيرة طبرية والبحر الميت نتيجة: الزلازل والبراكين - الانهدام السوري الأفريقي - الحركة الالبية - الالتواءات والانكسارات
- 2- تتشكل أمواج التسونامي بسبب: البراكين الثائرة - سرعة الرياح - الزلازل والبراكين - الأمطار الغزيرة
- 3- تؤثر في مجال الاتصال وتكنولوجيا المعلومات: التوطين الصناعي - الثورة الرقمية - الكثافة السكانية - السياسة الجمركية

السؤال الثاني: أجب عن أربعة فقط من الأسئلة الآتية:

- 1 - ضع كلمة (صح) أمام العبارة الصحيحة و (غلط) أمام العبارة المغلوطة مع تصويبها، لكل مما يأتي:
أ - ثخانة الأعطية الجليدية في كوكب المريخ موسمية متغيرة.
ب- يزداد نشاط الكائنات الحية في التربة الحمراء بسبب ازدياد قلوبتها.
- 2- فسر كلاً مما يأتي:
أ- تشكل الصخور الصحراوية المنخورة.
ب- الدبال يحسن من بناء التربة.
- 3- ما هي الأنشطة الاقتصادية الأكثر ربحاً.
- 4 - قارن بين النقل بالسكك الحديدية والنقل النهري من حيث: الشروط والمزايا - التأثير بالعوامل المناخية.

السؤال الثالث: حلل النص الآتي، ثم أجب:

- تعتبر مدينة حمص من أكبر المحافظات السورية مساحةً، وتشكل عقدة مواصلات تربط بين جميع المحافظات السورية، وتمتلك كميات كبيرة من الفوسفات الخام، والذي ينتشر في مناجم خنيفيس والشرقية، كما أنها تحتوي على سهول زراعية واسعة على أطراف العاصي. اقترح مشروعاً لهذه المنطقة مبيناً ما يلي:
- (نوع مشروع - مقومات المشروع - فوائد المشروع - الشروط ليكون المشروع صديق البيئة)

السؤال الرابع: ارسم خريطة الجمهورية العربية السورية مسمياً حدودها، وثبت عليها مع التسمية ما يأتي:

(40 درجة) موقع مدينة الحسكة - النهر الأعوج

ثانياً: الجغرافية: (200 درجة)

السؤال الأول: اختر الإجابة الصحيحة وانقلها إلى ورقة إجابتك:

- 1- عندما يبدأ فصل الصيف في نصف الكرة الشمالي يبدأ في النصف الجنوبي فصل: الربيع - الخريف - الصيف - الشتاء
- 2- يتلاشى قوس قزح المألوف عند انعدام وجود: زاوية الانكسار - ضوء القمر - أشعة الشمس - بلورات الثلج
- 3- من ميزات النقل النهري: يقام على أراضي منبسطة - سرعة في النقل - أرخص من السكك الحديدية - لا يتأثر بالعوامل المناخية

السؤال الثاني: أجب عن أربعة فقط من الأسئلة الآتية:

- 1 - ضع كلمة (صح) أمام العبارة الصحيحة و (غلط) أمام العبارة المغلوطة مع تصويبها، لكل مما يأتي:
أ - كان سهل العمق عبارة عن مجموعة مستنقعات تحولت بعد تجفيفها إلى مناطق زراعية.
ب- يحمي غاز الأوزون البيئة من خلال قتل البكتريا والفيروسات والطفيليات.
- 2- فسر كلاً مما يأتي:
أ- حصول اليابان على الترتيب الثاني عالمياً في القوة الصناعية.
ب- تشكل الأخاديد القارية.
- 3- ما الآثار السلبية للهجرة على البلدان (المستقبل - المرسل) للمهاجرين.
- 4 - قارن بين الأمواج العادية وأمواج تسونامي من حيث: المنشأ - طول الموجة - الارتفاع.

السؤال الثالث: حلل النص الآتي، ثم أجب:

- إحدى الدول أرادت تحسين اقتصادها، فاعتمدت على توسيع أسواقها الداخلية وقدمت التسهيلات لتدفق رؤوس الأموال للاستثمار فيها، وأيضاً عملت على تخفيض التعرفة الجمركية على الواردات وخلقت فرص عمل وازدادت مصادر دخلها وتحسن مستوى معيشة سكانها، وتطورت فيها صناعة الإلكترونيات العالية الدقة والغالية الثمن وتصديرها سداً لحاجة الأسواق العالمية.
- أ- ماذا نسمي هذا النوع من السياسات الاقتصادية.
ب- كيف استطاعت التجارة تنمية الأنشطة الاقتصادية.

ج- برأيك هل الميزان التجاري لهذه الدولة رابح أم خاسر؟ مبرراً إجابتك؟

السؤال الرابع: ارسم خريطة الجمهورية العربية السورية مسمياً حدودها، وثبت عليها مع التسمية ما يأتي:

(40 درجة) موقع مدينة اللاذقية - موقع مدينة دير الزور

الجغرافية هل نموذج رقم 1

اختيار الإجابة :

- 1- نهر الفرات 2- المنطقة الشرقية 3- التنمية المستدامة

عبارة (صح) (غلط) :

- 1- صح 2- غلط (سياحة المغامرات)

التفسير :

- أ- يكون النصف الجنوبي أكثر تعرضاً لأشعة الشمس من النصف الشمالي ، حيث تتخطى دائرة الإضاءة الدائرة القطبية الجنوبية كلها ، في حين تلامس الدائرة القطبية الشمالية .
ب- * بسبب هطول الأمطار الغزيرة شتاءً على جبال طوروس و زاغروس التي تقوم بتغذية نهر دجلة .
* بينما نهر الفرات يتأخر ذوبان الثلوج على هضبة أرمينية حتى فصل الربيع .

السؤال الرئيسي :

* شروط حدوث قوس قزح المقلوب :

- 1- درجة ارتفاع الشمس عن الأفق بين (5 - 32 درجة)
2- سماء خالية من الغيوم المنخفضة .
3- وجود سحب رقيقة من البلورات الثلجية الموجودة على ارتفاعات عالية جداً (7 - 8 آلاف متر) .
4- وجود أشعة الشمس التي تتحلل بطريقة معاكسة لقوس قزح المألوف .

المقارنة :

أوجه التشابه :

- كلاهما مناطق منخفضة على اليابسة أو في قاع المحيط .
- كلاهما تشكل بسبب حركة الصفائح التكتونية .

أوجه الاختلاف :

- خندق ماريانا أعمق من الانهدام السوري الإفريقي .
- الانهدام السوري الإفريقي أطول من خندق ماريانا .

تحليل النص :

أ- ما الدور التي تلعبه التيارات بالنسبة للمناخ .

* الرياح : خاصة الرياح الدائمة إذ تدفع المياه البحرية السطحية مع اتجاه هبوبها .

* درجات الحرارة : تسخن الشمس سطح المحيطات والبحار وبسبب اختلاف درجات الحرارة بين السطح وبين القاع تنشأ تيارات الحمل من أسفل القاع إلى السطح وبالعكس .
ب- ما تأثير قوة كوريوليس بالنسبة للأجسام المتحركة .

تلعب دور في انحراف المياه جهة اليمين في النصف الشمالي من الكرة الأرضية ، وإلى جهة اليسار في نصف الكرة الجنوبية .
ت- برأيك ما تأثير تيار الخليج الحار على سواحل أوروبا الغربية

يقوم بتعديل درجات الحرارة وبالتالي تسهيل حركة الملاحة البحرية ، وله دور في جلب البلاكتون لتغذية الأسماك

الجغرافية هل نموذج رقم 2

اختيار الإجابة :

- 1- التيارات البحرية
عبرة (صح) (غلط) :

1- غلط (الأشعة فوق البنفسجية)

2- صح

التفسير :

- أ- بسبب تيار (كوروشيفو) الحار الذي يجلب البلاتكتون النباتي
2- وأيضاً بسبب تيار (أورو شيفو) البارد الذي يجلب البلاتكتون الحيواني .
ب- نتيجة ارتفاع درجات الحرارة العالية وخاصة في الصيف يؤدي ذلك إلى حدوث تبخر شديد . ترتفع المياه الحاوية على الأملاح نحو الأعلى بفعل الخاصية الشعرية . فيتبخر الماء في الجو وترسب الأملاح على سطح التربة .

السؤال الرئيسي :

- صفات التضاريس على سطح المريخ .
1- تنوع مظاهر سطحه .
2- وجود تفاوت كبير في ارتفاعاتها .
3- تشكلت مظاهره بفعل عوامل عديدة :
* اصطدام النيازك
* ثوران البراكين .
* تأثير درجات الحرارة والرياح والجليد والمياه .

المقارنة :

الاعتدال الخريفي	الانقلاب الصيفي	
عمودية على خط الاستواء	عمودية على مدار السرطان	أشعة الشمس
يتساوى طول الليل والنهار	يكون النهار أطول من الليل	طول الليل والنهار

تحليل النص :

- 1- اكتب شروط حدوث ظاهرة المد والجزر ..
1- جاذبية القمر والشمس .
2- وقوع الشمس والقمر في جهة واحدة بشكل (زاوية قائمة) أو على استقامة واحدة .
3- الموقع بالنسبة لدرجات العرض .
2- برأيك ما تأثير حركة المد والجزر على النشاط البشري وكيف يمكن الاستفادة من هذه الظاهرة ..
1- في عملية دخول وخروج السفن من الموانئ .
2- في عملية توليد الطاقة الكهربائية (في الدول المتقدمة)
3- زيادة عدد الأسماك وبالتالي تسهيل عمليات الصيد ودعم الاقتصاد .
3- ما الأداة المناسبة لدراسة ظاهرة المد والجزر .
الصور الفضائية - خريطة توضح شكل وامتداد الساحل

الجغرافية هل نموذج رقم 1

اختيار الإجابة :

- 1- تعاقب الليل والنهار 2- الدائرة النسبية 3- زيادة الأرباح

عبارة (صح) (فلط) :

- 1- صح 2- فلط (الشوندر السكري)

التفسير :

أ- لأن أي تأخير في عملية القلع بعد النضج يؤدي إلى خفض محتوى السكر في الجذور ، فضلاً عن أنها تتعرض للعفن والتلف .
ب- لأن قطرات الماء المعلقة في الجو في الضباب أصغر من قطرات المطر العادية وعدم قدرتها على عكس كل ألوان الشمس .

السؤال الرئيسي :

- المشكلات الناتجة عن اختلاف توزيع السكان في سورية
- 1- انخفاض الإنتاج الزراعي .
 - 2- أزمة السكن والمواصلات
 - 3- التلوث البيئي تلوث (الماء - الهواء - التربة)
 - 4- انتشار البطالة في بعض المناطق الجاذبة للسكان والحاجة لليد العاملة في المناطق الطاردة للسكان .
 - 5- زيادة الطلب على الماء والغذاء .

المقارنة :

الجبال القارية	الجبال البحرية	
* نتيجة لحركة الصفائح . (التواءات - انكسارات)	ثوران البراكين	سبب التشكل
يختلف النشاط البشري على هذه الجبال باختلاف العوامل الجاذبة للسكان . (السياحة - الزراعة)	تؤثر العلاقة ما بين الجبال والتيارات البحرية في جذب العوالق ومن ذلك جذب الأسماك والثدييات البحرية (الصيد البحري)	الاستثمار البشري

تحليل النص :

- 1- المشكلات التي تعاني منها زراعة الشوندر السكري في سورية

- 1- عدم كفاية إنتاج الشوندر السكري للطاقة الفعلية للمعمل
 - 2- جلب الشوندر من المحافظات الأخرى .
 - 3- عدم انتظام توريد الشوندر من المناطق المجاورة
 - 4- بقاءه مدة طويلة على أبواب المصانع أو توقف المصنع عن العمل
- 2- المقترحات لحل هذه المشاكل

- 1- زيادة رقعة الأراضي الزراعية بالشوندر السكري
- 2- إقامة معمل جديدة في كل محافظة .
- 3- تحديد جدول زمني لعملية التوريد
- 4- زيادة خطوط الإنتاج في المعامل والصيانة المستمرة لها

- 3- زراعة الشوندر السكري هل هو مشروع اقتصادي أكثر ربحاً أم أقل ربحاً ؟ مبرراً أجبته .
هو مشروع أقل ربحاً لأنه مشروع زراعي يتأثر بالظروف الطبيعية وعملية الإنتاج تحتاج إلى فترة من الزمن

الجغرافية هل نموذج رقم 4

اختيار الإجابة :

- 1- قتل البكتريا والفيروسات 2- زادت درجة الانحدار 3- قرب الموانئ

عبارة (صح) (غلط) :

- 1- غلط (الأمطار الشتوية) 2- صح

التفسير :

أ- لأن الكواكب تكون مائلة محورها بدرجة 23.5 ، فخلال فصل الشتاء يميل الجزء الذي نعيش فيه بعيداً عن الشمس وفي الصيف نحوه .
ب- يتميز النفط في منطقة الخليج العربي بجودته، وغزارة آباره، وقربها من السطح، ومن موانئ التصدير وهذا أدى إلى انخفاض تكاليف إنتاجه.

السؤال الرئيسي :

العوامل المؤثرة في قيام التجارة الدولية :

- 1- التعرف الجمركية
2- سهولة النقل وتوافر طرق المواصلات .
3- الإطلاقة البحرية وإقامة موانئ الاستيراد والتصدير .
4- توافر رؤوس الأموال .
5- وجود الأسواق العالمية .
6- أنواع السلع المصدرة أو المستوردة .
7- النظم السياسية .

المقارنة :

فوس قزح المألوف	فوس قزح المقلوب	
وسط الانكسار	بلورة ثلجية	
الشكل	فوس اتجاه للأسفل (دائري)	فوس اتجاه للأعلى (نصف دائري)
ترتيب الألوان	من الأحمر إلى البنفسجي	من البنفسجي إلى الأحمر

تحليل النص :

- أ- أسباب تشكل هذه التضاريس .
نتيجة البراكين والحمم التي قذفها بركان جبل العرب - الخامد حالياً ، والتي شكلت هذه الصبة البازلتية الضخمة
- ت - الأهمية الاقتصادية لهذا التضريس . (المشروع المناسب)
تمثل اللجاة حالياً محمية طبيعية، وهي محمية الإنسان والمحيط كبير، وبغناها الشديد بالمواقع الأثرية القديمة .
مما يجذب عدد كبير من السياح المهتمين بالسياحة العلمية .

الجغرافية هل نموذج رقم 5

اختيار الإجابة :

- 1- العواصف الغبارية . 2- الاتكسارية 3- الكلس والكوارتز .

عبارة (صح) (غلط) :

- 1- غلط (وجود نواة خارجية لبنية الأرض) 2- صح

التفسير :

أ- بسبب هطول الأمطار بكمية كبيرة في شهري آب وتموز ، وشحها وانعدامها في أغلب أشهر السنة .
ب- لأن كواكب المجموعة الشمسية تدور حول الشمس بمسارات مختلفة ، وكلما ابتعد الكوكب عن الشمس يكون مساره أطول وتكون سرعته أبطأ وسرعة دوران الأرض أسرع من المريخ .

السؤال الرئيسي :

العوامل المؤثرة في أنظمة الجريان .

- 1- موسم الهطل وكميته : في مختلف فصول السنة .
- 2- درجة الحرارة : وتأثيرها من حيث شدة التبخر وذوبان الثلوج .
- 3- درجة انحدار السطح : فكلما ازداد الانحدار ازدادت سرعة الجريان وقل تأثير التبخر .
- 4- طبيعة الصخور وخصائص التربة الفيزيائية (نفوذة أو كثيفة)
- 5- طبيعة الغطاء النباتي وكثافته : تعيق كثافة الغطاء النباتي جريان المياه وتقلل من تدفقها .
- 6- العامل البشري : كاستخدام مياه النهر في الري ومياه الشرب .

المقارنة :

التيارات الباردة	التيارات الحارة	
قادمة من المناطق القطبية	قادمة من المناطق الاستوائية	مكان نشوها
تُخفض من درجة حرارة السواحل	تزيد من درجة حرارة السواحل	تعديل المناخ
تحمل البلاكتون النباتي	تحمل البلاكتون الحيواني	الأهمية الاقتصادية

تحليل النص :

- أ- درع واقى يحمي الأرض من الأشعة فوق البنفسجية الضارة ، التي تسبب سرطانات وأمراض جلدية .
- ب- يؤدي قتل البكتريا والفيروسات والطفيليات إلى اختلال التوازن البيئي .
- ت- الصور الفضائية الملتقطة عبر الأقمار الصناعية .

الجغرافية هل نموذج رقم 6

اختيار الإجابة :

- 1- مدار الجدي 2- وادي بردى 3- 7.6 كغ

$$x = \frac{20 \times 38}{100} = \frac{760}{100} = 7.6 \text{ kg}$$

عبارة (صح) (خط) :

- 1- صح 2- خط (غير منتظم الجريان)

التفسير :

- أ- انطلاق مركب الكلوروفلوروكربون وبعض الغازات الضارة المنبعثة من سطح الأرض .
ب- نتيجة اندساس صفيحة المحيط الهادي (الأكثر كثافة) تحت صفيحة الفلبين القارية (الأقل كثافة) .

المصطلح الجغرافي :

- أ- بناء التربة ب- التوطن الصناعي

المسألة :

$$20 + 25 = 45 \rightarrow \frac{45}{15} = 3 \rightarrow 9 - 3 = 6$$

(طرحنا : لأن المدينة المجهولة غرب المدينة المعروفة)

المقارنة :

التربة الطينية في (أرض سعيد)	التربة الرملية في (أرض نبيل)	
طيني	رملّي	النسيج
كثلي	خبيبي	البناء
مسامات ضيقة	مسامات واسعة	المسامية
مرتفعة	منخفضة	نسبة الدبال

تحليل النص :

- أ- المشروع المناسب : معمل للسكر
ب- مقومات المشروع : توافر الشوندر السكري - توافر اليد العاملة - توافر رأس المال .

ت- فوائد المشروع :

1- توفير فرص العمل لسكان المنطقة

4- التقليل من استيراد السكر

ث- المشروع صديق للبيئة :

1- بناء المعمل بعيداً عن التجمعات السكنية

3- استخدام مصادر الطاقة النظيفة

2- تأمين حاجة السوق من السكر

5- زيادة الدخل الوطني .

2 - بناء المعمل بعكس اتجاه الرياح

4- استخدام الفلاتر لمنع انتشار الدخان

الجغرافية حل نموذج رقم 7

اختيار الإجابة :

- 1- ثوران البراكين 2- المعتدلة 3- تنمية الاقتصاد

عبارة (صح) (غلط) :

- 1- صح 2- غلط (التربة المعتدلة)

التفسير :

- أ- لأن الغبار خفيف بسبب ضعفة جاذبية المريخ ، ولعدم وجود
ب- بسبب حركة تباعد الصفائح ، الصفيحة العربية من الشرق و الصفيحة الإفريقية من الغرب وتحركهما نحو الشمال .

السؤال الرئيسي :

- الأسباب التي توجب علينا دراسة حركة الأمواج .
1- الاستفادة منها في توليد الطاقة الكهربائية
2- اكتشاف الثروات السمكية في البحار والمحيطات .
3- الاستفادة منها في ممارسة الرياضة المائية (ركوب الأمواج)
4- الاستفادة منها في حركة الملاحة البحرية .

المقارنة :

نهر النيل	نهر الفرات	
منتظم الجريان في مجراه الأعلى ، غير منتظم الجريان في مجراه الأوسط والأدنى	غير منتظم	نظام الجريان
الأمطار الاستوائية - و الأمطار الموسمية الصيفية	الثلوج والأمطار	مصدر التغذية

تحليل النص :

- أ- الأسباب البشرية :
1- الري بالغمر مما يؤدي إلى تغدق التربة .
2- استخدام مياه ري تحتوي على الأملاح .
3- سوء تصريف المياه الزائدة
ب- النتائج الاقتصادية : لها آثار ضارة على نمو النباتات والمحاصيل وبالتالي تراجع الإنتاج الزراعي .
ت- حل مشكلة التملح :
1- عمليات غسل التربة باستمرار .
2- اعتماد أصناف من النباتات المتحملة للأملاح .
3- اعتماد أساليب طرق الري الحديثة .

الجغرافية هل نموذج رقم : 8

اختيار الإجابة :

- 1- ثاني أكسيد الكربون 2- بلورات ثلجية 3- حيوية الشعب الياباني

عبارة (صح) (غلط) :

- 1- صح 2- غلط (خط الاستواء)

التفسير :

- أ- نتيجة اصطدام النيازك والكويكبات بسطح المريخ .
ب- بسبب الحركة اللتوائية الألبية والانزياح الناجم عن الانهدام السوري - الأفريقي .

السؤال الرئيسي :

1- الأسباب الطبيعية لمشكلة تملح التربة .

- 1- التبخر الشديد
2- ارتفاع المياه الجوفية المالحة بفعل الخاصية الشعرية .
3- تسرب المياه من خلال القنوات الناقلة لمياه الري .

2- الأسباب البشرية :

- 1- الإسراف في مياه الري (الري بالغمر) مما يؤدي إلى تغدق التربة .
2- استخدام مياه ري ذات محتويات متباينة من الأملاح
3- سوء صرف الماء الزائد .

المقارنة :

السهول القارية	السهول المحيطية العميقة	
1- عوامل خارجية : حث وترسيب ريحي ونهري وجليدي وساحلي مثل (سهل جبلة) 2- عوامل باطنية : مثل السهول الانهدامية (غور الأردن) .	* رواسب التيارات البحرية القادمة من الجوانب القارية . * الرسوبات الناتجة من بقايا الكائنات الحية .	عوامل التشكل
* تستثمر في الزراعة . * إقامة التجمعات السكانية والصناعية . * المنتجات	يمكن أن تكون أماكن عيش للأسماك والكائنات البحرية .	الاستثمار البشري

تعلييل النص :

- أ- يعتمد نهر السن في تغذيته على الهطل والمياه الجوفية .
ب- وذلك بسبب هطول الأمطار بكمية كبيرة في أشهر الشتاء على حوضه ذو الصخور الكارستية (النفوذة) التي تخزن مياه الأمطار وتقوم بتغذية النهر ، لتصل أعلى قيعه للغزارة في أشهر الربيع ، وقلة الأمطار في أشهر الصيف لتصل إلى أدنى غزارة في أشهر فصل الخريف بسبب نقص التغذية من المياه الجوفية .
ت- الأداة الجغرافية المناسبة هي الأشكال البيانية (الأعمدة)

الجغرافية هل نموذج رقم 9

اختيار الإجابة :

- 1- الاتهام السوري الأفريقي 2- الزلازل والبراكين 3- الثورة الرقمية

عبارة (صح) (غلط) :

- 1- صح 2- غلط (بسبب ارتفاع نسبة الدبال وتعادل PH)

التفسير :

أ- بسبب هبوب الرياح الشديدة المحملة بالرمال تقوم بحت الأماكن اللينة والضعيفة في الكتل الصخرية فتقوم بإحداث ثقوب صغيرة في الصخور
ب- لأنه يعمل كمادة لاصقة ، وهذا يؤدي إلى النفوذية وزيادة المسام ، وهذا يسمح بمرور الماء والهواء وتوغل جذور النباتات .

السؤال الرئيسي :

- 1- الأنشطة الاقتصادية الأكثر ربحاً
1- تحويل ثمار الزيتون (بالتصنيع) إلى زيت الطعام ومورد طاقة
3- تصنيع أدوات كهربائية وإلكترونية
5- تصنيع الألبسة الجاهزة.
2- تعدين خامات الحديد وتصنيع الآلات والمعدات
4- حفر واستخراج الصخور وتصنيع مواد البناء منها .

المقارنة :

النقل النهري	النقل بالسكك الحديدية	الشروط والمزايا
* مرور النهر في مناطق قليلة الانحدار واسع المجرى * خلو مجرى النهر من العوائق كالجليد . * توفر عنصر الأمان * أن يحقق فائدة اقتصادية	* تقام على أراضي منبسطة * تحقق فائدة اقتصادية * توفر عنصر الأمان	
يتأثر بالعوامل المناخية (الأمطار- وشدة الرياح)	لا يتأثر بالعوامل المناخية	التأثر بالعوامل المناخية

تحليل النص :

- ❖ نوع المشروع : معمل للأسمدة
❖ مقومات المشروع : توافر المادة الخام الفوسفات - توافر اليد العاملة - رأس المال .
❖ فوائد المشروع :

- 1- تأمين الحاجة من الأسمدة من أجل تطوير الزراعة .
2- تصدير الفائض وزيادة الدخل الوطني .
3- توافر فرص العمل لعدد كبير من سكان المنطقة .
4- تحسين المستوى المعيشي .
❖ الشروط ليكون المشروع صديق للبيئة :

- 1- بناء المعمل بعيداً عن التجمعات السكانية .
2- استخدام مصادر الطاقة النظيفة .
3- بناء المعمل شرق المدينة إذا كانت الرياح غربية .

الجغرافية
هل نموذج رقم : 111

اختيار الإجابة :

1- فصل الشتاء -2 أشعة الشمس -3 أرخص من السكك الحديدية

عبارة (صح) (غلط) :

1- غلط (سهل الغاب)

2- صح

التفسير :

أ- بسبب حيوية الشعب الباطني ومهارته ودقته ، ودعم الدولة لها مالياً وعلمياً وتجارياً.

ب- بسبب القوى الباطنية الضعيفة التي أدت إلى تباعد الصفيحة العربية عن الصفيحة الإفريقية

السؤال الرئيسي :

* الآثار السلبية للهجرة على البلدان (المستقبلية - المرسله) للمهاجرين .

* البلدان المستقبلية : زيادة أعداد السكان فيها ، والضغط على الخدمات بصورة هائلة يفوق قدرتها الاستيعابية .

* البلدان المرسله : حدوث تغير لتوزيع السكان - الافتقار إلى الكفاءات واليد العاملة

المقارنة :

أمواج التسونامي	الأمواج العادية	
تتشأ بفعل حركات أرضية كالزلازل ويرتبط حجمها بقوة الزلازل على مقياس ريختر .	تتشأ بفعل الرياح ويرتبط حجمها وخصائصها بقوة الرياح وديمومتها واتساع المسطح المائي	المنشأ
أكبر	أصغر	طول الموجة
ارتفاعها أكبر	ارتفاعها أصغر	تغير الارتفاع
سرعتها أكبر	سرعتها أقل	تغير السرعة

تحليل النص :

1- ماذا نسمي هذا النوع من السياسات الاقتصادية .

سياسة الباب المفتوح

2- كيف استطاعت التجارة تنمية الأنشطة الاقتصادية .

وذلك من خلال خلق فرص عمل لجميع سكانها وبالتالي أدى إلى نشاط مختلف الأنشطة الاقتصادية .

3- برأيك هل الميزان التجاري لهذه الدولة رابح أم خاسر ؟ مبرراً إجابتك ؟

الميزان التجاري رابح ، لأنها تقوم بمشاريع اقتصادية تعتمد على الصناعات الإلكترونية الغالية الثمن و من ثم تصديرها إلى الأسواق العالمية .



منصة أونلاين
Online Edu Platform



[schoolo](#) [aam.school.sy](#) [platformonline2468](#) [onlin_platform](#) [Platform468](#) [+9632300364](#)

الممسوحة ضوئياً بـ CamScanner