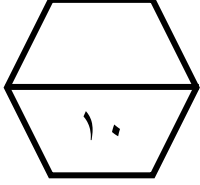


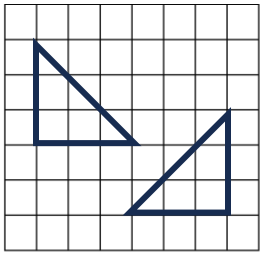
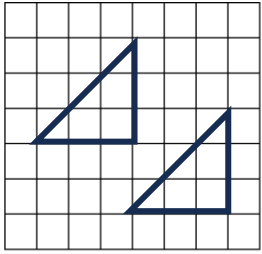
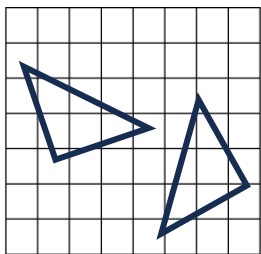
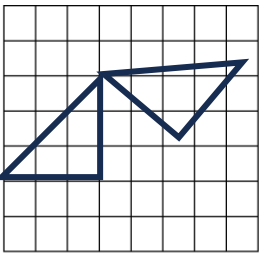
اسم الطالب /

ورقة عمل (الأسبوع الرابع عشر) للصف الخامس الابتدائي الفصل الدراسي الثاني للعام الدراسي ١٤٤٧ هـ



المهارات
الانعكاس في المستوى الاحداثي
الدوران في المستوى الاحداثي

ضع علامة (\checkmark) أمام العبارة الصحيحة وعلامة (\times) أمام العبارة الخاطئة :	
أ	يسمى قلب شكل هندسي حول مستقيم والحصول على صورة مرآة لهذا الشكل انعكاسا
ب	يسمى تدوير شكل هندسي حول نقطة دورانا

ما الشكل الذي يمثل انسحابا ؟	
(أ)	
(ب)	
(ج)	
(د)	

ما هو التحويل الهندسي الحاصل على حرف E					
أ	دوران	ب	انعكاس	ج	انسحاب

