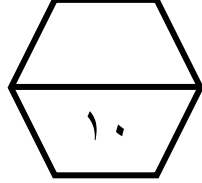


اسم الطالب / .....

ورقة عمل ( الأسبوع الثاني عشر ) للصف السادس الابتدائي الفصل الدراسي الثاني للعام الدراسي ١٤٤٧ هـ



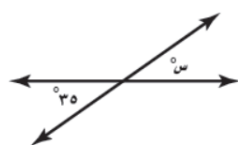
المهارات
العلاقات بين الزوايا
استكشاف معمل الهندسة: زوايا المثلث
المثلثات

١	ضع علامة ( $\checkmark$ ) أمام العبارة الصحيحة وعلامة ( $\times$ ) أمام العبارة الخاطئة :	
	أ	الزاويتان اللتان مجموع قياسيهما يساوي $180^\circ$ هما زاويتان متكاملتان
	ب	الزاويتان المتقابلتان بالرأس لهما القياس نفسه
	ج	مجموع قياسات زوايا المثلث يساوي $180^\circ$

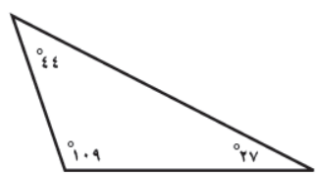
٢	حدد نوع الزاويتين المجاورتين :				
	أ	متتامتين	ب	متكاملتين	ج



٣	ما قيمة س في الشكل المجاور :						
	أ	$20^\circ$	ب	$30^\circ$	ج	$35^\circ$	د



٤	صنف المثلث المجاور :				
	أ	حاد الزوايا	ب	قائمة الزاوية	ج



٥	قياس زاوية س في المثلث المجاور هي :						
	أ	$90^\circ$	ب	$100^\circ$	ج	$105^\circ$	د

