


مسائل هامة في الاختبار  
الورقي ٤٤٣هـ

noon

(كمي - لفظي)



[أضغط هنا](#)



[أضغط هنا](#)

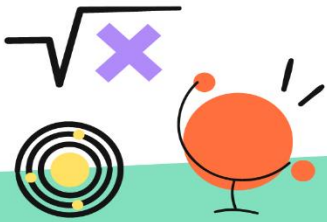




## هنا جدول دورات مجانية

[أضغط هنا](#)

دورات

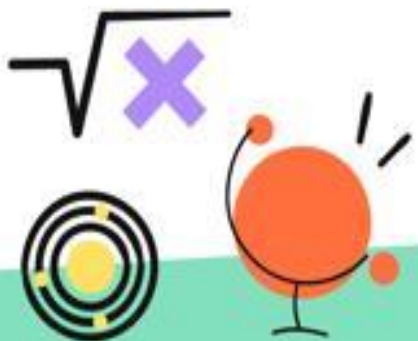




مسائل هامة في الاختبار

الورقي ١٤٤٣ هـ

(كمي - لفظي)





## خطوات الوصول لشرح الأسئلة:

١. تسجيل الدخول من خلال الرابط:

<https://www.learnatnoon.com/ar-sa/login>

٢. الدخول على رابط المجموعة:

الكمي:

<https://www.learnatnoon.com/ar-sa/groups/93846>

اللفظي:

<https://www.learnatnoon.com/ar-sa/groups/93832>

٣. الدخول للحصص المسجلة

تعلم مباشر

عرض الكل < الحصص

الجزء الكمي، الاستراتيجيات  
حل أهم 40 سؤال في الورقي1

19:12  
دقيقة متبقية

عرض الكل < حصص مسجلة →

0 مشاهدة • 4.7 ★  
الجزء الكمي، الاستراتيجيات  
هدايا من دومينوز 🍕 وحل م...

4:10 مساءً

عرض الكل < اختبارات تجريبية

جديد

0/10

اختبار قسم الحساب

5 ساعات





# القسم الكمي (المجموعة الأولى)

ستجد شرح هذه المجموعة من الأسئلة بالفيديو في  
هذه الحصص:

## الحصص >

السبت، ٢٦ مارس (1)

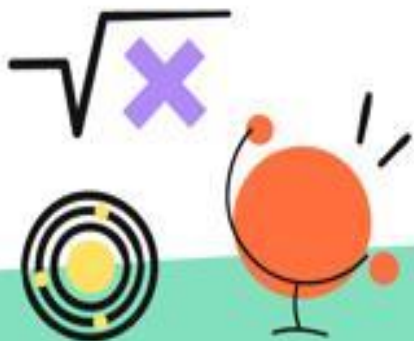
104 مشاهدة • 4.7 ★  
الجزء الكمي، الاستراتيجيات  
من أهم تدريبات الورقي - كمي 2

٨:٢٠ مساءً

الخميس، ٢٤ مارس (1)

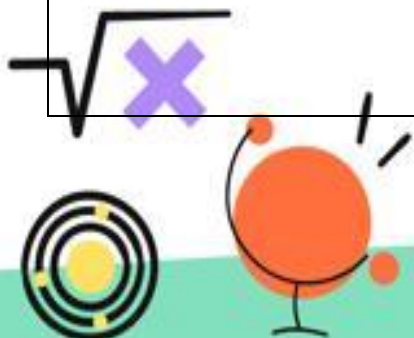
538 مشاهدة • 4.7 ★  
الجزء الكمي، الاستراتيجيات  
من أهم تدريبات الورقي - كمي 1

٨:٢٠ مساءً



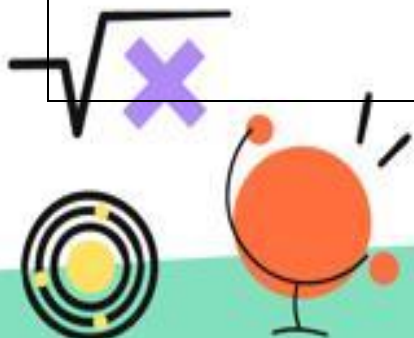


إذا كان $أ^2 - ب^2 = (٤٨)$ و $أ + ب = (٢٤)$ ، فأوجد قيمة $أ - ب$ .	١		
٣	أ	ب	١٢
٢	ج	د	١٦
إذا كان هناك شخص ينمو شعره بمعدل (١) سم في الشهر، فكم سيكون طول شعره بعد (١٠) سنين؟	٢		
١٢٠	أ	ب	٣٦٥
١٠٠	ج	د	١٤٠
باع شخص (١٦) لعبة بثمن (٢٠) لعبة، فإن النسبة المئوية للربح.	٣		
%٢٥	أ	ب	%٢٠
%١٥	ج	د	%١٠
كم يساوي $\frac{٣-(١٠)}{٦-(١٠)}$ ؟	٤		
٢١٠	أ	ب	٣١٠
٢-١٠	ج	د	٣-١٠



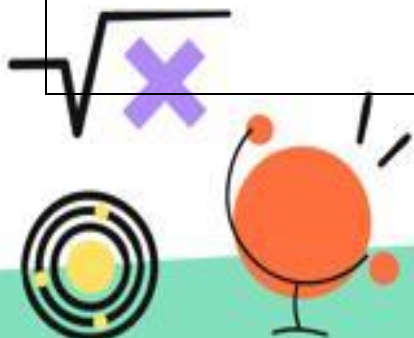


٥	٢س - ١ = ٤س - ٣ (٢ - س) فما قيمة س؟		
أ	١	ب	١-
ج	٥	د	٥-
٦	ما هو المنوال في مجموع الأعداد الآتية: (٢)، (١)، (٤)، (٥)، (١)، (٤)، (١)؟		
أ	٥	ب	٢-
ج	١	د	٤
٧	اشترى محمد (٤) كتب بـ (٥٠) ريال، كم كتاب يشتري بـ (١٥٠) ريال؟		
أ	١٢	ب	١٣
ج	١٤	د	١٥
٨	عُمر محمد (٣) أضعاف عُمر سعيد فكم عُمره؟		
أ	٣٦	ب	٥٠
ج	٤١	د	٢٠
٩	منتج قيمته (٣٠٠) ريال، ما هو مقدار خصم ١٢٪ منه؟		
أ	٣٦	ب	٣٠
ج	٢٦	د	٣٩





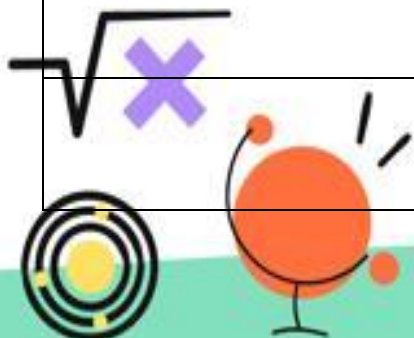
١٠	طائرة بها (٧٢) راكب وكانت نسبة الذكور للإناث ٥ : ٣ فكم عدد الذكور؟		
أ	٣٦	ب	٣٠
ج	٢٦	د	٤٥
١١	أسد ذيله يساوي نصف طول جسمه، وطول جسمه يساوي (٣) أمثال رأسه، إذا كان رأسه يساوي (٤٠) سم، فكم طول الأسد كاملاً؟		
أ	٢٢٠ سم	ب	٢٣٠ سم
ج	٢٤٠ سم	د	٢٥٠ سم
١٢	ثلاثة أصحاب أحدهم عُمره (١٤) والآخر (١٢) فما عُمر الثالث؟ علماً بأن مجموع أعمارهم (٤٨).		
أ	٢٦	ب	٢٢
ج	١٥	د	١٣
١٣	لدى نجار (٢٧) قطعة خشبية مستطيلة الشكل، و (١٥) قطعة مربعة، ويريد صنع صناديق حيث يحتاج (٤) مستطيلات ومربعين لكل واحد، فما أكبر عدد يمكن أن نصنع من الصناديق؟		





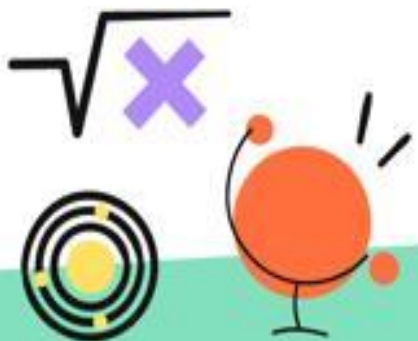


أ	٤ صناديق	ب	٧ صناديق
ج	٦ صناديق	د	٩ صناديق
١٤	(٣) أخوة يحفرون حفرة فيأذن حفر الأول الربع والثاني النصف والثالث (١١) متر، كم حفر الثاني؟		
أ	٢٢	ب	٤٤
ج	٣٣	د	٥٥
١٥	إذا كان هناك ( ٣ ) أعداد صحيحة متتالية، فإن مجموعها دائما يقبل القسمة على؟		
أ	٣	ب	٢
ج	٦	د	٥
١٦	س < ص < صفر فإن $\frac{ص}{س}$ أصغر من؟		
أ	١	ب	٢-
ج	١-	د	صفر
١٧	$19 = 19 + 19 + \dots + 19 + 19 + 19$ كم ( ١٩ ) داخل الجذر؟		
أ	١٩	ب	٣٨
ج	١٢	د	٩



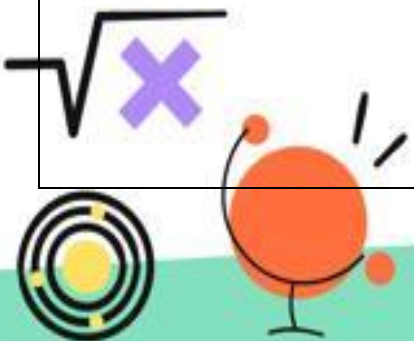


عدد إذا قسمناه على (٢) كان الباقي (١) وإذا قسمناه على (٣) كان الباقي (٢)، وإذا قسمناه على (٤) كان الباقي (٣)، فما هو العدد؟	١٨		
أ	١١	ب	١٣
ج	١٥	د	١٧
عددان حاصل ضربهما أكبر ما يمكن ومجموعهما (٣٠) فما العددان؟	١٩		
أ	٢٠، ١٠	ب	١٩، ١١
ج	١٦، ١٤	د	١٥، ١٥
أوجد قيمة (س) في المعادلة $(-\frac{1}{3} - 3س = 1)$	٢٠		
أ	٣-	ب	٠,٣
ج	٠,٣-	د	٣
عدد إذا طرحنا منه (١) وربعنا الناتج، اصبح يساوي (٤٩)، أوجد هذا العدد.	٢١		
أ	٧	ب	٨
ج	٩	د	١٠



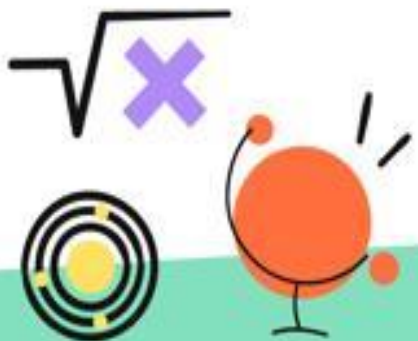


٢٢	$٦٢ \times ٦٣ = \dots$		
أ	١٢ ٦	ب	١٢ ٢
ج	١٢ ٣	د	٦ ٦
٢٣	إذا كان (س < $\frac{1}{س}$ ) ، فأأي الآتي صحيح؟		
أ	س < ١	ب	س = ١
ج	س > ١	د	صفر < س < ١
٢٤	كم باقي قسمة $(\frac{٦٣}{٥})$ ؟		
أ	٣	ب	٥
ج	٤	د	٧
٢٥	(س - ٢ = ٢٣) ، أوجد قيمة (س)		
أ	٤	ب	٥
ج	٦	د	٧
٢٦	$\sqrt[٢]{\left(\frac{١٢}{١٥}\right)}$		
أ	٤	ب	$\frac{١٤٤}{٢٢٥}$
ج	١٣	د	$\frac{٢٤}{٣٠}$





٢٧			(س <sup>٣</sup> + ٧ = ١ - ) ، أوجد قيمة س		
أ	١ -	ب	٦ -		
ج	٨ -	د	٢ -		
٢٨			أوجد قيمة $\begin{pmatrix} ٣ \\ ١ \\ ٣ \end{pmatrix}$		
أ	٣	ب	٩		
ج	١	د	٨١		
٢٩			( ٩ س <sup>٢</sup> = ٣ س + ٩ ) ، فما قيمة (س)؟		
أ	٣	ب	٢		
ج	١	د	٤		





# القسم الكمي

## (المجموعة الثانية)

ستجد شرح هذه المجموعة من الأسئلة بالفيديو في  
هذه الحصص:

الحصص >

الجمعة, ١ أبريل (1)

131 مشاهدة • 4.7 ★  
الجزء الكمي، الاستراتيجيات  
حل أهم أسئلة الاختبار الورقي 2

7:10 مساء

الخميس, ٣١ مارس (2)

94 مشاهدة • 4.7 ★  
الجزء الكمي، الاستراتيجيات  
هدايا من دومينوز 🍕 وحل مس...

٤:١٠ مساء

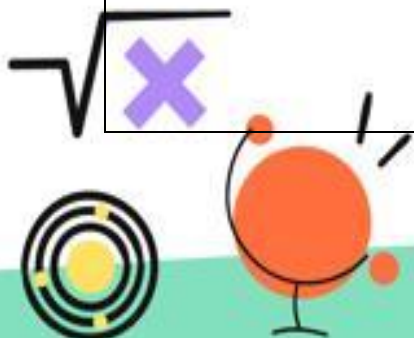
316 مشاهدة • 4.7 ★  
الجزء الكمي، الاستراتيجيات  
حل أهم أسئلة الاختبار الورقي 1

7:10 مساء



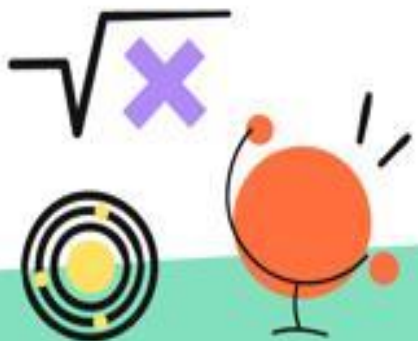


١	طول أحمد (٣) أضعاف طول أخيه الأصغر فكم طول أحمد؟ علمًا بأن طول أحمد عدد صحيح.		
أ	١٨١	ب	١٦٥
ج	١٧٢	د	١٦٣
٢	العدد الدوري (٠٩٨٧٥٣٠٩٨٧) يتكرر فيه (٠٩٨٧٥٣) يمين الفاصلة فما هو العدد عند الخانة ٥٠؟		
أ	٩	ب	٧
ج	٣	د	٥
٣	من الساعة (٦) مساءً إلى الساعة (٣:٣٠) صباحًا، إذا قُسم الوقت على خمسة أشخاص فما نصيب الواحد بالدقائق؟		
أ	٥٧٠	ب	٢٥٠
ج	١١٤	د	٩٠٠
٤	عددان مجموعهما (٤٨) والفرق بينهما (٦)، فإن أكبرها.		
أ	٢٧	ب	١٥
ج	١١	د	٢٠

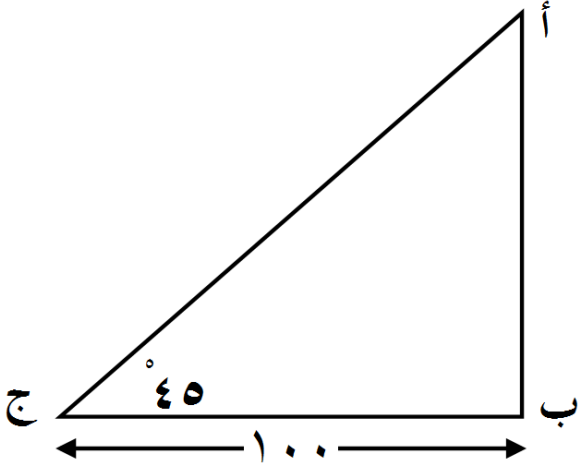


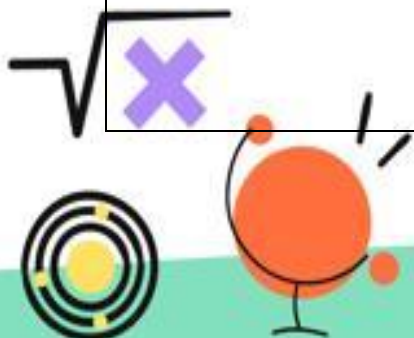


٥	عددان أصغرهما س، الفرق بينهما (١٥) حيث أن س لا تساوي صفر أوجد العدد الأكبر.		
أ	١٥ + س	ب	١٥ - س
ج	١٥ — س	د	س <sup>٢</sup>
٦	ساعة تحركت (١٢٠) درجة فكم دقيقة تحركت؟		
أ	١٥	ب	١٨
ج	٢٠	د	٢٢
٧	أسطوانة ممتلئة حتى خُمسها أُضيف إليها (١٢) لتر أصبحت ممتلئة حتى النصف أوجد سعتها.		
أ	٣٠ لتر	ب	٤٠ لتر
ج	٥٠ لتر	د	٦٠ لتر
٨	إذا كان (٧) أعواد تكفي لصناعة مربعين فكم عودًا نستخدم لصناعة (٩) مربعات؟		
أ	٢٤	ب	٢٦
ج	٢٨	د	٣٠






٩	(٤) مولدات ينتجون (٥٠٠٠) واط، إذا تعطل مولد واحد فكم سيكون الإنتاج بالواط.		
أ	١٠٠٠	ب	٣٠٠٠
ج	٣٧٥٠	د	١٢٥٠
١٠	مصعد يصعد في كل دقيقتين (٨٠) مترا، كم يصعد في (٢٠) ثانية؟		
أ	١٢ متر	ب	١٣,٥ متر
ج	١٤ متر	د	١٠ متر
١١	ما قيمة (أ ب)؟		
			
أ	٥٠	ب	٨٠
ج	١٠٠	د	٤٠







١٢ ما هي نسبة مساحة الشكل المظلل للشكل كاملاً؟



١٢

أ

١  
٤

ب

١  
٢

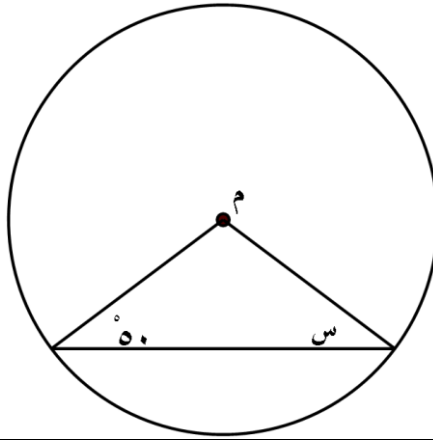
ج

١  
٣

د

١  
٥

١٣ إذا كانت (م) هي مركز الدائرة، فأوجد قيمة (س).



١٣

أ

٥٠

ب

٥٥

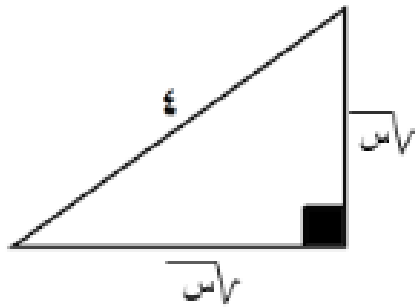
ج

٨٠

د

١٠٠

١٤ أوجد قيمة س.



١٤

أ

٨

ب


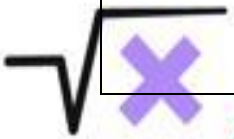
١٦

ج

٣٢

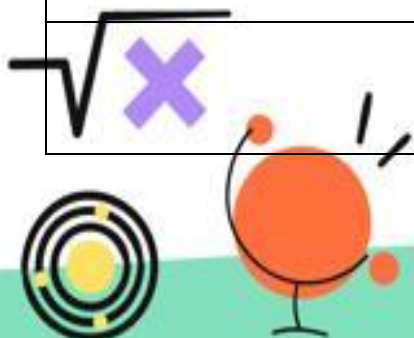
د

٦٠



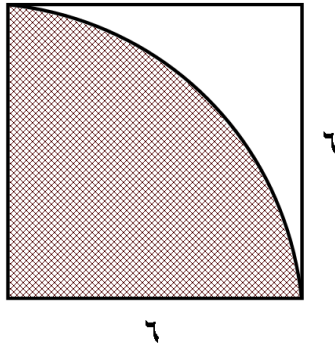


أوجد قيمة ( أ + ب + ج + د ).		١٥	
٣٦٠	أ	١٨٠	ب
٩٠	ج	٤٥	د
ما هي مساحة الشكل؟		١٦	
٢١٠	أ	٢٠٠	ب
١٠٠	ج	٧٠	د
أوجد قيمة هـ في الشكل المقابل.		١٧	
٢٠	أ	٨٠	ب
٦٠	ج	٤٠	د





١٨ إذا كان الجزء المظلل ربع دائرة، فما مساحة الجزء غير المظلل.



أ ٣٦ - ٩ ط

ب ٩ - ٣٦ ط

ج ٩ ط

د ١٢ - ٢٤ ط

١٩ لدينا غرفة مستطيلة أبعادها (١٠) و (٦) وتم فرشها بسجادة مربعة طولها (٥)، فما مساحة الجزء الغير مفروش؟

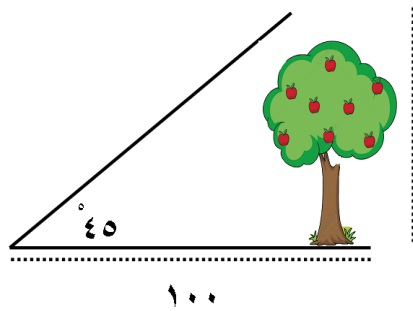
أ ٣٥

ب ٤٠

ج ٤٥

د ٥٠

٢٠ ما طول الشجرة في الشكل المجاور؟

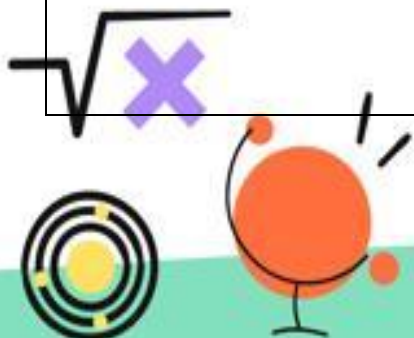


أ ٤٥

ب ٢٥

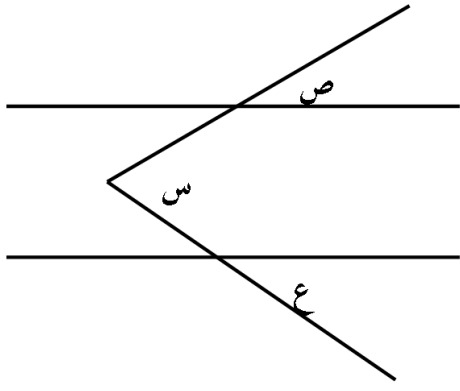
ج ٥٠

د ١٠٠





إذا كان الخطان متوازيين، قارن بين:

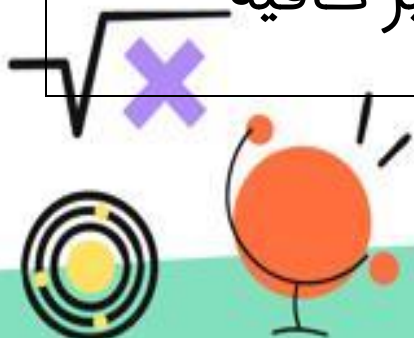


القيمة الأولى: س

القيمة الثانية: ص + ع

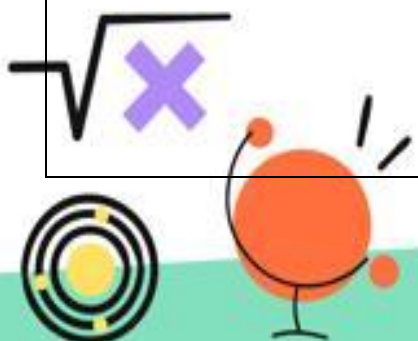
٢١

أ	القيمة الأولى أكبر	ب	القيمة الثانية أكبر
ج	القيمتان متساويتان	د	المعطيات غير كافية
٢٢	قارن بين، إذا كانت $٢(س + ص) = (٩)$		
	القيمة الأولى	القيمة الثانية	
	$(س + ص)^٢$	٩	
أ	القيمة الأولى أكبر	ب	القيمة الثانية أكبر
ج	القيمتان متساويتان	د	المعطيات غير كافية
٢٣	قارن بين:		
	القيمة الأولى	القيمة الثانية	
	$٣(٢٣)$	$٢(٣٣)$	
أ	القيمة الأولى أكبر	ب	القيمة الثانية أكبر
ج	القيمتان متساويتان	د	المعطيات غير كافية





قارن بين:		٢٤
القيمة الأولى	القيمة الثانية	
ربع ال (٨)	ثمان ال (٤)	
القيمة الأولى أكبر	ب	القيمة الثانية أكبر
القيمتان متساويتان	د	المعطيات غير كافية
قارن بين:		٢٥
القيمة الأولى	القيمة الثانية	
$٥٢ \times ٢٣$	$٥١ \times ٢٤$	
القيمة الأولى أكبر	ب	القيمة الثانية أكبر
القيمتان متساويتان	د	المعطيات غير كافية
قارن بين:		٢٦
القيمة الأولى	القيمة الثانية	
$\sqrt[٣]{٢}$	$\sqrt[٢]{٣}$	
القيمة الأولى أكبر	ب	القيمة الثانية أكبر
القيمتان متساويتان	د	المعطيات غير كافية
قارن بين:		٢٧
القيمة الأولى	القيمة الثانية	
$٨-(٢)$	$٩-(٢)$	





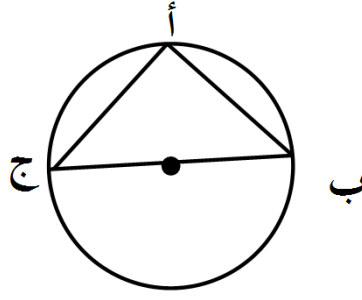
أ	القيمة الأولى أكبر	ب	القيمة الثانية أكبر
ج	القيمتان متساويتان	د	المعطيات غير كافية
٢٨	سافر فهد من الساعة ٣:٤٥ صباحًا إلى الساعة ٤:٠٠ مساءً ، وسافر سعد من ٩:١٥ صباحًا إلى الساعة ١١:٣٠ مساءً من نفس اليوم فقارن بين:		
	القيمة الأولى	القيمة الثانية	
	زمن رحلة فهد	زمن رحلة سعد	
أ	القيمة الأولى أكبر	ب	القيمة الثانية أكبر
ج	القيمتان متساويتان	د	المعطيات غير كافية
٢٨	قارن بين:		
	القيمة الأولى	القيمة الثانية	
	ضلع المربع	قطر الدائرة	
أ	القيمة الأولى أكبر	ب	القيمة الثانية أكبر
ج	القيمتان متساويتان	د	المعطيات غير كافية





إذا كان (أب) = (٨)،

٢٩



فقارن بين:

القيمة الأولى	القيمة الثانية
٢	نصف القطر

أ	القيمة الأولى أكبر	ب	القيمة الثانية أكبر
ج	القيمتان متساويتان	د	المعطيات غير كافية





## القسم اللفظي

ستجد شرح هذه المجموعة من الأسئلة بالفيديو في  
هذه الحصص:

الحصص >

اليوم (1)

0 مشاهدة • 4.9 ★  
منهج متنوع من دروس سابقة  
من أهم تدريبات واسئلة التجميع...

1٢:٠٠ ليل

الجمعة، ١ أبريل (1)

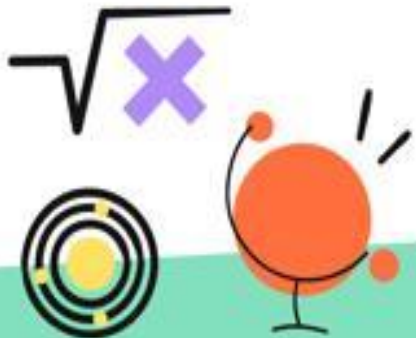
167 مشاهدة • 4.9 ★  
منهج متنوع من دروس سابقة  
أسئلة شائعة و متكررة في القدر...

٩:٢٠ مساء

الخميس، ٣١ مارس (1)

164 مشاهدة • 4.9 ★  
منهج متنوع من دروس سابقة  
أسئلة شائعة و متكررة في القدر...

٨:٥٩ مساء

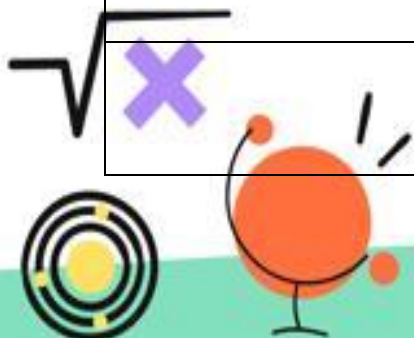






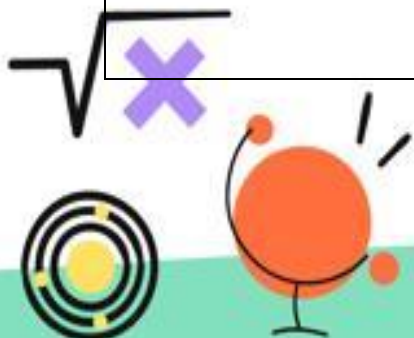
## التناظر اللفظي:

		المستشفى: المدينة	١
المطبخ: المنزل	ب	حقل: مزرعة	أ
الحياة: الماء	د	العلاج: الدواء	ج
		أسد: شجاعة	٢
خوف: نعامة	ب	غزال: حكمة	أ
فيل: وزن	د	قمر: جمال	ج
		فول: عدس	٣
أرز: طحين	ب	فستق: لوز	أ
تفاح: خيار	د	دقيق: قمح	ج
		حافلة: قطار	٤
حرب: معركة	ب	كوخ: خيمة	أ
نافذة: غرفة	د	خس: خضراوات	ج
		سفن: ميناء	٥
جمال: صحراء	ب	فندق: شارع	أ
أبقار: حظيرة	د	مرضى: مستشفى	ج



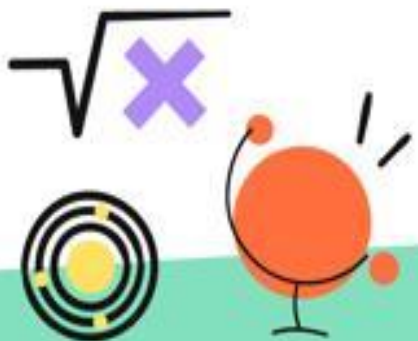


ضجيج: سکون			٦
كرم: بخل	أ	ظل : شمس	ب
ضوء: ظلم	ج	طفل: كهل	د
مرض: ألم			٧
نزول : شراء	أ	شكر: زيادة	ب
نجاح: اجتهاد	ج	تبكير : تأخير	د
صعق: موت			٨
شجاع: صادق	أ	تقدم: تأخر	ب
نظر: سمع	ج	تعلم: فهم	د
قماش: ملابس			٩
فحم: شواء	أ	زجاج: طاولة	ب
طائرة: ورق	ج	غرفة: بيت	د
ميت: حي			١٠
قزم: عملاق	أ	عاقل: حكيم	ب
غلام: فتى	ج	بريء: متهم	د
رسوخ: ثبات			١١
تهدم: قدم	أ	جذور: شجرة	ب
ركون : اعتماد	ج	شروء: قدوم	د





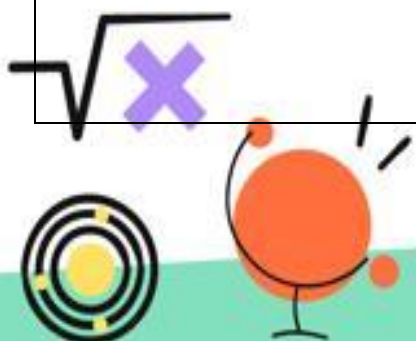
توابل: زنجبيل		١٢
طيور: صقر	ب	أ مسامير: حديد
غراب: حيوانات	د	ج بقوليات: ذرة
محكمة: صك		١٣
عقار: أرض	ب	أ معهد: دورة
جريدة: إصدار	د	ج جامعة: شهادة
تلفاز: مذيع		١٤
فلاح: مزرعة	ب	أ طبيب: علاج
ورشة: ميكانيكي	د	ج نجارة: نجار
شجرة: مزرعة		١٥
ورقة: غصن	ب	أ ثمار: سوق
منزل: باب	د	ج ملابس: غسالة





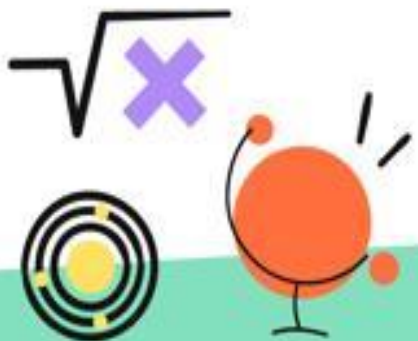
## الخطأ السياقي:

١٦	الألم أقوى مغير للإنسان لأنه لديه القدرة على <u>تغيير</u> طريقة <u>نظرته</u> وتعامله مع <u>الآخرين</u> والحياة اليومية		
أ	الألم	ب	تغيير
ج	نظرته	د	الآخرين
١٧	علمتني الحياة أن أكون <u>مفضلاً</u> وأن <u>أترقب</u> المقابل حتى لا <u>أصدم</u> بالـ <u>جحود</u> .		
أ	مفضلاً	ب	أترقب
ج	أصدم	د	بالجحود
١٨	صن <u>لسانك</u> عن <u>مآثر</u> الناس؛ فإن اللسان سبب <u>الشرور</u> .		
أ	لسانك	ب	مآثر
ج	الناس	د	الشرور
١٩	الدهر يومان: يوم لك ويوم <u>لك</u> ، فإن كان لك فلا <u>تبطر</u> ، وإن كان <u>عليك</u> فاصبر.		
أ	لك	ب	تبطر
ج	عليك	د	فاصبر



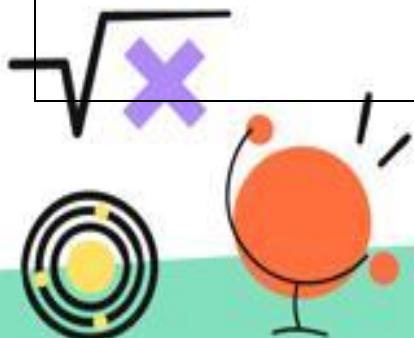


٢٠	زيادة رصيدك في بنك <u>العواطف</u> تسمح بتكوين علاقات <u>طويلة</u> المدى مع <u>نفسك</u> .		
أ	زيادة	ب	العواطف
ج	طويلة	د	نفسك
٢١	القراءة السريعة مثل الوجبات <u>السريعة</u> ، تالتي تؤدي إلى <u>السمنة</u> ولا تفي بشروط <u>الدواء</u> <u>الصحي</u> .		
أ	السريعة	ب	السمنة
ج	الدواء	د	الصحي
٢٢	<u>النصيحة</u> التي <u>تحبها</u> هي غالباً ما تكون المفيدة لك ، فلا تجعل ما تحبه <u>يعميك</u> عن <u>الحقيقة</u> .		
أ	النصيحة	ب	تحبها
ج	يعميك	د	الحقيقة
٢٣	<u>إن الصواب</u> الذي أنت عليه <u>سيجعلك تتعلم</u> من <u>أخطائك</u> .		
أ	الصواب	ب	سيجعلك
ج	تتعلم	د	أخطائك



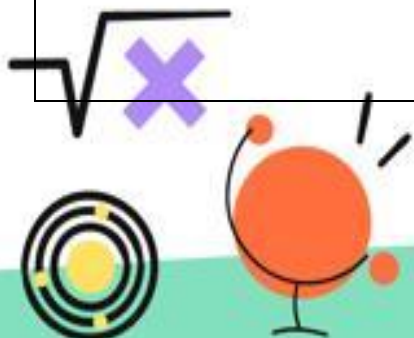


٢٤	استمع لنصيحة الشباب حتى لو لم يكن لديهم ذكاء، فعلى الأقل لديهم خبرة.		
أ	نصيحة	ب	الشباب
ج	ذكاء	د	خبرة
٢٥	من المؤلم أن نرى شبابنا يهدرون أوقاتهم في القراءة.		
أ	المؤلم	ب	يهدرون
ج	أوقاتهم	د	القراءة
٢٦	بمقدور الذكاء أن يحول القبح غباء، إذا عجز الجمال عن معالجة الغباء.		
أ	الذكاء	ب	غباء (الأولى)
ج	الجمال	د	معالجة
٢٧	يود الجميع أن يسير طويلا، لكن لا أحد يريد أن يصبح كبيرًا.		
أ	يود	ب	يسير
ج	طويلا	د	كبيرًا
٢٨	جاهد ذاتك كما تجاهد صديقك.		
أ	جاهد	ب	ذاتك
ج	تجاهد	د	صديقك



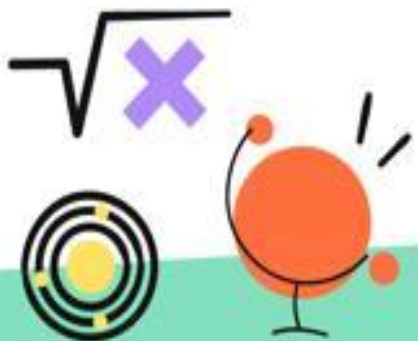


٢٩	الحياة ليست <u>فرصة</u> واحدة ولا <u>فرصتان</u> ، فعندما <u>تغيب</u> لشمس تعتبر تقدم خطوة <u>للأمام</u> .		
أ	واحدة	ب	مغيب
ج	تغيب	د	للأمام
٣٠	كل شيء له <u>فرصة</u> <u>أولى</u> إلا <u>الحب</u> و <u>الثقة</u> .		
أ	شيء	ب	أولى
ج	فرصة	د	والثقة
٣١	أقامت الدول <u>المتقدمة</u> مشاريع تعمل بالطاقة الشمسية <u>تسبباً</u> لانخفاض <u>الاستهلاك الكهربائي</u> .		
أ	المتقدمة	ب	لانخفاض
ج	تسبباً	د	الكهربائي
٣٢	<u>العاقل</u> إذا أخطأ يتأسف، والأحمق إذا أخطأ يتحسر.		
أ	العاقل	ب	يتأسف
ج	الأحمق	د	يتحسر
٣٣	ثقتك في <u>صديقك</u> و <u>قدراتك</u> <u>أول</u> طريق <u>النجاح</u> .		
أ	صديقك	ب	قدراتك
ج	أول	د	النجاح





٣٤	<u>الفاشلون يبررون إنجازاتهم بأعذار واهية.</u>		
أ	الفاشلون	ب	يبررون
ج	إنجازاتهم	د	واهية
٣٥	<u>الاحتكاك بالمتميزين يقلل من فرص نجاح التغيير.</u>		
أ	الاحتكاك	ب	المتميزين
ج	يقلل	د	نجاح
٣٦	<u>لا شيء أسوأ من الثبات على الرأي إلا الرجوع إلى الحق.</u>		
أ	لا	ب	أسوأ
ج	الرأي	د	الرجوع

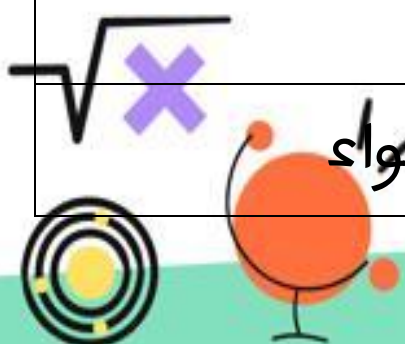






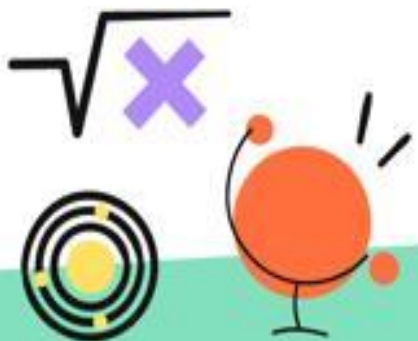
## التناظر اللفظي:

عنب : زبيب	٣٧
أ تفاح : عصير	ب خبز : دقيق
ج تراب : طين	د لبن : زبادي
ديوان : قصائد	٣٨
أ أطلس : خرائط	ب مجلد : قصص
ج معجم : عبارات	د كتاب : مقالات
توجيه : إرشاد	٣٩
أ عظة : تدبر	ب تقريب : إدناء
ج صوم : إفطار	د فحيح : ثعلب
سباحة : جري	٤٠
أ كرسي : طالب	ب قلم : كتابة
ج سفينة : بحر	د أسد : نمر
بث : إذاعة	٤١
أ نشر - مطبعة	ب رضيع - طفل
ج اقحوان - زهور	د استكشاف - هواء





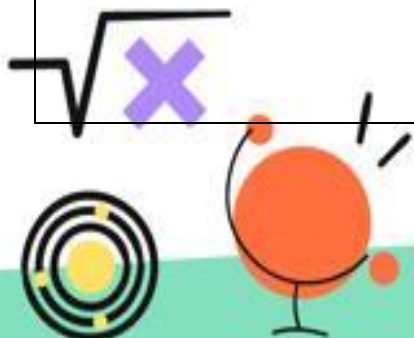
٤٢	نار: رماد		
أ	حليب : بقر	ب	عين : دمعة
ج	مشي : حبو	د	رجل : امرأة
٤٣	دواء : حرارة		
أ	نوم : نعاس	ب	طعام : جوع
ج	برد : حر	د	ليل : نهار
٤٤	صبح : نهار		
أ	شمس : قمر	ب	غسق : ليل
ج	نجم : سماء	د	شهيق : زفير
٤٥	هاتف : رنين		
أ	حمام : هديل	ب	هدير : ماء
ج	حمام : هدير	د	أصفر : فاقع
٤٦	بناء : تشييد		
أ	إعدام : قتل	ب	إصلاح : تعليم
ج	إكمال : إقفال	د	إعداد : تمويل





## إكمال الجمل:

٤٧	الزراعة تحقق ..... ونمو الحيوان والنبات و ..... الصناعة..		
أ	النمو - رخاء	ب	السمو - تفنن
ج	الارتقاء - ارتفاع	د	الرخاء - ازدهار
٤٨	فترة الشباب هي ..... فترة، فمن ..... ربيعها لم يجن من خريفها إلا المرارة واليأس.		
أ	أسوأ - اشترى	ب	أثمن - ضيع
ج	أجمل - استثمر	د	أحسن - رمى
٤٩	ما كان لك سيأتيك رغم .....، وما كان لغيرك لن يأتيك رغم.....		
أ	قوتك - ضعفك	ب	حاجتك - أنفك
ج	ذهابك - إيابك	د	ضعفك - قوتك
٥٠	من نصح أخاه في العلن فقد ..... ومن نصح أخاه سرًّا فقد.....		
أ	كشفه - خدعه	ب	نصحه - فضحه
ج	فضحه - نفعه	د	هجاه - مدحه



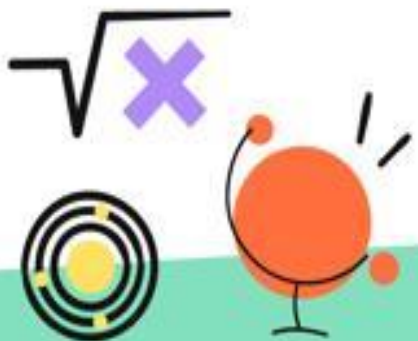


٥١	..... الكاذب والصادق في قولهما: "أنا صادق" و..... فيما يعملانه		
أ	تعاهد - فكرا	ب	اتفق - اختلفا
ج	اختلف - اتفقا	د	صدق - اختلفا
٥٢	قد يبعد الله عنك ما تتمناه ليجعل حياتك ..... فقد يؤخر الله الجميل ليجعله.....		
أ	أسوأ - أحلى	ب	أفضل - أجمل
ج	تقوى - أنفع	د	ترقى - أدنى
٥٣	الغدر والخيانة جريمة لا يعاقب عليها ..... ولكن يعاقب عليها		
أ	الزوج - الزوجة	ب	الشرع - القانون
ج	القانون - القدر	د	الصديق - المحب
٥٤	من يستطع منكم أن يقابل ربه.... البطن عن أموال الناس ، حافظ لسانه عن .... فليفعل.		
أ	جوعان - خطاياهم	ب	شبعان - أخلاقهم
ج	أخمص - أعراضهم	د	مملوء - صدقهم





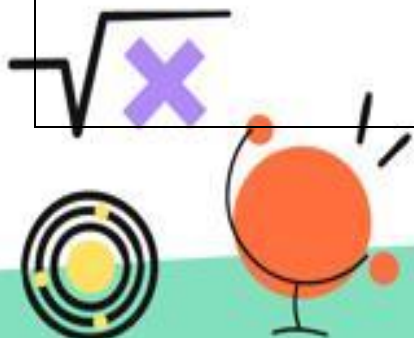
٥٥	سبب..... الكثيرين أنهم يجهلون نقاط ..... فيهم.		
أ	قوة - القوة	ب	نجاح - السوء
ج	ضعف - القوة	د	إخفاق - الضعف
٥٦	من يطلب ..... قدره فإنه يستحق .....		
أ	مثل - العقاب	ب	تحت - الجائزة
ج	فوق - الحرمان	د	أعلى - الهدية
٥٧	الصداقة ..... الحياة زهوًا.		
أ	تزرع	ب	تنمي
ج	تشجع	د	تكسو





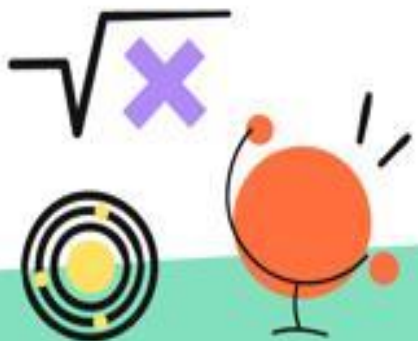
## الاختلاف:

استخرج المفردة المختلفة:			٥٨
بطاطس - قمح - أرز - عدس			
بطاطس	ب	عدس	أ
قمح	د	أرز	ج
مسدس - صاروخ - سهام - دبابة			٥٩
صاروخ	ب	مسدس	أ
دبابة	د	سهام	ج
إصبعين - قدمين - ساقين - ذراعين			٦٠
قدمين	ب	إصبعين	أ
ذراعين	د	ساقين	ج
غياب - قدوم - زوال - ذهاب			٦١
قدوم	ب	غياب	أ
ذهاب	د	زوال	ج
نوم - اضطجاع - قعود - جري			٦٢
اضطجاع	ب	نوم	أ
جري	د	قعود	ج





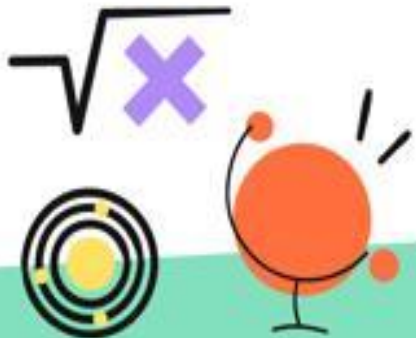
السدل - التلفع - الاضطباع - الاضطجاع			٦٣
السدل	ب	التلفع	أ
الاضطباع	د	الاضطجاع	ج
التأتأة - التمتمة - اللثمة - اللدغة			٦٤
التأتأة	ب	التمتمة	أ
اللثمة	د	اللدغة	ج
قهقهة - نحنة - وسوسة - ولولة			٦٥
قهقهة	ب	نحنة	أ
وسوسة	د	ولولة	ج





## استيعاب المقروء:

٦٦	الأم كلمة صغيرة لكننا لا نجد كلمات توفيقها حقها. س/ الكلمة التي يمكن حذفها دون أن يخل المعنى:		
أ	كلمة	ب	توفيقها
ج	حقها	د	صغيرة
٦٧	الأصوات تتفاوت ارتفاعًا وانخفاضًا، يستخدمها الخطباء في اللغة للتصوير والتأثير، لتحقيق الأهداف والتعبير عن الأفكار، يستخدم الشعراء والخطباء التصوير اللغوي عن طريق طبقات الصوت المتباينة، للتعبير عن مشاعرهم وخواطرهم، والتأثير في العواطف حتى تؤثر في المستمع فيحدث للمستمع الإقناع. س/ الترتيب المنطقي حسب ما ورد في النص:		
أ	تصوير ، تأثير ، تعبير ، إقناع	ب	تصوير ، تأثير ، إقناع ، تعبير
ج	تأثير ، تصوير ، إقناع ، تعبير	د	تعبير ، تأثير ، إقناع ، تصوير





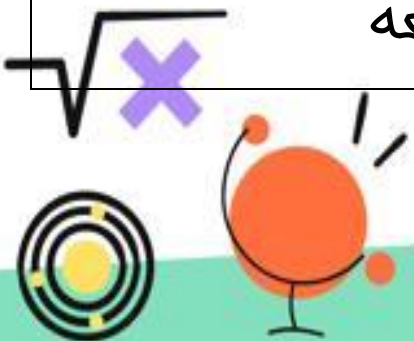


رغم امتلاك العلماء عدة شواهد تساعد في التنبؤ بالزلازل قبل وقوعها، إلا أنهم ما زالوا بعيدين كل البعد عن تحديد موعد حدوثها بدقة. لكن ذلك قد يصبح أمرًا ممكنًا بواسطة مراكز متطورة لرصد الزلازل تساعد الباحثين على التنبؤ بها. والعجب أنّ الإنسان قديمًا توصل إلى حل لمعرفة الزلازل من خلال الحيوانات، فإنّ الحيوانات تشعر بالزلازل قبل حدوثه بساعة ونصف تقريبًا، فالطيور تذهب والأسماك تتحرك بسرعة في الأحواض، كما أنّ القطط تدور حول نفسها، وهكذا. فقديمًا كانت الزلازل تقاس من خلال الحيوانات كالترموتر.

س/ العلماء استطاعوا معرفة موعد حدوث الزلازل بدقة :

٦٨

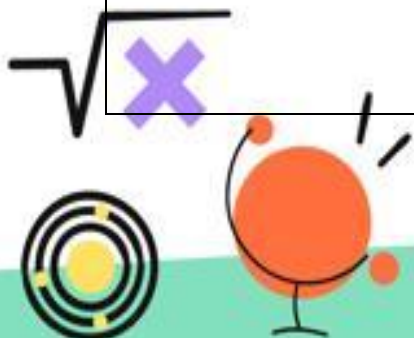
أ	نادرًا	ب	أحيانًا
ج	أبدًا	د	كثيرًا
٦٩	س/ تنبؤ الإنسان القديم بحدوث الكوارث الطبيعية، يدل على أنه:		
أ	ذكي بالفطرة	ب	ثاقب الرؤية
ج	مرتبط بالبيئة	د	تكرار حدوثه معه





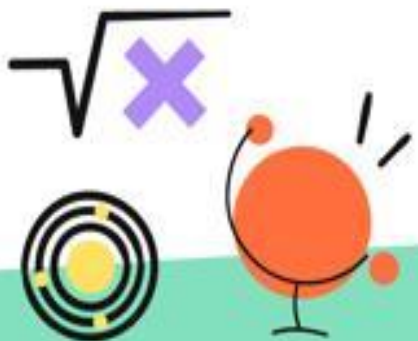
## التناظر اللفظي:

٦٨	ثلاجة : تبريد		
أ	سيف : قتال	ب	وزن : ميزان
ج	نوم : سرير	د	صوت : مذياع
٦٩	طيب : زجاجة		
أ	محراب : مسجد	ب	قصب : سكر
ج	كيس : سكر	د	حب : ود
٧٠	سورة : آية		
أ	مدير : موظف	ب	تفسير : توضيح
ج	مسرحية : قصة	د	وزارة : إدارة
٧١	ثعلب : مكر		
أ	أسد : شجاعة	ب	أسماك : غدر
ج	جمل : حقد	د	نحل : سعي
٧٢	مسك : عطور		
أ	يوم : أسابيع	ب	سنة : فصول
ج	تفاح : زهرة	د	نخلة : أشجار



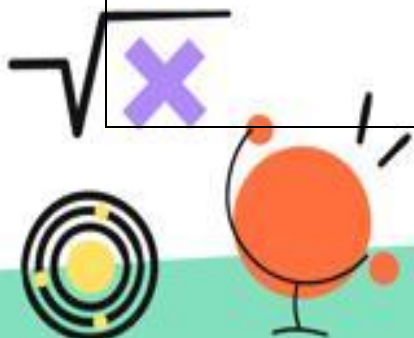


٧٣		قتل : مجرم	
أ	نجار : باب	ب	صحفي : صحيفة
ج	زراعة : فلاح	د	الاجتهاد : النجاح
٧٤		البقرة : حليب	
أ	نحل : عسل	ب	نام - ثناوب
ج	عبس : ضحك	د	تبسم - غضب
٧٥		وبر : ناقة	
أ	شعر : خروف	ب	سمك : قشور
ج	ريش : حمامة	د	دجاج : حمام
٧٦		الحمام : هديل	
أ	صياح : الديك	ب	الشاة : خوار
ج	فحيح : أفعى	د	الذئب : عواء



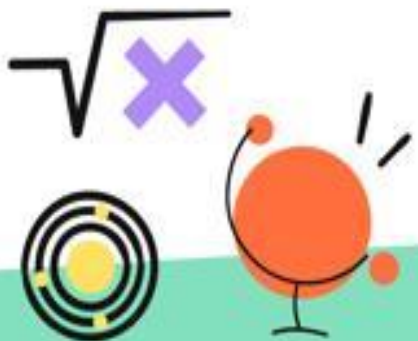
## الربط:

٧٧	الكلمة الأكثر ارتباطًا برأس السؤال :	غفوة	
أ	نوم	ب	سبات
ج	أحلام	د	نعاس
٧٨	غيوم		
أ	الشمس	ب	البرودة
ج	الكثافة	د	المطر
٧٩	صداع		
أ	قهوة	ب	مستشفى
ج	رأس	د	دواء
٨٠	اختبار		
أ	دفتر	ب	كتاب
ج	أسئلة	د	استاذ
٨١	اختبار		
أ	اجتياز	ب	رسوب
ج	نجاح	د	امتحان





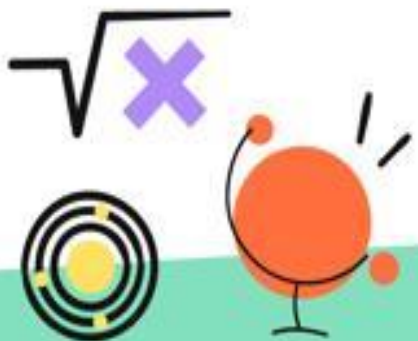
٨٢	سورة		
أ	نبي	ب	قصة
ج	تفسير	د	آية
٨٣	جسر		
أ	نهر	ب	محيط
ج	بحر	د	مطر
٨٤	الرياض		
أ	عجمان	ب	دبي
ج	أبوظبي	د	الشارقة
٨٥	القولون		
أ	الكبد	ب	الأمعاء
ج	المعدة	د	الرئة
٨٦	أبو حنيفة		
أ	النووي	ب	الشافعي
ج	ابن تيمية	د	ابن جني





## الخطأ السياقي:

٨٧	الخيل إن تجاوزت نهاية المضمار بذلت جهدها لتفوز.		
أ	الخيل	ب	تجاوزت
ج	نهاية	د	لتفوز
٨٨	التسويق من الأعمال الجليية ، فهو سم الأعمال وعدو الكمال.		
أ	التسويق	ب	الجليية
ج	سم	د	عدو
٨٩	الابتسامة هي اللغة الوحيدة التي يعرفها بعض شعوب العالم.		
أ	الابتسامة	ب	اللغة
ج	بعض	د	العالم
٩٠	الشمس منجم من نار لكنها تمنح النور فروع المخلوق فيما يعطيه وليس فيما يبذله		
أ	نار	ب	النور
ج	يعطيه	د	يبذله





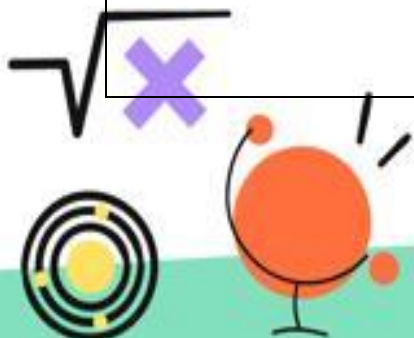
٩١	العقل يعني <u>الحقيقة</u> ، والخلق يعني <u>بالفضائل</u> ، والذوق <u>يبحث</u> <u>عن الخير</u> .		
أ	الحقيقة	ب	الفضائل
ج	يبحث	د	الخير
٩٢	الشخص الذي <u>يتصف</u> <u>بكثرة</u> الكلام <u>ينتبه</u> الناس له عندما يبدأ <u>بالحديث</u>		
أ	يتصف	ب	بكثرة
ج	ينتبه	د	الحديث





## إكمال الجمل:

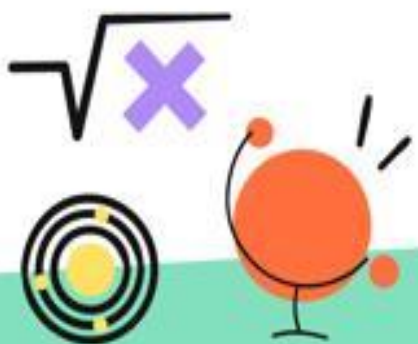
٩٣	الإنسان الناجح (العاقل) يغلق فمه قبل أن يغلق الناس ..... ويفتح آذنيه قبل أن يفتح الناس .....		
أ	أفواههم - آذانهم	ب	آذانهم - أفواههم
ج	قلوبهم - آذانهم	د	أفواههم - قلوبهم
٩٤	يمكن للإنسان أن يبيع ..... قد اشتراه ، ولكن لا يبيع ..... قد اكتسبه.		
أ	كتابًا - عزيزًا	ب	قلمًا - منزلًا
ج	بيتًا - نقدًا	د	شيئًا - فكرًا
٩٥	إن الإهمال ..... الحب ، والنسيان .....		
أ	يقتل - يدفنه	أ	يهمل - يعالجه
ج	يحيي - يدفنه	ج	يدفنه - يقويه
٩٦	هناك أربع طرق ..... الوقت: الفراغ والإهمال وإساءة العمل والعمل في غير وقته.		
أ	إطالة	ب	إضاعة
ج	إتاحة	د	إرجاع







٩٧	اجعل الآخرة ..... فما أتاك من الدنيا فهو .....	
أ	من ثانوياتك - ربح	ب
ج	آخر اهتماماتك - خسارة	د
٩٨	إن من أردأ الصفات الحسد؛ فالحسود يسعى على من .....	
أ	يلجأ - الغضب	ب
ج	أساء - تفضل	د
٩٩	خير الكلام ما كان قليله ..... عن كثيره.	
أ	يعينك	ب
ج	يهديك	د
١٠٠	..... الحاسب من ضروريات الحياة بعد أن كان من .....	
أ	أصبح - أولوياتها	ب
ج	ما زال - ضرورياتها	د
	صار - مُتعتها	
	لم يعد - أولوياتها	

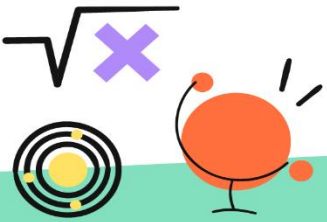




## هنا جدول دورات مجانية

[أضغط هنا](#)

دورات





ودك تعرف أكثر عن التحصيلي؟ وايش أهم  
القوانين والاسراتيجيات؟

**انضم للقناة وخذك قريب**

[أضغط هنا](#)



[أضغط هنا](#)

**وحمّل**

noon

نون أكاديمي

