

المملكة العربية السعودية
وزارة التعليم
إدارة التعليم بمحافظات عسير
مدرسة الكسائي الابتدائية



الدرجة: _____

توقيع ولي الأمر: _____

اختبار تجريبي للفترة الثانية الفصل الدراسي الثالث ١٤٤٤ هـ

الصف: الثاني الابتدائي

المادة: رياضيات

اسم الطالب:

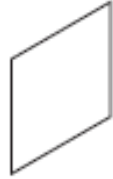
السؤال الأول: سم الأشكال التالية ، وحدد عدد أضلاعها وزواياها.

.....
.....



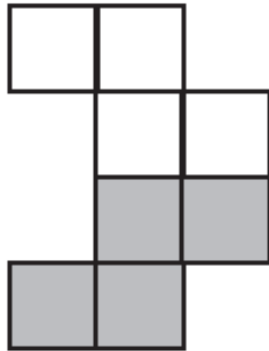
.....

.....
.....

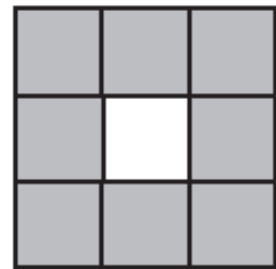


.....

السؤال الثاني : اوجد مساحة الأجزاء المظللة فيما يلي :



..... وَحَدَاتٍ مَرَبَعَةٍ



..... وَحَدَاتٍ مَرَبَعَةٍ

السؤال الثالث : ضع دائرة حول الوحدة الأنسب لقياس سعة كل وعاء فيما يلي:

نتر	ملتر	
نتر	ملتر	

السؤال الرابع: (أ) اوجد نتائج الجمع التالي :

$$\begin{array}{r} 514 \\ 233 + \\ \hline \end{array}$$

$$\begin{array}{r} 149 \\ 366 + \\ \hline \end{array}$$

(ب) اوجد نتائج الطرح التالي :

$$\begin{array}{r} 425 \\ 374 - \\ \hline \end{array}$$

$$\begin{array}{r} 847 \\ 161 - \\ \hline \end{array}$$