


قطر الندي

الأعداد من ١ إلى ١٠

العدد (١)

تابع جيد لذكروني على موقعنا
https://www.zakrooly.com

لون الصورة باللون

الأصفر



لون العدد باللون

الأحمر

١ ضع خطأ تحت العدد (١) :

٣ - ١ - ٧ - ١ - ٦

٢ - ٤ - ١ - ٥ - ٣

٦ - ٧ - ٢ - ١ - ١

مثال :



الرياضيات

دور الحضانة

قطر الندى

٢ ضع دائرة حول العدد (١) :

٢ - ١ - ٣ - ١

مثال :



٦ - ٣ - ٢ - ١



٤ - ١ - ١ - ٥



٣ اكتب العدد تحت الصورة :



٤ اكتب وانطق العدد :

١	١	١	١	١	١
⋮	⋮	⋮	⋮	⋮	⋮
⋮	⋮	⋮	⋮	⋮	⋮

دور الحضانه الرياضيات

هذا العمل خاص بموقع ذاكرولى التعليمي ولا يسمح بتداوله على مواقع أخرى



تدريبات منزلية



١ ارسم (/) حسب العدد المكتوب :

1		1

٢ اكتب وانطق العدد :

1	1	1	1	1	1
⋮	⋮	⋮	⋮	⋮	⋮
⋮	⋮	⋮	⋮	⋮	⋮



العدد (٢)



١ ضع خطاً تحت العدد (٢) :

٤ - ٢ - ١ - ٢ - ٦



٢ - ٤ - ١ - ٥ - ٣



٦ - ٧ - ٢ - ١ - ١



قطر الندى

٢ ضع دائرة حول العدد (٢):

٥ - ٣ - ٢ - ٦ - ١



٦ - ٢ - ٣ - ١ - ٢



٨ - ٤ - ٢ - ١ - ١



عد و صل



٣ صل العدد بما يناسبه:



١

٢

٢







١

الرياضيات

دور الحضانه

قطر الندى

٤ اكتب العدد تحت الصورة :

٥ اكتب وانطق العدد :

٢	٢	٢	٢	٢	٢
٢	٢	٢	٢	٢	٢
٢	٢	٢	٢	٢	٢

دور الحصانة الرياضيات

هذا العمل خاص بموقع ذاكرولى التعليمي ولا يسمح بتداوله على مواقع أخرى



تدريبات منزلية



١ ارسم (/) حسب العدد المكتوب :

٦	٦	٦

عد وصل

انظروا على الصفحة على الفيسبوك
www.facebook.com/ZakroolySite

٢ صل العدد بما يناسبه :



٦

١

٦

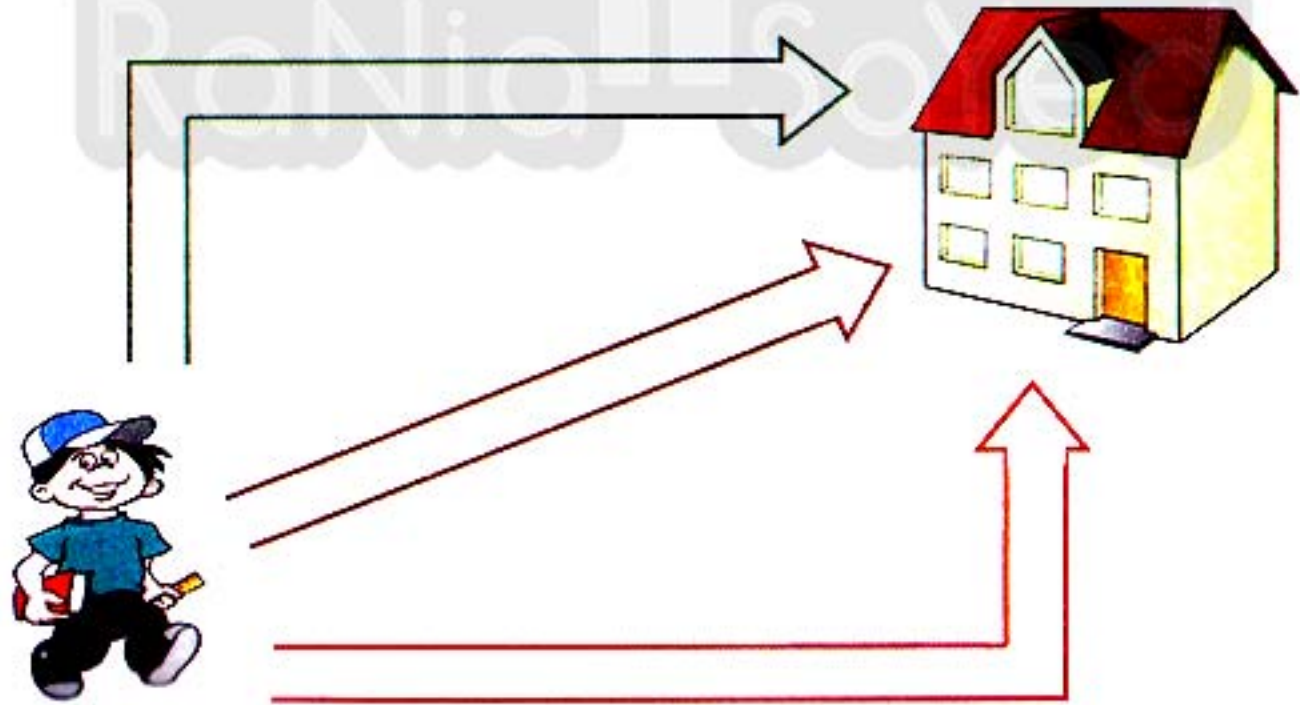
١

قطر الندى

٣ اكتب وانطق العدد :

٢	٢	٢	٢	٢	٢
٢	٢	٢	٢	٢	٢
٢	٢	٢	٢	٢	٢

٤ لون الطريق الأقصر لمنزل أحمد :



دور الحضانه الرياضيات

١٠

هذا العمل خاص بموقع ذاكرولى التعليمى ولا يسمح بتداوله على مواقع أخرى




العدد (٣)



لون الصور باللون

الأحمر



ثلاثة

لون العدد باللون

الأخضر

١ ضع خطاً تحت العدد (٣) :

٣ — ١ — ٢ — ٣ — ١

مثال :



٦ — ٤ — ٣ — ١ — ٢



٣ — ٣ — ٤ — ٢ — ١



الرياضيات

دور الحضانه

قطر الندى

٢ ضع دائرة حول العدد (٣) :

١ - ٢ - ٣ - ٤ - ٥

مثال :



٥ - ٤ - ٣ - ١ - ٢



٢ - ٣ - ٦ - ٣ - ١



٣ صل العدد بما يناسبه :

	٢
	١
	٣
	١
	٣

دور الحضانه الرياضيات

٤ اكتب العدد تحت الصورة :



٥ اكتب وانطق العدد :

٣

٣

٣

٣

٣

٣





تدريبات منزلية



١ ارسم (/) حسب العدد المكتوب :

٦	١	٣

عد وصل

٢ صل العدد بما يناسبه :

	٦
	٣
	٣
	٦
	١

تاتتا تاتتا



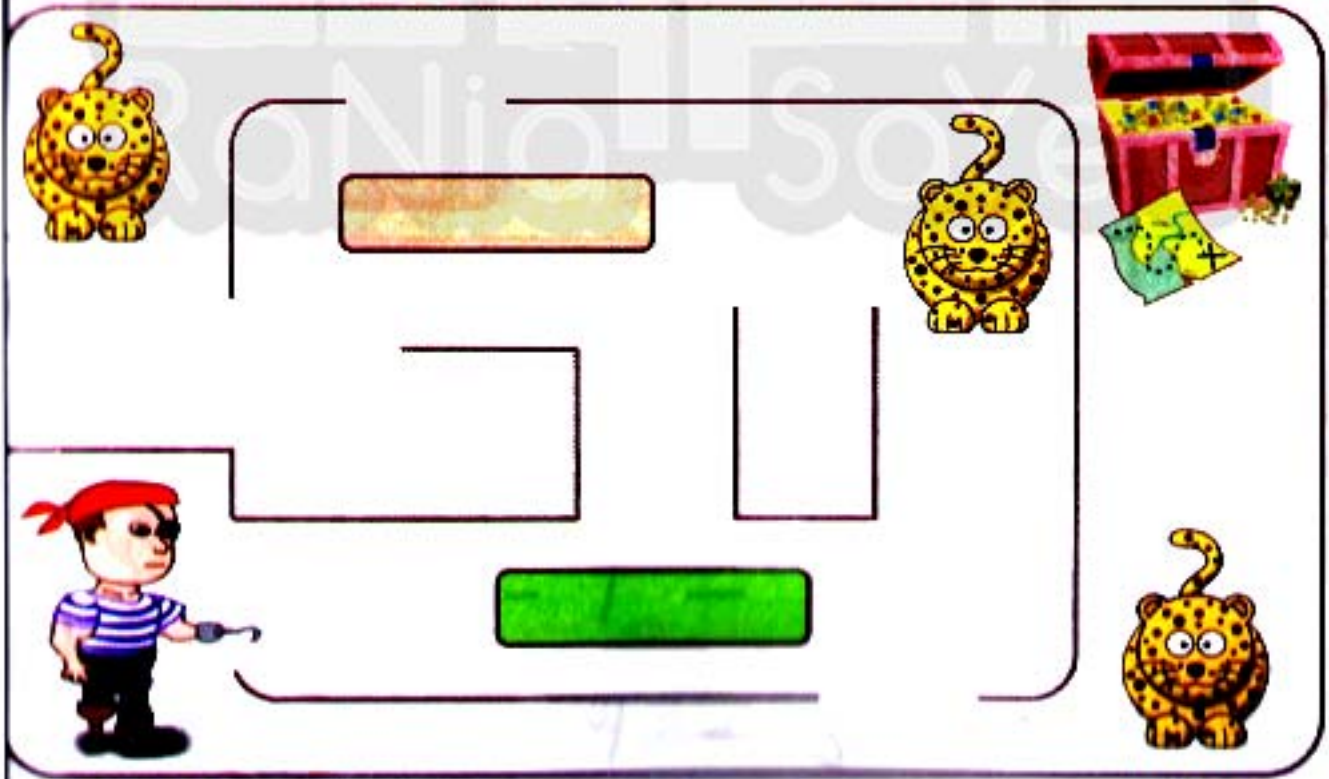
قطر الندي



٣ اكتب وانطق العدد :

٣	٣	٣	٣	٣	٣

٤ ساعد القرصان للوصول للكنز دون أن يمر أمام النمر



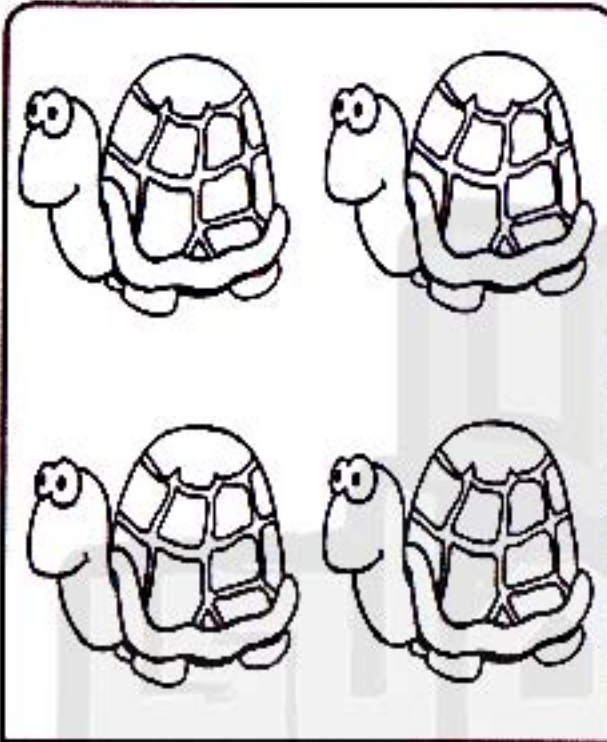
الرياضيات

١٥

دور الحضانة



العدد (٤)



لون الصور باللون

الأخضر



لون العدد باللون

البنى

١ ضع خطاً تحت العدد (٤) :

٦ - ٤ - ٥ - ٤ - ٣

٦ - ٤ - ٣ - ١ - ٢

٥ - ٢ - ٤ - ٣ - ١

مثال :



تاتتا تاتتا

قطر الندي



٢ ضع دائرة حول العدد (٤) :

٤ - ٦ - ٥ - ٤ - ٣

مثال :



١ - ٢ - ٣ - ٦ - ٤



٥ - ٢ - ٤ - ٣ - ١



عد و صل



٣ صل العدد بما يناسبه :

٤



٣



١



٦









٤

الرياضيات

دور الحصان

٤ اكتب العدد تحت الصورة :

٥ اكتب وانطق العدد :

٤	٤	٤	٤	٤	٤
					
					



تدريبات منزلية



١ ارسم (/) حسب العدد المكتوب :

٣	٢	٤

عد وصل




٢ صل العدد بما يناسبه :

	٢
	١
	٣
	٤

٣ اكتب وانطق العدد :

٤	٤	٤	٤	٤	٤
٤	٤	٤	٤	٤	٤
٤	٤	٤	٤	٤	٤

٤ لون الثلاث بالونات بألوانهم التالية :



(١) أخضر 

(٢) أزرق 

(٣) أحمر 

تاتتا




تاتتا

قطر الندى




العدد (٥)



لون الصور باللون

الأصفر



خمسة

لون العدد باللون

الأزرق

١ ضع خطاً تحت العدد (٥) :

٢ — ٥ — ٤ — ٥ — ٣

مثال :



٦ — ٣ — ٥ — ٢ — ١



٤ — ٥ — ٣ — ١ — ٥



الرياضيات

٢١

دور المراجعة

قطر الندى

٢ ضع دائرة حول العدد (٥) :

٢ - ٦ - ٥ - ١ - ٥

٣ - ٢ - ١ - ٥ - ٤

٤ - ٥ - ٦ - ٥ - ١



عد و صل



٣ صل العدد بما يناسبه :

	٣
	٦
	١
	٥
	٤



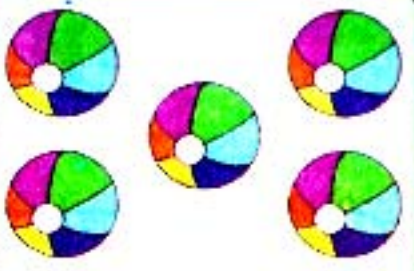



الرياضيات

٢٢

دور الحضانه

قطر الندى

٤ اكتب العدد تحت الصورة :

		
.....
		
.....

٥ اكتب وانطق العدد :

٥	٥	٥	٥	٥	٥
⦿	⦿	⦿	⦿	⦿	⦿
⦿	⦿	⦿	⦿	⦿	⦿

الرياضيات ٢٣ دورة الحضانة

هذا العمل خاص بموقع ذاكرولى التعليمي ولا يسمح بتداوله على مواقع أخرى

قطر الندى



تدريبات منزلية



١ ارسم (/) حسب العدد المكتوب :

٣	٥	٤

عد وصل



٢ صل العدد بما يناسبه :

	٣
	١
	٤
	٦
	٥

الرياضيات

٢٤

دور الحضانه

تاتيا تاتيا

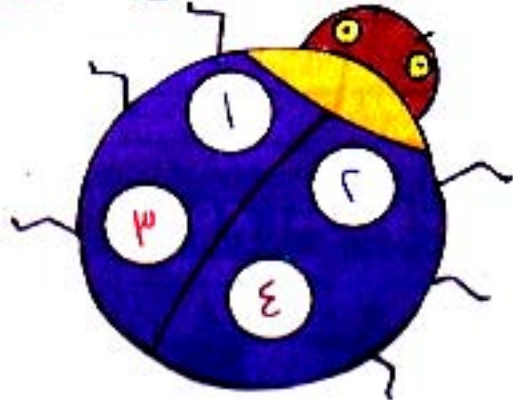

قطر الندى



٣ اكتب وانطق العدد:

٥	٥	٥	٥	٥	٥
٥	٥	٥	٥	٥	٥

٤ لون الدوائر على الفراشة والخنفساء بألوانها التالية



(١) أخضر



(٢) أزرق



(٣) أحمر



(٤) بني



الرياضيات


٢٥

دور الحصانة


مطر الندى



١ اكتب العدد تحت الصورة :



٢ اختر العدد الصحيح كما بالمثال :



٣ كم عدد النجوم الموجودة أمامك ؟



هذا العمل خاص بموقع ذاكرولى التعليمي ولا يسمح بتداوله على مواقع أخرى

قطر الندى

عد وصل

٤ صل الرقم بما يناسبه :



٥



٦



١



٣



٤

٥ صل من الأكبر للأصغر :



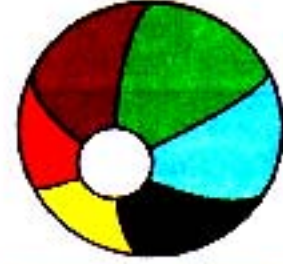
الرياضيات

٢٧

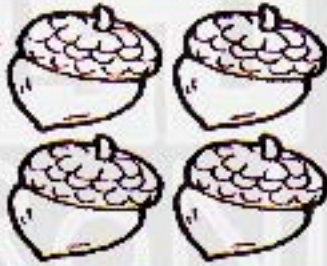
دور الحضانه

قطر الندى

٦ صل من الأصغر للأكبر :



٧ اكتب وانطق العدد مع تلوين الصور :




الرياضيات

٢٨

دور الحضانه

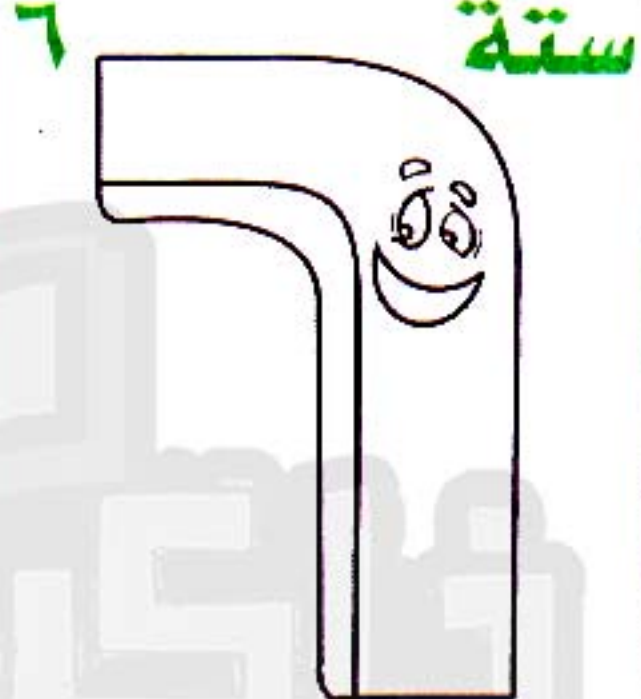


العدد (٦)



لون الصور باللون

البنى



لون العدد باللون

الأصفر

انزلنا على صفحتنا على الفيس بوك
www.facebook.com/ZakroolySite

١ ضع خطاً تحت العدد (٦) :

٢ - ٦ - ٤ - ٥ - ٣

مثال :

٦ - ٣ - ٥ - ٢ - ٦



٤ - ٦ - ٣ - ٦ - ٥



الرياضيات

٢٩

دور الحصانة

قطر الندي

٢) ضع دائرة حول العدد (٦) :

٥ - ١ - ٣ - ٦ - ٢

مثال :



٤ - ٦ - ١ - ٢ - ٣



٣ - ٢ - ٤ - ٥ - ٦



٣) صل العدد بما يناسبه :



٦



٤



٥



٦



٣







الرياضيات

٣٠

دور الحصانة

قطر الندى

٤ اكتب العدد المناسب تحت الصورة :

		
.....
		
.....

٥ اكتب وانطق العدد :

٦	٦	٦	٦	٦	٦
٦	٦	٦	٦	٦	٦
٦	٦	٦	٦	٦	٦

دور الحضانه الرياضيات

هذا العمل خاص بموقع ذاكرولى التعليمى ولا يسمح بتداوله على مواقع اخرى

قطر الندى



تدريبات منزلية



١ ارسم (/) حسب العدد المكتوب :

٦	٢	٤

عد وصل

٢ صل العدد بما يناسبه :

	٣
	٦
	٤
	٥
	٢

الرياضيات

٣٣

دور الحضانه

قطر الندى

٣ اكتب وانطق العدد :

٦	٦	٦	٦	٦	٦
٦	٦	٦	٦	٦	٦
٦	٦	٦	٦	٦	٦

٤ لون البالونات الستة بألوانهم التالية ثم أكمل تلوين

الصورة بما يناسبك :



(١) أحمر



(٢) أخضر



(٣) أصفر



(٤) بني



(٥) أزرق



(٦) برتقالي



الرياضيات

٣٣

دور الحضانه

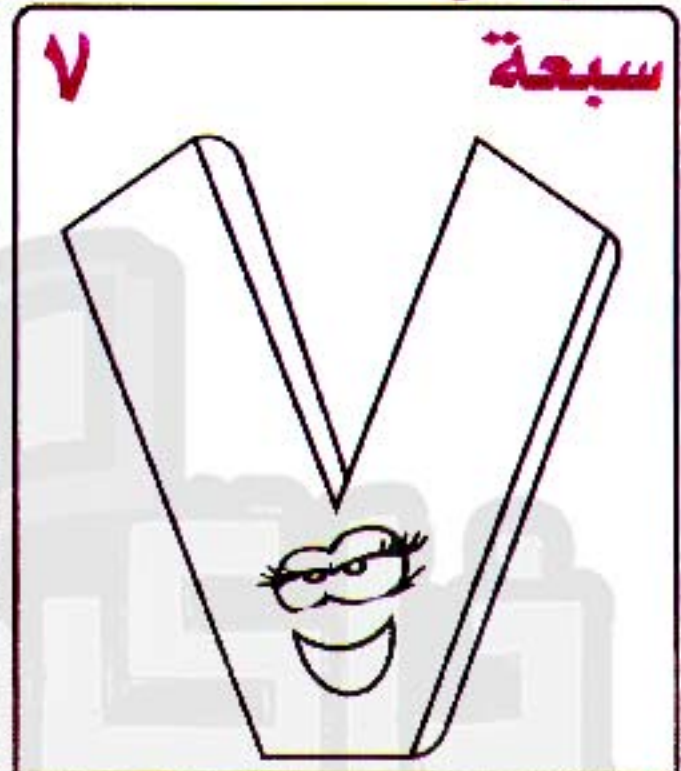


العدد (٧)



لون الصور باللون

الأصفر



لون العدد باللون

الأزرق

١ ضع خطاً تحت العدد (٧) :

٥ - ٧ - ٤ - ٢ - ١

مثال :



٦ - ٧ - ٥ - ٣ - ٢



٧ - ٥ - ٧ - ٢ - ١



قطر الندى

٢ ضع دائرة حول العدد (٧) :

٣ - ٤ - ٥ - ٧ - ٢

١ - ٢ - ٧ - ٥ - ٤

٧ - ٥ - ٧ - ٢ - ١

٣ كم عدد الكرات الموجودة هنا ؟



٤ اكتب وانطق العدد :

٧	٧	٧	٧	٧	٧
٧	٧	٧	٧	٧	٧
٧	٧	٧	٧	٧	٧

دور الحضانه الرياضيات

٣٥

قطر الندى



صل

عد



٥ صل العدد بما يناسبه :



٢



٥



٤

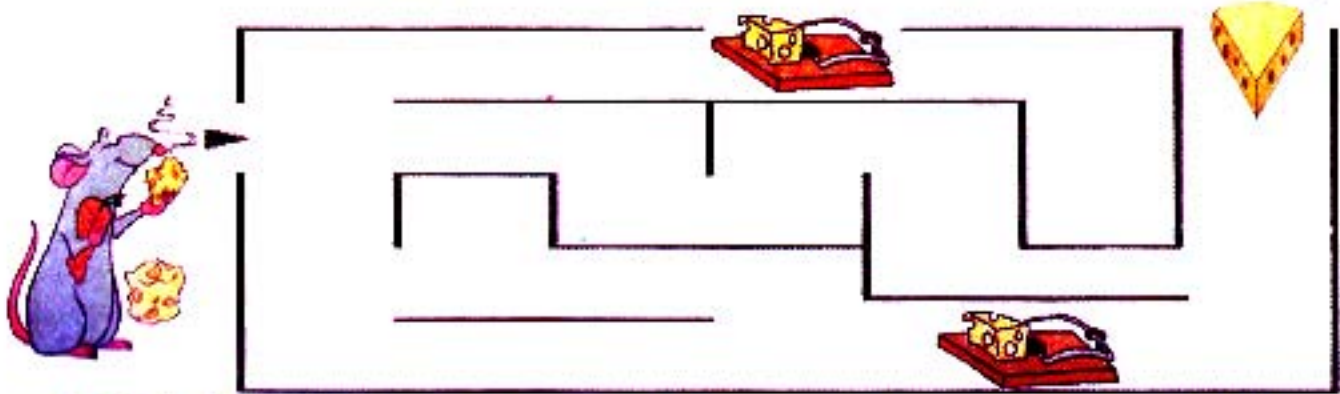


٧



٦

٦ ساعد الفأر للوصول إلى قطعة الجبن :





تدريبات منزلية



١ ارسم (/) حسب العدد المكتوب

٧	٣	٥

٢ اكتب الأعداد الآتية بخط واضح:

٧	٦	٥	٤	٣	٢	١

٣ اكتب وانطق العدد:

٧	٧	٧	٧	٧	٧
٧	٧	٧	٧	٧	٧
٧	٧	٧	٧	٧	٧



قطر الندى




العدد (٨)



لون الصور باللون

الأخضر



ثمانية

لون العدد باللون

الأحمر

١ ضع خطأ تحت العدد (٨) :

٤ - ٨ - ٣ - ٦ - ١

مثال :



٦ - ٧ - ٥ - ٨ - ٢



٨ - ٢ - ٤ - ٣ - ١



الرياضيات

٣٨

دور الحضانة

قطر الندي

٢ ضع دائرة حول العدد (٨) :

٧ - ٥ - ٣ - ٨ - ١

مثال :



١ - ٨ - ٦ - ٥ - ٤



٨ - ١ - ٣ - ٨ - ٢



٣ صل العدد بما يناسبه :



٨



٥



٣



١

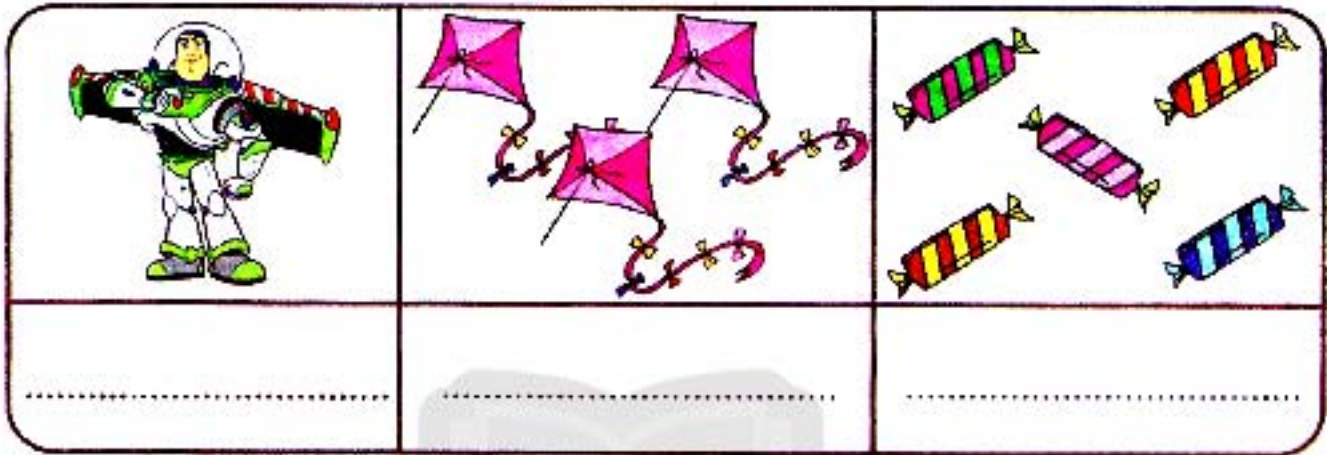


٤

الرياضيات ٣٩ دور الحصانه

هذا العمل خاص بموقع ذاكرولى التعليمى ولا يسمح بتداوله على مواقع أخرى


٤ اكتب العدد تحت الصورة :



٥ اكتب وانطق العدد :



٦ لون الأعداد التالية :



قطر الندى



تدريبات منزلية



١ ارسم (/) حسب العدد المكتوب:

٤	٨	٥

٢ اكتب الأعداد الآتية بخط واضح:

٨	٧	٦	٥	٤	٣	٢	١

٣ اكتب وانطق العدد:

٨	٨	٨	٨	٨	٨
٨	٨	٨	٨	٨	٨
٨	٨	٨	٨	٨	٨


الرياضيات

٤١

دور الحضانه



العدد (٩)



لون الصور باللون

الأزرق



تسعة

لون العدد باللون

الأصفر

١ ضع خطأ تحت العدد (٩) :

٤ - ٩ - ٨ - ٦ - ١

مثال :



٣ - ٥ - ٨ - ٩ - ٢



٩ - ٢ - ٧ - ٣ - ١



الرياضيات

٤٢

دور الحضانة

هذا العمل خاص بموقع ذاكرولى التعليمي ولا يسمح بتداوله على مواقع أخرى

قطر الندي

٢ ضع دائرة حول العدد (٩) :

مثال : ٢ - ٧ - ٩ - ٤ - ٣
 ٩ - ٥ - ٧ - ٢ - ١
 ١ - ٢ - ٤ - ٩ - ٦

٣ اكتب العدد المناسب :

٤ اكتب وانطق العدد :

٩	٩	٩	٩	٩	٩
٩	٩	٩	٩	٩	٩
٩	٩	٩	٩	٩	٩

دور الحضانه الرياضيات

٤٣

هذا العمل خاص بموقع ذاكرولى التعليمي ولا يسمح بتداوله على مواقع أخرى

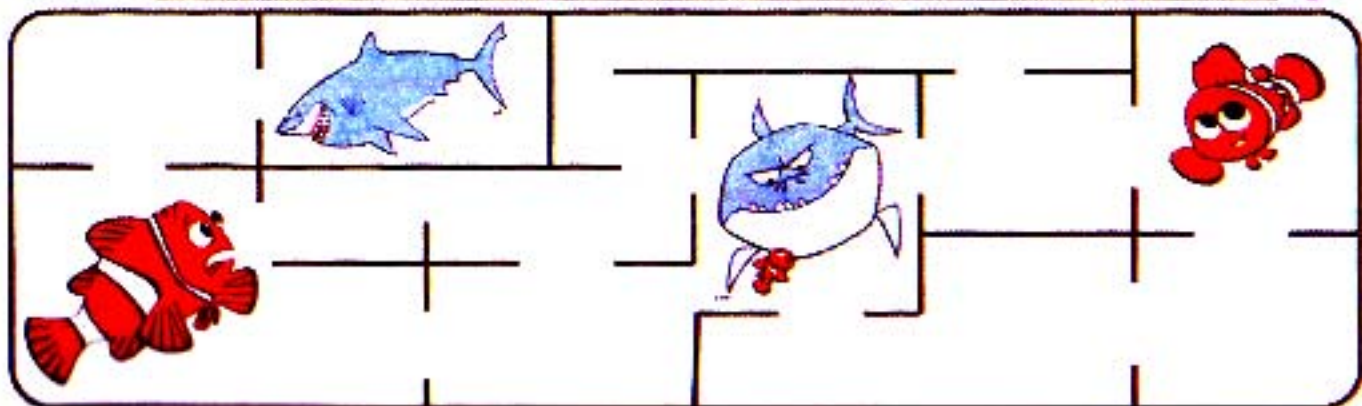
قطر الندى



٥ صل العدد بما يناسبه

	٤
	٩
	٣
	١
	٢

٦ ساعد السمكة الأب للوصول إلى السمكة الابن :



الرياضيات دور الحضانه

٤٤

هذا العمل خاص بموقع ذاكرولى التعليمى ولا يسمح بتداوله على مواقع أخرى

قطر الندى



تدريبات منزلية



١ ارسم (/) حسب العدد المكتوب :

٦	٨	٩

٢ اكتب الأعداد الآتية بخط واضح :

٩	٨	٧	٦	٥	٤	٣	٢	١

٣ اكتب وانطق العدد :

٩	٩	٩	٩	٩	٩
٩	٩	٩	٩	٩	٩
٩	٩	٩	٩	٩	٩

الرياضيات ٤٥ دور الحضانه

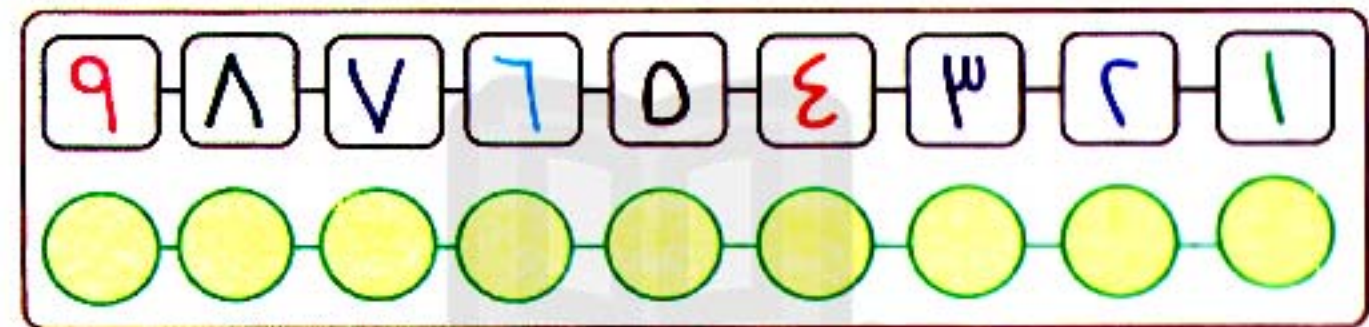
هذا العمل خاص بموقع ذاكرولى التعليمى ولا يسمح بتداوله على مواقع أخرى

قطر الندى

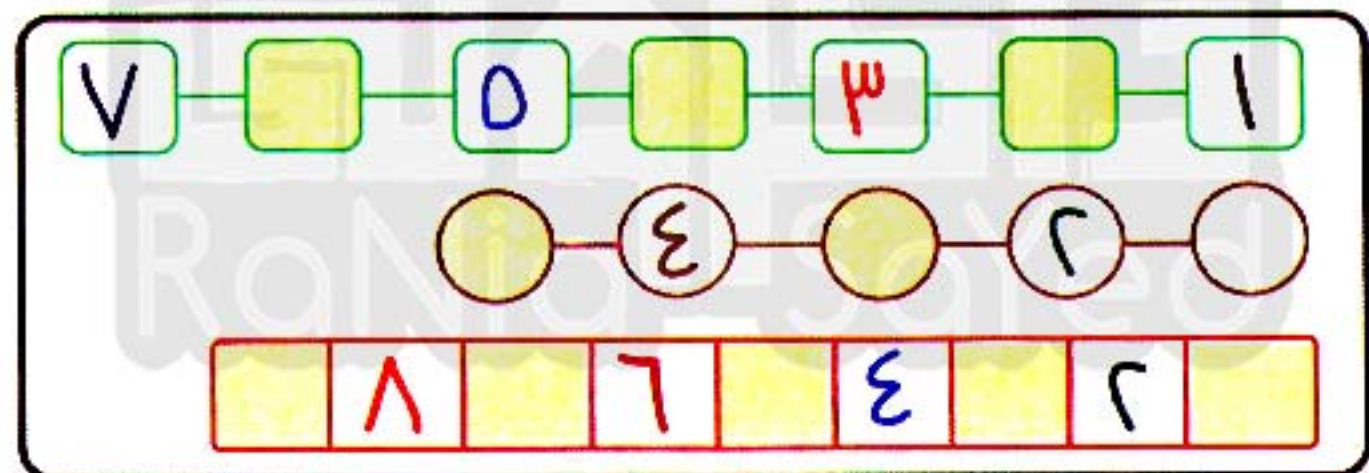
ترتيب الأعداد




١ اكتب الأعداد بترتيبها التالي :



٢ أكمل الأعداد بالترتيب :



٣ عد ولاحظ ثم ضع علامة (<, >, =) :



الرياضيات

٤٦

دور الحصانة

هذا العمل خاص بموقع ذاكرولى التعليمي ولا يسمح بتداوله على مواقع أخرى

تاتيا تاتيا



قطر الندى



تدريبات منزلية



١ أكمل الأعداد بالترتيب :

□	٧	□	٥	□	٣
○	٨	○	٦		

٢ ضع علامة (<, >, =) :

٤ □ ٥

٦ □ ٦

٣ □ ٢

٩ □ ٧

٣ رتب الأعداد التالية من الأصغر للأكبر

١	٤	٥	٣	٦

(تصاعدياً) :

الترتيب ←

٤ رتب الأعداد التالية من الأكبر للأصغر

٧	٩	٥	٤	٦

(تنازلياً) :

الترتيب ←

الرياضيات

٤٧

دور الحضانه

هذا العمل خاص بموقع ذاكرولى التعليمي ولا يسمح بتداوله على مواقع أخرى

قطر الندى



الصفير = ٠



كم عدد الصور الموجودة بالأعلى؟

لون الصفير باللون

الأحمر

تابع جديد ذاكرولي على موقعنا
https://www.zakrooly.com

١ ضع خطأ تحت العدد ()

١ - ٠ - ٨ - ٠ - ٤

٣ - ١ - ٠ - ٦ - ٠

٩ - ٧ - ٠ - ٤ - ١

مثال :



الرياضيات

٤٨

دور الحضارة

قطر الندي

٢ ضع دائرة حول العدد () :

٣ — ٤ — ٦ — ٩
١ — ٠ — ٧ — ٥ — ٠
٦ — ٩ — ٤ — ٠ — ١

مثال :









نفقه في أي عمل عليه العلامة دي

٣ اكتب العدد المناسب :

٤ اكتب وانطق العدد :

الرياضيات

٤٩

دور الحضانة

قطر الندى



تدريبات منزلية



١ أكمل الأعداد بالترتيب :

<input type="text"/>	٤	<input type="text"/>	<input type="text"/>	١	<input type="text"/>	
<input type="text"/>		<input type="text"/>	٣	<input type="text"/>	١	

٢ ضع علامة (<, >, =) :

٢	<input type="text"/>	١
٦	<input type="text"/>	٠

٠	<input type="text"/>	٠
٨	<input type="text"/>	٧

٣ رتب الأعداد التالية من الأصغر للأكبر

٤	١	٥	٠	٢	٣	(تصاعدياً)
<input type="text"/>	<input type="text"/>	<input type="text"/>	<input type="text"/>	<input type="text"/>	<input type="text"/>	الترتيب ←

٤ رتب الأعداد التالية من الأكبر للأصغر

٨	٥	٣	٧	٩	٠	(تنازلياً)
<input type="text"/>	<input type="text"/>	<input type="text"/>	<input type="text"/>	<input type="text"/>	<input type="text"/>	الترتيب ←

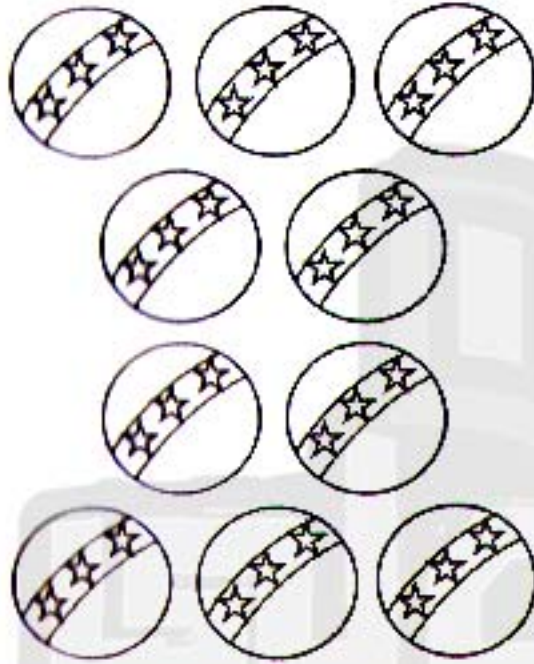
الرياضيات ٥٠ دورة الحضانه

هذا العمل خاص بموقع ذاكرولى التعليمي ولا يسمح بتداوله على مواقع أخرى

قطر الندى



العدد (١٠)




لون الصور باللون

الأصفر

١٠

عشرة



لون العدد باللون

البنى

١ ضع خطاً تحت العدد (١٠) :

٤ - ١٠ - ٨ - ٦ - ١

مثال :



٣ - ٥ - ١٠ - ٩ - ٦



١٠ - ٢ - ٧ - ٤ - ١



الرياضيات

٥١

دور الحضانه

قطر الندى

٢) ضع دائرة حول العدد (١٠):

٣ - ٦ - ١٠ - ٨ - ٢ مثال:



١٠ - ٥ - ١ - ٤ - ٩

٦ - ٩ - ٤ - ٢ - ١٠

٣) أكمل بنفس التمثل:

<input type="text"/>	<input type="text"/>	<input type="text"/>	<input type="text"/>	<input type="text"/>	<input type="text"/>	<input type="text"/>	٤	٣	
٢	<input type="text"/>	<input type="text"/>	<input type="text"/>	<input type="text"/>	<input type="text"/>	<input type="text"/>	<input type="text"/>	٩	

٤) ضع علامة (<, >, =):

٢ ٥٨ ٧٤ ٣٩ ٩٦ ١٠١٠ ٠٢ ٢٦ ٥

الرياضيات ٥٢ دور الحضارة

هذا العمل خاص بموقع ذاكرولى التعليمي ولا يسمح بتداوله على مواقع أخرى

تاتنا تاتنا

قطر الندى



٥ اكتب وانطق العدد :

١٠	١٠	١٠	١٠	١٠	١٠
١٠	١٠	١٠	١٠	١٠	١٠
١٠	١٠	١٠	١٠	١٠	١٠

٦ صل الأعداد من (١) إلى (١٠) لتكتمل الصورة ثم لونها



الرياضيات

٥٣

دور الحصان

ذاكرول

هذا العمل خاص بموقع ذاكرول التعليمي ولا يسمح بتداوله على مواقع أخرى

قطر الندى

موقع ذاكرول التعليمي

المستوى الاول

قطر الندى



تدريبات منزلية



١ ارسم دلي حسب العدد المكتوب :

٤	١٠	٣

٢ أكمل بنفس التسلسل :

				٦	٥		
				٧	٨	٩	
				٤	٦		

٣ اكتب وانطق العدد :

١٠	١٠	١٠	١٠	١٠	١٠

الرياضيات

٥٤

دور الحضانه



تمارين عامة على الأعداد من (6) إلى (10)



١ اكتب العدد المناسب:

.....

٢ اختر العدد الصحيح كما بالمثال:

١ - ٧	٨ - ٩	١٠ - ٣

عد وصل



صل العدد بما يناسبه

٣



٦



٨



٩



٧



١٠

تاتيا تاتيا



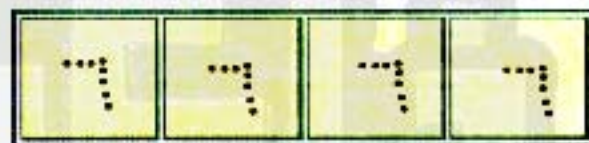
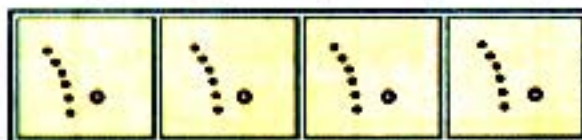
قطر الندى



٤ صل من الأكبر إلى الأصغر :



٥ اكتب وانطق العدد مع تلوين الصور :

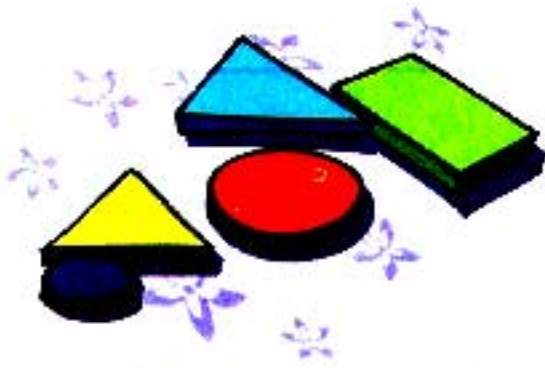
تابع جديد زاكروولي على
فيسبوك
تويتر
والسناب
تليجراملا تنس الاشتراك في
قنوات زاكروولي
على تطبيق التليجرام

الرياضيات

٥٧

دور الحصان

قطر الندى






نقوم في أي عمل على العلامة دي




لاحظ وتعلم

		
دائرة	مثلث	مربع

1 ضع علامة تحت شكل المثلث

		
<input type="checkbox"/>	<input type="checkbox"/>	<input type="checkbox"/>

2 ضع علامة تحت شكل الدائرة

		
<input type="checkbox"/>	<input type="checkbox"/>	<input type="checkbox"/>

الرياضيات

٥٨

دور الحضانه

ذاكر رولة

هذا العمل خاص بموقع ذاكرولى التعليمى ولا يسمح بتداوله على مواقع أخرى

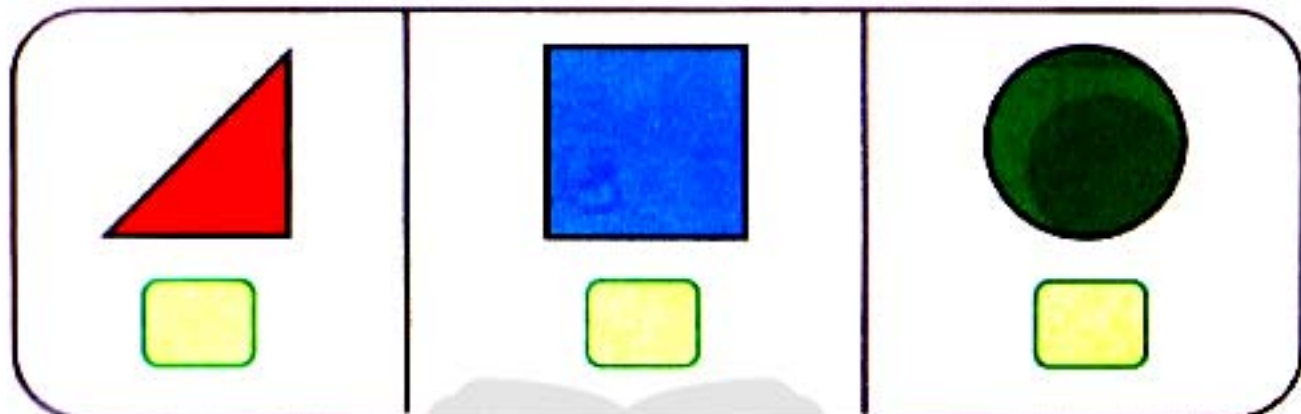
قطر الندى

موقع ذاكرولى التعليمى

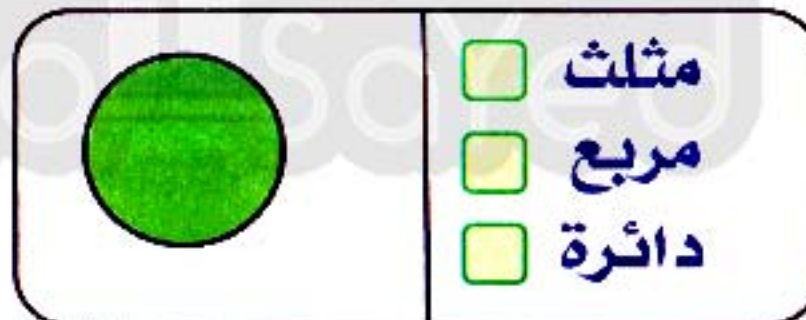
المستوى الاول

قطر الندى

٣ ضع علامة ✓ تحت شكل المربع :



٤ حدد الأشكال التي أمامك :



الرياضيات


٥٩

دور الحضنة

هذا العمل خاص بموقع ذاكرولى التعليمي ولا يسمح بتداوله على مواقع أخرى

مطر الندى

٥ صل :



دائرة

مربع

مثلث

لاحظ وتعلم :



مستطيل



مستطيل

١ حدد الشكل الذي أمامك :



مثلث

مربع

دائرة

مستطيل

٢ ضع علامة تحت شكل المستطيل :



الرياضيات

٦

دور الحضانه

٣ صل

مستطيل

مربع

دائرة

مثلث

٤ ابحث عن الأشكال ولونها كالتالي :

المربعات باللون الأزرق




المثلثات باللون الأخضر

الدوائر باللون الأحمر



المستطيلات باللون البني



الرياضيات

٦١

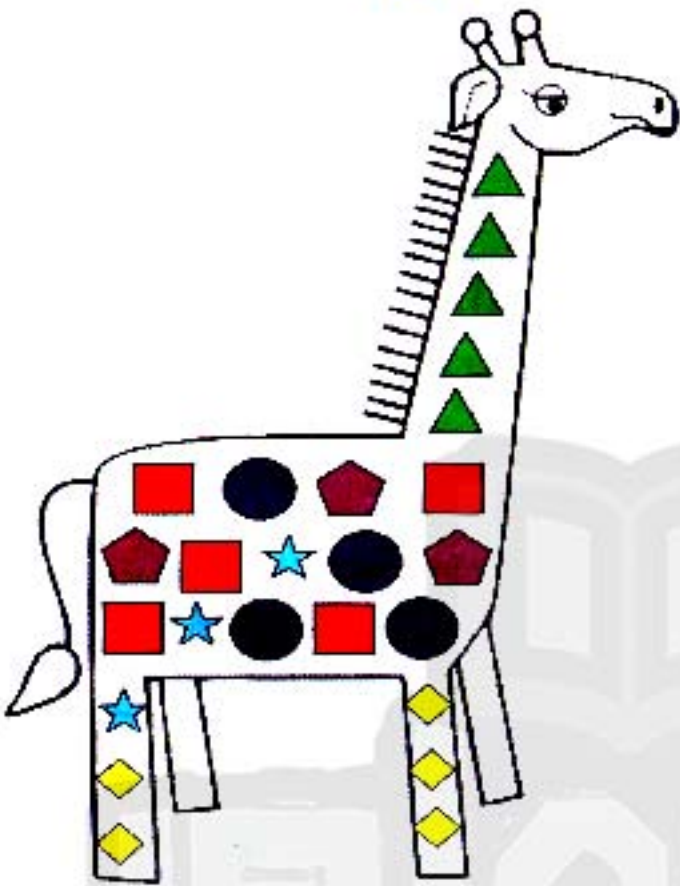
دور الحضانه




عد الأشكال



١ كم عدد؟



.....



.....




.....



.....


٢ كم عدد؟



.....



.....



.....



.....




الرياضيات

٦٢



دور الحضانة

تدريب عام

١ اكتب العدد المناسب :

		
<input type="text"/>	<input type="text"/>	<input type="text"/>

٢ أكمل بنفس التسلسل :

<input type="text"/>	<input type="text"/>	٦	<input type="text"/>	٤	
<input type="text"/>	<input type="text"/>	٥	<input type="text"/>	٧	

٣ رتب من الأكبر للأصغر (تنازلياً) :

٧ — ٨ — ٢ — ٤ — ٣ — ٥

<input type="text"/>	<input type="text"/>	<input type="text"/>	<input type="text"/>	<input type="text"/>	<input type="text"/>
----------------------	----------------------	----------------------	----------------------	----------------------	----------------------

الترتيب /

قطر الندى

٤ ضع علامة (< ، > أو =) :

٥ ٩

٨ ٧

٣ ٤

٢ ١٠

٠ ٣

٦ ٦




٥ حدد الشكل الذي أمامك :

	<input type="checkbox"/> مثلث	<input type="checkbox"/> دائرة
	<input type="checkbox"/> مربع	<input type="checkbox"/> مستطيل

٦ ضع علامة (✓) تحت شكل المربع :

		
<input type="checkbox"/>	<input type="checkbox"/>	<input type="checkbox"/>

٧ ضع علامة (✓) تحت شكل المستطيل :

		
<input type="checkbox"/>	<input type="checkbox"/>	<input type="checkbox"/>

الجمع حتى العدد (١٠)

الدرس الأول



$$\begin{array}{c} \star \star \star \\ \text{3} \end{array} = \begin{array}{c} \star \\ \text{1} \end{array} + \begin{array}{c} \star \star \\ \text{2} \end{array}$$

عد الصور ثم اجمع :

$$\begin{array}{c} \text{Cup} \text{ Cup} \\ \text{Cup} \text{ Cup} \end{array} = \begin{array}{c} \text{Cup} \text{ Cup} \text{ Cup} \\ \text{Cup} \end{array} + \begin{array}{c} \text{Cup} \end{array}$$

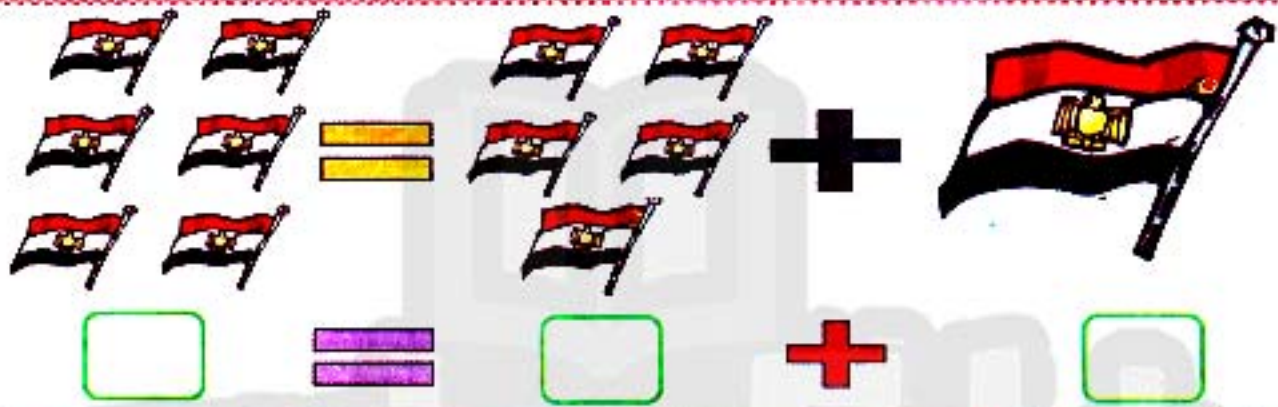
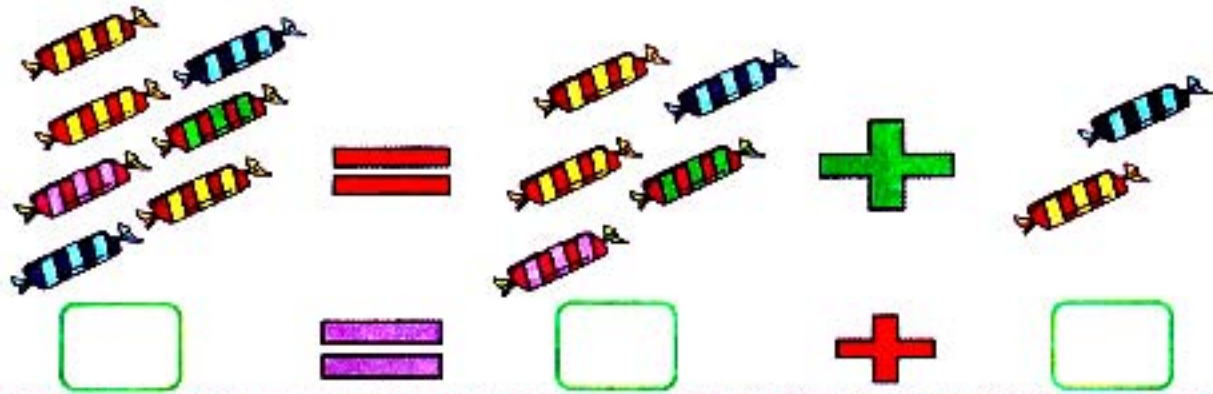
$$\square = \square + \square$$

$$\begin{array}{c} \text{Ice Cream} \text{ Ice Cream} \\ \text{Ice Cream} \text{ Ice Cream} \\ \text{Ice Cream} \text{ Ice Cream} \\ \text{Ice Cream} \end{array} = \begin{array}{c} \text{Ice Cream} \text{ Ice Cream} \\ \text{Ice Cream} \text{ Ice Cream} \end{array} + \begin{array}{c} \text{Ice Cream} \text{ Ice Cream} \\ \text{Ice Cream} \text{ Ice Cream} \end{array}$$

$$\square = \square + \square$$

لا تجب ذاكرولي على موقعنا
<https://www.zakrooly.com>

قطر الندي



اجمع :

$$\begin{array}{r} 2 \\ + \\ 3 \\ \hline \end{array}$$

$$\begin{array}{r} 3 \\ + \\ 2 \\ \hline \end{array}$$

$$\begin{array}{r} 2 \\ + \\ 7 \\ \hline \end{array}$$

$$\begin{array}{r} 5 \\ + \\ 1 \\ \hline \end{array}$$

$$\begin{array}{r} 8 \\ + \\ 2 \\ \hline \end{array}$$

$$\begin{array}{r} 4 \\ + \\ 3 \\ \hline \end{array}$$

$$\begin{array}{r} 9 \\ + \\ 0 \\ \hline \end{array}$$

$$\begin{array}{r} 6 \\ + \\ 2 \\ \hline \end{array}$$



تدريبات منزلية



١ عد الصور ثم اجمع :



٢ اجمع :

$$\dots = 4 + 2$$



$$\dots = 3 + 6$$



$$\dots = 5 + 4$$



$$\dots = 2 + 2$$



$$\dots = 1 + 6$$






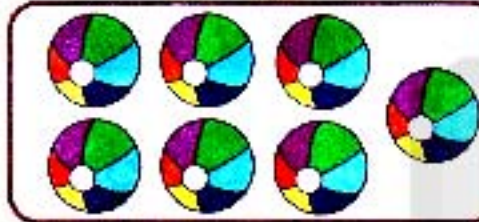
قطر الندى



٣ اجمع ثم صل



$$\square = \text{3} + \text{3}$$



$$\square = \text{6} + \text{3}$$



$$\square = \text{4} + \text{1}$$



$$\square = \text{5} + \text{2}$$

٤ ساعد الأسد للحصول على غذائه



قطر الندى

الدرس الثاني

اجمع

اجمع

..... = 4 + 0 = 6 + 1
..... = 3 + 7 = 3 + 4
..... = 1 + 6 = 1 + 5
..... = 9 + 1 = 6 + 8
..... = 7 + 2 = 3 + 6

اجمع

الرياضيات

٦٩

دور الحضانة

قطر الندى



تدريبات منزلية



١ اجمع :

٧	٣	٥	٨
+	+	+	+
٠	١	٤	٢
_____	_____	_____	_____
<input type="text"/>	<input type="text"/>	<input type="text"/>	<input type="text"/>

٢ رتب من الأصغر للأكبر (تصاعديا) :

٥	٣	٤	٢	٦	٧
<input type="text"/>	<input type="text"/>	<input type="text"/>	<input type="text"/>	<input type="text"/>	<input type="text"/>

٣ رتب من الأكبر للأصغر (تنازليا) :

٣	٤	٨	٦	٩	٧
<input type="text"/>	<input type="text"/>	<input type="text"/>	<input type="text"/>	<input type="text"/>	<input type="text"/>

٤ اجمع :

٥	٤	٨	٧	٦	٢+
<input type="text"/>	<input type="text"/>	<input type="text"/>	<input type="text"/>	<input type="text"/>	<input type="text"/>

الرياضيات دور الحصانة

٧٠

الدرس الثالث

١ اجمع :

$2 + \dots = \dots$	$3 + 1 = \dots$
$6 + 1 = \dots$	$4 + 5 = \dots$
$5 + 2 = \dots$	$7 + 2 = \dots$
$4 + 3 = \dots$	$8 + 2 = \dots$
$5 + 5 = \dots$	$6 + 2 = \dots$

٢ أكمل :

$4 = \square + 3$	$10 = \square + 9$
$8 = \square + 6$	$7 = \square + 2$

لنبدأ على هبة على الفيسبوك
www.facebook.com/ZakroolySite

٣ اجمع :

$5 + 4 = \square$	$3 + 1 = \square$	$4 + 4 = \square$	$7 + 1 = \square$
-------------------	-------------------	-------------------	-------------------

قطر الندى



تدريبات منزلية



١ أكمل بالترتيب

<input type="text"/>	<input type="text"/>	٣	٢	
<input type="text"/>	<input type="text"/>	٥	٦	
<input type="text"/>	<input type="text"/>	٨	٧	

٢ اجمع

٧ + ١	٢ + ٦	٩ + ٠	٣ + ٤
<input type="text"/>	<input type="text"/>	<input type="text"/>	<input type="text"/>

٣ رتب الأعداد التالية من الأصغر للأكبر

٩	٥	٢	٤	٧	١٠
<input type="text"/>	<input type="text"/>	<input type="text"/>	<input type="text"/>	<input type="text"/>	<input type="text"/>

(تصاعدياً)

الترتيب

٦	٧	٨	٤	٥
<input type="text"/>	<input type="text"/>	<input type="text"/>	<input type="text"/>	<input type="text"/>

٢+

٤ اجمع

الرياضيات ٧٢ دور الحضانه

هذا العمل خاص بموقع ذاكرولى التعليمي ولا يسمح بتداوله على مواقع أخرى



تدريبات عامة



١ أوجد ناتج :

$5 + 5 =$	$8 + 1 =$
$7 + 2 =$	$6 + 3 =$

٢ ضع علامة ($=$, $>$, $<$) :

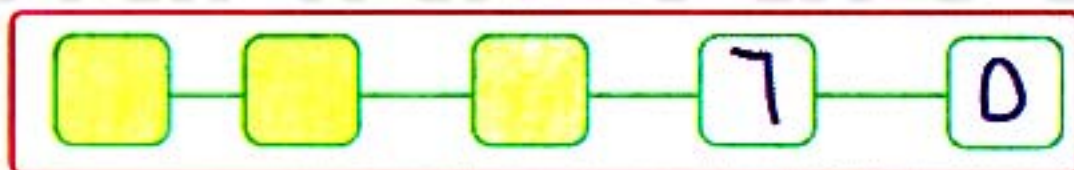
$2 \square 2$

$3 \square 1$

$6 \square 7$

$10 \square 4$

٣ أكمل بنفس التسلسل :



٤ رتب الأعداد التالية من الأكبر للأصغر

(تنازلياً)

٧	١	٥	٢	٨	٣

الترتيب

قطر الندى



تدريب (٢)

١ أوجد ناتج :

..... = ٣ + ٥ = . + ٤
..... = ١ + ٩ = ٢ + ٦

٢ أكمل :

٢ +		٥ +	
.....	٣	١
.....	٧	٤
.....	٥	٢

٣ أكمل بنفس التسلسل :

.....	٤	٣
-------	-------	-------	---	---

٤ رتب الأعداد التالية من الأصغر للأكبر

٦	٣	١٠	٢	٥	.
.....

(تصاعدياً) :

الترتيب ←

قطر الندى



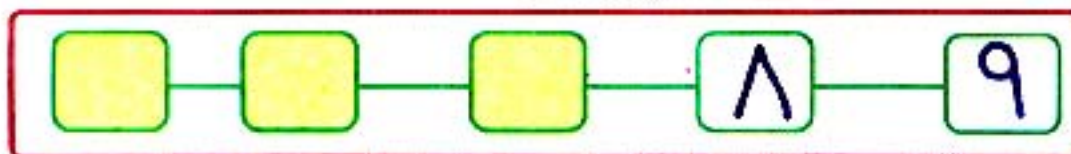
١ أوجد ناتج :

..... = ٢ + ٢ = ٣ + ٧
..... = ٤ + ٣ = ١ + ٦

٢ ضع علامة ✓ أو ✗ :

()	٦ = ٥ + ٢
()	١٠ = ٢ + ٨
()	٦ = ٣ + ٤
()	٠ = ٠ + ٧

٣ أكمل بنفس التسلسل :



٤ رتب الأعداد التالية من الأكبر للأصغر

٧	٤	٩	٢	٣	٨

(تنازلياً) :

الترتيب ←

الرياضيات ٧٥ دور الحضانه

هذا العمل خاص بموقع ذاكرولى التعليمي ولا يسمح بتداوله على مواقع أخرى

قطر الندى



تدريب (٤)



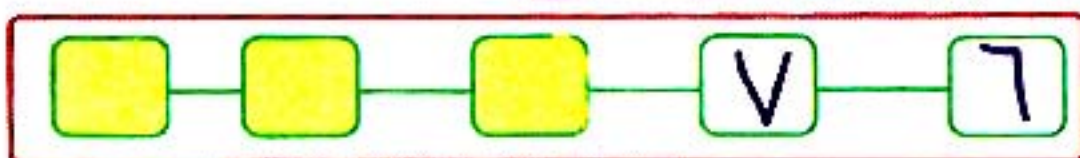
١ أوجد ناتج :

..... = ٣ + ١ = ٢ + ٦
..... = . + ٧ = ٤ + ٥

٢ ضع علامة ✓ أو ✗ :

()	$٧ = ٥ + ٢$
()	$٤ = ٢ + ١$
()	$٣ = ٣ + ٣$
()	$٢ = . + ٢$

٣ أكمل بنفس التسلسل :



٤ رتب الأعداد التالية من الأصغر للأكبر

(تصاعدياً) :

٦	٨	٧	٥	١	.

الترتيب ←

قطر الندى



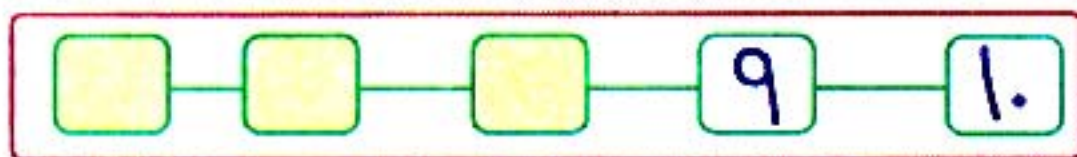
١ أوجد ناتج :

..... = ٣ + ٢ = ٤ + ٦
..... = . + ٩ = ١ + ٥

٢ ضع علامة ✓ أو ✗ :

()	٨ = ٥ + ٣
()	٤ = ٢ + ٥
()	٦ = ٣ + ٣
()	١٠ = ٧ + ٢

٣ أكمل بنفس التسلسل :



٤ رتب الأعداد التالية من الأكبر للأصغر

٩	٥	٨	٤	٣	١٠

(تنازليا) :

الترتيب ←

الرياضيات

٧٧

دور الحضارة

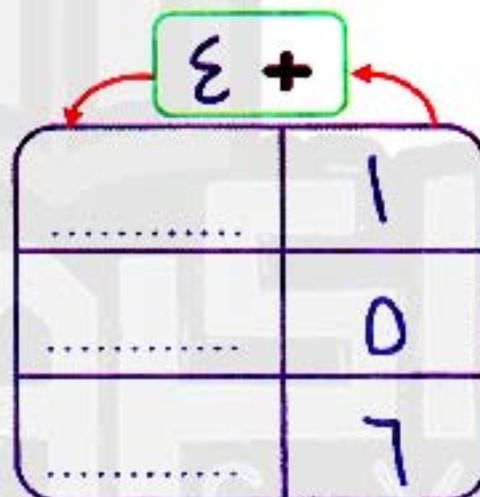
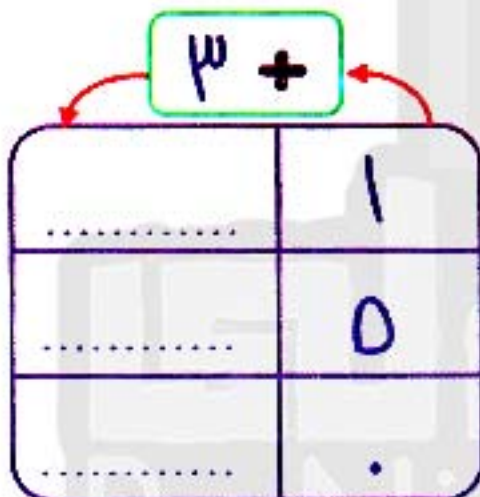
هذا العمل خاص بموقع ذاكرولى التعليمي ولا يسمح بتداوله على مواقع أخرى

قطر الندى



١ أوجد ناتج:

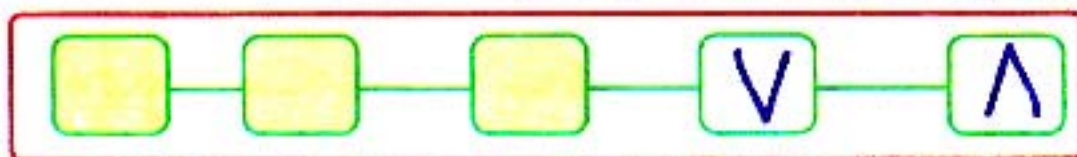
..... = ٤ + ٢ = ٣ + ٣
..... = ١ + ٦ = ٢ + ٨



٢ أكمل

تجربتك على موقعنا
http://www.zakrooly.com

٣ أكمل بنفس التسلسل:



٤ رتب الأعداد التالية من الأصغر للأكبر

٦	٨	٣	٥	١	٩
.....

(تصاعدياً)

الترتيب ←



هذا العمل خاص بموقع ذاكرولى التعليمي ولا يسمح بتداوله على مواقع أخرى



لون الصورة حسب لون ناتج جمع الأعداد التالية



$$= 4 + 5$$

$$= 6 + 2$$

$$= 3 + 7$$

حدد الاختلافات الثلاثة بين الصورتين :



اكتب ذاكرولي في البحث وانضم لجزويت ذاكرولي
مع رياض الأطفال للصف الثالث الاعدادي