

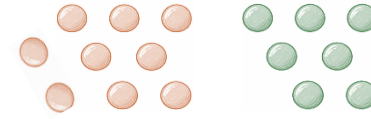
## كيف أحسب العمليات الأربعة؟

الجمع:



مثال: أجمع العدد ٧ + ٩ = .....؟

أرسم ٧ نقاط ثم أرسم بجانبها ٩ نقاط



الآن .. أعد النقاط جميعها


الناتج هو ١٦

الطرح:



مثال: أطرح العدد ١٣ - ٧ = .....؟

أرسم نقاط العدد الأكبر فقط ١٣



ثم أشطب منها ٧ نقاط



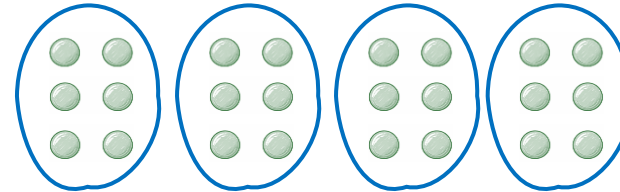
الآن .. أعد النقاط المتبقية، الناتج هو ٦.

الضرب:



مثال: أضرب العدد ٤ × ٦ = .....؟

أرسم ٤ دوائر، ثم أضع داخل كل دائرة ٦ نقاط



الآن .. أعد كل النقاط ، الناتج هو ٢٤ .

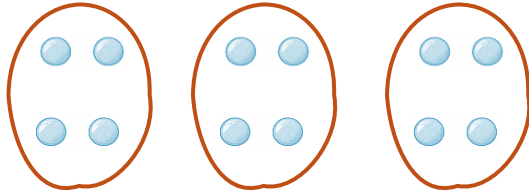
القسمة:



مثال: أقسم العدد ١٢ ÷ ٣ = .....؟

أرسم ٣ دوائر، ثم نضع داخل كل دائرة نقطة واحدة، ثم

نكرر النقطة في كل دائرة واحدة تلو الأخرى حتى نصل إلى ١٢



الآن .. أعد النقاط في دائرة واحدة، الناتج هو ٤.