

مذكره

التأسيس في التدريس ماده الرياضيات

إعداد / أ : أسماء الللاف

فلسفة التعليم



هيا نتعرف على الأعداد



٥



٤



٣



٢



١



٠



٥



٤



٢



٥



٢



١




اللهم أجعل عملي هذا شفيعا لي يوم ألقاك واجعل اجره وثوابه صدقه عني وعن أمي وأبي وأولادي

هيا نتعرف على الأعداد

١١



١٢



١٣



١٤



اللهم أجعل عملي هذا شفيعا لي يوم ألقاك واجعل اجره وثوابه صدقه عني وعن أمي وأبي وأولادي




١٥



١٦




١٧



١٨



١٩



٢٠



4

اللهم اجعل عملي هذا شفيعا لي يوم القاء واجعل اجره وثوابه صدقه عني وعن امي وابي واولادي

اشمكتي
الشمكتي

هيا نقرأ الأعداد



صل رمز كل عدد بالصورة الداله عليه








6

اللهم اجعل عملي هذا شفيعا لي يوم ألقاك واجعل اجره وثوابه صدقه عني وعن أمي وأبي وأولادي

الشمس
الكلمة
الجميلة








حوط رمز العدد المناسب لكل صورة

	٤ ١ ٦ ٣	
	١٠ ٦ ٣ ٤	
	٧ ٨ ٩ ٦	
	٣ ٦ ٨ ٧	

?

اكتب رمز العدد

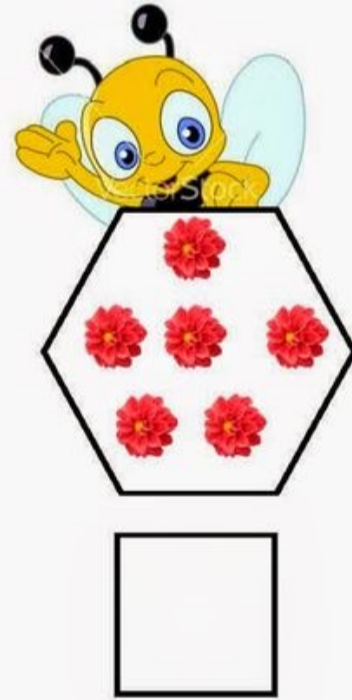

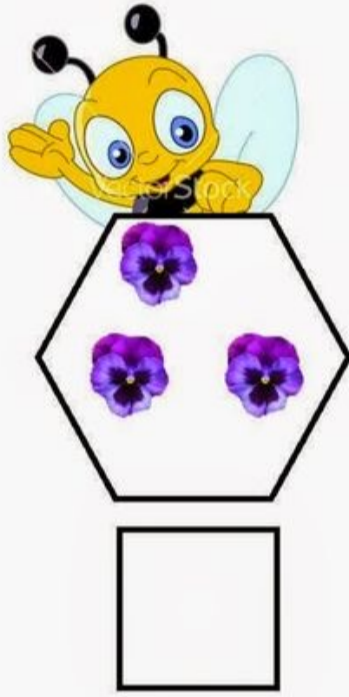
	
	
	
	
	

اللهم أجعل عملي هذا شفيعا لي يوم ألقاك واجعل اجره وثوابه صدقه عني وعن أمي وأبي وأولادي

فانكلام



اكتب رمز العدد



ZHSH ANGH - <http://www.kidmarket.com>

اللهم اجعل عملي هذا شفيعا لي يوم ألقاك واجعل اجره وثوابه صدقه عني وعن أمي وأبي وأولادي

والآن سوف نتعرف بصورة أوضح على
الأعداد من خلال لوحة القيمه المكانية

الوحدات

المئات

العشرات

الأحاد

العشرات



١٠

الأحاد



١


10

اللهم أجعل عملي هذا شفيعا لي يوم ألقاك واجعل اجره وثوابه صدقه عني وعن أمي وأبي وأولادي

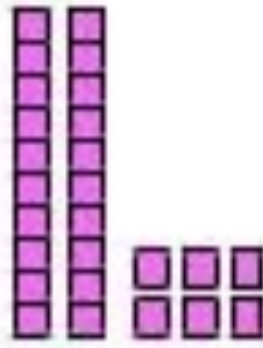
التميز
في التعليم




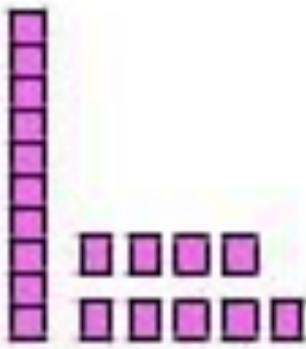
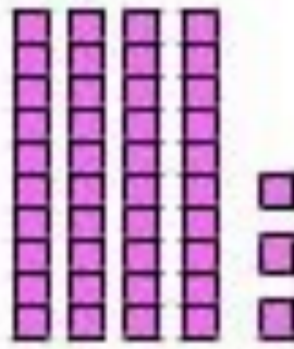

استخدم قطع دينيز واكتب رمز العدد



٢٢



٢٦



اللهم اجعل عملي هذا شفيعا لي يوم ألقاك واجعل اجره وثوابه صدقه عني وعن أمي وأبي وأولادي



حوظ القيمة المكانية للرقم الذي تحته خط

٩٦

٩ أو ٩٠

٥٤

٤ أو ٤٠

٧٣

٧ أو ٧٠

٨٥

٨ أو ٨٠

٣٦

٦ أو ٦٠

٥٩

٥ أو ٥٠

١٥

١ أو ١٠

٢٣

٣ أو ٣٠

٢٤

٢ أو ٢٠

اللهم أجعل عملي هذا شفيعا لي يوم ألقاك واجعل اجره وثوابه صدقه عني وعن أمي وأبي وأولادي

اكتب الاسم المطول

$$٥٠ + ٢ = ٥٢$$

$$٦٠ + ٧ = ٦٧$$

$$٥٠ = ٥٠$$

$$\dots\dots + \dots\dots = ٨٩$$

$$\dots\dots + \dots\dots = ٢٧$$

$$\dots\dots + \dots\dots = ٥٤$$

$$\dots\dots = ٢٠$$

استخدم قطع دينيز واكتب رمز العدد

$$26 = \square$$

$$46 = ٤٦$$

$$13 = \square$$

$$60 = \square$$

$$31 = \square$$

$$8 = \square$$

$$22 = \square$$

$$55 = \square$$

$$37 = \square$$

$$11 = \square$$

Bou Mama Teacher Mama

اللهم اجعل عملي هذا شفيعا لي يوم القاك واجعل اجره وثوابه صدقه عني وعن امي وابي واولادي

الشمس
والقمر
والنجوم
والكلاب


اكتب رمز العدد



٢٥



٤٦



اللهم اجعل عملي هذا شفيعا لي يوم ألقاك واجعل اجره وثوابه صدقه عني وعن أمي وأبي وأولادي

فانتم الكرام


اكتب رمز العدد



٢٥




٤٦



اللهم اجعل عملي هذا شفيعا لي يوم ألقاك واجعل اجره وثوابه صدقه عني وعن أمي وأبي وأولادي

فانتم الكرام

اكمل سلسلة الاعداد



اللهم اجعل عملي هذا شفيعا لي يوم القاك واجعل اجره وثوابه صدقه عني وعن امي وابي واولادي

اكتب الإسم اللفظي

ستة واربعون

٤٦

٧٥

٤٤

٢٦

٩٦

٨٠

٥٣

٧١

اللهم أجعل عملي هذا شفيعا لي يوم ألقاك واجعل اجره وثوابه صدقه عني وعن أمي وأبي وأولادي

اكتب رمز العدد

خمسة وسبعون

اربعه وستون

إثنان وعشرون

تسعه وستون

اربعه وخمسون


واحد وثلاثون

خمسة واربعون

تسعه وتسعون

اللهم أجعل عملي هذا شفيعا لي يوم ألقاك واجعل اجره وثوابه صدقه عني وعن أمي وأبي وأولادي

والآن هيا نتعلم المقارنه






اللهم أجعل عملي هذا شفيعا لي يوم ألقاك واجعل اجره وثوابه صدقه عني وعن أمي وأبي وأولادي

فانتم
الكل














قارن بوضع < أو > أو =



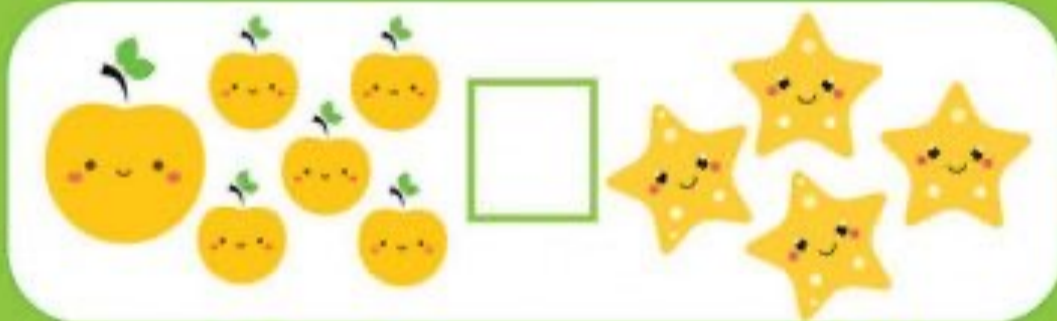

اللهم أجعل عملي هذا شفيعا لي يوم ألقاك واجعل اجره وثوابه صدقه عني وعن أمي وأبي وأولادي

قارن بوضع < أو > أو =

اللهم أجعل عملي هذا شفيعا لي يوم ألقاك واجعل اجره وثوابه صدقه عني وعن أمي وأبي وأولادي

قارن بوضع < أو > أو =



اللهم أجعل عملي هذا شفيعا لي يوم ألقاك واجعل اجره وثوابه صدقه عني وعن أمي وأبي وأولادي

رتب تصاعدي




24

اللهم أجعل عملي هذا شفيعا لي يوم ألقاك واجعل اجره وثوابه صدقه عني وعن أمي وأبي وأولادي

فانك تعلم
الملك
٢٠١٤



رتب تصاعدي



25

اللهم أجعل عملي هذا شفيعا لي يوم ألقاك واجعل اجره وثوابه صدقه عني وعن أمي وأبي وأولادي


فانك تعلم
الكل



رتب تصاعدي



Three empty pink rectangular boxes for writing the numbers 52, 90, and 65 in ascending order.



Three empty orange rectangular boxes for writing the numbers 66, 86, and 74 in ascending order.



رتب تنازليا



27

اللهم أجعل عملي هذا شفيعا لي يوم ألقاك واجعل اجره وثوابه صدقه عني وعن أمي وأبي وأولادي

فانك لا تعلم
الشيء الا
بما اراد



رتب تنازليا



28

اللهم أجعل عملي هذا شفيعا لي يوم ألقاك واجعل اجره وثوابه صدقه عني وعن أمي وأبي وأولادي

فانك تعلم
الكل



والآن هيا نتعلم الجمع



٤

....

=



....

١

+



٣

....



....

=

....

+



....



....

=

....

+



....

اللهم أجعل عملي هذا شفيعا لي يوم ألقاك واجعل اجره وثوابه صدقه عني وعن أمي وأبي وأولادي

والآن هيا نتعلم الجمع

3 stars + 1 star =

3 stars + 1 star = ٦
١
٤

٨	٤	٦	٤	٥
٢ +	٣ +	١ +	٢ +	٣ +
_____	_____	_____	_____	_____

٦	٩	٥	٧	١
٣ +	١ +	٥ +	٤ +	١ +
_____	_____	_____	_____	_____

اللهم أجعل عملي هذا شفيعا لي يوم ألقاك واجعل اجره وثوابه صدقه عني وعن أمي وأبي وأولادي



والآن هيا نتعلم الجمع

$$\dots = 0 + 19$$

$$\dots = 0 + 6$$

$$12\dots = 0 + 12$$

$$\dots = 0 + 13$$

$$\dots = 0 + 2$$

$$\dots = 0 + 5$$

$$\dots = 0 + 7$$

$$\dots = 0 + 15$$

$$\dots = 0 + 20$$

جمع أي عدد مع الصفر يكون الناتج نفس العدد

والآن هيا نتعلم الجمع

$$\begin{array}{r} 26 \\ + 41 \\ \hline \end{array}$$

$$\begin{array}{r} 80 \\ + 10 \\ \hline \end{array}$$

$$\begin{array}{r} 50 \\ + 30 \\ \hline \end{array}$$

$$\begin{array}{r} 44 \\ + 15 \\ \hline \end{array}$$

$$\begin{array}{r} 79 \\ + 10 \\ \hline \end{array}$$

$$\begin{array}{r} 33 \\ + 54 \\ \hline \end{array}$$



والآن هيا نتعلم الجمع مع إعادة التسميه

$$\begin{array}{r} 27 \\ + 47 \\ \hline \end{array}$$

$$\begin{array}{r} 49 \\ + 22 \\ \hline \end{array}$$

$$\begin{array}{r} 56 \\ + 34 \\ \hline 90 \end{array}$$

$$\begin{array}{r} 54 \\ + 19 \\ \hline \end{array}$$

$$\begin{array}{r} 16 \\ + 36 \\ \hline \end{array}$$

$$\begin{array}{r} 58 \\ + 24 \\ \hline \end{array}$$

اللهم اجعل عملي هذا شفيعا لي يوم ألقاك واجعل اجره وثوابه صدقه عني وعن أمي وأبي وأولادي

والآن هيا نتعلم الجمع

$$\begin{array}{r} 43 \\ 21 \\ \hline 35+ \end{array}$$

$$\begin{array}{r} 70 \\ 12 \\ \hline 21+ \end{array}$$

$$\begin{array}{r} 51 \\ 21 \\ \hline 23+ \\ \hline 95 \end{array}$$

$$\begin{array}{r} 26 \\ 20 \\ \hline 43+ \end{array}$$

$$\begin{array}{r} 53 \\ 23 \\ \hline 12+ \end{array}$$

$$\begin{array}{r} 68 \\ 20 \\ \hline 10+ \end{array}$$



والآن هيا نتعلم الطرح

$$4 \dots = \dots 1 - \dots 2$$

$$\dots = \dots - \dots$$

$$\dots = 1 - 2$$

$$\dots = 3 - 4$$

$$\dots = 3 - 5$$

$$\dots = 3 - 7$$

$$\dots = 1 - 9$$

$$\dots = 4 - 5$$

$$\dots = 2 - 9$$

$$\dots = 2 - 5$$

$$\dots = 3 - 6$$

اللهم أجعل عملي هذا شفيعا لي يوم ألقاك واجعل اجره وثوابه صدقه عني وعن أمي وأبي وأولادي

والآن هيا نتعلم الطرح

✖	✖
✖	
✖	

✖	✖	✖	٦
	✖		١
✖	✖		٦

٨	٤	٦	٤	٥
٢ -	٣ -	١ -	٢ -	٣ -

٦	٩	٦	٧	٢
٣ -	١ -	٥ -	٤ -	١ -

اللهم أجعل عملي هذا شفيعا لي يوم ألقاك واجعل اجره وثوابه صدقه عني وعن أمي وأبي وأولادي



والآن هيا نتعلم الطرح

$$\dots = 0 - 2$$

$$\dots = 0 - 4$$

$$5 \dots = 0 - 5$$

$$11 \dots = 0 - 11$$

$$\dots = 0 - 9$$

$$\dots = 0 - 3$$

$$\dots = 0 - 8$$

$$\dots = 0 - 1$$

$$\dots = 0 - 10$$

طرح الصفر من أي عدد يكون الناتج العدد نفسه

والآن هيا نتعلم الطرح

$$\begin{array}{r} 59 \\ -16 \\ \hline \end{array}$$

$$\begin{array}{r} 71 \\ -50 \\ \hline \end{array}$$

$$\begin{array}{r} 86 \\ -45 \\ \hline \end{array}$$

$$\begin{array}{r} 97 \\ -33 \\ \hline \end{array}$$

$$\begin{array}{r} 95 \\ -15 \\ \hline \end{array}$$

$$\begin{array}{r} 48 \\ -16 \\ \hline \end{array}$$



والآن هيا نتعلم الطرح مع اعاده التسميه

$$\begin{array}{r} 81 \\ - 67 \\ \hline \end{array}$$

$$\begin{array}{r} 50 \\ - 24 \\ \hline \end{array}$$

$$\begin{array}{r} 82 \\ - 47 \\ \hline \end{array}$$

$$\begin{array}{r} 76 \\ - 39 \\ \hline \end{array}$$




$$\begin{array}{r} 52 \\ - 38 \\ \hline \end{array}$$

$$\begin{array}{r} 23 \\ - 19 \\ \hline \end{array}$$

والآن هيا إلى لوحة القيمه المكانية لنتعرف على منزله المئات

الوحدات

الوحدات		
المئات	العشرات	الأحاد

المئات	العشرات	الأحاد
		
١	١	١

١٠ وحدات = ١ عشره = ١٠
١٠ عشرات = ١ مائه = ١٠٠
١٠٠ وحده = ١٠ عشرات = ١ مائه = ١٠٠

اللهم أجعل عملي هذا شفيعا لي يوم ألقاك واجعل اجره وثوابه صدقه عني وعن أمي وأبي وأولادي

اكتب رمز العدد

رمز العدد: ١٠٠



رمز العدد: ٢٠٠




رمز العدد: ٣٠٠

اللهم اجعل عملي هذا شفيعا لي يوم ألقاك واجعل اجره وثوابه صدقه عني وعن أمي وأبي وأولادي



اكتب رمز العدد



٢٠٤



١٢٠

42

اللهم أجعل عملي هذا شفيعا لي يوم ألقاك واجعل اجره وثوابه صدقه عني وعن أمي وأبي وأولادي



اكتب رمز العدد



٢١٢



١٤٧

43

اللهم أجعل عملي هذا شفيعا لي يوم ألقاك واجعل اجره وثوابه صدقه عني وعن أمي وأبي وأولادي



اكتب الإسم اللفظي

مائة واثنان واربعون

١٤٢

٦٠٣

٤٣٢

٢٥٦

٨٦١

٩٩٩

١٢٤

٨٥٢

اللهم أجعل عملي هذا شفيعا لي يوم ألقاك واجعل اجره وثوابه صدقه عني وعن أمي وأبي وأولادي

اكتب رمز العدد

مئتان خمسة وسبعون

ستمائة اربعة وستون

مائة اثنان وعشرون

ثلاثمائة تسعة وستون

سبعمائة اربعة وخمسون

اربعمائة واحد وثلاثون

ثمانمائة واربعون

تسعمائة واربعه

اللهم اجعل عملي هذا شفيعا لي يوم ألقاك واجعل اجره وثوابه صدقه عني وعن أمي وأبي وأولادي

اكتب رمز العدد بدلالة الاسم اللفظي :-

- تسعة وستون
- خمسة واربعون
- مائة
- مائة واربعة وثمانون
- ستمائة وخمسة وسبعون
- تسعمائة وتسعة وتسعون
- ثمانمائة وخمسة واربعون

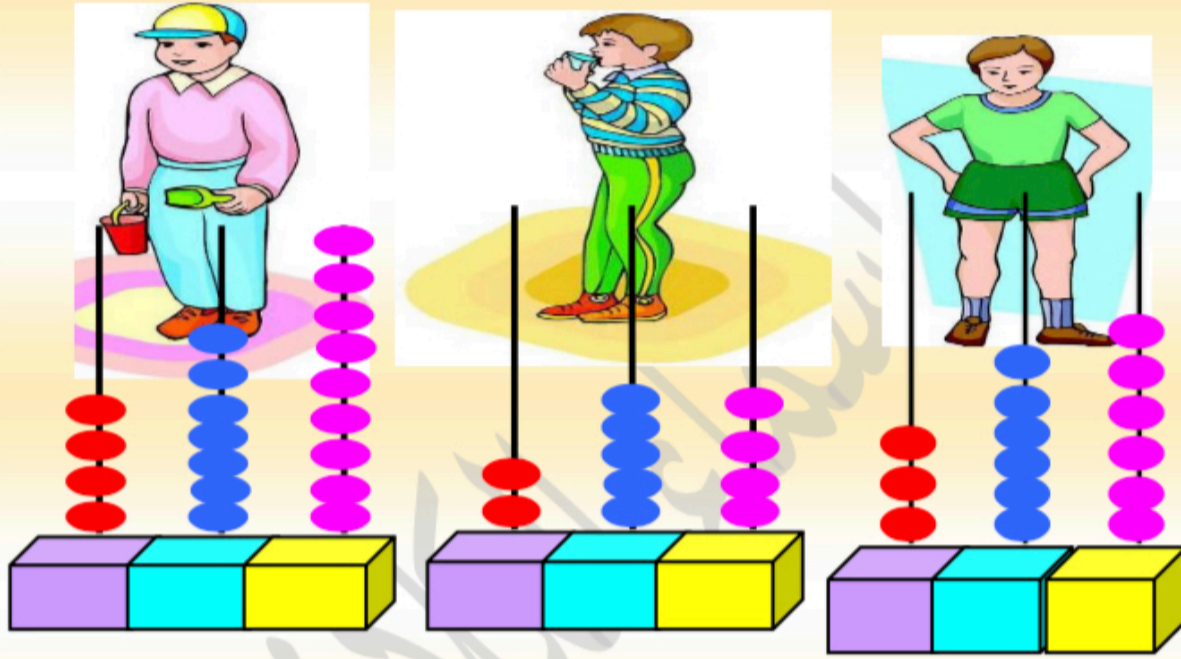
هيا ننسق ملابسنا



اللهم أجعل عملي هذا شفيعا لي يوم ألقاك واجعل اجره وثوابه صدقة عني وعن أمي وأبي و أولادي

اللهم أجعل عملي هذا شفيعا لي يوم ألقاك واجعل اجره وثوابه صدقه عني وعن أمي وأبي وأولادي

يريد سالم واصدقائه وضع معداد الرياضيات الخاص
بكل واحد منهم في سيارته هيا نضع المعداد في
السيارة المناسبة



اللهم اجعل عملي هذا شفيعا لي يوم ألقاك واجعل اجره وثوابه صدقة عني وعن أمي وأبي وأولادي

اللهم اجعل عملي هذا شفيعا لي يوم ألقاك واجعل اجره وثوابه صدقه عني وعن أمي وأبي وأولادي

حوظ القيمة المكانية للرقم الذي تحته خط

٧٩٣

٧ أو ٧٠ أو ٧٠٠

١٢٤

٢ أو ٢٠ أو ٢٠٠

٦٥٦

٦ أو ٦٠ أو ٦٠٠

٢٠٥

٥ أو ٥٠ أو ٥٠٠

٣٤٨

٣ أو ٣٠ أو ٣٠٠

٩٨١

١ أو ١٠ أو ١٠٠

٤١١

١ أو ١٠ أو ١٠٠

٨٥٠

٨ أو ٨٠ أو ٨٠٠

٥٤٣

٤ أو ٤٠ أو ٤٠٠

اللهم أجعل عملي هذا شفيعا لي يوم ألقاك واجعل اجره وثوابه صدقه عني وعن أمي وأبي وأولادي

اكتب الاسم المطول

$$٤٠٠ + ٥٠ + ٢ = ٤٥٢$$

$$١٠٠ + ٨٠ = ١٨٠$$

$$٢٠٠ + ٥ = ٢٠٥$$

$$\dots\dots\dots + \dots\dots + \dots\dots = ٤٦٧$$

$$\dots\dots\dots + \dots\dots + \dots\dots = ٩٧٢$$

$$\dots\dots + \dots\dots = ١٠٤$$

$$\dots\dots + \dots\dots = ٦٧٠$$





اكمل النمط





اللهم أجعل عملي هذا شفيعا لي يوم ألقاك واجعل اجره وثوابه صدقه عني وعن أمي وأبي وأولادي

قارن بوضع < أو > أو =




اللهم أجعل عملي هذا شفيعا لي يوم ألقاك واجعل اجره وثوابه صدقه عني وعن أمي وأبي وأولادي

قارن بوضع < أو > أو =



اللهم اجعل عملي هذا شفيعا لي يوم ألقاك واجعل اجره وثوابه صدقه عني وعن أمي وأبي وأولادي

رتب تصاعدي



53

اللهم أجعل عملي هذا شفيعا لي يوم ألقاك واجعل اجره وثوابه صدقه عني وعن أمي وأبي وأولادي

فانك
الملك
الملك



رتب تصاعدي




54

اللهم اجعل عملي هذا شفيعا لي يوم ألقاك واجعل اجره وثوابه صدقه عني وعن أمي وأبي وأولادي

فانك تعلم
الكل

رتب تصاعدي



55

اللهم أجعل عملي هذا شفيعا لي يوم ألقاك واجعل اجره وثوابه صدقه عني وعن أمي وأبي وأولادي


فانكلام



رتب تصاعدي




Three empty pink rectangular boxes for writing the numbers 52, 90, and 65 in order.



Three empty orange rectangular boxes for writing the numbers 66, 86, and 74 in order.



رتب تصاعدي



رتب تنازليا




58

اللهم أجعل عملي هذا شفيعا لي يوم ألقاك واجعل اجره وثوابه صدقه عني وعن أمي وأبي وأولادي

فانك تعلم
الاستاذة
فاطمة



رتب تنازليا



هيا نجمع

$$\begin{array}{r} 307 \\ + 122 \\ \hline \end{array}$$

$$\begin{array}{r} 651 \\ + 247 \\ \hline \end{array}$$

$$\begin{array}{r} 538 \\ + 230 \\ \hline \end{array}$$

$$\begin{array}{r} 526 \\ + 320 \\ \hline \end{array}$$

$$\begin{array}{r} 415 \\ + 441 \\ \hline \end{array}$$

$$\begin{array}{r} 689 \\ + 310 \\ \hline \end{array}$$



هيا نجمع

تذكر

١٠ وحدات = ١٠ عشره
١٠ عشرات = ١٠ مائه

$$\begin{array}{r} ٦٩٤ \\ ٢٥٧ + \\ \hline \end{array}$$

$$\begin{array}{r} ٦٩٨ \\ ٤٠٧ + \\ \hline \end{array}$$

$$\begin{array}{r} ١٤٩ \\ ٢٩٢ + \\ \hline ٤٤١ \end{array}$$

$$\begin{array}{r} ٥٦٧ \\ ٢٩٧ + \\ \hline \end{array}$$

$$\begin{array}{r} ١٣٤ \\ ١٧٨ + \\ \hline \end{array}$$

$$\begin{array}{r} ٧٥٩ \\ ٣١٩ + \\ \hline \end{array}$$

هيا نجمع

تذكر

١٠ وحدات = ١ عشره

١٠ عشرات = ١ مائه

$$\begin{array}{r} ٧٥٨ \\ + ١٧٠ \\ \hline \end{array}$$

$$\begin{array}{r} ٤٧٩ \\ + ١٣٣ \\ \hline \end{array}$$

$$\begin{array}{r} ٢٩٥ \\ + ٢١٥ \\ \hline ٥١٠ \end{array}$$

$$\begin{array}{r} ٦٤٨ \\ + ٣٥٢ \\ \hline \end{array}$$

$$\begin{array}{r} ٢٣٤ \\ + ٤٣٨ \\ \hline \end{array}$$

$$\begin{array}{r} ١٦٨ \\ + ١٧٨ \\ \hline \end{array}$$

هيا نطرح

$$\begin{array}{r} 3 \ 7 \ 8 \\ 0 \ 6 \ 4 \ - \\ \hline \end{array}$$

$$\begin{array}{r} 6 \ 2 \ 9 \\ 5 \ 1 \ 9 \ - \\ \hline \end{array}$$

$$\begin{array}{r} 7 \ 5 \ 6 \\ 1 \ 0 \ 3 \ - \\ \hline 6 \ 5 \ 3 \end{array}$$

$$\begin{array}{r} 5 \ 8 \ 3 \\ 3 \ 4 \ 2 \ - \\ \hline \end{array}$$

$$\begin{array}{r} 1 \ 8 \ 9 \\ 1 \ 6 \ 8 \ - \\ \hline \end{array}$$

$$\begin{array}{r} 4 \ 8 \ 6 \\ 2 \ 8 \ 0 \ - \\ \hline \end{array}$$

63

اللهم أجعل عملي هذا شفيعا لي يوم ألقاك واجعل اجره وثوابه صدقه عني وعن أمي وأبي وأولادي

هيا نطرح تذكر

١ عشرة = ١٠ وحدات
١ مائه = ١٠ عشرات

$$\begin{array}{r} ٩٥٠ \\ ٨٢٨ - \\ \hline \end{array}$$

$$\begin{array}{r} ٦٢٢ \\ ٣٧٩ - \\ \hline \end{array}$$

$$\begin{array}{r} ٧٩٤ \\ ٢٣٨ - \\ \hline ٥٥٦ \end{array}$$

$$\begin{array}{r} ٥٧٦ \\ ٣٢٩ - \\ \hline \end{array}$$

$$\begin{array}{r} ٨٠٢ \\ ٤٥٦ - \\ \hline \end{array}$$

$$\begin{array}{r} ٦٣٥ \\ ٥٧٧ - \\ \hline \end{array}$$

هيا نتعلم الضرب

جدول الضرب	
<p>٤ = 1 X 4</p> <p>٨ = 2 X 4</p> <p>١٢ = 3 X 4</p> <p>١٦ = 4 X 4</p> <p>٢٠ = 5 X 4</p> <p>٢٤ = 6 X 4</p> <p>٢٨ = 7 X 4</p> <p>٣٢ = 8 X 4</p> <p>٣٦ = 9 X 4</p> <p>٤٠ = 1٠ X 4</p> <p>٤٤ = ١١ X 4</p> <p>٤٨ = ١٢ X 4</p>	<p>٣ = 1 X 3</p> <p>٦ = 2 X 3</p> <p>٩ = 3 X 3</p> <p>١٢ = 4 X 3</p> <p>١٥ = 5 X 3</p> <p>١٨ = 6 X 3</p> <p>٢١ = 7 X 3</p> <p>٢٤ = 8 X 3</p> <p>٢٧ = 9 X 3</p> <p>٣٠ = ١٠ X 3</p> <p>٣٣ = ١١ X 3</p> <p>٣٦ = ١٢ X 3</p>
<p>٢ = 1 X 2</p> <p>٤ = 2 X 2</p> <p>٦ = 3 X 2</p> <p>٨ = 4 X 2</p> <p>١٠ = 5 X 2</p> <p>١٢ = 6 X 2</p> <p>١٤ = 7 X 2</p> <p>١٦ = 8 X 2</p> <p>١٨ = 9 X 2</p> <p>٢٠ = ١٠ X 2</p> <p>٢٢ = ١١ X 2</p> <p>٢٤ = ١٢ X 2</p>	<p>١ = 1 X 1</p> <p>٢ = 2 X 1</p> <p>٣ = 3 X 1</p> <p>٤ = 4 X 1</p> <p>٥ = 5 X 1</p> <p>٦ = 6 X 1</p> <p>٧ = 7 X 1</p> <p>٨ = 8 X 1</p> <p>٩ = 9 X 1</p> <p>١٠ = ١٠ X 1</p> <p>١١ = ١١ X 1</p> <p>١٢ = ١٢ X 1</p>
<p>٨ = 1 X 8</p> <p>١٦ = 2 X 8</p> <p>٢٤ = 3 X 8</p> <p>٣٢ = 4 X 8</p> <p>٤٠ = 5 X 8</p> <p>٤٨ = 6 X 8</p> <p>٥٦ = 7 X 8</p> <p>٦٤ = 8 X 8</p> <p>٧٢ = 9 X 8</p> <p>٨٠ = ١٠ X 8</p> <p>٨٨ = ١١ X 8</p> <p>٩٦ = ١٢ X 8</p>	<p>٧ = 1 X 7</p> <p>١٤ = 2 X 7</p> <p>٢١ = 3 X 7</p> <p>٢٨ = 4 X 7</p> <p>٣٥ = 5 X 7</p> <p>٤٢ = 6 X 7</p> <p>٤٩ = 7 X 7</p> <p>٥٦ = 8 X 7</p> <p>٦٣ = 9 X 7</p> <p>٧٠ = ١٠ X 7</p> <p>٧٧ = ١١ X 7</p> <p>٨٤ = ١٢ X 7</p>
<p>٦ = 1 X 6</p> <p>١٢ = 2 X 6</p> <p>١٨ = 3 X 6</p> <p>٢٤ = 4 X 6</p> <p>٣٠ = 5 X 6</p> <p>٣٦ = 6 X 6</p> <p>٤٢ = 7 X 6</p> <p>٤٨ = 8 X 6</p> <p>٥٤ = 9 X 6</p> <p>٦٠ = ١٠ X 6</p> <p>٦٦ = ١١ X 6</p> <p>٧٢ = ١٢ X 6</p>	<p>٥ = 1 X 5</p> <p>١٠ = 2 X 5</p> <p>١٥ = 3 X 5</p> <p>٢٠ = 4 X 5</p> <p>٢٥ = 5 X 5</p> <p>٣٠ = 6 X 5</p> <p>٣٥ = 7 X 5</p> <p>٤٠ = 8 X 5</p> <p>٤٥ = 9 X 5</p> <p>٥٠ = ١٠ X 5</p> <p>٥٥ = ١١ X 5</p> <p>٦٠ = ١٢ X 5</p>
<p>١٢ = 1 X ١٢</p> <p>٢٤ = 2 X ١٢</p> <p>٣٦ = 3 X ١٢</p> <p>٤٨ = 4 X ١٢</p> <p>٦٠ = 5 X ١٢</p> <p>٧٢ = 6 X ١٢</p> <p>٨٤ = 7 X ١٢</p> <p>٩٦ = 8 X ١٢</p> <p>١٠٨ = 9 X ١٢</p> <p>١٢٠ = ١٠ X ١٢</p> <p>١٣٢ = ١١ X ١٢</p> <p>١٤٤ = ١٢ X ١٢</p>	<p>١١ = 1 X ١١</p> <p>٢٢ = 2 X ١١</p> <p>٣٣ = 3 X ١١</p> <p>٤٤ = 4 X ١١</p> <p>٥٥ = 5 X ١١</p> <p>٦٦ = 6 X ١١</p> <p>٧٧ = 7 X ١١</p> <p>٨٨ = 8 X ١١</p> <p>٩٩ = 9 X ١١</p> <p>١١٠ = ١٠ X ١١</p> <p>١٢١ = ١١ X ١١</p> <p>١٣٢ = ١٢ X ١١</p>
<p>١٠ = 1 X ١٠</p> <p>٢٠ = 2 X ١٠</p> <p>٣٠ = 3 X ١٠</p> <p>٤٠ = 4 X ١٠</p> <p>٥٠ = 5 X ١٠</p> <p>٦٠ = 6 X ١٠</p> <p>٧٠ = 7 X ١٠</p> <p>٨٠ = 8 X ١٠</p> <p>٩٠ = 9 X ١٠</p> <p>١٠٠ = ١٠ X ١٠</p> <p>١١٠ = ١١ X ١٠</p> <p>١٢٠ = ١٢ X ١٠</p>	<p>٩ = 1 X ٩</p> <p>١٨ = 2 X ٩</p> <p>٢٧ = 3 X ٩</p> <p>٣٦ = 4 X ٩</p> <p>٤٥ = 5 X ٩</p> <p>٥٤ = 6 X ٩</p> <p>٦٣ = 7 X ٩</p> <p>٧٢ = 8 X ٩</p> <p>٨١ = 9 X ٩</p> <p>٩٠ = ١٠ X ٩</p> <p>٩٩ = ١١ X ٩</p> <p>١٠٨ = ١٢ X ٩</p>


اللهم اجعل عملي هذا شفيعا لي يوم ألقاك واجعل اجره وثوابه صدقه عني وعن أمي وأبي وأولادي

هيا نتعلم الضرب

عملية الضرب هي عملية جمع متكرر


$$8 = 2 + 2 + 2 + 2$$

$$8 = 2 \times 4$$

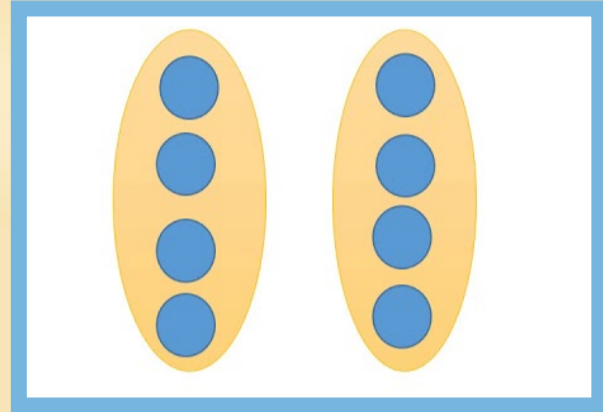

$$10 = 2 + 2 + 2 + 2 + 2$$

$$10 = 2 \times 5$$

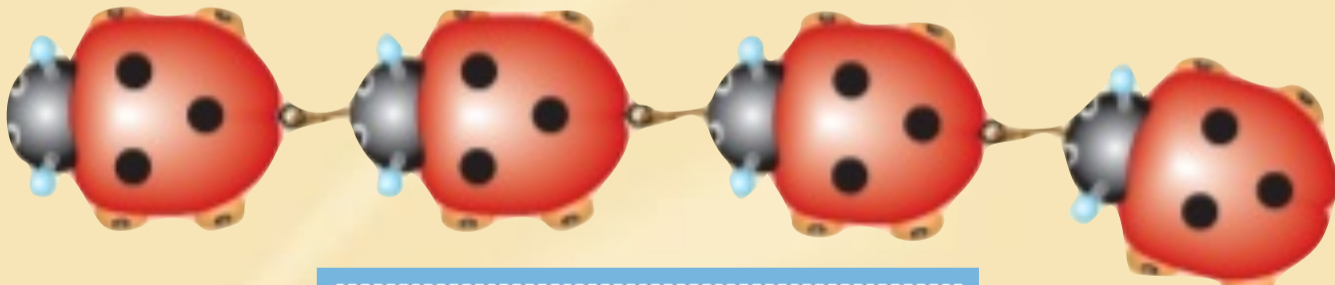
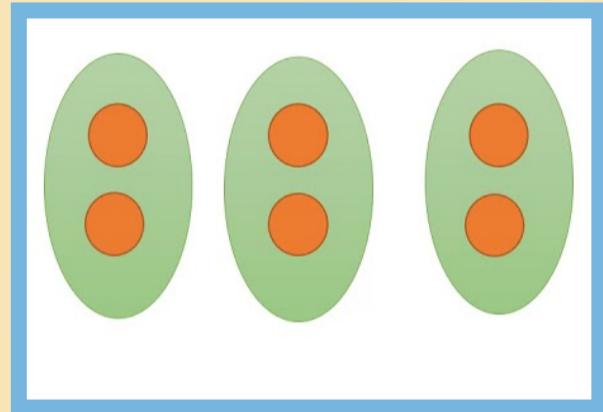
هيا نتعلم الضرب

والآن اكتب عباره الضرب

$$\square = \square \times \square$$



$$\square = \square \times \square$$



$$\square = \square \times \square$$

اللهم أجعل عملي هذا شفيعا لي يوم ألقاك واجعل اجره وثوابه صدقه عني وعن أمي وأبي وأولادي

اوجد ناتج

$.... = 2 \times 9$

$.... = 4 \times 2$

$.... = 1 \times 2$

$.... = 3 \times 5$

$.... = 2 \times 6$

$.... = 7 \times 5$

$.... = 7 \times 2$

$.... = 4 \times 5$

$.... = 2 \times 2$

$.... = 1 \times 5$

$.... = 0 \times 2$

$.... = 5 \times 8$

$.... = 9 \times 5$

$.... = 5 \times 5$

$.... = 8 \times 2$

$.... = 2 \times 10$

$.... = 2 \times 3$

$.... = 2 \times 5$

10

10

5

10

6

4 ×

9 ×

0 ×

5 ×

5 ×

اللهم اجعل عملي هذا شفيعا لي يوم ألقاك واجعل اجره وثوابه صدقه عني وعن أمي وأبي وأولادي

اوجد ناتج

$.... = 3 \times 5$

$.... = 6 \times 5$

$.... = 5 \times 5$

$.... = 1 \times 2$

$.... = 2 \times 7$

$.... = 2 \times 9$

$.... = 2 \times 8$

$.... = 2 \times 3$

$.... = 5 \times 1$

$.... = 1 \times 10$

$.... = 5 \times 9$

$.... = 4 \times 2$

$.... = 3 \times 10$

$.... = 2 \times 2$

$.... = 5 \times 4$

$.... = 7 \times 10$

$.... = 5 \times 7$

$.... = 8 \times 5$

10

0 x

10

6 x

2

8 x

10

8 x

5

9 x

69

اللهم اجعل عملي هذا شفيعا لي يوم ألقاك واجعل اجره وثوابه صدقه عني وعن أمي وأبي وأولادي

التميز
في التعليم

اوجد ناتج

$.... = 3 \times 4$

$.... = 4 \times 1$

$.... = 4 \times 0$

$.... = 8 \times 3$

$.... = 3 \times 5$

$.... = 2 \times 3$

$.... = 8 \times 6$

$.... = 6 \times 2$

$.... = 1 \times 6$

$.... = 3 \times 3$

$.... = 9 \times 3$

$.... = 4 \times 8$

$.... = 7 \times 6$

$.... = 6 \times 5$

$.... = 4 \times 4$

$.... = 4 \times 7$

$.... = 3 \times 6$

$.... = 6 \times 0$

10

10

3

10

6

$3 \times$

$5 \times$

$1 \times$

$6 \times$

$6 \times$

70

اللهم اجعل عملي هذا شفيعا لي يوم ألقاك واجعل اجره وثوابه صدقه عني وعن أمي وأبي وأولادي

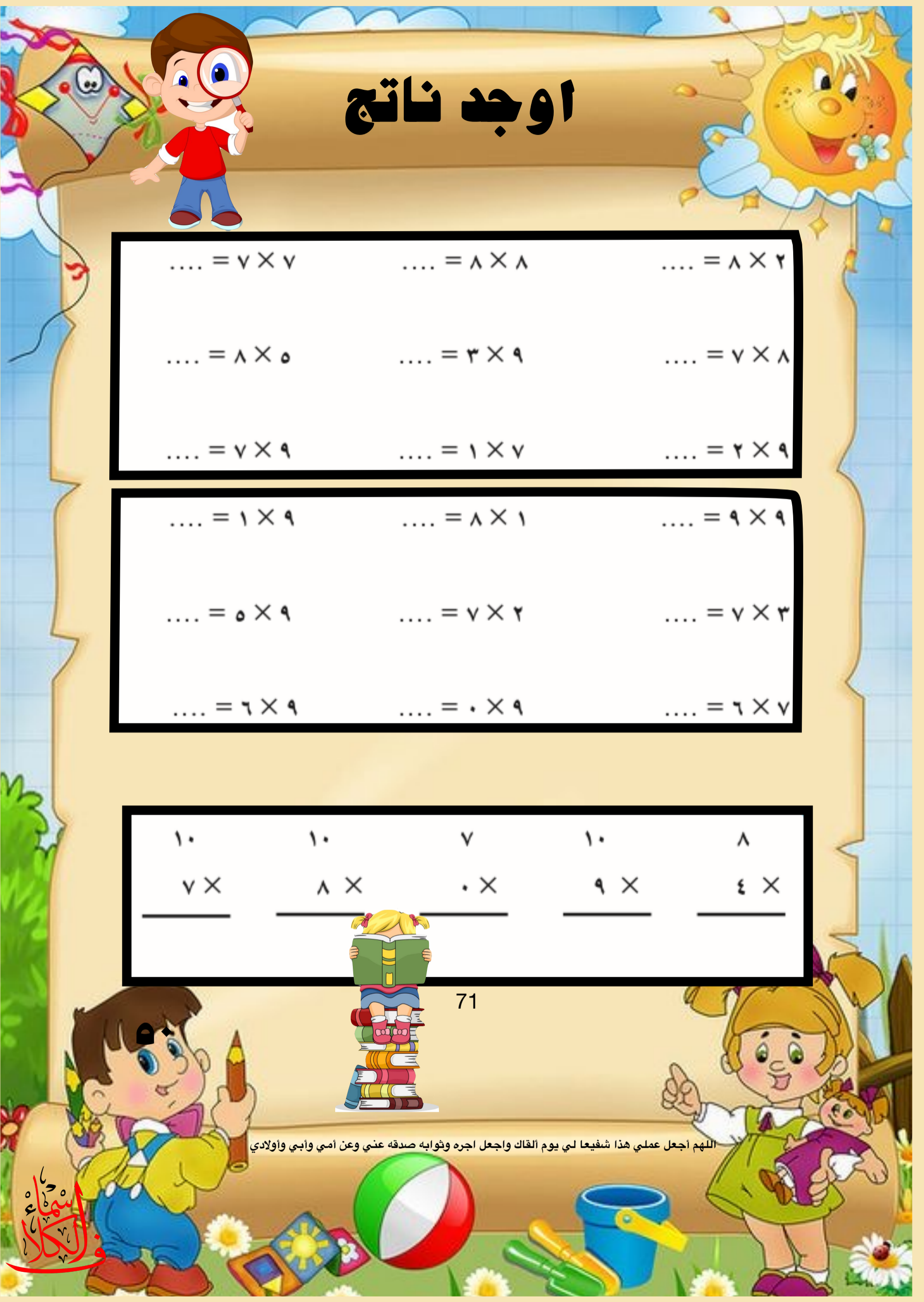
اوجد ناتج

.... = 7 × 7 = 8 × 8 = 8 × 2
.... = 8 × 5 = 3 × 9 = 7 × 8
.... = 7 × 9 = 1 × 7 = 2 × 9

.... = 1 × 9 = 8 × 1 = 9 × 9
.... = 5 × 9 = 7 × 2 = 7 × 3
.... = 6 × 9 = 0 × 9 = 6 × 7

10	10	7	10	8
7 ×	8 ×	0 ×	9 ×	4 ×
_____	_____	_____	_____	_____

اللهم اجعل عملي هذا شفيعا لي يوم ألقاك واجعل اجره وثوابه صدقه عني وعن أمي وأبي وأولادي



اوجد ناتج



$.... = 3 \times 3$

$.... = 7 \times 5$

$.... = 2 \times 4$

$.... = 2 \times 8$

$.... = 9 \times 0$

$.... = 6 \times 3$

$.... = 5 \times 8$

$.... = 3 \times 9$

$.... = 1 \times 1$

$.... = 4 \times 4$

$.... = 2 \times 2$

$.... = 9 \times 9$

$.... = 4 \times 5$

$.... = 7 \times 9$

$.... = 1 \times 7$

$.... = 8 \times 4$

$.... = 4 \times 6$

$.... = 2 \times 6$


72



اللهم اجعل عملي هذا شفيعا لي يوم ألقاك واجعل اجره وثوابه صدقه عني وعن أمي وأبي وأولادي



هيا نلون لنصل للصاروخ



أصفر

$$\begin{array}{r} 9 \\ 9 \times \\ \hline \end{array}$$

اخضر

$$\begin{array}{r} 10 \\ 3 \times \\ \hline \end{array}$$

أحمر

$$\begin{array}{r} 8 \\ 0 \times \\ \hline \end{array}$$

برتقالي

$$\begin{array}{r} 10 \\ 4 \times \\ \hline \end{array}$$

ازرق

$$\begin{array}{r} 10 \\ 8 \times \\ \hline \end{array}$$

73

اللهم اجعل عملي هذا شفيعا لي يوم القاك واجعل اجره وثوابه صدقه عني وعن أمي وأبي وأولادي

التميز
للطباعة
والنشر



القسمه

اذا قمنا بتوزيع البومات المجتهده على شجرتين بالتساوي
كم عدد البومات التي ستقف على الشجره الواحده ???



الإجابة تقف على كل شجره ٢ بومات

$$٦ \div ٢ = ٣$$

74

اللهم أجعل عملي هذا شفيعا لي يوم ألقاك واجعل اجره وثوابه صدقه عني وعن أمي وأبي وأولادي

التميز
في التعليم



القسمه

إذا قسمنا ١٢ سلحفاه بالتساوي على ٣ برك للمياه كم نضع في كل بركه ؟؟؟



الإجابہ نضع في كل بركه ٤ سلحفاه
لان

$$4 = 12 \div 3$$

75

اللهم أجعل عملي هذا شفيعا لي يوم ألقاك واجعل اجره وثوابه صدقه عني وعن أمي وأبي وأولادي



اوجد ناتج



$$\dots = 2 \div 10$$

$$\dots = 2 \div 6$$

$$\dots = 2 \div 8$$

$$\dots = 2 \div 14$$

$$\dots = 2 \div 20$$

$$\dots = 2 \div 16$$

$$\dots = 2 \div 18$$

$$\dots = 2 \div 4$$

$$\dots = 2 \div 12$$

$$\dots = 5 \div 40$$

$$\dots = 5 \div 15$$

$$\dots = 5 \div 30$$

$$\dots = 5 \div 50$$

$$\dots = 5 \div 10$$

$$\dots = 5 \div 25$$

$$\dots = 5 \div 45$$

$$\dots = 5 \div 5$$

$$\dots = 5 \div 35$$

$$\dots = 10 \div 80$$

$$\dots = 10 \div 60$$

$$\dots = 10 \div 10$$

$$\dots = 10 \div 140$$

$$\dots = 10 \div 200$$

$$\dots = 10 \div 160$$


$$\dots = 10 \div 150$$

$$\dots = 10 \div 400$$

$$\dots = 10 \div 120$$



اوجد ناتج



.... = 3 ÷ 15 = 3 ÷ 6 = 3 ÷ 12
.... = 3 ÷ 30 = 3 ÷ 9 = 3 ÷ 27
.... = 3 ÷ 21 = 3 ÷ 3 = 3 ÷ 0

.... = 4 ÷ 12 = 4 ÷ 32 = 4 ÷ 4
.... = 4 ÷ 28 = 4 ÷ 40 = 4 ÷ 8
.... = 4 ÷ 36 = 4 ÷ 16 = 4 ÷ 0

.... = 6 ÷ 60 = 6 ÷ 12 = 6 ÷ 18
.... = 6 ÷ 36 = 6 ÷ 0 = 6 ÷ 6
.... = 6 ÷ 42 = 6 ÷ 30 = 6 ÷ 24

77



اللهم اجعل عملي هذا شفيعا لي يوم ألقاك واجعل اجره وثوابه صدقه عني وعن أمي وأبي وأولادي



اوجد ناتج



$$\dots = 7 \div 21$$

$$\dots = 7 \div 7$$

$$\dots = 7 \div 14$$

$$\dots = 7 \div 42$$

$$\dots = 7 \div 35$$

$$\dots = 7 \div 49$$

$$\dots = 7 \div 56$$

$$\dots = 7 \div 70$$

$$\dots = 7 \div 0$$

$$\dots = 8 \div 32$$

$$\dots = 8 \div 8$$

$$\dots = 8 \div 16$$

$$\dots = 8 \div 48$$

$$\dots = 8 \div 80$$

$$\dots = 8 \div 64$$

$$\dots = 8 \div 72$$

$$\dots = 8 \div 0$$

$$\dots = 8 \div 24$$

$$\dots = 9 \div 45$$

$$\dots = 9 \div 9$$

$$\dots = 9 \div 27$$

$$\dots = 9 \div 36$$

$$\dots = 9 \div 0$$

$$\dots = 9 \div 72$$

$$\dots = 9 \div 63$$

$$\dots = 9 \div 90$$

$$\dots = 9 \div 54$$



اوجد ناتج

$.... = 2 \div 10$

$.... = 2 \div 16$

$.... = 2 \div 4$

$.... = 3 \div 30$

$.... = 3 \div 12$

$.... = 3 \div 6$

$.... = 4 \div 8$

$.... = 4 \div 24$

$.... = 4 \div 4$

$.... = 5 \div 30$

$.... = 5 \div 50$

$.... = 5 \div 25$

$.... = 6 \div 12$

$.... = 6 \div 66$

$.... = 6 \div 36$

$.... = 7 \div 35$

$.... = 7 \div 7$

$.... = 7 \div 14$

79

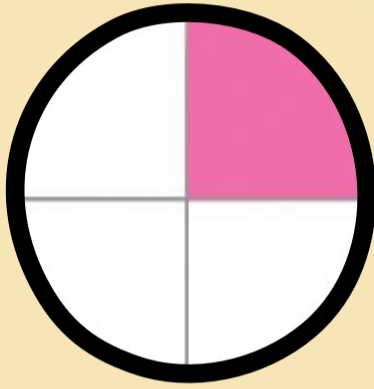

اللهم اجعل عملي هذا شفيعا لي يوم القاك واجعل اجره وثوابه صدقه عني وعن امي وابي واولادي

ساعد ارنوب في تجميع اكبر عدد من الجزر



اللهم اجعل عملي هذا شفيعا لي يوم الحساب واجعل اجره ونوابه صدقة عني وعن امي وابي واولادي

هيا نتعرف على الكسور




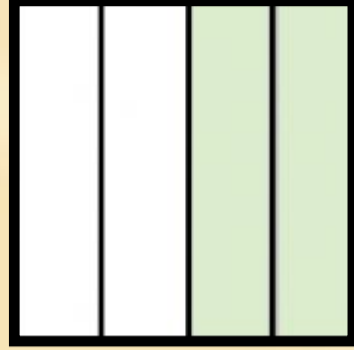
81

اللهم أجعل عملي هذا شفيعا لي يوم ألقاك واجعل اجره وثوابه صدقه عني وعن أمي وأبي وأولادي

التمثيليات
والكلام



اكتب رمز الكسر ادا ل على الجزء المظلل



اكتب الكسر المناسب



82

اللهم أجعل عملي هذا شفيعا لي يوم ألقاك واجعل اجره وثوابه صدقه عني وعن أمي وأبي وأولادي

التمهيد
للكتابة



الأشكال الهندسية



مثلث



دائرة



مربع



مستطيل



بيضاوي



معين



خماسي



نجمة



سداسي



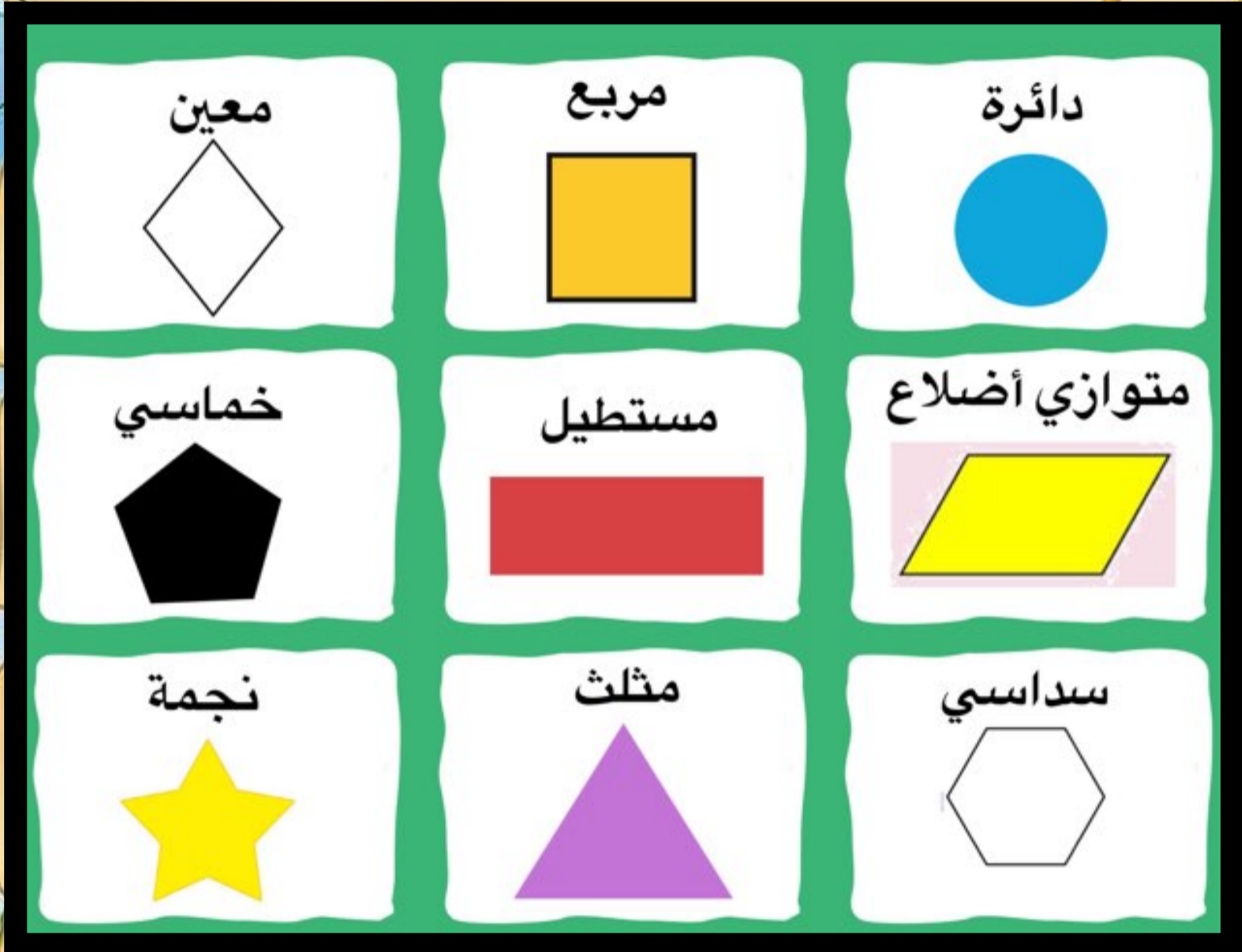
هلال




قلب



تعرف على الأشكال الهندسية




هيا نلون كل شكل بلون الشكل المطابق له



اللهم أجعل عملي هذا شفيعا لي يوم ألقاك واجعل اجره وثوابه صبرا نبي أمي وأبي وأولادي


هيا نلون كل شكل بالشكل المشابه له



اللهم أجعل عملي هذا شفيعا لي يوم ألقاك واجعل اجره وثوابه صدقه عني وعن أمي وأبي وأولادي

فانما
الكل
الكل

هيا نلون كل شكل بالشكل المشابه له






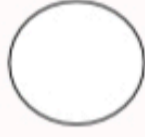














اللهم أجعل عملي هذا شفيعا لي يوم ألقاك واجعل اجره وثوابه صدقه عني وعن أمي وأبي وأولادي

الشمس
الكلمة
الجميلة



حوط الشكل الادل على الاسم المكتوب بالعمود الالمن






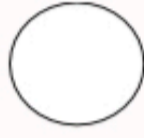



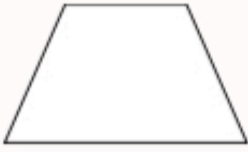

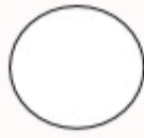


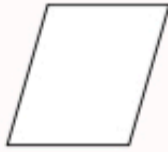



			مُتَوَازِي أضلاع
			شَكْلٌ سُدَاسِيٌّ
			مُتَلَثٌّ
			شِبْهُ مُنْحَرَفٍ
			مُرَبَّعٌ
			دَائِرَةٌ

88


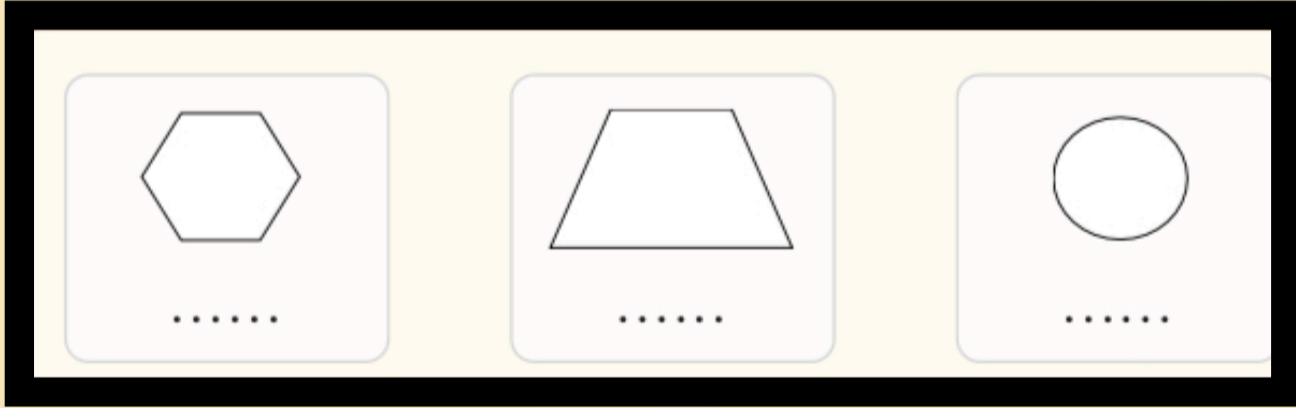
اللهم أجعل عملي هذا شفيعا لي يوم ألقاك واجعل اجره وثوابه صدقه عني وعن أمي وأبي وأولادي

الشمس
الكلمة

حوظ الشكل الدال على الاسم المكتوب بالعمود اليمين

			مُثَلَّثٌ
			دَائِرَةٌ
			مُرَبَّعٌ
			مُسْتَطِيلٌ
			مُتَوَازِي أَضْلَاعٌ
			شَكْلٌ سُدَّاسِيٌّ










اكتب عدد الاضلاع



90

اللهم اجعل عملي هذا شفيعا لي يوم ألقاك واجعل اجره وثوابه صبرا فني أمي وأبي وأولادي


اكتب اسم الشكل

91

اللهم أجعل عملي هذا شفيعا لي يوم ألقاك واجعل اجره وثوابه صدقه عني وعن أمي وأبي وأولادي

تعرف على المجسمات

هرم		متوازي مستطيلات	
مخروط		موشور مثلثي	
كرة		أسطوانة	
مكعب			



92

اللهم أجعل عملي هذا شفيعا لي يوم ألقاك واجعل أجره وثوابه صدقه عني وعن أمي وأبي وأولادي

الشمس
الكلمة
الجميلة



تعرف على المجسمات

صل كل مجسم باسمه

كرة



مكعب



مخروط



أسطوانة

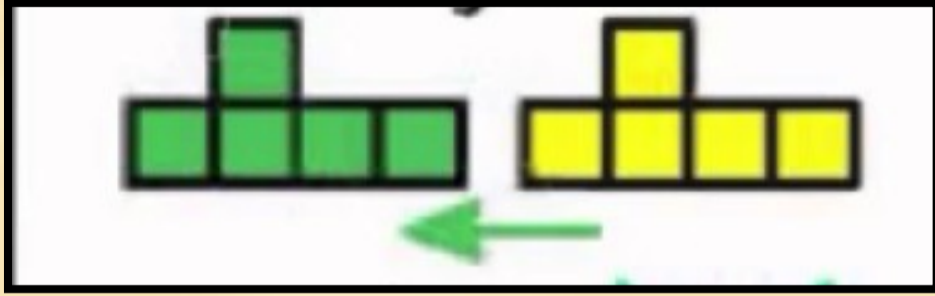


93

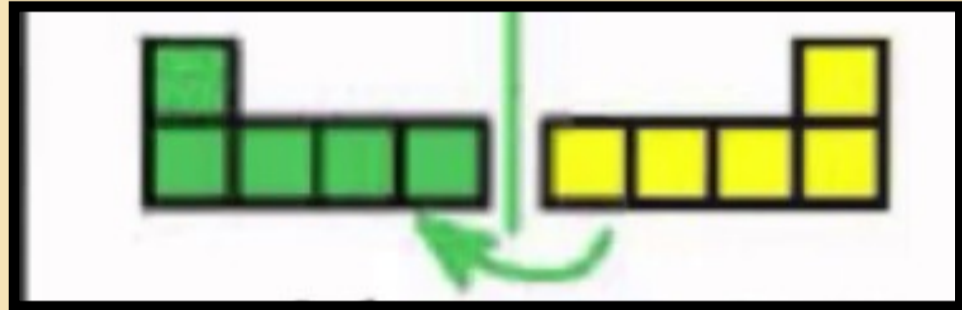
اللهم أجعل عملي هذا شفيعا لي يوم ألقاك واجعل اجره وثوابه صدقه عني وعن أمي وأبي وأولادي

حركة الاشكال

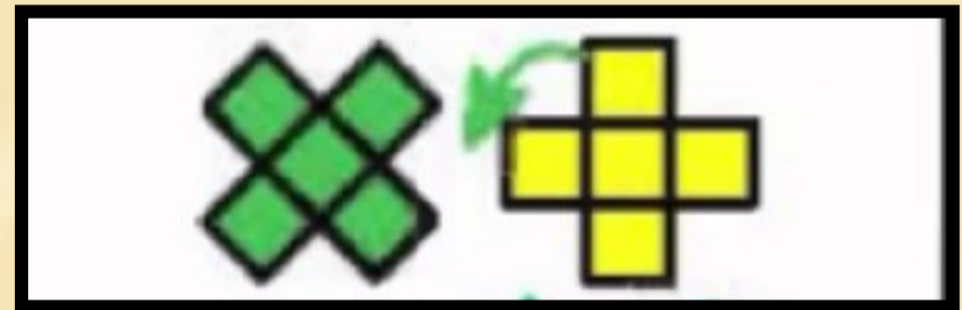
إزاحة



انعكاس



دوران



بسم الله

94

اللهم اجعل عملي هذا شفيعا لي يوم ألقاك واجعل اجره وثوابه صدقه عني وعن أمي وأبي وأولادي



بِسْمِ اللَّهِ

اللهم اجعل عملي هذا شفيعا لي يوم
القالك وأجعل أجره وثوابه رحمه لأمي
وأبي وصدقه عني وعن أبنائي

[https://t.me/
asmaaelklaf](https://t.me/asmaaelklaf)

