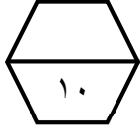


اسم الطالب /

ورقة عمل (الأسبوع العاشر) للصف الرابع الابتدائي الفصل الدراسي الثاني للعام الدراسي ١٤٤٧ هـ.







المهارات
الزمن المنقضي
الكسور الاعتيادية

ضع علامة (✓) أمام العبارة الصحيحة وعلامة (x) أمام العبارة الخاطئة :
أ الزمن المنقضي، وهو مقدار الزمن ما بين بداية النشاط ونهايته.
ب الكسر قد يمثل جزءا من الكل، أو جزءا من مجموعة .
ج يدل البسط على عدد الأجزاء .

بدأ نشاط الساعة ٤:٤٥؛ وانتهى الساعة ٨ . ما الزمن الذي استغرقه هذا النشاط ؟
أ ٣ ساعات
ب ٣ ساعات و ١٥ دقيقة
ج ٣ ساعات و ٣٠ دقيقة
د ٤ ساعات

ما الزمن الذي استغرقه هذا النشاط
أ ساعة واحدة
ب ساعة و ١٠ دقائق
ج ساعة و ١٥ دقيقة
د ساعتين

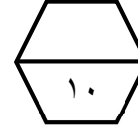
ما الكسر الذي يمثل الجزء المظلل في الشكل المجاور :
أ $\frac{2}{5}$
ب $\frac{3}{5}$
ج $\frac{5}{2}$
د $\frac{5}{3}$

اختر الرسم المظلل الذي يمثل الكسر : $\frac{4}{6}$
أ 
ب 
ج 
د 



اسم الطالب /

ورقة عمل (الأسبوع العاشر) للصف الرابع الابتدائي الفصل الدراسي الثاني للعام الدراسي ١٤٤٧ هـ.






المهارات
الزمن المنقضي
الكسور الاعتيادية

ضع علامة (✓) أمام العبارة الصحيحة وعلامة (x) أمام العبارة الخاطئة :
أ الزمن المنقضي، وهو مقدار الزمن ما بين بداية النشاط ونهايته.
ب الكسر قد يمثل جزءا من الكل، أو جزءا من مجموعة .
ج يدل البسط على عدد الأجزاء .

بدأ نشاط الساعة ٤:٤٥؛ وانتهى الساعة ٨ . ما الزمن الذي استغرقه هذا النشاط ؟
أ ٣ ساعات
ب ٣ ساعات و ١٥ دقيقة
ج ٣ ساعات و ٣٠ دقيقة
د ٤ ساعات

ما الزمن الذي استغرقه هذا النشاط
أ ساعة واحدة
ب ساعة و ١٠ دقائق
ج ساعة و ١٥ دقيقة
د ساعتين

ما الكسر الذي يمثل الجزء المظلل في الشكل المجاور :
أ $\frac{2}{5}$
ب $\frac{3}{5}$
ج $\frac{5}{2}$
د $\frac{5}{3}$

اختر الرسم المظلل الذي يمثل الكسر : $\frac{4}{6}$
أ 
ب 
ج 
د 