

الموضوع / علم الجغرافيا

ورقة عمل رقم (١)

الوحدة الأولى

السؤال الأول / ضع علامة (√) أمام العبارة الصحيحة وعلامة (×) أمام العبارة الخطأ:

١	الجغرافيا كلمة رومانية تعني علم الكتابة عن الأرض	()
٢	النظرية الإمكانية نظرية جغرافية فلسفية تؤمن بحرية البشر في الاختيار	()
٣	الحتمية البيئية نظرية جغرافية تؤمن بسيادة البيئة الطبيعية وتحكمها في الظواهر البشرية	()
٤	تنقسم الجغرافيا إلى ثلاثة أقسام كبيرة	()
٥	أشهر العلماء المسلمين في الفلك هو أبو العيسى الأسطرلابي	()
٦	من أهم الأمور التي عالجتها المصنفات الفلكية: شكل الأرض وحركتها	()
٧	من كتب الجغرافيا الإقليمية هو كتاب: المسالك والممالك	()
٨	لم تهتم المملكة العربية السعودية في البيئة الجغرافية لتحقيق رؤية ٢٠٣٠ م	()
٩	دخل البرتغاليون المحيط الهندي تحت قيادة فاسكو دي جاما عام ١٤٩٧ م	()
١٠	الجغرافيا تهتم في شكل سطح الأرض وعلاقته في الانسان	()

السؤال الثاني / اختر الإجابة الصحيحة مما بين القوسين :

١. مؤلف كتاب صورة الأرض (ابن حوقل - المقدسي - البكري - أبو الفداء)
٢. أحد العلوم الآتية ليس من فروع الجغرافيا الطبيعية هي الجغرافيا: (الحيوية - التربة - النقل - المياه)
٣. البكري أحد العلماء الجغرافيين الذين كتبوا في مجال الجغرافيا (الفلكية - الإقليمية - المناخية - البشرية)
٤. أول من لاحظ أن السفر حول الأرض كاملة يؤدي إلى زيادة يوم أو نقصانه (ابن حوقل - المقدسي - البكري - أبو الفداء)

السؤال الثالث / ضع الكلمات التالية في المكان الصحيح مستخدماً الرقم فقط

١. ابن حوقل ٢. المقدسي ٣. أبو الفداء ٤. البكري ٥. ابن فضل

العالم	صورة الأرض	المسالك والممالك	تقويم البلدان	أحسن التقاسيم
الرقم المناسب				



السؤال الرابع / اذكر أربعة من فروع الجغرافيا الطبيعية ؟

- (١)
- (٢)
- (٣)
- (٤)

السؤال الخامس / اذكر أربعة من فروع الجغرافيا البشرية؟

- (١)
- (٢)
- (٣)
- (٤)

السؤال السادس / تحدث عن الجغرافيا الفلكية:

.....

.....

.....

الموضوع / الكون

ورقة عمل رقم (٢)

الوحدة الثانية

السؤال الأول / ضع علامة (√) أمام العبارة الصحيحة وعلامة (×) أمام العبارة الخاطئة:

- ١ تعرف المجرة الذي يتبعها نظامنا الشمسي عند العرب مجرة درب التبانة ()
- ٢ الأقمار هي الاجرام التي تتبع الكواكب ()
- ٣ سرعة الضوء هي ٣٠٠ ألف كيلو متر في الثانية ()
- ٤ تدور الشمس حول نفسها مع عقارب الساعة ()
- ٥ كلما بعد الكوكب عن الشمس زاد طول مداره ()
- ٦ أول جرم سماوي حط عليه الانسان هو القمر ()

السؤال الثاني / اختر الإجابة الصحيحة مما بين القوسين:

١. أقرب الكواكب إلى الشمس (عطارد - الزهرة - الأرض - المريخ)
٢. أكثر الكواكب من حيث عدد التوابع (زحل - المشتري - أورانوس - الزهرة)
٣. من الكواكب التي ليس لديها توابع (أورانوس - الزهرة - زحل - المريخ)
٤. يحدث اكتمال القمر في (أول الشهر - آخر الشهر - نصف الشهر - لا يكتمل)

السؤال الثالث / أكمل الفراغات الآتية بكلمات مناسبة:

١. يبلغ طول ذيل المذنب ويبدأ المذنب بالاختفاء تدريجياً عن ابتعاده عن
٢. من أشهر المذنبات هو مذنب الذي اكتشف في عام ويظهر كل سنة .

السؤال الرابع / ماهي الشهب:

.....

السؤال الخامس / ماهي كواكب المجموعة الشمسية ؟ اذكرها بالترتيب :

- ١
- ٢
- ٣
- ٤
- ٥
- ٦
- ٧
- ٨

السؤال السادس / لماذا لا يعتبر بلوتو كوكباً في المجموعة الشمسية؟

.....
.....
.....

السؤال السابع / تحدث عن الشمس:

.....
.....
.....

السؤال الثامن / ماهي دورات الأرض وماهي؟

.....
.....
.....

الوحدة الثالثة ورقة عمل رقم (٣) الموضوع / كوكب الأرض

السؤال الأول/ ضع علامة (√) أمام العبارة الصحيحة وعلامة (×) أمام العبارة الخطأ:

١	الكرة الأرضية مفلطحة عن خط الاستواء ومنبعدة عند القطبين	()
٢	دوران الأرض حول نفسها أحد الأسباب حدوث الفصول الأربعة	()
٣	تدور الأرض حول محورها مع عقارب الساعة	()
٤	في فصل الصيف تتعامد الشمس على خط الاستواء	()
٥	عند ثبات الكرة الأرضية عن الدوران من الممكن حدوث الفصول الأربعة	()
٦	المحيط القطبي أطول من المحيط الاستوائي	()

السؤال الثاني / اختر الإجابة الصحيحة مما بين القوسين:

١. تعتبر الأرض: (كروية - مسطحة - كاملة الاستدارة)
٢. القطر الاستوائي أطول من القطر القطبي بـ (٦٨ كم - ٥٨ كم - ٤٣ كم - ٣٨ كم)
٣. تقدر مساحة الأرض بـ (٤١٠ مليون كم^٢ - ٥١٠ مليون كم^٢ - ٦١٠ مليون كم^٢ - ٣١٠ مليون كم^٢)
٤. تكتمل دورة الأرض حول الشمس في (٣٥٦ يوم وربيع - ٣٦٥ يوم وربيع - ٣٦٦ يوم وربيع - ٣٦٤ يوم وربيع)

السؤال الثالث/ أكمل الفراغات الآتية بكلمات مناسبة :

١. كلما كبر حجم الجرم قوة جاذبيته
٢. يقع مدار عند دائرة العرض ٢٣,٥ جنوباً
٣. في ٢١ مارس يأتي فصل في نصف الكرة الشمالي

السؤال الثالث / فسر العبارات التالية:

١. ميل محور الأرض؟

.....

٢. دوران الأرض حول الشمس؟

.....

السؤال الرابع / اذكر أسباب حدوث الفصول الأربعة :

- ١
- ٢
- ٣

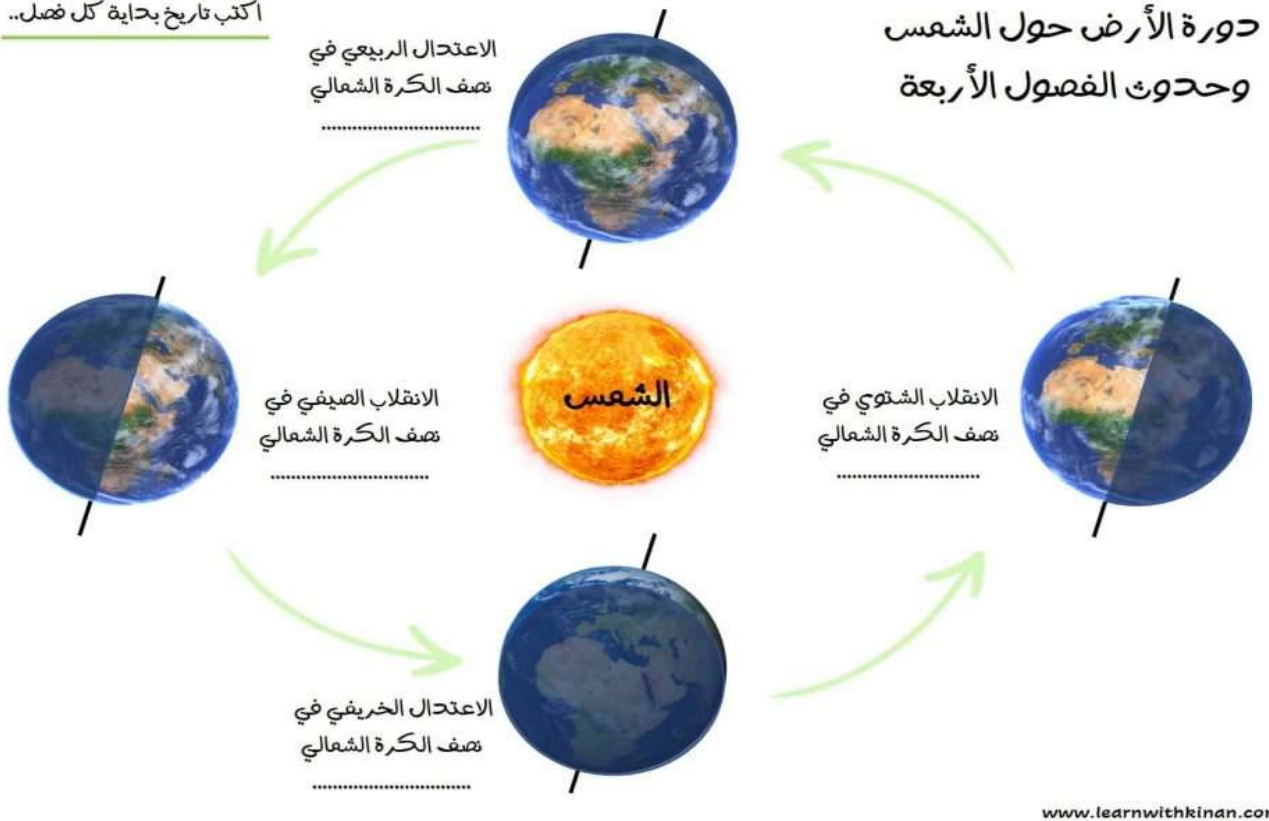
السؤال الخامس / اذكر نتائج الأرض حول الشمس:

- ١
- ٢
- ٣

السؤال السادس / ماهي الفصول الأربعة ومتى تحدث؟

- ١
- ٢
- ٣
- ٤

اكتب تاريخ بداية كل فصل..



الموضوع / الغلاف الصخري

ورقة عمل رقم (٤)

الوحدة الرابعة

السؤال الأول / ضع علامة (√) أمام العبارة الصحيحة وعلامة (×) أمام العبارة الخطأ:

- ١ لا تختلف طبقات الأرض من حيث الكثافة والشكل ودرجة الحرارة ()
- ٢ تفسر نظرية الصفائح التكتونية حركة الغلاف الجوي ()
- ٣ تساعد الأنشطة البشرية على تفاقم التصحر وانتشاره ()
- ٤ الحرات هي من شواهد البراكين المتواجدة في المملكة العربية السعودية ()
- ٥ مناطق الصخور الرسوبية تتركز فيها حقول النفط ()
- ٦ يقصد بالصدع حدوث كسر في الطبقات الصخرية ()
- ٧ الرياح لها تأثير على النحت في المناطق الجافة ()

السؤال الثاني / اجب عما يأتي :

الزلازل

تعريفها	
الظواهر التي تسبق حدوثها	
مقياس الزلازل	
الجهاز الذي يسجل موجات الزلازل	

البراكين

تعريفها	
عدد البراكين النشطة بالعالم	
آثار البراكين	
البراكين في شبه الجزيرة العربية	

السؤال الثالث / ضع المصطلحات التالية أمام مفاهيمها في الجدول :
عملية التعرية – التجوية الكيميائية – عملية التجوية – التجوية الميكانيكية

	التصحّر و غزو الصحراء للمناطق غير الصحراوية أو تحولها إلى ما يشبه الأحوال الصحراوية
	تسهم عملية الإرساب في ملء المنخفضات وإزالة ما على سطح الأرض من تضاريس سالبة
	تفتت الصخور وتآكلها نتيجة تفاعل المعادن التي تتكون منها الصخور مع العناصر والمركبات الكيميائية التي في الغلاف الجوي
	هي التي تعمل لتفتت الصخور ونحتها

السؤال الرابع / اجب عما يأتي :

أقسام سطح الأرض

أنواع الجبال

أنواع الهضاب

الموضوع / الغلاف المائي

ورقة عمل رقم (٥)

الوحدة الخامسة

السؤال الاول / ضع علامة (√) أمام العبارة الصحيحة وعلامة (×) أمام العبارة الخاطئة:

- ١ تلوث الماء يأتي من إلقاء النفايات فيه ()
- ٢ الأمواج هي حركة الماء الصاعد والهابط بفعل الرياح ()
- ٣ التسونامي موجات بحرية عملاقة متولدة عن الزلازل ()
- ٤ تصدر المملكة العربية السعودية دول العالم في إنتاج المياه المحلاة ()
- ٥ تساعد التيارات المحيطية على تنظيف الموانئ ()
- ٦ المد الأكبر هو وصول المد إلى أدنى حد يصل إليه في أثناء الشهر القمري ()
- ٧ حركة الأمواج هي حركة الماء الصاعد والهابط بفعل هبوب الرياح ()

السؤال الثاني/ اختر الإجابة الصحيحة مما بين القوسين:

١. نسبة المياه غير العذبة إلى المياه على الكرة الأرضية (٥,٩٧٪ - ٧٩٪ - ٦٨,٥٪)
٢. من الأمثلة على البحار الهامشية (البحر الميت - البحر الأحمر - البحر المتوسط)
٣. أكبر المحيطات من حيث المساحة (المحيط الأطلسي - المحيط الهادي - المحيط الهندي)
٤. أصغر المحيطات الأتية في العالم مساحة (المحيط الهندي - المحيط المتجمد الجنوبي - المحيط المتجمد الشمالي)

السؤال الثالث / أكمل الفراغات الأتية بكلمات مناسبة:

١. تنشأ ظاهرة المد والجزر بأمر الله بسبب جذب
٢. نسبة المياه العذبة في الأرض
٣. نسبة المياه المالحة في الأرض

السؤال الرابع / أكتب المصطلح المناسب أمام الكلمة المناسبة واذكر أمثلة عليها:

		المحيطات
		البحار الداخلية
		البحار المتوسطة
		البحار الهامشية

السؤال الرابع / تتأثر أمواج البحار والمحيطات بعدة عوامل اذكرها:

- ١
- ٢
- ٣

السؤال الخامس / تحدث عن تلوث المياه العذبة والبحار:

.....

.....

.....

السؤال السادس / تحدث عن دورة الماء على سطح الأرض:

.....

.....

.....



الموضوع / الغلاف الجوي

ورقة عمل رقم (٦)

الوحدة السادسة

السؤال الأول / ضع علامة (√) أمام العبارة الصحيحة وعلامة (×) أمام العبارة الخاطئة :

١	يتحكم الضغط الجوي في اتجاه الرياح وسرعتها	()
٢	تضاف الرياح إلى الجهة التي تهب إليها لا إلى الجهة الآتية منها	()
٣	الماء بطبيعته السائلة يحتاج إلى درجة حرارة أقل ليسخن	()
٤	يتأثر الضغط الجوي بتوزيع الياوس والماء	()
٥	تكسب المياه الحرارة ببطء وتفقدتها ببطء	()
٦	يتناسب الضغط الجوي مع درجة الحرارة تناسباً طردياً	()
٧	تعد الشمس المصدر الرئيسي لحرارة الأرض وغلافها الجوي	()

السؤال الثاني / اختر الإجابة الصحيحة مما بين القوسين :

- ١ يبلغ سمك الغلاف الجوي المحيط بالأرض نحو : (١٠٠٠٠ كم - ١٠٠٠٠ كم - ٢٩٠٠٠ كم)
- ٢ أعلى الغازات نسبة في الغلاف الجوي هو غاز : (الأوكسجين - النيتروجين - ثاني أكسيد الكربون)
- ٣ تبلغ نسبة الأشعة الشمسية التي يكتسبها سطح الأرض من مجمل الإشعاع الشمسي (٦٦٪ - ٩٪ - ٣٤٪)

السؤال الثالث / أكمل الفراغات الآتية بكلمات مناسبة:

- ١ الغلاف الجوي غلاف يحيط ب.....
- ٢ يبلغ سمك الغلاف الجوي
- ٣ تكون درجة غليان الماء درجة مئوية ودرجة تجمده هي مئوية

السؤال الرابع / أكتب المصطلح المناسب أمام الكلمة المناسبة :

	الحرارة
	الضغط الجوي
	الرياح
	الرطوبة

السؤال الرابع/ أجب عما يأتي؟

من أجهزة قياس الضغط الجوي		

السؤال الخامس / ما هي العوامل التي تتحكم بتدبير الله في الضغط الجوي؟

- ١
- ٢
- ٣
- ٤
- ٥

السؤال السادس / تحدث عن الرياح:

.....

.....

.....

.....



الوحدة السابعة ورقة عمل رقم (٧) الموضوع / الغلاف الحيوي

السؤال الأول / ضع علامة (√) أمام العبارة الصحيحة وعلامة (×) أمام العبارة الخطأ :

١	ينحصر موسم النمو في المناطق الاستوائية في فصلي الشتاء والربيع	()
٢	تمتاز الحيوانات التي تعيش في الغابات الاستوائية بضخامة حجمها	()
٣	توجد الصحاري الحارة داخل القارات فقط	()
٤	الإقليم الاستوائي يمتاز بارتفاع درجة الحرارة على مدار السنة	()
٥	يُقسم العالم إلى خمسة أقاليم طبيعية	()

السؤال الثاني / اختر الإجابة الصحيحة مما بين القوسين:

١. تسقط الأمطار في الإقليم الاستوائي طوال العام مع زيادة في فصلي (الصيف والشتاء - الربيع والشتاء - الخريف والشتاء)
٢. تتبع منطقة جنوب غرب شبه الجزيرة العربية الإقليم (الصحراوي - الاستوائي - الموسمي)
٣. أعلن ولي العهد الأمير محمد بن سلمان عن مبادرة السعودية الخضراء عام (١٤٤٢هـ - ١٤٤١هـ - ١٤٤٤هـ)
٤. يقع الإقليم المداري في (جنوب خط الاستواء - شمال خط الاستواء - جميع ما سبق)

السؤال الثالث / أجب عما يأتي :

م	العوامل المؤثرة في تشكيل النظام البيئي
١	
٢	
٣	
٤	

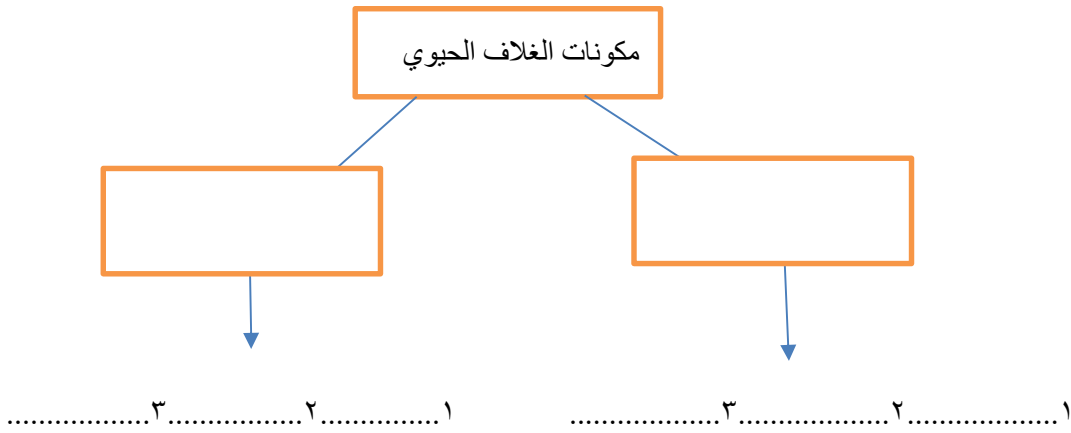
السؤال الرابع / أكتب الرقم المناسب من المجموعة (أ) في المجموعة (ب) :

(أ)	الرقم	(ب)
محمية الامام عبد العزيز بن محمد الملكية		تشمل محمية التنهات والخفس
محمية الملك عبد العزيز الملكية		بين مشروع نيوم ومشروع البحر الأحمر
محمية الامام تركي بن عبد الله الملكية		تشمل محمية روضة خريم
محمية الأمير محمد بن سلمان الملكية		تشمل محمية التيسية

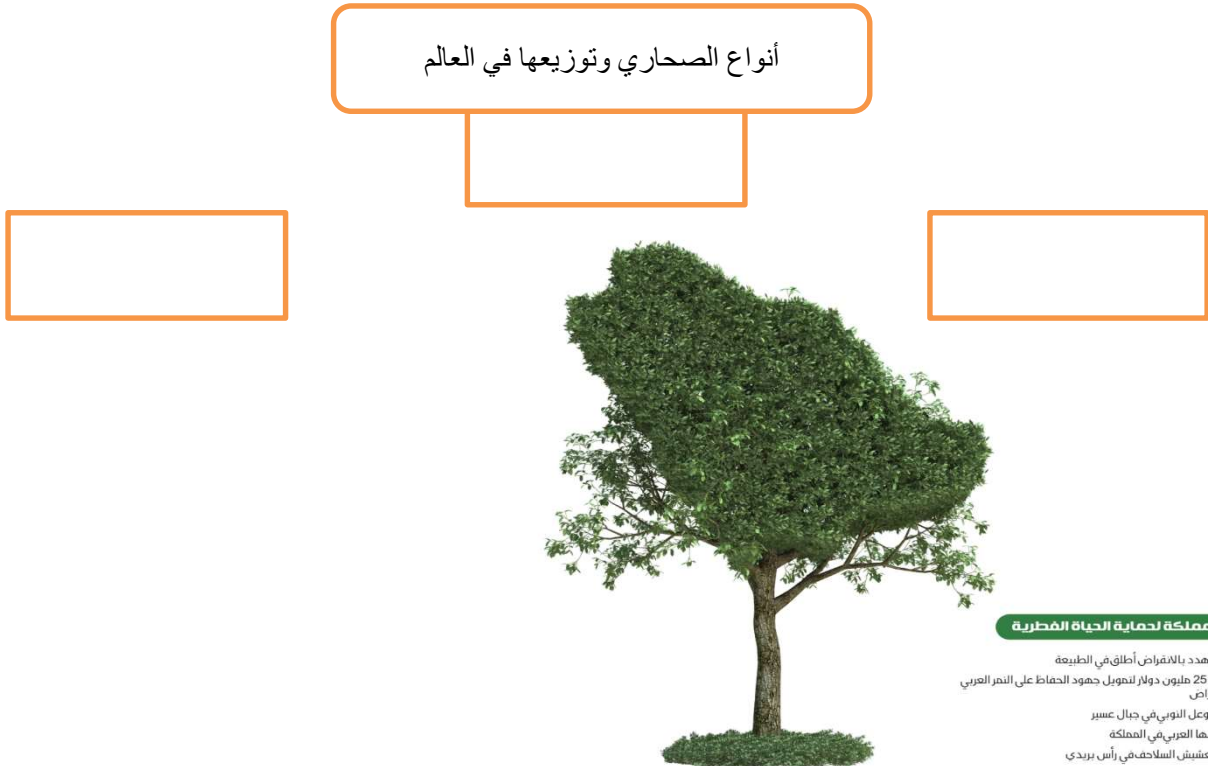
السؤال الخامس / أجب عما يأتي :

أ_ ماهي العوامل المؤثرة في نمو النباتات الطبيعية وتوزيعها؟

- ١
- ٢
- ٣



السؤال السادس / اذكر أنواع الصحاري وتوزيعها في العالم :



من جهود المملكة لحماية الحياة الفطرية

- ◆ 1200 حيوان مهدد بالانقراض أطلق في الطبيعة
- ◆ صندوق بقيمة 25 مليون دولار لتمويل جهود الحفاظ على النمر العربي المهدد بالانقراض
- ◆ إعادة إطلاق الوعل النوبي في جبال عسير
- ◆ زيادة أعداد النعسان العربي في المملكة
- ◆ رفع معدلات تعشيش السلاحف في رأس بربدي

الوحدة الثامنة ورقعة عمل رقم (٨) الموضوع / الخرائط والتقنيات الحديثة

السؤال الأول / ضع علامة (√) أمام العبارة الصحيحة و (×) أمام العبارة الخاطئة :

١	من فوائد إطار الخريطة تحديد امتداد الجزء الذي تمثله الخريطة من الطبيعة	()
٢	بدء ظهور نظم المعلومات الجغرافية في الولايات المتحدة عام ١٩٦٤م	()
٣	الخرائط المليونية وصف يُعطى للخرائط الطبوغرافية	()
٤	خرائط التضاريس تُظهر الأشكال المختلفة التي على سطح الأرض من سهول وجبال وهضاب	()
٥	تمثل صور الأقمار الصناعية اللون الحقيقي، للظواهر التي تمثلها على سطح الأرض	()
٦	المعلومات الجيومكانية داعم وممكنة لتحقيق أهداف رؤية المملكة العربية السعودية	()
٧	تعرف نظم المعلومات الجغرافية بأنها نظام حاسوبي لجمع البيانات ذات الطبيعة المكانية وإدارتها ومعالجتها	()
٨	كان أول ظهور لنظم المعلومات الجغرافية في بريطانيا	()
٩	كلمة (GPS) هي اختصار لعبارة (نظام تحديد المواقع العالمي)	()
١٠	تنوع أساليب تمثيل التضاريس المختلفة ببيان الانحدارات السائدة على الخرائط الطبوغرافية	()
١١	مازال الجغرافيون يرسمون الخرائط الطبوغرافية يدوياً	()
١٢	من خصائص خطوط الكنتور أنها تتقاطع وتلتقي في حالات الجرف أو الانحدار الفجائي	()
١٣	يتم اختيار اسم الخريطة قبل رسمها	()
١٤	لجأ الإنسان إلى رسم صور موجزة على شكل مخططات لتلك المعالم يهتدي بها في رحلاته	()

السؤال الثاني / اختر الإجابة الصحيحة مما بين القوسين:

- ١- إحدى الخصائص الآتية ليست من خصائص خطوط الكنتور:
(تتقاطع ولا تلتقي - إذا تقاربت دلت على انحدار شديد - ست - سبع)
- ٢- إحدى العبارات الآتية ليست من أدوات الاستشعار عن بعد ومكوناته:
(الغلاف الجوي - الماسحات - جهاز الاستشعار)
- ٣- يدل اللون الأسود في بيانات الاستشعار عن بعد على:
(المياه العميقة الصافية - المدن - الصخور والتراب)
- ٤- تظهر النباتات الخضراء في بيانات الاستشعار عن بعد بدرجات اللون:
(المياه العميقة الصافية - المدن - الصخور والتراب)

السؤال الثالث / اذكر ثلاثة من خصائص خطوط الكنتور!؟

- ١
٢
٣

السؤال الرابع / أكمل الفراغات الآتية بما يناسبها:

أ- يستخدم العلماء والمخططون نظام تحديد المواقع لتحديد

.....
.....

ب- من عيوب نظام تحديد المواقع على الكرة الأرضية

.....
.....

السؤال الخامس / ماهي أدوات الاستشعار عن بعد؟

- ١- ٢- ٣-
٤- ٥- ٦-

السؤال السادس / أكتب الرقم المناسب من المجموعة (أ) في المجموعة (ب) :

(أ)	الرقم	(ب)
١ توضح الظواهر المناخية السائدة على سطح الأرض		خرائط المناخ
٢ تظهر الأشكال المختلفة التي على سطح الأرض من سهول وهضاب وجبال		الخرائط الاقتصادية
٣ تعتني هذه الخرائط بتحديد مناطق الثروات		خرائط التضاريس

