



موقع اجاباتكم

Google

للمزيد اكتب
في جوجل



🔍 موقع اجاباتكم

**موقع اجاباتكم التعليمي يوفر كل ما يحتاجه الطالب
والمعلم من حلول الكتب توزيع المنهج. اختبارات
نهائية وفترية ملخصات. أوراق عمل والكثير**

((اختبار الفترة الأولى للمادة العلوم للصف الرابع الابتدائي الفترة الدراسية الثانية ١٤٤٧هـ))

اسم الطالب / ة الصف:

السؤال الأول : اختاري الإجابة الصحيحة : (5 درجات)

1 - اللون والقساوة والبريق من الخصائص التي تميز :			
التربة	المعادن	الطبقات	الأحافير
2- من مصادر الماء :			
الماء المالح	الماء العذب	المياه الجوفية	جميع ما سبق
3- يجعل الأجسام البعيدة تبدو قريبة :			
النجم	الكوكب	التلسكوب	الكون
4- معظم بقايا النباتات والحيوانات الميتة توجد في :			
الصخور المتحولة	الصخور الرسوبية	الصخور النارية	المعادن
5- الخط الذي يصل بين قطبي الأرض :			
خط الطول	محور الأرض	دوائر العرض	_____

السؤال الثاني : ضعي علامة (√) أو (×) أمام كل عبارة مما يلي : (5 درجات)

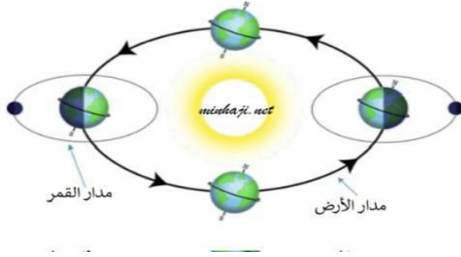
1	البئر ثقب يحفر في الأرض ليصل على المياه .
2	التلوث إضافة مواد ضارة وغير مرغوب فيها الى البيئة.
3	يحدث كسوف الشمس عندما يقع القمر بين الشمس والأرض .
4	نحصل على الماء العذب من البحار والمحيطات .
5	دورة الأرض السنوية تحدث خلال 24 ساعة .

النجم	خسوف القمر	المدار	الجرانيت	المياه الجوفية
-------	------------	--------	----------	----------------

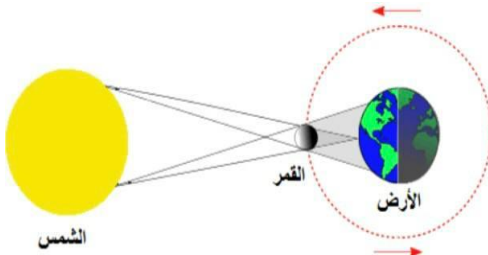
1المسار الدائري وغير الدائري الذي يسلكه الجسم .
2 كرة من الغازات الساخنة ينبعث منها الضوء والحرارة .
3 مياه تتجمع في الفراغات فوق الصخور .
4	يحدث عندما تقع الأرض بين الشمس والقمر .
5 يتكون من حبيبات كبيرة وواضحة .

السؤال الرابع : اكمل :

1 - الى أي ظاهرة تشير الرسمه التي أمامك



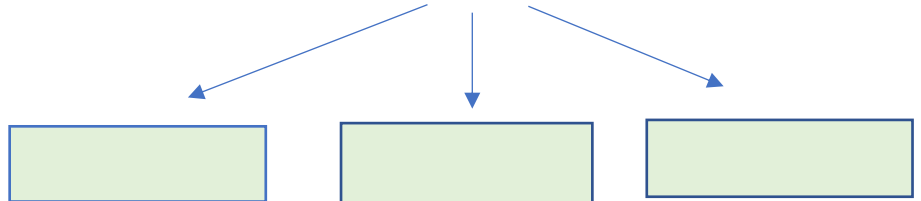
.....



.....

من خصائص المعادن :

-2



تمنياتي لكن بالتوفيق ،،،،،،،،،، معلمة المادة / وداد الحري. ♥

نموذج الاجابة

٢٠

((اختبار الفترة الأولى لمادة العلوم للصف الرابع الابتدائي الفترة الدراسية الثانية ١٤٤٧هـ))

اسم الطالب / ة ((نموذج إجابة)) الصف:

السؤال الأول : اختاري الإجابة الصحيحة : (٥ درجات)

١ - اللون والقساوة والبريق من الخصائص التي تميز :			
التربة	المعادن	الطبقات	الأحافير
٢- من مصادر الماء :			
الماء المالح	الماء العذب	المياه الجوفية	جميع ما سبق
٣- يجعل الأجسام البعيدة تبدو قريبة :			
النجم	الكوكب	التلسكوب	الكون
٤- معظم بقايا النباتات والحيوانات الميتة توجد في :			
الصخور المتحولة	الصخور الرسوبية	الصخور النارية	المعادن
٥- الخط الذي يصل بين قطبي الأرض :			
خط الطول	محور الأرض	دوائر العرض	_____

السؤال الثاني : ضعي علامة (√) أو (x) أمام كل عبارة مما يلي : (٥ درجات)

١	البئر ثقب يحفر في الأرض ليصل على المياه .	صح
٢	التلوث إضافة مواد ضارة وغير مرغوب فيها الى البيئة.	صح
٣	يحدث كسوف الشمس عندما يقع القمر بين الشمس والأرض .	صح
٤	نحصل على الماء العذب من البحار والمحيطات .	خطأ
٥	دورة الأرض السنوية تحدث خلال ٢٤ ساعة .	خطأ

(٥ درجات)

السؤال الثالث : أكمل الفراغات بما يناسبها :

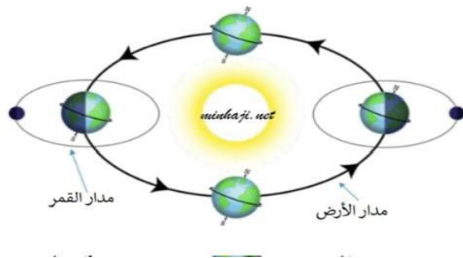
المياه الجوفية	الجرانيت	المدار	خسوف القمر	النجم
----------------	----------	--------	------------	-------

١المدار.....	المسار الدائري وغير الدائري الذي يسلكه الجسم .
٢ النجم	كرة من الغازات الساخنة ينبعث منها الضوء والحرارة .
٣	... المياه الجوفية	مياه تتجمع في الفراغات فوق الصخور .
٤	يحدث خسوف القمر	عندما تقع الأرض بين الشمس والقمر .
٥ الجرانيت	يتكون من حبيبات كبيرة وواضحة .

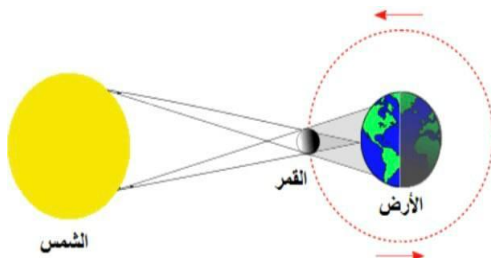
اجاباتكم موقع

السؤال الرابع : اكمل :

١ - الى أي ظاهرة تشير الرسمة التي أمامك



...دورة الأرض السنوية...



...كسوف الشمس...

من خصائص المعادن :

٢-

المخدش

اللون والقساوة

البريق



تمنياتي لكن بالتوفيق ،،،،،،،، معلمة المادة / وداد الحري .

(قناة أ . وداد الحري)

((اختبار الفترة الأولى لمادة العلوم للصف الرابع الابتدائي الفترة الدراسية الثانية ١٤٤٧هـ))

اسم الطالب / ة الصف:

(١٠ درجات)

السؤال الأول : اختاري الإجابة الصحيحة :

١ - اللون والقساوة والبريق من الخصائص التي تميز :			
التربة	المعادن	الطبقات	الأحافير
٢- من مصادر الماء :			
الماء المالح	الماء العذب	المياه الجوفية	جميع ماسبق
٣- يجعل الأجسام البعيدة تبدو قريبة :			
النجم	الكوكب	التلسكوب	الكون
٤- معظم بقايا النباتات والحيوانات الميتة توجد في :			
الصخور المتحولة	الصخور الرسوبية	الصخور النارية	المعادن
٥- الخط الذي يصل بين قطبي الأرض :			
خط الطول	محور الأرض	دوائر العرض	_____
٦- ما الذي يسبب تغير الفصول الأربعة على سطح الأرض :			
دورة الأرض حول محورها	دورة الأرض حول الشمس	دوران الأرض حول القمر	تعاقب الليل والنهار
٧- عملية توصيل الماء الى التربة الزراعية يسمى :			
الري	الرش	التبخير	البئر
٨- كرة من الغازات الساخنة تنبعث منه الضوء والحرارة			
القمر	النجم	الكوكب	الشهاب
٩- يستغرق القمر ليتم دورته كاملة حوالي			
شهر	سنة	أسبوع	يوم
١٠- أكبر الكواكب في المجموعة الشمسية :			
المريخ	المشتري	زحل	الزهرة

(٥ درجات)

السؤال الثاني : ضع علامة (√) أو (x) أمام كل عبارة مما يلي :

١	البئر ثقب يحفر في الأرض ليصل على المياه .
٢	التلوث إضافة مواد ضارة وغير مرغوب فيها الى البيئة .
٣	يحدث كسوف الشمس عندما يقع القمر بين الشمس والأرض .
٤	أطوار القمر هي أشكال القمر الظاهرية .
٥	دورة الأرض السنوية تحدث خلال ٢٤ ساعة .

(٥ درجات)

السؤال الثالث : أكمل الفراغات بما يناسبها :

المياه الجوفية	الجرانيت	المدار	خسوف القمر	المالح
----------------	----------	--------	------------	--------

١المسار الدائري وغير الدائري الذي يسلكه الجسم .
٢	الماء غير قابل للشرب .
٣ مياه تتجمع في الفراغات فوق الصخور .
٤	يحدث عندما تقع الأرض بين الشمس والقمر .
٥ يتكون من حبيبات كبيرة وواضحة .

تمنياتي لكن بالتوفيق ،،،،،،،، معلمة المادة / ودداد الحري .

اجاباتكم موقع 

نموذج الاجابة

٢٠

((اختبار الفترة الأولى لمادة العلوم للصف الرابع الابتدائي الفترة الدراسية الثانية ١٤٤٧هـ))

اسم الطالب / ((نموذج إجابة .)) الصف:

السؤال الأول : اختاري الإجابة الصحيحة : (١٠ درجات)

١ - اللون والقساوة والبريق من الخصائص التي تميز :			
التربة	المعادن	الطبقات	الأحافير
٢- من مصادر الماء :			
الماء المالح	الماء العذب	المياه الجوفية	جميع ما سبق
٣- يجعل الأجسام البعيدة تبدو قريبة :			
النجم	الكوكب	التلسكوب	الكون
٤- معظم بقايا النباتات والحيوانات الميتة توجد في :			
الصخور المتحولة	الصخور الرسوبية	الصخور النارية	المعادن
٥- الخط الذي يصل بين قطبي الأرض :			
خط الطول	محور الأرض	دوائر العرض	_____
٦- ما الذي يسبب تغير الفصول الأربعة على سطح الأرض :			
دورة الأرض حول محورها	دورة الأرض حول الشمس	دوران الأرض حول القمر	تعاقب الليل والنهار
٧- عملية توصيل الماء الى التربة الزراعية يسمى :			
الري	الرش	التبخير	البئر
٨- كرة من الغازات الساخنة تنبعث منه الضوء والحرارة			
القمر	النجم	الكوكب	الشهاب
٩- يستغرق القمر ليتم دورته كاملة حوالي			
شهر	سنة	أسبوع	يوم
١٠- أكبر الكواكب في المجموعة الشمسية :			
المريخ	المشتري	زحل	الزهرة

