



أسئلة عامة لمادة المهارات الرقمية للصف السادس الفصل الدراسي الأول ١٤٤٤ هـ

( الوحدة الأولى - تعلم الأساسيات )

السؤال الأول / في الفقرات من (١) إلى (١٢) اختاري الإجابة لكل فقرة وضعي تحتها خطأ :

|    |   |                           |                         |                    |                      |
|----|---|---------------------------|-------------------------|--------------------|----------------------|
| ١  | من مكونات الحاسب الأساسية .....   | (أ) لوحة المفاتيح         | (ب) بطاقة الذاكرة       | (ج) مسجل الصوت     | (د) السماعات         |
| ٢  | تستخدم الفأرة لـ .....  | (أ) عرض شاشات البرامج     | (ب) مسح المستندات       | (ج) تحريك المؤشر   | (د) طباعة صفحة       |
| ٣  | تتكون وحدة المعالجة المركزية من ....  | (أ) مكونات سطح المكتب     | (ب) مكونات صندوق الحاسب | (ج) إعدادات الشاشة | (د) الأجهزة الملحقة  |
| ٤  | المهمة الرئيسية للحاسب هي إدارة البيانات والمعلومات الموجودة في الحاسب باسم....   | (أ) الملفات               | (ب) الطابعات            | (ج) سلة المهملات   | (د) الفيديوهات       |
| ٥  | من الأجهزة الملحقة بالحاسب ....   | (أ) وحدة الذاكرة الفلاشية | (ب) كاميرا الويب        | (ج) بطاقة الذاكرة  | (د) مزود الطاقة      |
| ٦  | تستخدم لإجراء حسابات يسيرة ومتقدمة....  | (أ) المساحة الضوئية       | (ب) الكاميرا الرقمية    | (ج) الحاسبة        | (د) الأقراص الرقمية  |
| ٧  | تمثل هذه الصورة  إلى .....             | (أ) ملف عرض تقديمي        | (ب) ملف صوتي            | (ج) ملف نصي        | (د) ملف مستند        |
| ٨  | بإمكاننا تصغير حجم الملفات والمجلدات من خلال عملية تسمى .....   | (أ) اختصار                | (ب) حذف                 | (ج) ضغط            | (د) نسخ              |
| ٩  | عند حذف مجلد أو ملف عن طريق الخطأ فإنه يتم نقله إلى .....   | (أ) التنزيلات             | (ب) المستندات           | (ج) سلة المحذوفات  | (د) البريد           |
| ١٠ | لنقل مجلد من مكان إلى آخر ننقر على .....  | (أ) قص                    | (ب) حذف                 | (ج) نسخ            | (د) لصق              |
| ١١ | يشير الرمز الموجود في الصورة إلى  ..... | (أ) مجلد                  | (ب) ملف مختصر           | (ج) ملف مضغوط      | (د) فيديو            |
| ١٢ | يشير الرمز الموجود في الصورة إلى  .....  | (أ) برنامج                | (ب) مجلد                | (ج) إدراج صورة     | (د) التدقيق الإملائي |

**السؤال الثاني / فى الفقرات من (١) إلى (١٥) ضعى ✓ أو ✗ أمام العبارات التالية:**

- ١- عند حذف ملف أو مجلد من جهاز الحاسب بالخطأ فإنه لا يمكن استعادته. ( )
- ٢- يطلق على تصغير حجم الملفات والمجلدات بنسب متفاوتة ( ضغط الملفات ) ( )
- ٣- عند صعوبة العثور على ملف أو برنامج في جهاز الحاسب يمكن إنشاء اختصار له على سطح المكتب. ( )
- ٤- لا يمكن إنشاء مجلدات فرعية في جهاز الحاسب. ( )
- ٥- المجلد : هو مساحة تخزينية على القرص الصلب في الحاسب. ( )
- ٦- يمكننا إضافة البرامج والملفات إلى شريط المهام من خلال سحب وإفلات الأيقونات على شريط المهام. ( )
- ٧- يمكننا حذف الاختصارات من شريط المهام باستخدام زر الفأرة الأيسر والضغط على خيار إلغاء التثبيت. ( )
- ٨- تتفاوت درجة ضغط الملفات حسب نوع الملف ومحتواه. ( )
- ٩- تعتبر الشاشة من المكونات الأساسية لجهاز الحاسب. ( )
- ١٠- تعتبر الأقراص المضغوطة من أجهزة التخزين الخارجية. ( )
- ١١- يوجد مزود الطاقة في وحدة النظام. ( )
- ١٢- عجلة القيادة تُعتبر شكل خاص من لوحة الألعاب ( )
- ١٣- لا يمكن العثور على لوحات اللمس في أجهزة الحاسب المحمولة. ( )
- ١٤- عصا التحكم تُعتبر وحدة شائعة في الألعاب . ( )
- ١٥- تسمى لوحة الألعاب أيضًا جوي باد ( )

السؤال الثالث : صلي كل رمز من أجزاء الحاسب المختلفة مع وظيفته الصحيحة :

| <u>الرمز</u>  | <u>الوظيفة</u>  |
|---|---|
|  السماعات      | الاستماع إلى الملفات الصوتية<br>طباعة صفحة<br>كتابة الأحرف و الأرقام<br>إدخال صورة للحاسب |
|  الطابعة       |   |
|  لوحة المفاتيح |   |
|  المسح الضوئي  |   |

السؤال الرابع : لوني الأجهزة حسب العبارة المناسبة لها :

| أجهزة إدخال وإخراج | أجهزة رقمية | أجهزة إدخال | أجهزة إخراج |
|--------------------|-------------|-------------|-------------|
| الميكروفون         |             | المكيف      |             |
| القرص              |             | الميكرويف   |             |
| السماعات           |             | شاشة الجوال |             |
| الطابعة            |             | و الآيباد   |             |

## السؤال الخامس : رتبي خطوات إنشاء اختصار الملف أو البرنامج :

|   |  |
|---|--|
| 1 | انقل الاختصار إلى الموقع الجديد باستخدام الفأرة السحب والإفلات |
| 2 | يتم انشاء اختصار في نفس الموقع مع العنصر الأساسي               |
| 3 | اضغط بزر الفأرة الأيمن عليه ومن القائمة اختار انشاء اختصار     |
| 4 | ابحث عن الملف أو البرنامج الذي تريد إنشاء اختصار له            |

دعواتنا لكن بالنجاح والتوفيق





( الوحدة الثانية – التعامل مع المستندات )

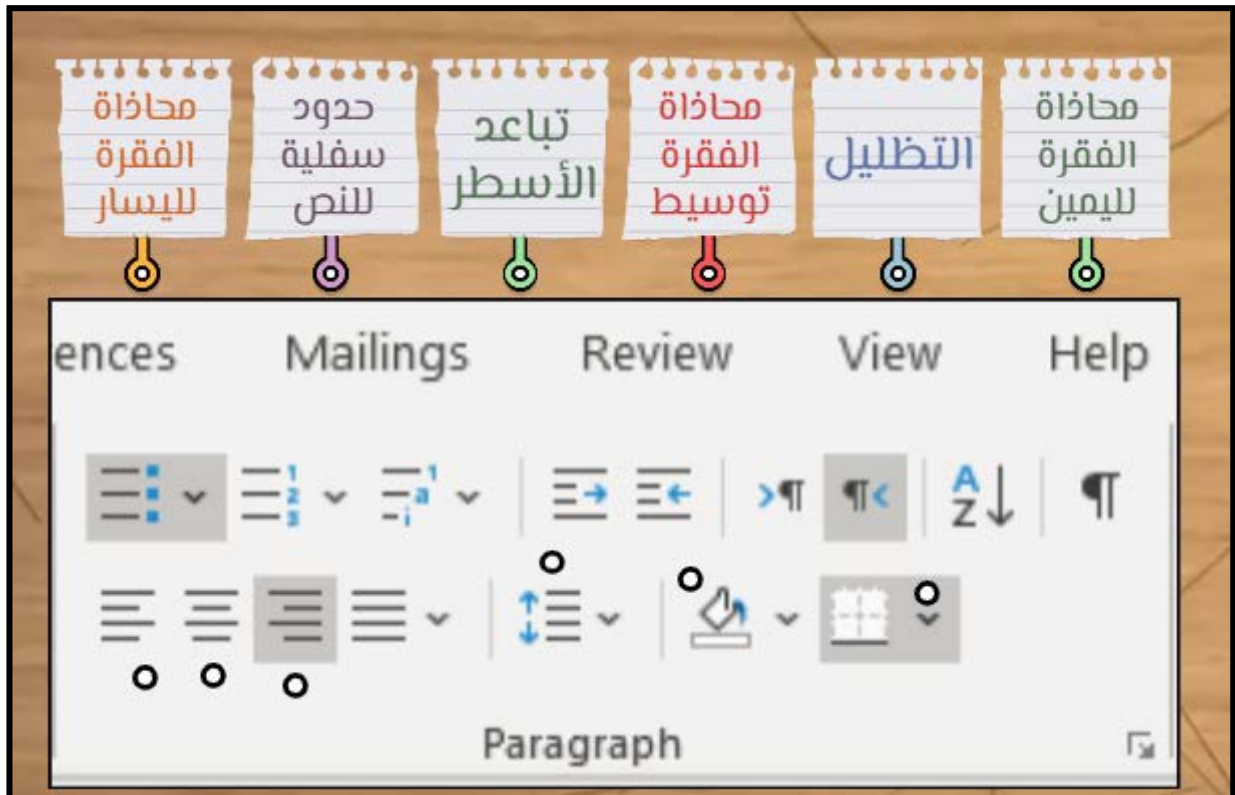
**السؤال الأول / في الفقرات من (١) إلى (٩) اختاري الإجابة لكل فقرة وضعي تحتها خطأ :**

|                             |  |   |                                |   |
|-----------------------------|--|---|--------------------------------|---|
| يساعدك التفاف النص على .... |  |   |                                |   |
| ١                           | (أ) التحكم بكيفية ظهور النص حول الصورة   | (ب) تحديد الموضع الصحيح للصورة          | (ج) وضع الصورة خلف النص        | (د) إضافة حدود على الصورة               |
| ٢                           | توجد أداة الصور في ....  |   |                                |   |
|                             | (أ) الشريط الرئيسي   | (ب) إدراج                               | (ج) تنسيق                      | (د) معاينة                              |
| ٣                           | من مجموعة أنماط الصور نستطيع ....  |   |                                |   |
|                             | (أ) إضافة حدود على الصورة  | (ب) التحكم بكيفية ظهور النص حول         | (ج) تحديد الموضع الصحيح للصورة | (د) نضع الصورة أمام النص                |
| ٤                           | يشير الرمز الموجود في الصورة إلى...<br> |   |                                |   |
|                             | (أ) المحاذة للوسط  | (ب) المسافة بين الأسطر                  | (ج) المحاذة لليمين             | (د) المحاذة لليساار                     |
| ٥                           | إضافة الأشكال والرسوم التوضيحية ( Smart Art ) داخل المستند تمكننا من....   |   |                                |   |
|                             | (أ) عرض المعلومات بشكل أوضح  | (ب) إتمام العمليات الحسابية             | (ج) سهولة الوصول للإنترنت      | (د) مشاهدة الفيديوهات                   |
| ٦                           | هناك طريقة أكثر سهولة لمراجعة الأخطاء الإملائية في الكتابة من خلال ....  |   |                                |   |
|                             | (أ) تجاهل الكلمة   | (ب) الضغط بالزر الأيمن على الكلمة الخطأ | (ج) حذف الكلمة                 | (د) الضغط بالزر الأيسر على الكلمة الخطأ |
| ٧                           | يتم تسطير بعض الكلمات بخط أحمر تحت النص للتدقيق .....  |   |                                |   |
|                             | (أ) الإملائي   | (ب) النحوي                              | (ج) طباعة ملف                  | (د) قاموس مرادفات                       |
| ٨                           | السبب في ظهور خط أزرق تحت الكلمات ....   |   |                                |   |
|                             | (أ) قاموس المرادفات  | (ب) التدقيق الإملائي                    | (ج) الرسم التوضيحي             | (د) التدقيق النحوي                      |
| ٩                           | يبحث عن مرادفات للكلمة ....  |   |                                |   |
|                             | (أ) الطباعة  | (ب) التدقيق النحوي                      | (ج) قاموس المرادفات            | (د) التدقيق الإملائي                    |










السؤال الثاني / في الفقرات من (١) إلى (١٣) ضع ✓ أو ✗ أمام العبارات التالية:

- ١- المقال الذي يقتصر على النصوص فقط قد يصيب القارئ بالملل. ( )
- ٢- الصور عبر الانترنت لا تكون محمية بحقوق الطبع والنشر. ( )
- ٣- يمكننا التعديل على الصور من تبويب تنسيق الصورة. ( )
- ٤- تحدد المسافة البادئة مسافة الفقرة من الهامش الأيمن أو الأيسر. ( )
- ٥- يمكن إنشاء حدود وتظليل من تبويب الفقرة. ( )
- ٦- توجد جميع أدوات تنسيق الخطوط في فقرة ملف. ( )
- ٧- تباعد الأحرف هو المسافة بين أحرف الكلمة. ( )
- ٨- يمكننا تنسيق الرسم التوضيحي ( Smart Art ) بتغيير اللون أو الشكل. ( )
- ٩- يمكننا إضافة الكلمات التي نثق في صحتها إلى قاموس البرنامج. ( )
- ١٠- هناك طريقة واحدة للعثور على مرادفات للكلمة. ( )
- ١١- لتشغيل قاموس المرادفات من علامة التبويب الرسوم التوضيحية. ( )
- ١٢- للتحقق من أخطائك من علامة التبويب مراجعة. ( )
- ١٣- لاتمام عملية الطباعة من علامة التبويب ملف ثم جديد. ( )

السؤال الثالث / صلي كل عبارة في الرمز المناسب في الصورة التي أمامك :



## السؤال الرابع : صلي كل كلمة بتعريفها المناسب :

|   |                          |   |
|---|--------------------------|---|
| إدراج النماذج ثلاثية الأبعاد                      | <input type="checkbox"/> |  |
| تستخدم للمقارنة أو لعرض العلاقة بين فكرتين        | <input type="checkbox"/> |  |
| يستخدم لإظهار العلاقات النسبية أو الهرمية         | <input type="checkbox"/> |  |
| إدراج الأشكال                                     | <input type="checkbox"/> |  |
| تستخدم لإظهار الخطوات أو العناصر غير المتسلسلة    | <input type="checkbox"/> |  |
| إدراج الأيقونات                                   | <input type="checkbox"/> |  |
| يستخدم لإظهار معلومات متسلسلة بشكل هرمي           | <input type="checkbox"/> |  |
| يعرض خطوات عملية أو جدول زمني لسير عمل معين       | <input type="checkbox"/> |  |
| يستخدم لتمثيل تسلسل متواصل لعدة مراحل تتابع دائري | <input type="checkbox"/> |  |
| تستخدم لإظهار العلاقة بين الجزء والكل             | <input type="checkbox"/> |  |

دعواتنا لکن بالنجاح والتوفيق





للوحدة الثالثة ( البرمجة في سكراتش )

السؤال الأول / في الفقرات من (١) إلى (٦) اختاري الإجابة لكل فقرة وضعي تحتها خطأ :






|  |   |   |   |   |
|--|---|---|---|---|
| مجموعة من تعليمات مفصلة خطوة بخطوة لحل مشكلة أو إكمال مهمة هو معنى :   |   |   |   | ١ |
| (أ) الكتابة التلقائية  | (ب) الخوارزمية  | (ج) إدراج صورة  | (د) التدقيق الإملائي  |   |
| إذا اردنا ان نجعل الكائن في سكراتش يتحرك ٥ خطوات ١٠ مرات نستخدم لبنة :   |   |   |   |   |
| (أ)                                 | (ب)  | (ج)  | (د)  | ٢ |
| يسمى التكرار المستخدم لعدد محدد من المرات بـ :   |   |   |   | ٣ |
| (أ) التكرار الثابت   | (ب) التكرار المتغير   | (ج) القلم   | (د) الاستشعار   |   |
| لبنة ارفع  يمكننا من جعل الكائن : |   |   |   | ٤ |
| (أ) يرسم بشكل مستمر  | (ب) يتوقف عن الرسم  | (ج) يطبع الشكل  | (د) ينتظر قليلاً  |   |
| نستطيع من خلال الصورة :  |   |   |   | ٥ |
| (أ) تغيير حجم الخط   | (ب) تغيير لون الخط  | (ج) إنشاء نسخة مشابهة للكائن  | (د) تباعد الأسطر  |   |
| نستطيع من خلال الرمز الموجود بالصورة :   |   |   |   | ٦ |
| (أ) تغيير الكائن   | (ب) ترك أثرًا عند الحركة  | (ج) المباعدة بين الأسطر   | (د) تغيير الخلفية   |   |



**السؤال الثاني / في الفقرات من (١) إلى (١٧) ضع ✓ أو ✗ أمام العبارات التالية:**

١. يمكننا إضافة مقطع صوت في برمجة سكراتش . ( )
٢. الخوارزمية هي عملية تحويل تعليمات مفصلة خطوة بخطوة لحل مشكلة أو إكمال مهمة. ( )
٣. في لوحة لبنات الهيئة سنجد اللبنات المسؤولة عن تحكم حركة الكائن . ( )
٤. يبدأ دائماً أي برنامج في سكراتش بلبنة الأحداث . ( )
٥. لا يمكننا استخدام لبنات الصوت لأكثر من شخصية . ( )
٦. الأوامر البرمجية لها عدة ألوان في لوحة اللبنات البرمجية ( )
٧. لا يمكننا إزالة أمر من مقطع برمجي ( )
٨. إزالة الخلفية يزيل كامل العمل في سكراتش . ( )
٩. يمكننا استيراد مقطع صوتي من مكتبة الكائنات الرسومية بسكراتش ( )
١٠. يمكننا إضافة تعليق داخل الأمر البرمجي . ( )
١١. تمكن لغة سكراتش من إنشاء البرامج من خلال سحب وإفلات وتركيب اللبنات . ( )
١٢. تعطي الخوارزمية نتيجة صحيحة دائماً حتى وإن كانت تحتوي أخطاء . ( )
١٣. يجب تشغيل العلم عند رغبتنا بتشغيل المقطع البرمجي . ( )
١٤. تعمل الخلفية في سكراتش على تغيير مظهر المسرح. ( )
١٥. تسمى اللبنات في سكراتش بالأوامر. ( )
١٦. تستخدم الخوارزميات فقط لوصفات الطعام . ( )
١٧. يمكننا إضافة أكثر من كائن وجعل كل واحد منها يعمل بطريقة مختلفة . ( )

**السؤال الثالث : صلي كل رمز من خيارات سكراتش المختلفة مع وظيفته الصحيحة :**

| <u>الرمز</u>  | <u>الوظيفة</u>                      |
|---|-------------------------------------|
|  | ١- إزالة ماتم رسمه باستخدام القلم   |
|  | ٢- إيقاف عملية الرسم بالقلم         |
|  | ٣- تغيير سماكة القلم إلى قيمة محددة |
|  | ٤- تغيير لون القلم إلى لون محدد     |
|  | ٥- جعل القلم يرسم عند تحريكه        |

نرجو لکن التوفيق

معلمات المادة: نجاة باجنيد – خولة صالح

