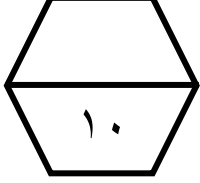


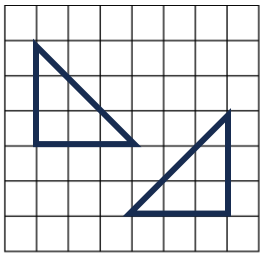
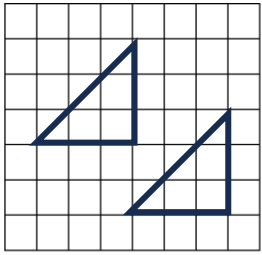
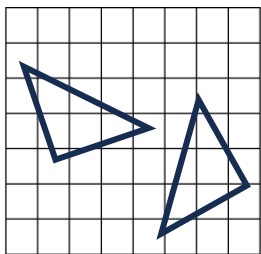
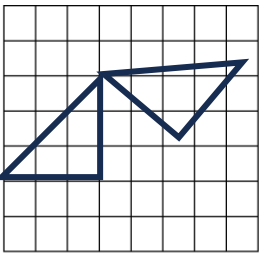
اسم الطالب /

ورقة عمل (الأسبوع الرابع عشر) للصف الخامس الابتدائي الفصل الدراسي الثاني للعام الدراسي ١٤٤٧ هـ



| |
|------------------------------|
| المهارات |
| الانعكاس في المستوى الاحداثي |
| الدوران في المستوى الاحداثي |

| | |
|---|--|
| ضع علامة (\checkmark) أمام العبارة الصحيحة وعلامة (\times) أمام العبارة الخاطئة : | |
| أ | يسمى قلب شكل هندسي حول مستقيم والحصول على صورة مرآة لهذا الشكل انعكاسا <input checked="" type="checkbox"/> |
| ب | يسمى تدوير شكل هندسي حول نقطة دورانا <input checked="" type="checkbox"/> |

| | |
|------------------------------|---|
| ما الشكل الذي يمثل انسحابا ؟ | |
| (أ) |  |
| (ب) |  |
| (ج) |  |
| (د) |  |

| | | | | |
|--|--------|---|--------|-------|
| ما هو التحويل الهندسي الحاصل على حرف E | | | | |
| أ | دوران | ب | انعكاس | ج |
| ب | انعكاس | ج | انسحاب | دوران |

E