



# تم تحميل الملف من موقع **بداية**



للمزيد اكتب  
في جوجل



بداية التعليمي ⌚

موقع بداية التعليمي كل ما يحتاجه الطالب والمعلم  
من ملفات تعليمية، حلول الكتب، توزيع المنهج،  
بوربوينت، اختبارات، ملخصات، اختبارات إلكترونية،  
أوراق عمل، والكثير...

حمل التطبيق



المادة	مهارات رقمية
الصف	أولى متوسط
الزمن	ساعة
عدد الأسئلة	٣
عدد الصفحات	٣



المملكة العربية السعودية  
وزارة التعليم  
إدارة التعليم بجدة  
مدرسة العقيق النموذجية  
القسم المتوسط

اختبار الفصل الدراسي الأول (أولى متوسط )  
(الدور الأول)

اسم الطالبة :

أجيب على الأسئلة التالية :

السؤال الأول

٥

اختراري الإجابة الصحيحة فيما يلي بختيار الحرف المناسب :

١	أ	الحاسب	ب	الفأرة	ج	الشاشة	د	الطابعة
جهاز إلكتروني معالجة وتخزين واسترجاع البيانات								
٢	أ	مكونات برمجية	ب	مكونات مادية	ج	مكونات حسية	د	لا شيء مما سبق
هي الأجهزة التي يتكون منها الحاسب مثل الشاشة وغيرها								
٣	أ	الحاسب المحمول	ب	الحوادم	ج	الحاسبات العملاقة	د	الحاسب المحمول
أجهزة حاسب قوية جدًا ذات قدرة معالجة عالية ، كبيرة الحجم ، إجراء الحسابات في نفس الوقت								
٤	أ	الطابعة	ب	الحوادم	ج	مشغلات ألعاب الفيديو	د	الحاسبات العملاقة
جهاز حاسب يتيح لك اللعب بشكل فردي أو جماعي عبر الإنترنت								
٥	أ	المعالج	ب	اللوحة الأم	ج	ذاكرة الوصول العشوائي	د	محرك القرص الصلب
هو جهاز التخزين الرئيسي في الحاسب لتخزين البيانات وتخزينها ويتم تخزين جميع البرامج فيها								
٦	أ	المخطط الانسيابي	ب	البرمجة	ج	الخوارزمية	د	المشكلة
هو تمثيل بياني لخطوات الخوارزمية								
٧	أ	-احسب متوسط رقمين -عرض النتيجة -أدخل الرقمين	ب	-ادخل الرقمين -عرض النتيجة -أحسب المتوسط	ج	-ادخل الرقمين -احسب المتوسط -عرض النتيجة	د	-اعرض النتيجة - ادخل الرقمين -احسب المتوسط
ما هو الترتيب الصحيح لخوارزمية برنامج يقوم بحساب متوسط رقمين								
١٥	أ	المحلل	ب	المدرّب	ج	المبرمج	د	المصمم
يقوم بكتابة البرنامج .....								
١٦	أ	إعادة تشغيل الحاسب	ب	تسجيل الخروج	ج	السكون	د	إيقاف التشغيل
يغلق جميع برامج الحاسب ثم يبدأ بتشغيله فوراً مرة أخرى								
١٨	أ	كتابة البرنامج بلغة البايثون	ب	تحديد المشكلة	ج	كتابة الخوارزمية	د	رسم المخطط البياني
المرحلة الأخيرة من مراحل إنشاء البرنامج								

يتبع

اكتب الحرف (ص) امام العبارة الصحيحة و الحرف (خ) امام العبارات الخاطئة:

١	تمنحك مجموعة الخطوط جميع الأدوات اللازمة لتنسيق خط النص الخاص
٢	البايثون هي لغة برمجة عالمية تعتمد على كتابة الأكواد
٣	لا يمكن استخدام رسومات وأشكال في مستندك
٤	يمكن نقل ملف في سلة المحذوفات إلى مجلد من اختيارك
٥	يتم تخزين جميع البيانات مثل الصور في شاشة الحاسب
٦	يعد نظام التشغيل نوعاً من أنواع المكونات المادية للحاسب
٧	تتصل جميع الأجهزة الأخرى باللوحة الأم كوحدة المعالجة المركزية والذاكرة والأجهزة الملحقة الأخرى
٨	يمكن إضافة مجلدات فرعية في مجلد
٩	لغة البايثون هي اللغة الوحيدة التي يفهمها الحاسب
١٠	تسمح أنظمة التشغيل ذات الواجهة الرسومية برؤية جميع الملفات والمجلدات والتحكم بها من خلال الفأرة





يتبع

٥

### السؤال الثالث

٢

أ - طابقي بين أشكال المخطط الانسيابي وأسمائها بوضع الرقم المناسب:

		البداية/ النهاية	١
		الإدخال/ الإخراج	٢
		العمليات	٣
		اتخاذ القرار	٤

ب - صنفى الأجهزة التالية لأجهزة المناسبة لها ( أجهزة إدخال - أجهزة إخراج - أجهزة تخزين )

٣

تصنيفها	اسم الجهاز
	لوحة المفاتيح
	ذاكرة الفلاش (USB)
	الفأرة
	الأقراص الضوئية
	الطابعات
	كاميرا ويب

انتهت الأسئلة ..

بين أيديكم (17) مجموعة وقناة لخدمة  
معلمي/ات ومشرفي/ات الحاسب الآلي:

- 3 قنوات ← (المرحلة الإبتدائية) 
- 3 قنوات ← (المرحلة المتوسطة) 
- 3 قنوات ← (المرحلة الثانوية) 
- 3 قنوات ← (مسار علوم الحاسب) 
- قناة للبرامج والبدايل التعليمية 
- قناتين للرخصة (التربوي) و (الحاسب) 
- قناتين تربوية 

رابط المجموعات والقنوات:

<https://t.me/addlist/NzeSzwwOius5MTA0>