

توقيع ولي الأمر.....

اختبار منتصف الفصل الدراسي الثالث لمادة الرياضيات للصف الرابع الابتدائي للعام الدراسي ١٤٤٥ هـ

الاسم /

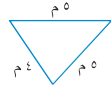
الاسم /

السؤال الأول : اختر الإجابة الصحيحة فيما يلي :

١- الوحدة المناسبة لقياس المسافة من شمال المملكة إلى جنوبها هي

أ	ملم	ب	سم	ج	م	د	كلم
---	-----	---	----	---	---	---	-----

٢- محيط الشكل المجاور يساوي



أ	١٤ م	ب	١٠ م	ج	٥ م	د	٢٥ م
---	------	---	------	---	-----	---	------



٣- التقدير الأنسب لسعة إبريق الشاي هو:

أ	١ مل	ب	١ ل	ج	٥٠ ل	د	١٠ مل
---	------	---	-----	---	------	---	-------

٤- التقدير الأنسب لمساحة الشكل المجاور هو :



أ	٧ وحدات مربعة	ب	٣ وحدات مربعة	ج	٤ وحدات مربعة	د	٨ وحدات مربعة
---	---------------	---	---------------	---	---------------	---	---------------



٥- التقدير الأنسب لكتلة حبة الموز هي :

أ	٢٠ جم	ب	٢٠ كجم	ج	٢٠٠ جم	د	٢٠٠ كجم
---	-------	---	--------	---	--------	---	---------

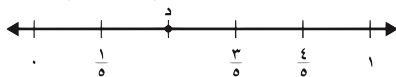
٦- طول الفترة الزمنية من الساعة ١٥ : ٤ مساءً وحتى الساعة ٣٠ : ٥ مساءً هو

أ	ساعة واحدة	ب	ساعة و ١٥ دقيقة	ج	ساعة و ٣٠ دقيقة	د	ساعتان
---	------------	---	-----------------	---	-----------------	---	--------



٧- الكسر الذي يمثل الجزء المظلل في الشكل المجاور هو:

أ	$\frac{3}{6}$	ب	$\frac{4}{6}$	ج	$\frac{5}{6}$	د	$\frac{1}{6}$
---	---------------	---	---------------	---	---------------	---	---------------



٨- الكسر الذي يمثل النقطة د على خط الاعداد المجاور هو:

أ	$\frac{1}{5}$	ب	$\frac{2}{5}$	ج	$\frac{3}{5}$	د	$\frac{4}{5}$
---	---------------	---	---------------	---	---------------	---	---------------

٩- الكسر المكافئ للكسر $\frac{1}{4}$ هو :

أ	$\frac{4}{6}$	ب	$\frac{3}{6}$	ج	$\frac{2}{8}$	د	$\frac{2}{5}$
---	---------------	---	---------------	---	---------------	---	---------------

١٠- كم جرام في ٥ كيلوجرامات ؟

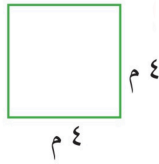
أ	٥ جرامات	ب	٥٠ جرام	ج	٥٠٠ جرام	د	٥٠٠٠ جرام
---	----------	---	---------	---	----------	---	-----------

السؤال الثاني : ضع علامة (✓) أمام العبارة الصحيحة وعلامة (X) أمام العبارة الخاطئة فيما يلي :

	١- المحيط هو طول الخط حول شكل مغلق
	٢- تقدر كتلة كتاب الرياضيات بجرام واحد تقريباً .
	٣- من وحدات الطول المترية اللتر
	٤- حجم الجسم هو عدد الوحدات المكعبة اللازمة لملء ذلك الجسم

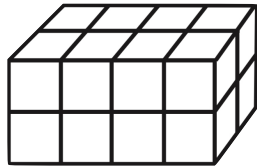
السؤال الثالث : أجب عن المطلوب فيما يلي :

أ) أوجد مساحة المربع المجاور :



.....

ب) أوجد حجم الجسم التالي :



..... وحدة مكعبة

ج) يحتوي صندوق على ٤ أقلام حمراء و ٣ أقلام سوداء ما الكسر الذي يمثل الأقلام السوداء :

.....

د) كم ستصبح الساعة بعد ٥ ساعات ؟



..... :

هـ) كان مع نورة ١٠ بطاقات ملونة، أعطت أختها ثلاث منها أكتب الكسر الذي يمثل ما تبقى معها من البطاقات ؟

.....

و) سجادة مستطيلة الشكل طولها ٥ متر وعرضها ٣ متر أوجد مساحتها ؟

.....