
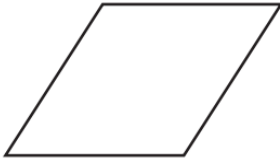
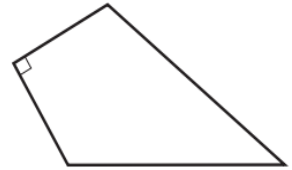


س ١ / صل العبارة الصحيحة من العمود (أ) مايناسبه من الشكل الرباعي من العمود (ب)

صفاته	الشكل الرباعي
فيه ضلعان فقط متوازيان	يسمى 
جميع زواياه قائمة	يسمى 
كل ضلعين متقابلين متوازيان ومتطابقان	يسمى 

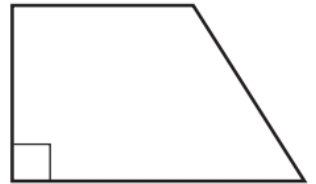
س ٢ / كم عدد الزوايا المنفرجة في الشكل التالي :





س ٣ / كم عدد الزوايا الحادة في الشكل التالي :





معلم المادة /

انتهت الأسئلة