













الدرجة:		المملكة العربية السعودية
	مدارس رياض الإحسان	وزارة التعليم إدارة التعليم بمنطقة الشرقية
10		

اختبار الفترة الأولى (الفصل الدراسي الثاني)






اسم الطالبة : المادة : رياضيات الصف : الأول الابتدائي











السؤال الأول: أكتب عدد الأشكال في الفراغ :


				
				


2


				
				

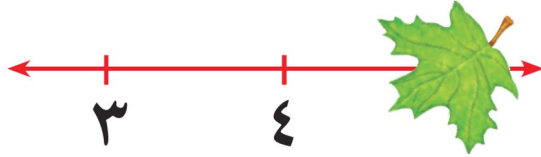
السؤال الثاني : أكتب عدد الأشكال في كل مجموعة ، ثم ضع دائرة على المجموعة الأكبر






السؤال الثالث : أكمل خط الأعداد بكتابة العدد المغطى بورق الشجر :








المملكة العربية السعودية
وزارة التعليم
الإدارة العامة للتعليم بمنطقة
ابتدائية
مكتب التعليم

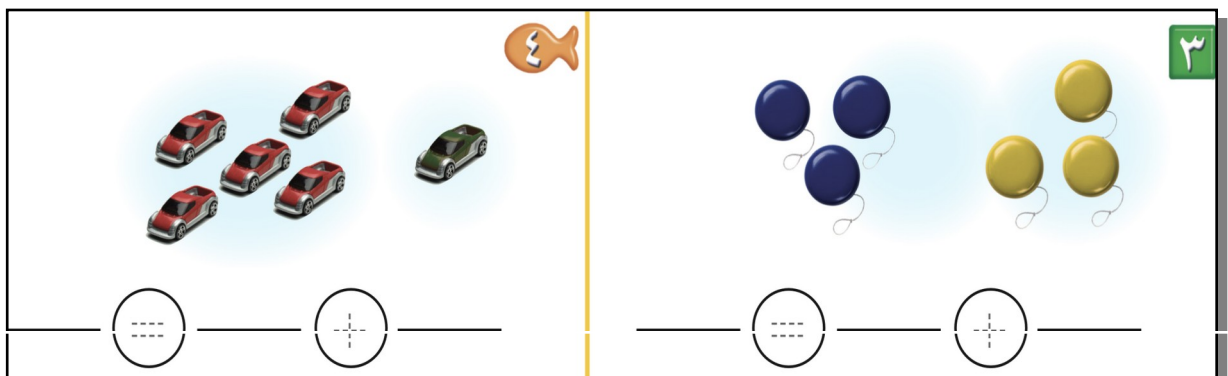


1

جزء 	جزء 
١	٢
الكل	
	

.....

2





أثق بـ **حُكْم** صغيراتي ...

17

15

2 - أعد الأشكال واكتب العدد :



.....

.....

3 - أعد ثم أحوط العدد الأكبر :



4 - اكتب جملة الجمع المناسبة :



$$\underline{\quad} = 4 + 3$$



$$\underline{\quad} = 2 + 3$$

5 - أوجد ناتج الجمع :

$$4 + 3$$

$$\dots\dots\dots = 2 + 2$$




$$\dots\dots\dots =$$

$$1 + 8$$

$$\dots\dots\dots = 5 + 0$$

$$\dots\dots\dots =$$

6 - كون العدد 6 باستخدام الألوان :


٦ = — + —	
٦ = — + —	
٦ = — + —	

7 - كون العدد 12 ثم اكتب العبارة :

$$12 = \text{—} + \text{—}$$

8 - اكتب عبارة العدد :



	<input type="text"/>	+	<input type="text"/>
	<input type="text"/>		<input type="text"/>
	<hr/>		
	<input type="text"/>		

$$\text{—} = \text{—} + \text{—}$$

9 - أعد 



انتهت الأسئلة

مع تمنياتنا لكم بالتوفيق والنجاح
تم العمل من قبل موقع منهجي