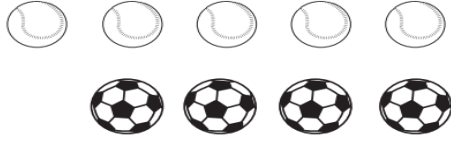


١- حوط العناصر المماثلة للشكل الموجود داخل الإطار




٢- صل بين عناصر المجموعتين المتقابلتين



٥- ضع خطأ تحت الولد



٤- ارسم دائرة فوق القرد




٦- حوط الحيوان الذي سيصل للماء قبل الآخرين




٧- اختر الشكل التالي في النمط




٨- ضع علامة x على السمكة التي في الوسط



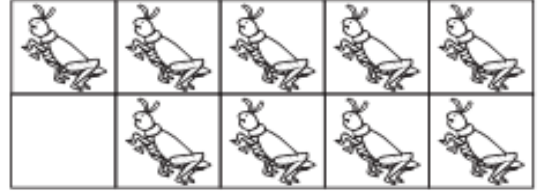
٩- حوط القطة الثانية




١٠- اختر الرقم المناسب لعدد الأشياء في الصورة



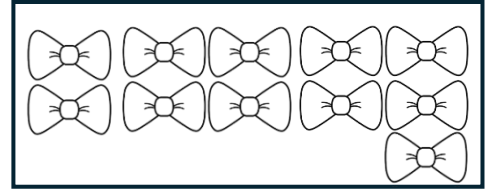
٨ ٩ ١٠



٨ ٩ ٧



١١ ١٨ ١٥



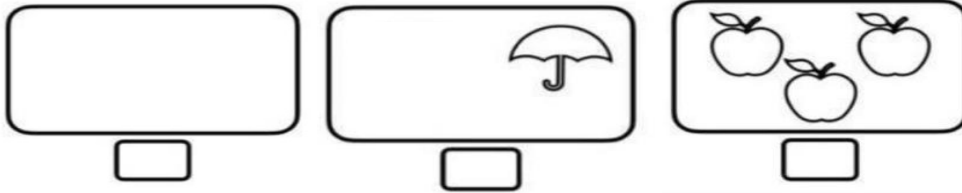
١١ ١٤ ١٧

١١- اختر ناتج الجمع


$5 + 5 =$		
٨	٧	١٠

$3 + 1 =$		
٦	٤	٢

١٢- عد الأشياء التي في الصورة واكتب عددها في المربع




١٣- ارسم كرات في الكيس بنفس العدد الموجود في المربعات




٢٠

١- اكتب جملة الجمع التي تمثل الصور التالية



+
=



٢- اكتب ناتج الجمع



$$\square = 3 + \square$$

$$\square = \square + \square$$

٣- اكمل كتابة الأعداد التالية بالترتيب

٢٠		١٨		١٦		١٤		١٢		١٠		٨		٦		٤		٢		٠
----	--	----	--	----	--	----	--	----	--	----	--	---	--	---	--	---	--	---	--	---

انتهت الأسئلة

بالتوفيق