


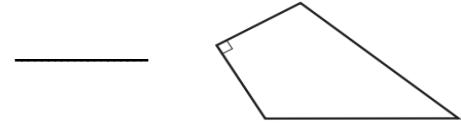
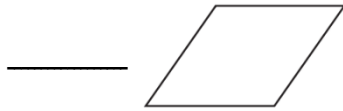


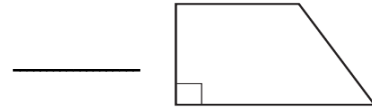
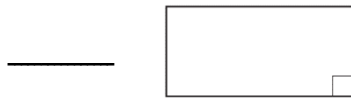
س ١ / صل العبارة الصحيحة من العمود (أ) مايناسبه من الشكل الرباعي من العمود (ب)

صفاته	الشكل الرباعي
فيه ضلعان فقط متوازيان	يسمى..... 
جميع زواياه قائمة	يسمى..... 
كل ضلعين متقابلين متوازيان ومتطابقان	يسمى..... 


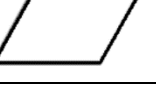

س ٢ / كم عدد الزوايا المنفرجة في الشكل التالي:



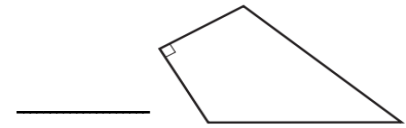
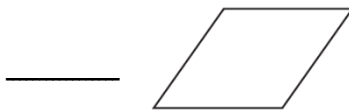
س ٣ / كم عدد الزوايا الحادة في الشكل التالي :



س ١ / صل العبارة الصحيحة من العمود (أ) مايناسبه من الشكل الرباعي من العمود (ب)

صفاته	الشكل الرباعي
فيه ضلعان فقط متوازيان	يسمى..... 
جميع زواياه قائمة	يسمى..... 
كل ضلعين متقابلين متوازيان ومتطابقان	يسمى..... 

س ٢ / كم عدد الزوايا المنفرجة في الشكل التالي :



س ٣ / كم عدد الزوايا الحادة في الشكل التالي :

