

نموذج إجابة

المجموع الكلي		المملكة العربية السعودية وزارة التعليم الإدارة العامة للتعليم بمنطقة
		مدرسة /
٤٠		
اختبار مادة العلوم (الدور الأول) الفصل الدراسي الأول للعام الدراسي ١٤٤٥ هـ		

المادة	العلوم	الصف	الثالث
اليوم	التاريخ	زمن الاجابة	ساعة ونصف
اسم الطالب/ة			
رقم الجلوس	()		

رقم السؤال	الدرجة المستحقة		اسم المصحح / ة	اسم المراجع / ة	اسم المدقق / ة
	الدرجة رقماً	الدرجة كتابة			
السؤال الأول					
السؤال الثاني					
السؤال الثالث					
المجموع					

يتبع



السؤال الأول :-

١٥

ما المصطلح العلمي المناسب للعبارات التالية :-

(التكيف , الموطن , البذرة , التحول , البناء الضوئي)

- ١- (البناء الضوئي.....) عملية تصنع فيها النباتات غذاؤها .
- ٢- (.....التحول.....) سلسلة من التغيرات يمر بها المخلوق الحي في نموه .
- ٣- (.....البذرة.....) تركيب يمكن أن ينبت لينمو ويصبح نبات جديد .
- ٤- (.....الموطن.....) مكان يعيش فيه المخلوق الحي .
- ٥- (.....التكيف.....) سلوك أو تركيب يساعد المخلوق الحي على البقاء .

نختار الإجابة الصحيحة فيما يلي :-

١- أي مما يلي يعتبر مخلوق حي .	٢- من أنواع المحلات .
أ- الرمل	أ- الأسد
ب - النبات ✓	ب - البكتريا والديدان ✓
ج - الهواء	ج - الفراشة
٣- ينتج المخلوق الحي أفراد من نوعه .	٤- إدخال مواد ضارة إلى البيئة .
أ- الحركة	أ- الانقراض
ب - التكاثر ✓	ب - التلوث ✓
ج - النمو	ج - التدوير
٥- تغير يحدثه الإنسان في البيئة .	٦- يسمي أول مخلوق حي في السلسلة الغذائية .
أ- الزلازل	أ- المحلل
ب - الحرائق ✓	ب - المنتج ✓
ج - النمو	ج - المستهلك
٧- تكيفات الحيوانات الصحراوية .	٨- استخدام الشيء أكثر من مرة .
أ- السباحة	أ- الاستهلاك
ب - الهروب	ب - الترشيح
ج - النشاط ليلاً ✓	ج - إعادة استخدام ✓
٩- الحيوان الذي يصطاد غيره .	١٠- مورد يحتاجه المخلوق الحي .
أ- فريسه	أ- الهجرة
ب - مفترس ✓	ب - الماء ✓
ج - محلل	ج - الاختباء

السؤال الثاني :-

١٥

ما هي أجزاء النبات التي تقوم بالوظائف التالية :-



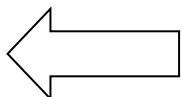
الوظيفة	جزء النبات
صنع الغذاء	الورقة
نقل الماء والأملاح	الساق
تثبيت النبات في التربة	الجزر

نضع علامة ✓ او ✗ امام العبارات التالية:



البرمائيات والحشرات تبدأ دورة حياتها بالبيضة	✓
الجزء المذكر في الزهرة ينتج حبوب اللقاح	✓
تحتاج المخلوقات الحية لكي تعيش إلى صخور	✗
الخلايا صغيرة جداً لا يمكن رؤيتها بالعين المجردة	✓
يتكون النظام البيئي من مخلوقات حية وغير حية	✓
تحصل معظم المنتجات على الطاقة من الشمس	✓
التدوير وإعادة الأستخدام يضر البيئة	✗
يؤدي الصيد الجائر الى انقراض الحيوانات	✓
المخلوق الذي ينتج الغذاء يسمى منتج	✓
الثمار تركيب او جزء يحمل داخله البذور	✓
الشبكة الغذائية مجموعة من السلاسل الغذائية المترابطة	✓
من طرق تكيف حيوانات المحيط الهجرة	✓

يتبع




السؤال الثالث :-

ترتب السلسلة الغذائية التالية من (١ - ٤) :-



١٠



٤

١

٣

٢

مثال حسب ما هو مطلوب :-

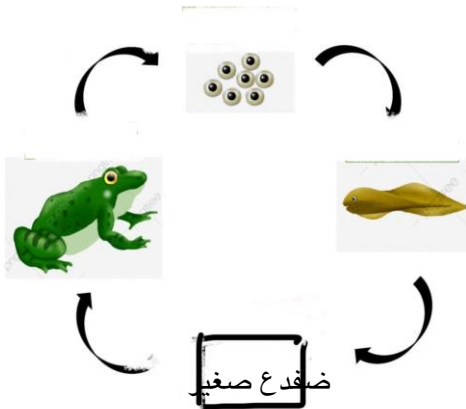


- ١- حيوان مستهلك ← الأرنب
- ٢- من الكوارث الطبيعية ← الزلازل والبراكين
- ٣- من موارد البيئة ← الماء والغذاء والهواء
- ٤- تكيف تركيبى ← السنام في الجمل واللون والشفة المشقوقة والفرو في الدب
- ٥- حيوان مهدد بالانقراض ← غزال البريم وطيء الجبارى

في الشكل التالي أي مرحلة من نمو الضفدع مفقود ؟



ضفدع صغير



أنتهت الاسئلة ... بالتوفيق

سكره الشمري

