

الصف: رابع ابتدائي
اليوم:
التاريخ: / / ١٤٤٤ هـ
الزمن: ساعة ونصف فقط



المملكة العربية السعودية
وزارة التعليم
إدارة تعليم منطقة تبوك

اختبار نهاية الفصل الدراسي الثاني (الدور الأول)

مادة **العلوم** للصف الرابع ابتدائي

للعام الدراسي ١٤٤٤ هـ

اسم الطالبة :
رقم الجلوس :

رقم السؤال	الدرجة رقما	الدرجة كتابة	المصححة	المراجعة	المدققة
السؤال الأول					
السؤال الثاني					
السؤال الثالث					

درجة الاختبار النهائية : فقط لا غير من ٤٠ درجة



اعمل بجد في صمت .. ودع النجاح يحدث ضجيجاً

السؤال الأول:

أ- اختاري الإجابة الصحيحة في كلاً مما يلي:

١- درجة حرارة جسم الانسان الطبيعية هي:							
أ	٣٩	ب	٣٧	ج	١٧	د	٢٩
٢- المصدر الرئيسي للطاقة في اجسامنا:							
أ	الاملاح المعدنية	ب	الفيتامينات	ج	البروتينات	د	الكربوهيدرات
٣- من الخصائص التي تساعدنا على التعرف على المعادن:							
أ	الشكل	ب	الوزن	ج	الحجم	د	البريق واللمعان
٤- قدرة الجسم على التصدي لمسببات الامراض تسمى....							
أ	الفيروسات	ب	المناعة	ج	المرض	د	العدوى
٥- معظم المياه المالحة على سطح الأرض توجد في:							
أ	الانهار	ب	البرك	ج	الجليديات	د	المحيطات
٦- الخلايا التي تهاجم مسببات المرض هي:							
أ	خلايا الدم الحمراء	ب	خلايا الدم البيضاء	ج	الصفائح الدموية	د	الخلايا العصبية
٧- المشروب الذي يمد الجسم بالكالسيوم لتقوية العظام هو:							
أ	القهوة	ب	الشاي	ج	الحليب	د	مشروب غازي
٨- يستغرق حدوثها ٢٤ ساعة :							
أ	دوران الأرض حول الشمس	ب	دوران القمر حول الارض	ج	دوران الأرض حول محورها	د	دوران القمر حول نفسه
٩- تعد الكلاب والفئران والطيور والبعوض نواقل:							
أ	صناعية	ب	طبيعية	ج	حيوية	د	لا حيوية
١٠- أكبر الكواكب في المجموعة الشمسية:							
أ	المريخ	ب	المشتري	ج	زحل	د	عطارد

السؤال الثاني:

أ- صنفى الامراض التالية الى امراض معدية وامراض غير معدية:



القدم الرياضي

مرض.....



الكوليرا

مرض.....



فايروس كورونا

مرض.....



السننة

مرض.....

ب- صنفى المجموعات الغذائية التالية:

(الكربوهيدرات - البروتينات - الدهون - الفيتامينات)



.....



.....



.....





.....

ج- أكمل الفراغات التالية:

يمثل الشكل التالي:

.....



.....

السؤال الثالث:

أ- ضعي المصطلحات التالية في مكانها المناسب:

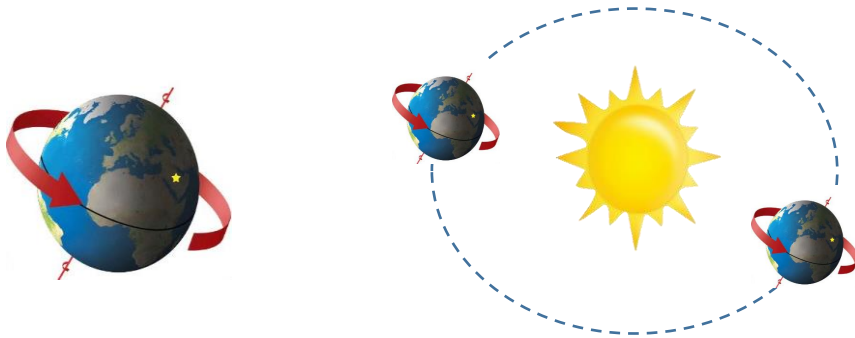
(النجم - الصحة - المعدن - المرض)

- ١- (.....) حالة غير طبيعية تؤثر على جسم المخلوق الحي.
 ٢- (.....) مادة طبيعية غير حية تشكل الصخور.
 ٣- (.....) كرة من الغازات الساخنة ينبعث منها الضوء والحرارة.
 ٤- (.....) هي اكتمال السلامة جسدياً وعقلياً ونفسياً

ب- ضعي علامة (✓) او (✗) امام العبارات التالية:

١	من العادات الصحية الإكثار من تناول السكريات.
٢	في النظام الشمسي خمسة كواكب.
٣	الصخور النارية تتكون من صخور أخرى بفعل الضغط والحرارة.
٤	المريخ له اقصر مدار حول الشمس.
٥	الامراض الغير معدية تنتقل من مخلوق الى اخر.
٦	القمر ليس له غلاف جوي.
٧	البئر ثقب يُحفر في الأرض للوصول الى المياه الجوفية.
٨	عند تناول كمية متنوعة ومناسبة من الأطعمة يومياً فان الغذاء يصبح متوازناً
٩	الفيروسات مخلوقات مجهرية ضارة بجميع أنواعها.
١٠	الري هو عملية توصيل الماء الى التربة الزراعية.

ج: أكمل الفراغات التالية:



دورة الأرض.....

تستغرق.....

ينتج عنها.....

دورة الأرض.....

تستغرق.....

ينتج عنها.....

انتهت الاسئلة

دعواتي لكن بالتوفيق والنجاح

العلمة: أمل الزهراني