

المملكة العربية السعودية

وزارة التعليم

إدارة التعليم بمحافظات عسير

مدرسة النعمان بن بشير الابتدائية

الدرجة: _____

٢٠

توقيع ولي الأمر :



اختبار تجريبي الفترة الثانية من الفصل الدراسي الثالث ١٤٤٤ هـ

الصف: الثالث الابتدائي

المادة: رياضيات

اسم الطالب:

السؤال الأول (أ): اكتب أسماء المجسمات التالية:



.....



.....



.....

السؤال الأول (ب): صف الجسم التالي من حيث عدد الأوجه، والأحرف، والرؤوس.



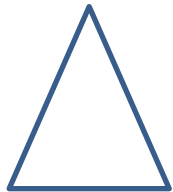
رؤوس

حرفا

أوجه

السؤال الثاني (أ): سمّ الشكلين المستويين التاليين، ثم حدّد عدد الأضلاع وعدد الزوايا لكل واحد منهما.

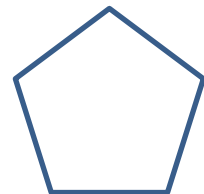
اسم الشكل:



عدد الأضلاع:

عدد الزوايا:

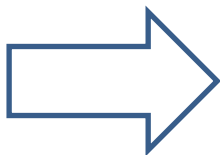
اسم الشكل:




عدد الأضلاع:

عدد الزوايا:

السؤال الثاني (ب): كم عدد محاور التماثل للشكلين التاليين، ثم ارسمها إن وجدت:



.....



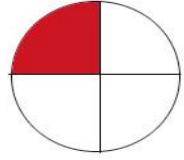
.....

السؤال الثالث (أ): ارسم صورة تمثل كل كسر مما يلي:

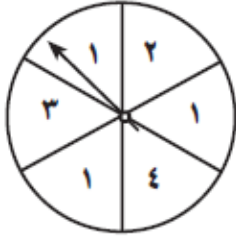
$\frac{5}{6}$

$\frac{2}{3}$

السؤال الثالث (ب): اكتب الكسر الذي يمثله الجزء المظلل في الأشكال التالية:

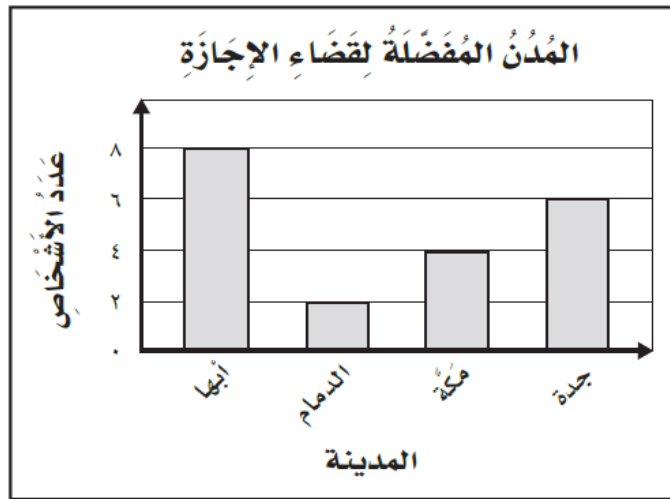


السؤال الرابع (أ): ما احتمال وقوف المؤشر على الأعداد المطلوبة في القرص التالي مستعملا (أكيد، أكثر احتمالا، أقل احتمالا، مستحيل):



- وقوف المؤشر على عدد أقل من ٥
- وقوف المؤشر على الرقم ٢
- وقوف المؤشر على الرقم ٦

السؤال الرابع (ب): استعمل التمثيل التالي لأجيب عن الأسئلة:



- ١- ما المدينة الأكثر تفضيلا؟
- ٢- ما الفرق بين الذين يفضلون أبها والذين يفضلون الدمام؟
- ٣- ما عدد الأشخاص الذين يفضلون جدة؟

انتهت الأسئلة.. دعواتي لكم بالتوفيق والنجاح الدائم

معلم المادة: حسن سالم القرني