

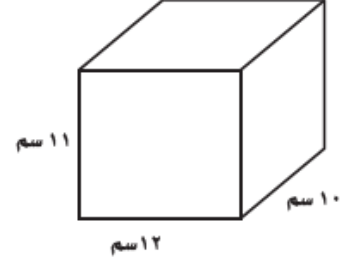
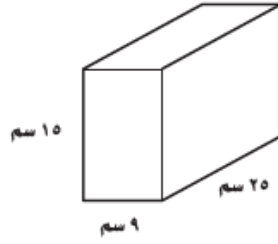
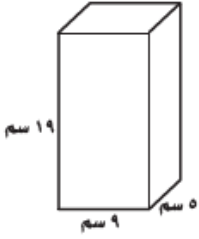
ورقة تدريبات: حجم المنشور

التاريخ / / ١٤٤٤ هـ

الصف : الخامس

الاسم :

أوجد حجم كل منشور مما يأتي:



٤ ما حجم منشور مساحة قاعدته ٥٠ سنتيمترًا مربعًا، وارتفاعه ١٢ سم؟

٥ صنع رياض صندوقًا خشبيًا مساحة قاعدته ٥٠ سنتيمترًا مربعًا، وارتفاعه ٣٥ سم. أوجد حجم الصندوق.