

أوراق عمل مادة العلوم للصف الثالث الابتدائي - الفصل الدراسي الثالث

اسم الطالب : الصف : ٣ /

• ضع الكلمة المناسبة في الفراغ المناسب فيما يلي :-

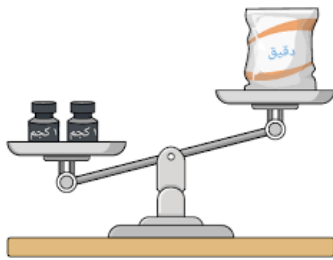
المادة الحجم الكتلة الخاصية

١. يحدد الحيز الذي يشغله جسم ما .
٢. هي ما يميز المادة عن غيرها من المواد .
٣. أي شي له حجم وكتلة .
٤. تقيس مقدار ما في الجسم من مادة .

• وصل بين الأداة ووظيفتها فيما يلي :



الكتلة



الحجم



الطول

أوراق عمل مادة العلوم للصف الثالث الابتدائي - الفصل الدراسي الثالث

اسم الطالب : الصف : ٣ /

اسم المادة:

الحالة:

اسم المادة:

الحالة:

اسم المادة:

الحالة:

سمي حالة المواد الآتية:

أعطي أمثلة لمواد في الحالات الآتية :

أمثلة لمواد غازية

أمثلة لمواد سائلة

أمثلة لمواد صلبة

أوراق عمل مادة العلوم للصف الثالث الابتدائي - الفصل الدراسي الثالث

اسم الطالب : الصف : ٣ /

• ضع الكلمة المناسبة في الفراغ المناسب فيما يلي :-

التغير الفيزيائي المخلوط المحلول التغير الكيميائي

١. خليط يتكون من مادتين أو أكثر .
٢. نوع من أنواع المخاليط تمتزج فيه مادتين أو أكثر امتزاجاً تاماً .
٣. تغير في مظهر الجسم و شكله مع بقاء المادة المكونة الأساسية .
٤. تغير ينتج عنه مواد جديدة تختلف في خواصها عن المواد الأصلية

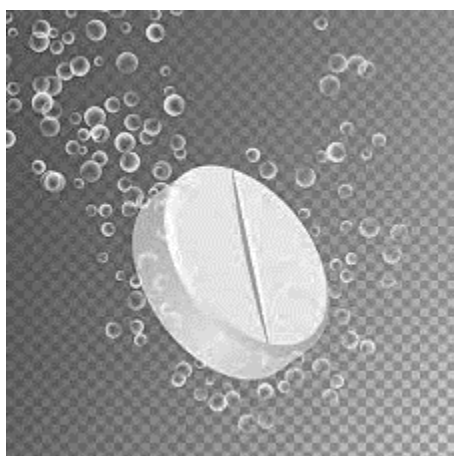
• أيهما أعلى تركيز ؟



أوراق عمل مادة العلوم للصف الثالث الابتدائي - الفصل الدراسي الثالث

اسم الطالب : الصف : ٣ /

- أصل الصورة فيما يلي بما يناسبها من دلائل حدوث التغير الكيميائي :-



الضوء و الحرارة



تكون الغاز



تغير اللون

أوراق عمل مادة العلوم للصف الثالث الابتدائي - الفصل الدراسي الثالث

اسم الطالب :

الصف : ٣ /

❖ أصل بين الصورة و العبارة المناسبة :-



يبذل
شغلاً



يقوم بمجهود
دون بذل
شغل

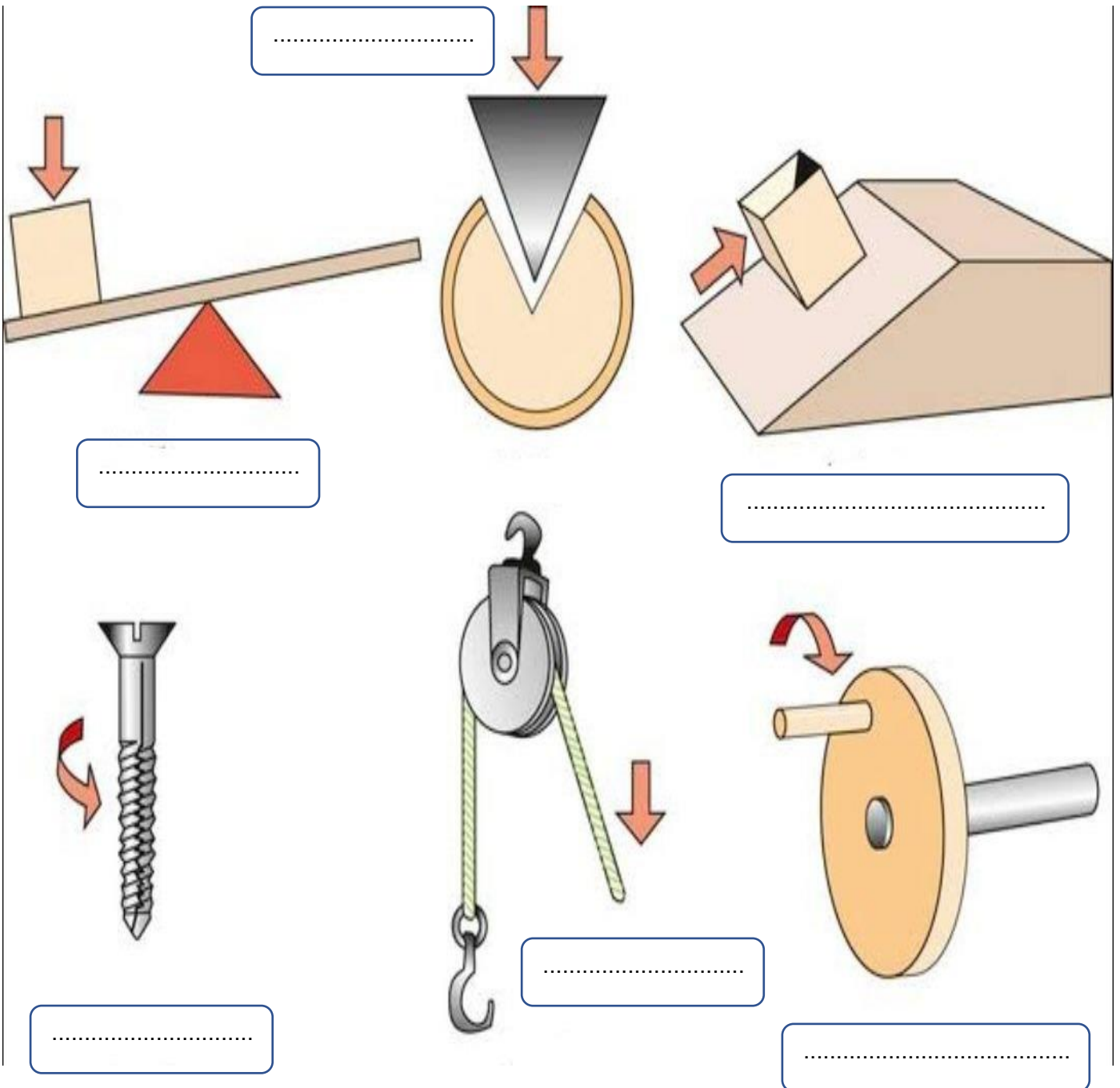


أوراق عمل مادة العلوم للصف الثالث الابتدائي - الفصل الدراسي الثالث

اسم الطالب : الصف : ٣ /

❖ ضع اسم كل آلة من الآلات البسيطة التالية أمام الصورة المناسبة :-

الإسفين البكرة العجلة و المحور الرافعة السطح المائل البرغي



أوراق عمل مادة العلوم للصف الثالث الابتدائي - الفصل الدراسي الثالث

اسم الطالب : الصف : ٣ /

• ضع الكلمة المناسبة في الفراغ المناسب فيما يلي :-

الاهتزاز الصوت علو الصوت درجة الصوت الأذن

١. خاصية تفرق بين الصوت الحاد و الغليظ وتعتمد على عدد الاهتزازات .
٢. شكل من أشكال الطاقة ينتج عن اهتزاز الأجسام .
٣. حركة سريعة ذهاباً و إياباً .
٤. خاصية تفرق بها بين الأصوات العالية و الأصوات المنخفضة .
٥. هي عضو السمع في الإنسان .



أوراق عمل مادة العلوم للصف الثالث الابتدائي - الفصل الدراسي الثالث

اسم الطالب : الصف : ٣ /

❖ أصل بين الصورة و العبارة المناسبة فيما يلي : -



جسم شفاف



انكسار الضوء



جسم شبه شفاف

منشور زجاجي



جسم معتم



انعكاس الضوء



● ضع الكلمة المناسبة في الفراغ المناسب فيما يلي :-

الظل

الضوء

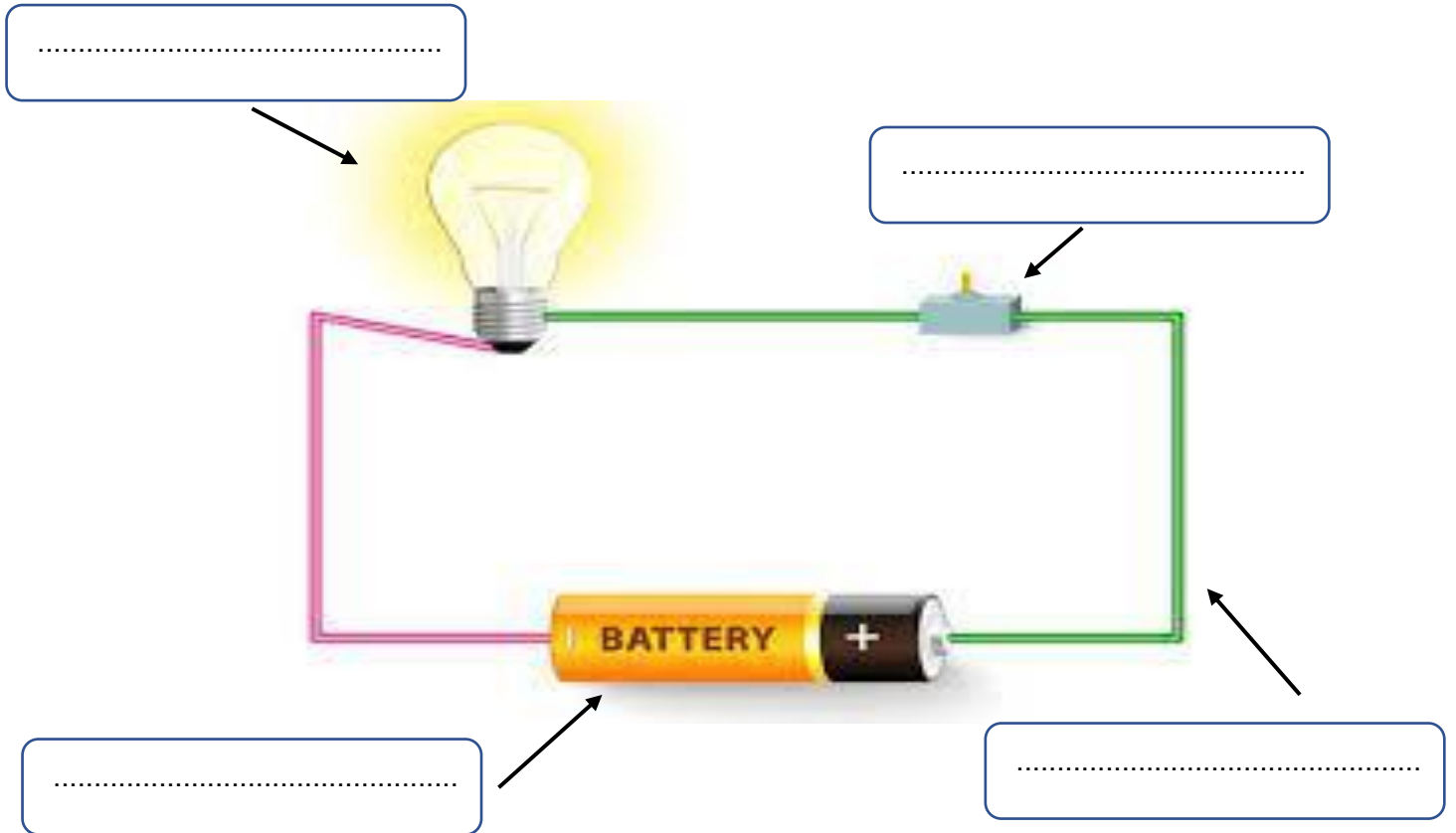
١. منطقة معتمة تتشكل عند حجب الضوء عنها .
٢. شكل من أشكال الطاقة نحس به بالعين .

أوراق عمل مادة العلوم للصف الثالث الابتدائي - الفصل الدراسي الثالث

اسم الطالب : الصف : ٣ /

❖ ضع الكلمات التالية في المكان المناسب :-

أسلاك توصيل بطارية مفتاح كهربائي مصباح كهربائي



❖ ضع علامة ✓ أمام العبارة الصحيحة وعلامة x أمام العبارة الخاطئة فيما يلي :-

١. الكهرباء الساكنة هي الشحنات المتكونة نتيجة احتكاك بين جسمين . ()
٢. البرق مثال على الكهرباء المتحركة . ()

أوراق عمل مادة العلوم للصف الثالث الابتدائي - الفصل الدراسي الثالث

اسم الطالب : الصف : ٣ /