

تم تحميل وعرض المادة من



موقع مادتي هو موقع تعليمي يعمل على مساعدة المعلمين والطلاب وأولياء الأمور في تقديم حلول الكتب المدرسية والاختبارات وشرح الدروس والملاحظات والتحاير وتوزيع المنهج لكل المراحل الدراسية بشكل واضح وسهل مجاناً بتصفح وعرض مباشر أونلاين وتحميل على موقع مادتي

حمل تطبيق مادتي ليصلك كل جديد



اختبار الفترة الثانية للفصل الدراسي الأول للعام 1447هـ للصف الثاني لمادة العلوم

الاسم: الصف 2 /

السؤال الأول : اختار الإجابة الصحيحة :

1- موطن حار وجاف يسمى :		
الصحراء	المحيط	الغابة
2- من حيوانات الصحراء الحارة :		
الدب القطبي	الجمال	السمكة
3- " المكان الذي تعيش فيه المخلوقات الحية وتجد غذائها "		
الفريسة	المفترس	الموطن
4- حيوان يصطاد حيوانات أخرى ليتغذى عليها يسمى :		
المفترس	البيئة	الموطن
5- موطن الدب القطبي هو :		
حار وجاف	بارد وثلوج	عشبي رطب
6- السنجاب والغزال ونقار الخشب من حيوانات :		
المحيط	الصحراء	الغابة
7- " من أشكال اليابسة "		
الجبال	الانهار	المحيطات
8- موطن تتساقط فيه الأمطار بشكل يومي تقريباً:		
القطب المتجمد	الغابات المطيرة	الصحراء
9- الأمطار من أمثلة الماء :		
المالح	السطحي	العذب
10- هو أرض منخفضة واقعة بين ارتفاعين :		
الوادي	الجبل	التل
11- هو تجمع كبير وعميق من المياه المالحة:		
النهر	المحيط	الوادي
12- ترتيب يوضح تتابع الذي يحصل عليه المخلوق الحي على غذائه :		
مفترس	الفريسة	السلسلة الغذائية
13- في السلسلة الغذائية التالية يتغذا الأرنب على :		
		
الجزر	الذئب	الاسد

السؤال الثاني : اسمي المواطن التالية (الغابة ، الصحراء ، القطب المتجمد) :



1-.....



2-.....



3-.....

السؤال الثالث: ارتب السلسلة الغذائية التالية :



تمنيتي للجميع بدوام التفوق والنجاح

معلمات المادة: سارة مباركي & رانيا الحربي

نموذج الإجابة

اختبار الفترة الثانية للفصل الدراسي الأول للعام 1447هـ للصف الثاني لمادة العلوم

الاسم: الصف 2 /

السؤال الأول : اختر الإجابة الصحيحة :

1- موطن حار وجاف يسمى :	الصحراء	المحيط	الغابة
2- من حيوانات الصحراء الحارة :	الدب القطبي	الجمال	السمكة
3- " المكان الذي تعيش فيه المخلوقات الحية وتجد غذائها "	الفريسة	المفترس	الموطن
4- حيوان يصطاد حيوانات أخرى ليتغذى عليها يسمى :	المفترس	البيئة	الموطن
5- موطن الدب القطبي هو :	حار وجاف	بارد وثلوج	عشبي رطب
6- السنجاب والغزال ونقار الخشب من حيوانات :	المحيط	الصحراء	الغابة
7- " من أشكال اليابسة "	الجبال	الانهار	المحيطات
8- موطن تتساقط فيه الأمطار بشكل يومي تقريباً:	القطب المتجمد	الغابات المطيرة	الصحراء
9- الأمطار من أمثلة الماء :	المالح	السطحي	العذب
10- هو أرض منخفضة واقعة بين ارتفاعين :	الوادي	الجبيل	التل
11- هو تجمع كبير وعميق من المياه المالحة:	النهر	المحيط	الوادي
12- ترتيب يوضح تتابع الذي يحصل عليه المخلوق الحي على غذائه :	مفترس	الفريسة	السلسلة الغذائية
13- في السلسلة الغذائية التالية يتغذا الأرنب على :			
	الجزر	الذئب	الاسد

السؤال الثاني : اسمي المواطن التالية (الغابة ، الصحراء ، القطب المتجمد) :



القطب المتجمد

1-.....



الصحراء

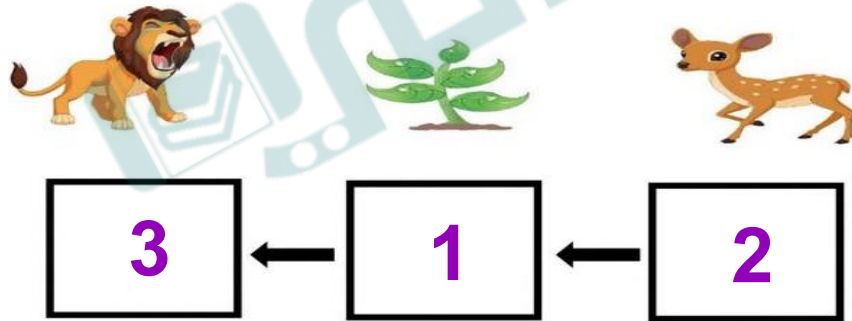
2-.....



الغابة

3-.....

السؤال الثالث: ارتب السلسلة الغذائية التالية :



تمنياتي للجميع بدوام التفوق والنجاح

٢٠

اختبار الفترة الثانية لمادة العلوم للصف الثاني الفصل الدراسي الأول ١٤٤٧ هـ

الصف:

اسم الطالب / :

(أ) نضع علامة (√) أمام العبارات الصحيحة وعلامة (X) أمام العبارات الخاطئة :

- (1) الموطن هو مكان تعيش فيه المخلوقات الحية . ()
- (2) تبدأ معظم سلاسل الغذاء بالشمس . ()
- (3) المخلوقات التي تعيش في الصحراء تحتاج الى كثير من الماء . ()
- (4) نباتات المنطقة القطبية صغيرة وقصيرة لتحتمي من الرياح . ()
- (5) للنباتات الصحراوية سيقان وأوراق تخزن الماء . ()
- (6) المفترس حيوان يصطاد حيوانات أخرى ليتغذى عليها . ()

ب (نرتب السلسلة الغذائية من (١ - ٤)) :



.....



.....



.....



.....

ج (صل المفردة العلمية بالعبارة المناسبة لها :

موطن جاف حار قليل الامطار

الغابة المطيرة

موطن تتساقط فيه الامطار كل يوم


الصحراء

الذي يصطاده الحيوان المفترس

الفريسة

(د) أي العبارات التالية تصف الموطن الذي توضحه الصورة ؟

أ- عشبي رطب ب بارد ثلج



تمنيتي لكم بالتوفيق والنجاح

مديرة المدرسة/ رانية الفاضل

معلمة المادة / أسرار الدوسري

 **موقع مادتاري**

نموذج الاجابة

المملكة العربية السعودية
وزارة التعليم
إدارة التعليم بمنطقة الرياض
مدارس براعم السعودية

٢٠

اختبار الفترة الثانية لمادة العلوم للصف الثاني الفصل الدراسي الأول ١٤٤٧ هـ

الصف:

اسم الطالب / :

(أ) نضع علامة (√) أمام العبارات الصحيحة وعلامة (X) أمام العبارات الخاطئة :

- (1) الموطن هو مكان تعيش فيه المخلوقات الحية . (✓)
- (2) تبدأ معظم سلاسل الغذاء بالشمس . (✓)
- (3) المخلوقات التي تعيش في الصحراء تحتاج الى كثير من الماء . (X)
- (4) نباتات المنطقة القطبية صغيرة وقصيرة لتحتمي من الرياح . (✓)
- (5) للنباتات الصحراوية سيقان وأوراق تخزن الماء . (✓)
- (6) المفترس حيوان يصطاد حيوانات أخرى ليتغذى عليها . (✓)

(ب) نرتب السلسلة الغذائية من (١ - ٤) :



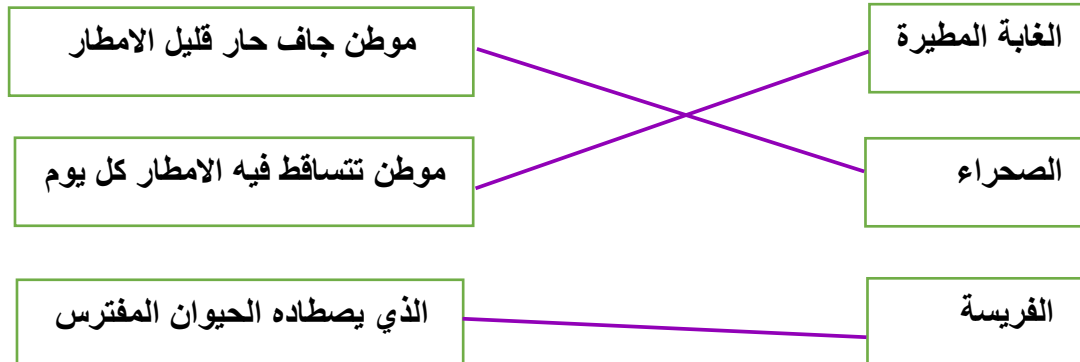
.....

.....

.....


.....

(ج) صل المفردة العلمية بالعبارة المناسبة لها:



(د) أي العبارات التالية تصف الموطن الذي توضحه الصورة ؟

أ- عشبي رطب ب بارد ثلج



تمنيتي لكم بالتوفيق والنجاح

مديرة المدرسة/ رانية الفاضل

معلمة المادة / أسرار الدوسري

موقع
مادنتري