

الصف الأول الابتدائي اكتشف

الفصل الدراسي الأول



٢٠٢١/٢٠٢٠

مقدمة الكتاب المدرسي

تشهد وزارة التربية والتعليم والتعليم الفني مرحلة فارقة من تاريخ التعليم في مصر، حيث انطلقت هذا العام إشارة البدء في التغيير الجذري لنظامنا التعليمي بدءاً من مرحلة رياض الأطفال حتى نهاية المرحلة الثانوية (تعليم ٢)، لتبدأ أولى ملامح هذا التغيير من سبتمبر ٢٠١٨ عبر تغيير مناهج مرحلة رياض الأطفال والصف الأول الابتدائي مع الاستمرار في التغيير تبعاً لصفوف الدراسة التالية حتى عام ٢٠٣٠.

تفخر وزارة التربية والتعليم والتعليم الفني بأن تقدم هذه السلسلة التعليمية الجديدة، ولقد كان هذا العمل نتاجاً للكثير من الدراسات والمقارنات والتفكير العميق والتعاون مع الكثير من خبرات علماء التربية في المؤسسات الوطنية والعالمية لكي نصوغ رؤيتنا في إطار قومي إبداعي ومواد تعليمية ورقية ورقمية فعالة.

تتقدم وزارة التربية والتعليم والتعليم الفني بكل الشكر والتقدير لمركز تطوير المناهج والمواد التعليمية، كما تتقدم بالشكر لمستشاري الوزير للمناهج والطفولة المبكرة، وكذلك تخص بالشكر والعرفان مؤسسة ديسكفري التعليمية، مؤسسة نهضة مصر، مؤسسة لونجمان مصر، منظمة اليونيسيف منظمة اليونسكو، خبراء التعليم في البنك الدولي، خبراء التعليم من المملكة المتحدة وأساتذة كليات التربية المصرية لمشاركتهم الفاعلة في إعداد إطار المناهج الوطنية بمصر، وأخيراً أشكر كل فرد بقطاعات وزارة التربية والتعليم، وكذلك مديري عموم المواد الدراسية الذين أسهموا في إثراء هذا العمل.

إن تغيير نظامنا التعليمي لم يكن ممكناً دون الإيمان العميق للقيادة السياسية المصرية بضرورة التغيير، فالإصلاح الشامل للتعليم في مصر هو جزء أصيل من رؤية السيد الرئيس عبدالفتاح السيسي لإعادة بناء المواطن المصري، ولقد تم تفعيل تلك الرؤية بالتنسيق الكامل مع السادة وزراء التعليم العالي والبحث العلمي والثقافة والشباب والرياضة.

إن نظام تعليم مصر الجديد هو جزء من مجهود وطني كبير ومتواصل للارتقاء بمصر إلى مصاف الدول المتقدمة لضمان مستقبل عظيم لجميع مواطنيها.

كلمة السيد وزير التربية والتعليم والتعليم الفني

يسعدني أن أشارككم هذه اللحظة التاريخية في عمر مصرنا الحبيبة بإطلاق نظام التعليم والتعلم المصري الجديد، والذي تم تصميمه لبناء إنسان مصري منتم لوطنه ولأمته العربية وقارته الإفريقية، مبتكر، مبدع، يفهم ويتقبل الاختلاف، متمكن من المعرفة والمهارات الحياتية، قادر على التعلم مدى الحياة وقادر على المنافسة العالمية.

لقد آثرت الدولة المصرية أن تستثمر في أبنائها عن طريق بناء نظام تعليم عصري بمقاييس جودة عالية؛ كي ينعم أبنائنا وأحفادنا بمستقبل أفضل؛ وكي ينقلوا وطنهم «مصر» إلى مصاف الدول الكبرى في المستقبل القريب.

إن تحقيق الحلم المصري ببناء الإنسان وصياغة الشخصية المصرية هو مسؤولية مشتركة بيننا جميعاً من مؤسسات الدولة أجمعها وأولياء الأمور وأسرة التربية والتعليم وأساتذة الجامعات ومنظومة الإعلام المصري، وهنا أود أن أخص بالذكر السادة المعلمين الأجلاء الذين يمثلون القدوة والمثل لأبنائنا ويقومون بالعمل الدؤوب لإنجاح هذا المشروع القومي.

إنني أناشدكم جميعاً أن يعمل كل منا على أن يكون قدوةً صالحةً لأبنائنا وأن نتعاون جميعاً لبناء إنسان مصري قادر على استعادة الأمجاد المصرية وبناء الحضارة المصرية الجديدة.

خالص تمنياتي القلبية لأبنائنا بالتوفيق واحترامي وإجلالي لمعلمي مصر الأجلاء.

د. طارق جلال شوقي

وزير التربية والتعليم والتعليم الفني

الاسم: _____

المحتويات

المحور الأول: من أكون؟

١	الفصل الأول: اعرفنى
٢٣	الفصل الثانى: شجرة العائلة
٤١	الفصل الثالث: من نحن؟
٥٣	الفصل الرابع: مجتمعنا

المحور الثانى: العالم من حولي

٦٧	الفصل الأول: بيئتنا
٩٣	الفصل الثانى: تجول فى البيئة
١١٧	الفصل الثالث: زراعة الغذاء فى العالم من حولنا
١٤٣	الفصل الرابع: الاحتفالات فى العالم من حولنا

١٦١

كراس الرياضيات

من أكون؟

الفصل الأول: اعرفنى





صورتى



ارسم صورة لنفسك.


اسمى:



البصر



ارسم شيئاً تراه في الفصل.
اكتب اسم ذلك الشيء.



أنا أرى



أسرتي في الحديقة


ارسم دائرة حول الأخ والأخت. استكمل تلوين الصورة.



أسرتي



ارسم صورة تُظهر أفراد الأسرة وهم يستمتعون بوقتهم.



العائلة

الجدّة تقرأ كتاباً. ارسم دائرة حولها.
الخالة سارة تتحدث مع الأم. ارسم دائرة حول هذا الجزء بلون مختلف.
نبيل يلعب بلعبته الجديدة مع ابنة خالته. ارسم مربعاً حول هذا الجزء.




حواسنا الخمس



ارسم خطوطاً لتوصيل كل حاسة بعضو الجسم المسئول عنها.

الشم




التذوق



البصر



اللمس



السمع



تمثال نفرتيتي (١٣٧٠ - ١٣٣٠ ق م)

ما أوجه الشبه بينك وبين نفرتيتي؟
ما أوجه الاختلاف بينك وبين نفرتيتي؟



د. مجدي يعقوب

أجب عن الأسئلة التالية بمفردك أو مع زميلك.

ماذا ترى في هذه الصورة؟

ما الألوان التي تراها؟

ما الأجزاء التي يمكنك ذكر اسمها في الوجه؟





تعرف أصدقاء جد

الآن حانت الفرصة كي تتعرف ببعض الأصدقاء الجدد. ما أوجه التشابه بينهم وبينك؟ وما أوجه الاختلاف بينهم وبينك؟

مرحباً، اسمي كريم.
شعري قصير.
وأرتدي نظارة طبية.



مرحباً، اسمي منى.
عمرى سبع سنوات.
أحب أن أضفر شعري.



مرحباً، اسمي شريف.
عمرى ثمانى سنوات.
قميصي المفضل لونه برتقالى.




صورتي



ارسم صورة مختلفة لنفسك مستخدماً ما تعلمته اليوم

مرحباً، اسمي



هيا نتعارف أكثر



مرحبًا، اسمي نادية.
أعيش في مصر.
أسرتي من أسوان.
أحب لعب كرة القدم.


مرحبًا، اسمي يوسف.
عمري عشر سنوات.
أحب القراءة.
أحب ركوب الدراجة.



أشياء أحبها



ارسم ثلاثة من أشياءك المفضلة.

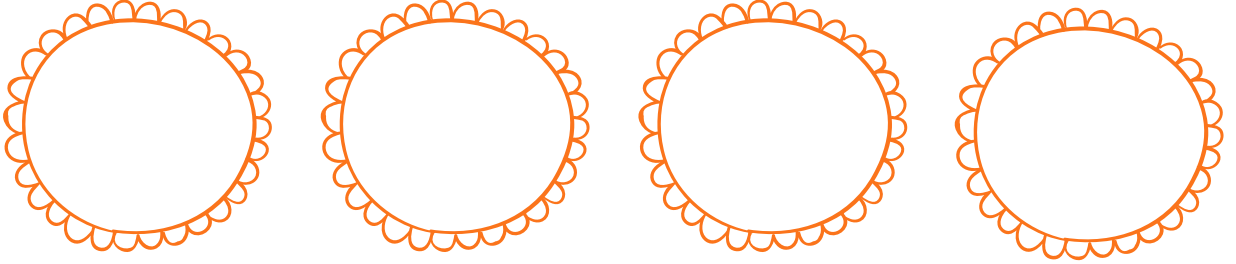




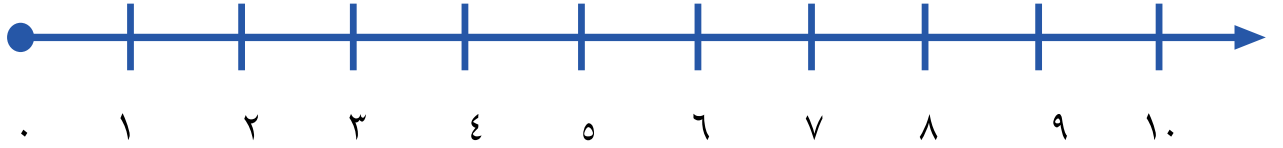
أنا أنمو



الصق صورك في مراحل عمرية مختلفة في الدوائر التالية،
اكتب الأعداد (٠-٣) أسفل الصور.




كم يبلغ عمرك في كل صورة؟
ارسم دائرة حول الأعمار الثلاثة على خط الأعداد.



ألبوم صوري

رتّب صورك من الأصغر سنّاً إلى الأكبر سنّاً.






اعرفنى



أفكارى:

ارسم صورة أو اكتب كلمة للإجابة عن أسئلة عن نفسك.





كتاب "اعرفنى"




اكتب اسمك كعنوان لكتاب « اعرفنى »:



كتاب "اعرفنى"




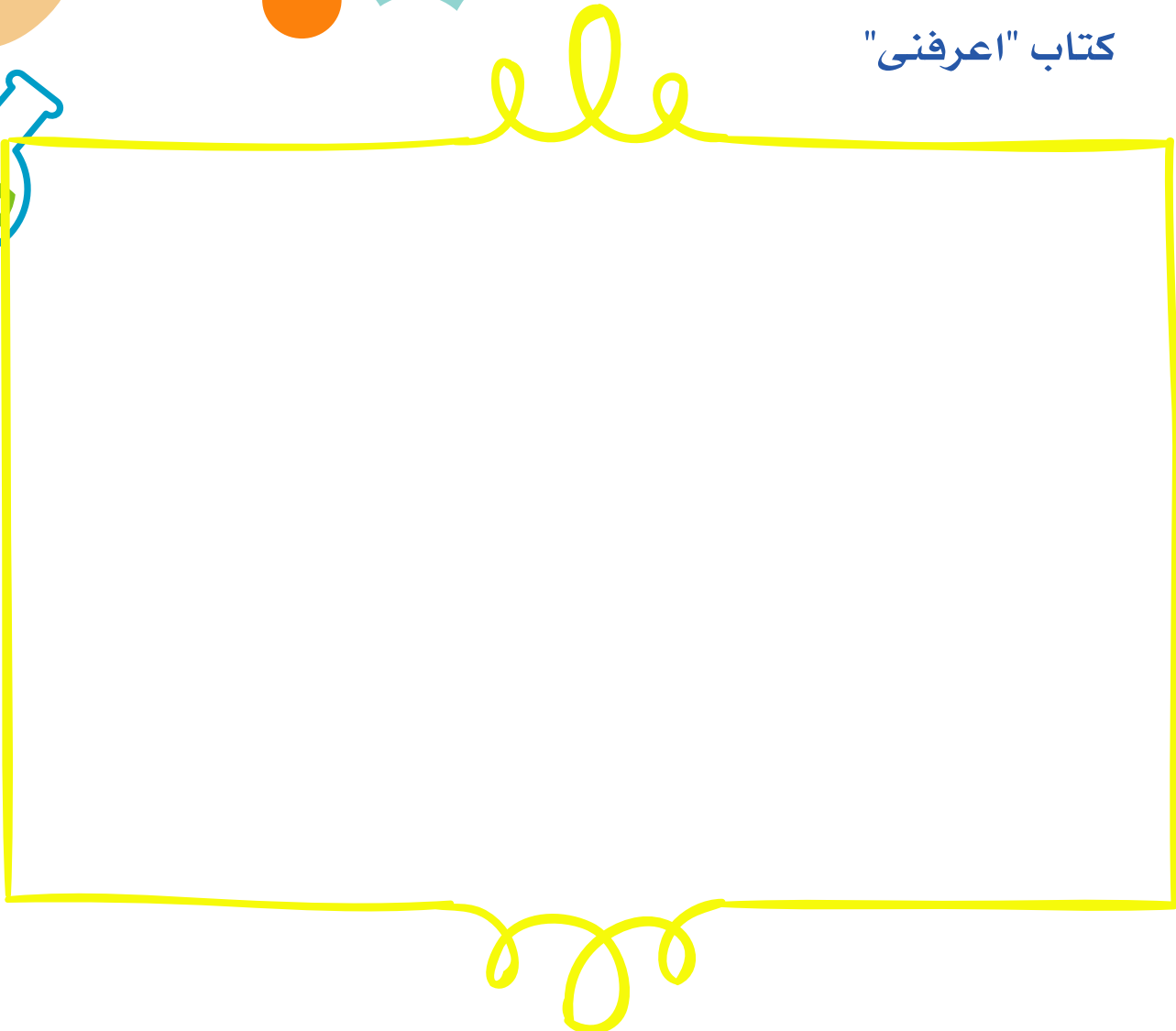
كتاب "اعرفنى"



Handwriting practice lines consisting of four sets of horizontal lines. Each set includes a solid blue top line, a dashed pink middle line, and a solid blue bottom line.




کتاب "اعرفنی"



صديقي




ارسم شيئاً واحداً تحبه فى أحد أصدقائك.



من أكون؟

الفصل الثاني: شجرة العائلة





احتفالات العائلة



ارسم صورة توضح التشابه بين عادات عائلتك وعائلة زميلك.



وأنا متشابهان.




رتب النظام اليومي



هذه الأنشطة اليومية ليست بالترتيب الصحيح. رتبها مستخدماً الأرقام ١-٢-٣-٤.

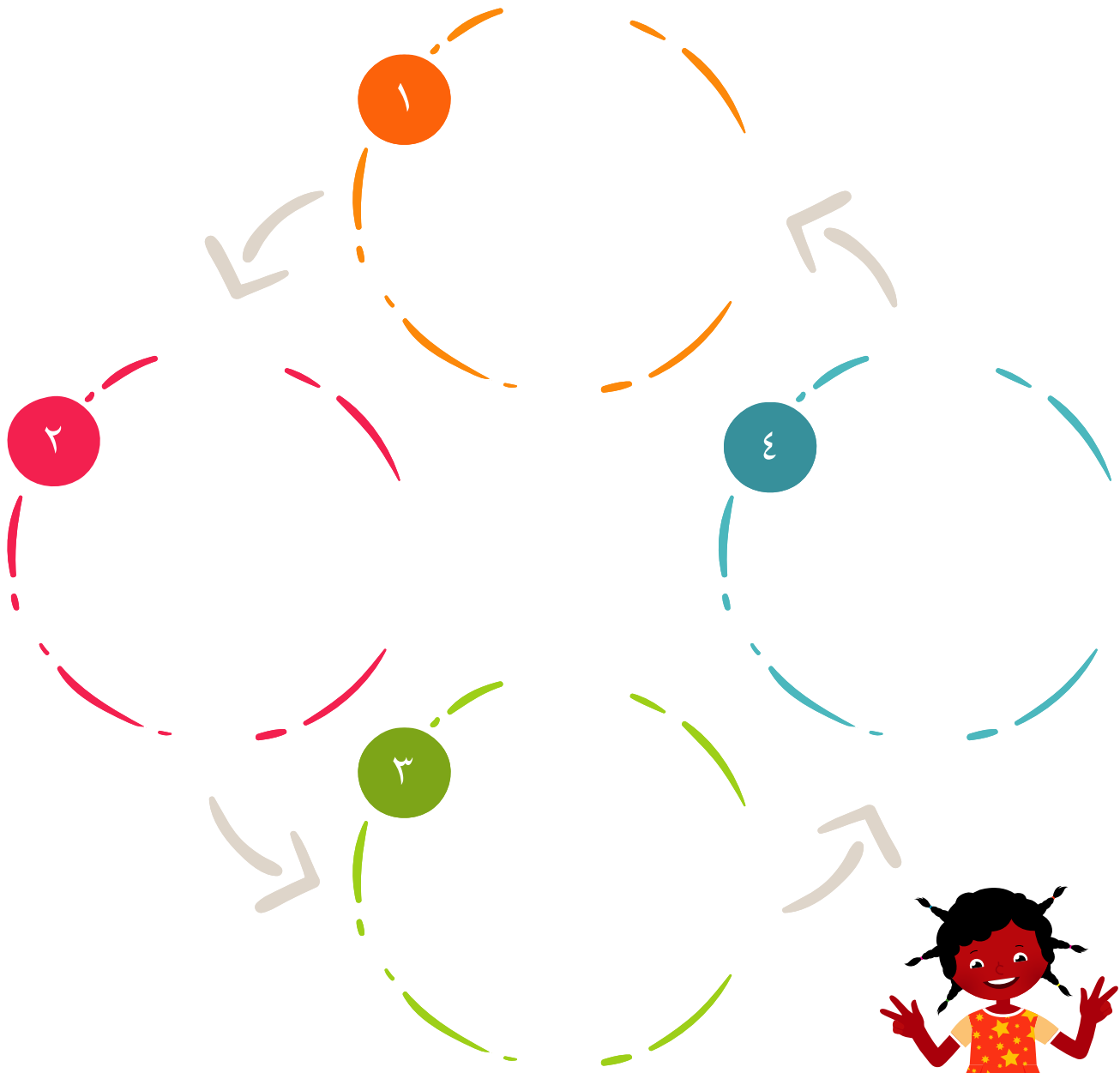




النظام اليومي




ارسم نظامك اليومي، بالترتيب الصحيح.



الكبار والصغار



صل بين الكبار وصغارهم.





مراحل حياة الإنسان



ادرس مراحل حياة الإنسان.

رضيع



طفل



مراهق






كبير




اكتشف الناقص.



استكمل مراحل الحياة.

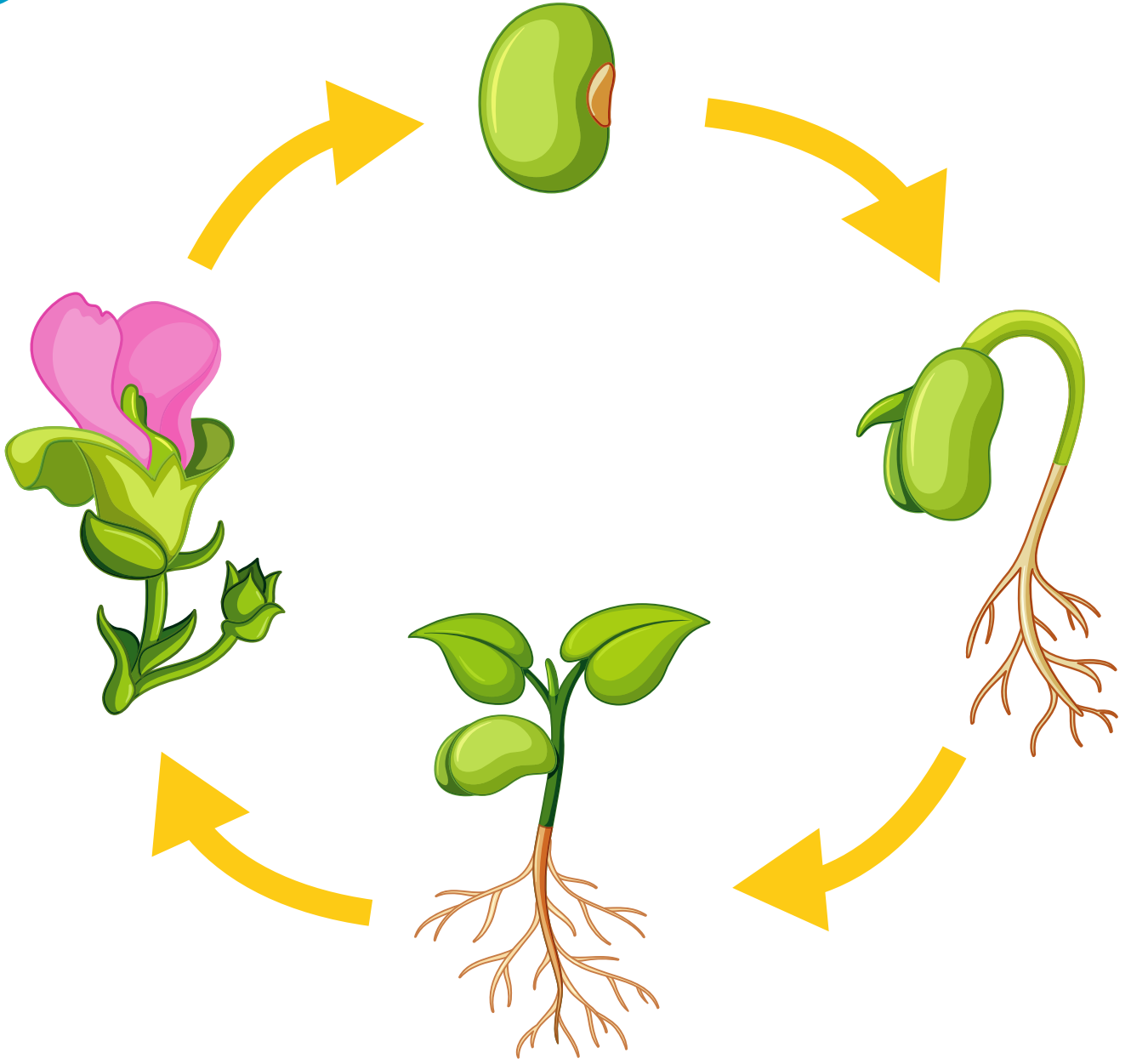




دورة حياة نبات




ادرس دورة حياة أحد النباتات.




مزج الألوان




ابتكر ألواناً جديدة مستخدماً الألوان الأساسية.



=




+




أزرق


أحمر



=




+




أصفر


أزرق



=





+




أصفر

أحمر



النباتات والألوان


ارسم نباتاً. مستخدماً الألوان الأساسية والألوان الجديدة التي ابتكرتها.



أسرتي



















ارسم أسرتك.




أفراد عائلتي

ارسم أفراد أسرتك وعائلتك واكتب أسماءهم أسفل الصورة.







التدرب على الكتابة



أب

أم

أخت

أخ



شجرة أسرتي



الأخت

الأم

أنا

الأب

الأخ

من أكون؟

الفصل الثالث: من نحن؟



رسم بياني مصور






اتبع إرشادات المعلم لتلوين الصور البيانية، ثم أجب عن الأسئلة.

حيواناتنا الأليفة

	طيور
	قطط
	أسماك

المفتاح: كل صورة = حيوان أليف واحد

اكتب العدد المطابق لكل مجموعة من مجموعات الحيوانات الأليفة.



ارسم الرمز الصحيح (= ، د ، ع)



من عدد



عدد

التمثيل البياني بالأعمدة



استخدم التمثيل البياني بالأعمدة للإجابة عن الأسئلة التالية:

١- كم العدد؟



٢- ارسم الرمز الصحيح.

الأحمر — عن الأزرق.

٣- ارسم دائرة حول اللون الذي يساوي اللون الأزرق.



$$\text{الأزرق} = (\text{أحمر} - \text{أصفر} - \text{أخضر})$$



الأولاد والبنات في أسرتي



اكتب عدد الأولاد والبنات في أسرتك. استخدم هذه الأعداد لعمل تمثيل بياني عمودي.



٩		
٨		
٧		
٦		
٥		
٤		
٣		
٢		
١		
٠		

الأولاد البنات




رسم بياني مصور لأسرتي



استخدم مربعاً أخضر ليمثل ولداً. استخدم دائرة صفراء لتمثل بنتاً.
قم بإنشاء تمثيل بياني بالصورة لأسرتك.

المفتاح



أسرتي


	الأولاد
	البنات



الكائنات الحية والأشياء غير الحية



قم بإنشاء تمثيل بياني عمودي لعرض عدد الكائنات الحية والأشياء غير الحية الموجودة في منزلك.
عد البشر فقط.



٩		
٨		
٧		
٦		
٥		
٤		
٣		
٢		
١		
٠		

كائن حيّ شئ غير حيّ





	حي
	غير حي

قارن الأعداد الخاصة بك بأعداد زميلك المجاور.

١- الكائنات الحية في منزلي:

الكائنات الحية في منزل زميلي:

لدي عدد أكبر/أقل/مساو للكائنات الحية في منزلي.




٢- الأشياء غير الحية في منزلي:




الأشياء غير الحية في منزل زميلي:

لدي عدد أكبر/أقل/مساو للأشياء غير الحية في منزلي.

التمثيلات البيانية

أي التمثيلات البيانية التالية تمثل بياني بالأعمدة؟ وأيها تمثل بياني بالصور؟

		اليوم الأول
		اليوم الثاني
		اليوم الثالث

			٩
			٨
			٧
			٦
			٥
			٤
			٣
			٢
			١
			٠
			
أبو قردان	فرس النهر	الوَرَل النيلي	






بيانات وألوان فى الفصل



لون الدوائر التالية بالألوان الأساسية.
اكتب البيانات الخاصة بفصلك أسفل الأشكال التالية.

اللون الأساسي المفضل






ما اللون المفضل لدى معظم تلاميذ فصلك؟

مقارنة بيانات الفصل



ارسم أطوال الشعر في فصلك في الدوائر (طويل - متوسط - قصير)
اكتب الأرقام التي تدل على أعداد التلاميذ حسب طول الشعر.



أي أطوال الشعر الأكثر وجوداً بفصلنا؟


أي أطوال الشعر الأقل وجوداً بفصلنا؟



من أكون؟

الفصل الرابع: مجتمعنا





حقوقنا

تتبع الكلمات المكتوبة بالأسفل. اكتب الحرف الأول من اسمك في كل مربع.
يشير ذلك إلى موافقتك.

لنا الحق في:

العيش بأمان

التعلم



مشاركة الأفكار




الالتزام بالقواعد



ارسم وجهًا مبتسمًا في الدائرة إذا كان التلميذ يلتزم بالقواعد. وارسم وجهًا عابسًا في الدائرة إذا كان التلميذ غير ملتزم بالقواعد.





أنا مسئول



ارسم صورة تُظهر أنك فرد مسئول في المجتمع.



استكمل الجملة.

يمكنني

أصحاب المهن



صل بين صاحب كل مهنة والمكان الذي يعمل به.





أدوات العمّال



صل بين العامل والأداة التي يستخدمها للقيام بمهنته.



ارسم أداة مهمة يستخدمها الطبيب يوميًا.



مهن مهمة



قم بقص هذه المربعات من الخطوط المنقطة.







المهن الصناعية



قم بلصق صورة كل مهنة في العمود الصحيح باستخدام الصمغ أو الشريط اللاصق.




غير صناعية 	صناعية 



الطعام والماء والمسكن



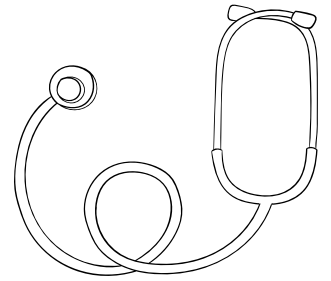


استخدم الخطوط والأشكال الأساسية لرسم الطعام، والماء والمسكن في المربعات التالية. ثم لونها.



عمال البناء



صل عامل البناء والأشياء المهمة التي يجب أن يرتديها للقيام بعمله.



العالم من حولي

الفصل الأول: بيئتنا



في الملعب



ضع دائرة حول الأشياء التي يراها كريم.



كريم في الملعب.
ويرى الكثير من الأشياء.
يرى عصفورًا.
يرى صخرة.
يرى شجرة.
ويرى ألعابًا يلعب عليها.

"الكائنات الحيّة"

استمع إلى معلمك:



الكائنات الحيّة



كل الكائنات الحيّة تنمو وتتغير، تنمو وتتغير، تنمو وتتغير

كل الكائنات الحيّة تنمو وتتغير

الأشياء غير الحيّة لا تنمو ولا تتغير.

الكائنات الحيّة تحتاج إلى الغذاء والماء،
الغذاء والماء

الكائنات الحيّة تحتاج إلى الغذاء والماء

الأشياء غير الحيّة لا تأكل ولا تشرب.

الكائنات الحيّة تحتاج إلى الهواء للتنفس،
الهواء للتنفس

الكائنات الحيّة تحتاج إلى الهواء للتنفس

الأشياء غير الحيّة لا تتنفس.

الكائنات الحيّة تتحرك بمفردها،
بمفردها

الكائنات الحيّة تتحرك بمفردها

الأشياء غير الحيّة لا تتحرك بمفردها.

هل هذا كائن حي؟



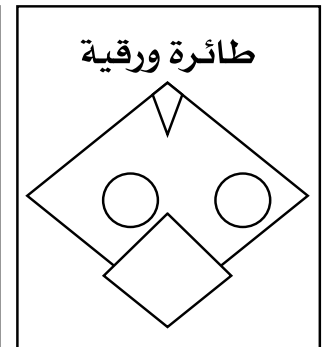
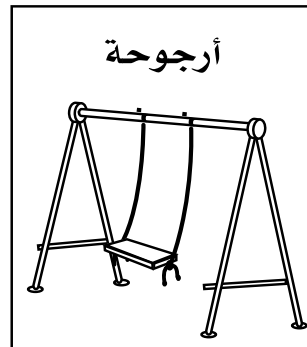
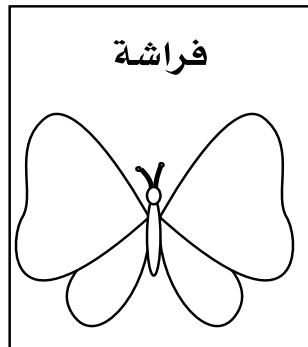


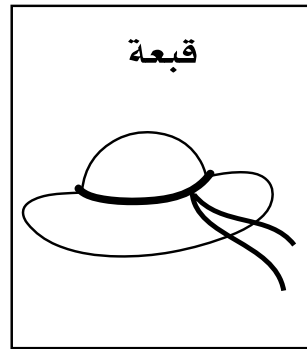





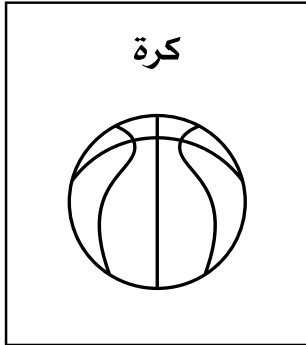
اكتب "نعم" أو "لا" في كل مربع.

الشيء	طائر	صخرة	شجرة	الألعاب
هل ينمو ويتغير؟				
هل يحتاج إلى الغذاء والماء؟				
هل يحتاج إلى الهواء؟				
هل يتحرك بمفرده؟				
هل هو كائن حي؟				

الكائنات الحية والأشياء غير الحية









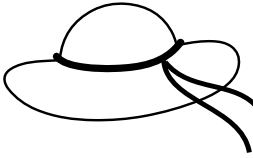




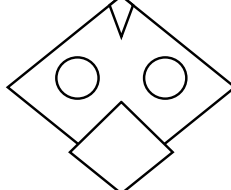
لَوْنُ صور الكائنات الحية باللون الأخضر. لَوْنُ صور الأشياء غير الحية باللون الأزرق.



تكوين مجموعات



صنّف الأشياء الموجودة بالأسفل في مجموعات. اكتب كل كلمة في المربع الصحيح.

كرة 	شجرة 	بطة 	سيارة 
أسد 	طائرة 	قبعة 	جرس 
ضفدعة 	دراجة 	أرجوحة 	طائرة ورقية 

الكائنات الحيّة

الأشياء التي تصدر أصواتاً

الأشياء التي يمكننا اللعب بها

نزهة في الخارج



في كل مربع ارسـم شيئاً واحداً لاحظته وأنت تتنزه، اكتب اسمه.




حيّ أم غير حيّ؟



اكتب كل شيء لاحظته في الخارج في العمود الصحيح.
عد الأشياء الموجودة في كل عمود.

غير حيّ	حيّ



النباتات والحيوانات



عد النباتات والحيوانات التي رأيتها، استخدم الأعداد لكتابة جملة
عددية.

كم عدد النباتات؟

كم عدد الحيوانات؟

+

= عدد الكائنات الحية

الحيوانات

النباتات



التدرب على الكتابة



تدرّب على كتابة كلمة "البيئة".
تتبع الكلمة مرتين، ثم اكتبها ثلاث مرات.

البيئة

البيئة

التدرب على الكتابة



تدرَّب على كتابة الكلمتين "حيّ" و"غير حيّ". تتبَّع الكلمة أولاً. ثم، اكتبها بنفسك.

حيّ

غير حيّ





الصحراء



اكتب معلومة مهمة عن الصحراء. ارسم صورة للصحراء.
ارسم دائرة حول الحيوانات التي تعتقد أنها تعيش هناك.

Four sets of horizontal lines for writing, each consisting of a solid blue top line, a dashed pink middle line, and a solid blue bottom line.






الدلتا



اكتب معلومة مهمة عن الدلتا. ارسـم صورة للدلتا.
ارسم دائرة حول الحيوانات التي تعتقد أنها تعيش هناك.

Four sets of handwriting practice lines, each consisting of a solid blue top line, a dashed pink middle line, and a solid blue bottom line.

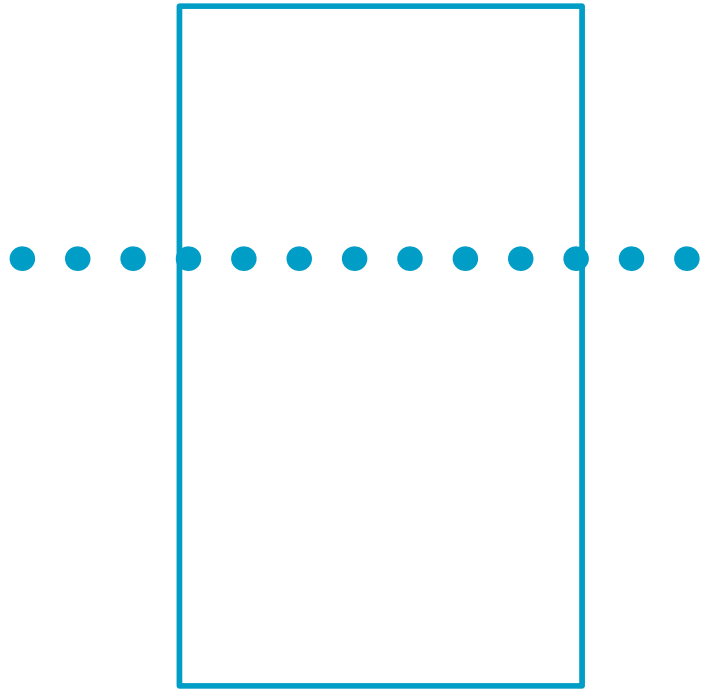





أجسامنا مكونة من الماء



لَوْنُ الجِسمِ من أسفل لأعلى إلى الخط المنقط. هذا هو حجم أجزاء أجسامنا التي تتكون من الماء.



"نحتاج إلى الماء لنعيش"



استمع إلى معلمك:

نحتاج إلى الماء لنعيش

نحتاج إلى الماء لنعيش
الماء يساعدنا في البقاء على قيد الحياة
وإذا شربت الماء يوميًا
يمكنك أن تجري وتلعب
الماء موجود في طعامنا،
الماء موجود في السحاب
الماء في كل مكان،
نحتاج إلى الماء لنعيش،
الماء يساعدنا في البقاء على قيد الحياة



الاهتمام بالبيئة



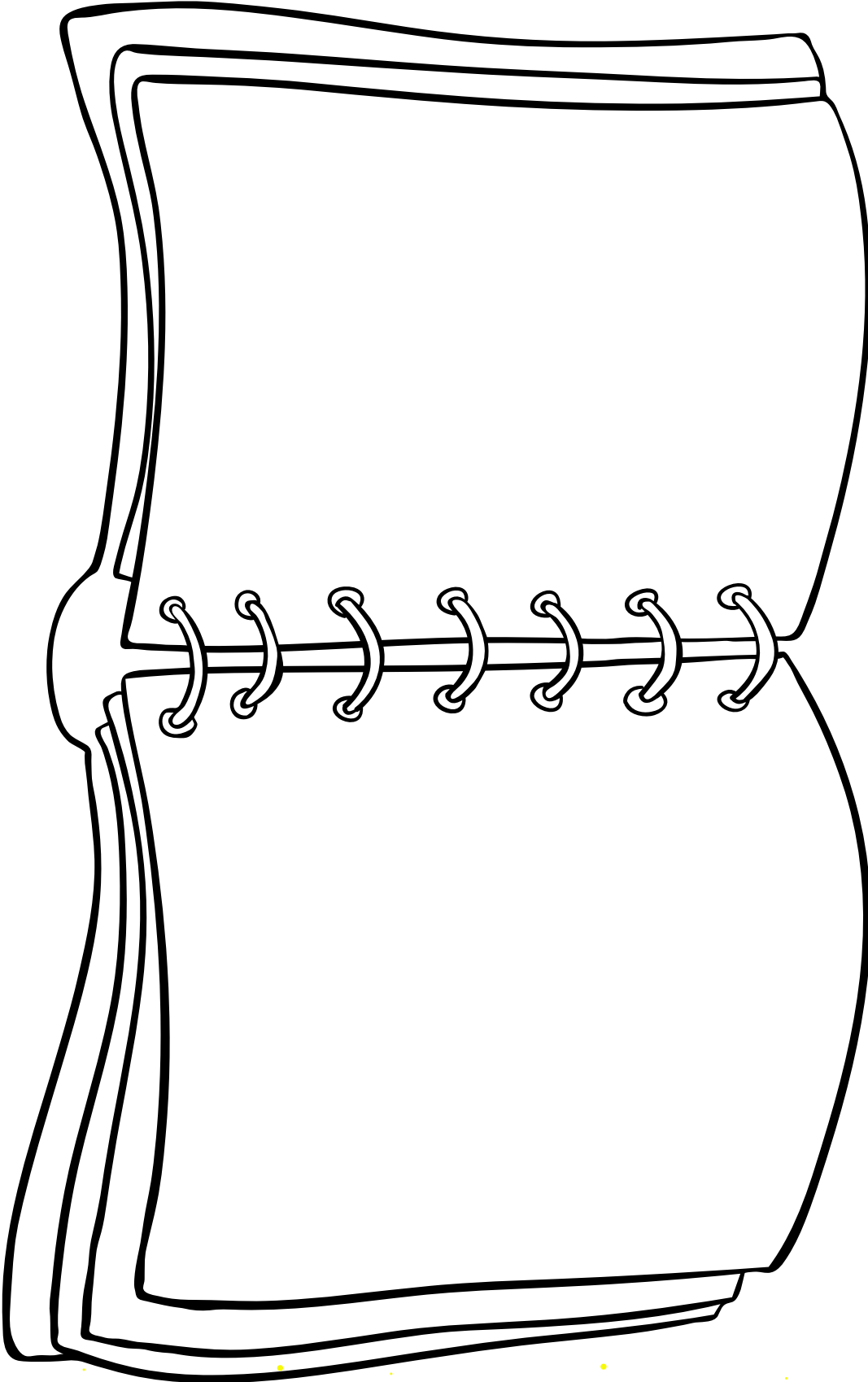
ضع علامة «X» بالأحمر على السلوك الذي يضر بالبيئة. ارسم دائرة باللون الأخضر حول السلوك الذي يهتم بالبيئة ثم لون الصور.



ألبوم صور



في كل صفحة من صفحات ألبوم الصور، ارسم صورة تُظهر سلوكك المسئول نحو البيئة.



استخدام خريطة



استخدم الخريطة لإكمال الجمل.



من المنزل.

المدرسة في اتجاه

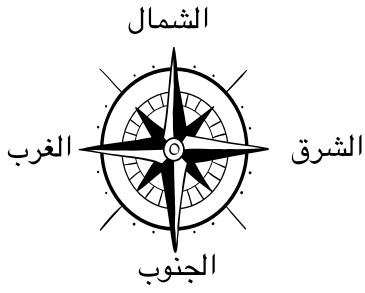
من الملعب.

المستشفى في اتجاه


مسودة خريطة




ارسم مع زملائك مسودة أولية لخريبتكم.



المفتاح

حيّ = 


غير حيّ = 

ماء = 

حدِّ الاتجاه

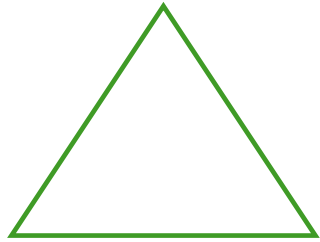
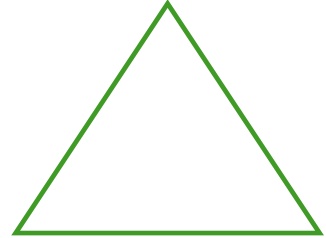


استخدم خريطتكم لإكمال الجمل التالية. بعد ذلك، اكتب جملة عن العناصر الموجودة في خريطتكم.





من

في اتجاه




من

في اتجاه



من

في اتجاه






ملصق لبيئتنا



استخدم المربع أدناه لتصميم مخطط أولي لمشروع (ملصق خريطتكم).



مراجعة خريطة بيئتنا



أجب بالرسم والكتابة.

ما أوجه اختلاف خريبتكم عن خريطة المجموعة الأخرى؟

خريبتنا

خريبتهم

ما أوجه التشابه بين خريبتكم وخريطة المجموعة الأخرى؟

خريبتنا

خريبتهم

العالم من حولي

الفصل الثاني: تجول في البيئة



أجزاء النبات



استخدم بنك الكلمات لكتابة أسماء أجزاء النبات. صل جزء النبات بوظيفته.

الساق

الجزور

الزهرة

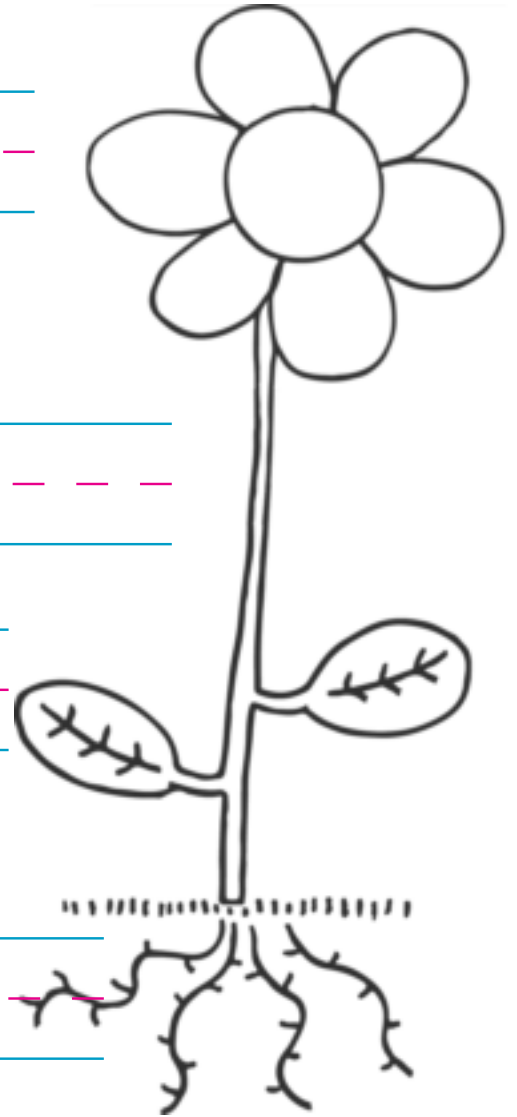
الأوراق

تُثبَّت النبات في الأرض.
تمتص
الماء من التربة.

يحافظ على النبات في
وضع قائم. ينقل الماء
من الجذور إلى الأجزاء
المختلفة من النبات.

تسمح بدخول الهواء.
تستخدم ضوء الشمس في
صنع الغذاء.

تتكون بها البذور.



أجزاء الحيوانات



استخدم بنك الكلمات لكتابة أسماء أجزاء الحيوانات.

حواافر

مخالب

زعنفة

جناح

صدفة

قشور

ريش

رقبة طويلة

منقار

ذيل

جراب

قرون

أسنان













الحيوانات



لاحظ حركة كل حيوان.



كيف تتحرك الحيوانات؟



قص صور الحيوانات، صنّف الحيوانات حسب طريقة حركتها والصقها بالجدول في الصفحة التالية:



فراشة



فيل



أرنب



دولفين



ضفدعة



بطريق



بومة



دب



صرصور



سمكة



خفاش



جمل

صنف الحيوانات حسب طريقة حركتها.
اكتب اسم حيوانك المفضل في كل مجموعة.

يسير، أو يجري، أو يقفز	يسبح	يطير
حيواني المفضل الذي يسير، أو يجري أو يقفز هو	حيواني المفضل الذي يسبح هو	حيواني المفضل الذي يمكنه الطيران هو

«تقليد الحركات وتعرف ذلك»



استمع إلى معلمك. ارسم دائرة حول الحركات، حاول تقليد هذه الحركات.



إذا كنت أرنبًا، اقفز معي.



إذا كنت أرنبًا، اقفز معي.

إذا كنت أرنبًا، اقفز معي على الأرض.

إذا كنت أرنبًا، اقفز معي.

إذا كنت تلعب في الفناء، فالتف حول نفسك.

إذا كنت تلعب في الفناء، فالتف حول نفسك.

إذا كنت تلعب في الفناء، فالتف حول نفسك بسرعة.

إذا كنت تلعب في الفناء، فالتف حول نفسك.

إذا كنت تلميذًا، فارفع يدك.

إذا كنت تلميذًا، فارفع يدك.

إذا كنت تلميذًا، فارفع يدك لنراها.

إذا كنت تلميذًا، فارفع يدك.

إذا كنت تلعب بالكرة، فاركلها عاليًا.

إذا كنت تلعب بالكرة، فاركلها عاليًا.

إذا كنت تلعب بالكرة، فاركلها عاليًا في السماء.

إذا كنت تلعب بالكرة، فاركلها عاليًا.

استكشاف حركة الأشياء



اكتب "نعم" أو "لا" في كل مربع.




الشيء	يقفز	يتدحرج	يدور حول نفسه	ينزلق
كرة				
قالب				
قلم رصاص				





وسائل المواصلات فى مصر



انظر إلى الصور التالية، اكتب اسم كل وسيلة من وسائل المواصلات على الخط الموجود أسفل كل صورة.










التنقل في عالمنا



قص صور وسائل المواصلات، الصقها في مكانها المناسب في الصفحة التالية.
فكر إلى أين يمكن أن تتجه كل منها.





هل تسبب التلوث؟



قرر مع زميلك ما إذا كانت وسيلة النقل تلوث البيئة أم لا.
اكتب كل كلمة في بنك الكلمات في العمود الصحيح بالجدول.

السير

قارب


سيارة

قطار

حافلة

دراجة

طائرة



لا تُلوّث



تُلوّث





ألغاز



اقرأ مفتاح اللغز. اكتب السلوك الصحيح الذي يحل اللغز:

السفر بالقطار رائع.

لحفاظ على سلامتنا داخل القطار، يجب أن أبقى ساكناً في

عندما أعبّر الطريق، كي أحافظ على سلامتي

يجب أن أنظر في كلا

تهتز القوارب عندما تسير في الماء بعيداً عن اليابس.

يجب دائماً أن أبقى جالساً. لا يجب أن

عندما يتحول الضوء إلى اللون الأحمر في إشارة المرور

يجب عليّ أن

عندما أركب الحافلة، سواء كانت تسير بسرعة أو ببطء،

يجب ألا ألقى أبداً بأي شيء من



قواعد وإشارات المرور

استمع إلى معلمك


الطرق لدينا مزدحمة للغاية.
يجب اتباع قواعد المرور.
يجب أن تلتزم السيارات والحافلات بالسير على الجانب الأيمن من الطريق.
يجب أن يلتزم السائقون بالقيادة الآمنة.
يجب أن يربط الركاب أحزمة الأمان.
يجب أن ينتبه السائقون جيداً لكافة إشارات المرور.
يجب أيضاً أن ينتبه المشاة في الطريق جيداً.



أبطئ سرعتك



قف



قف



لا تدخل



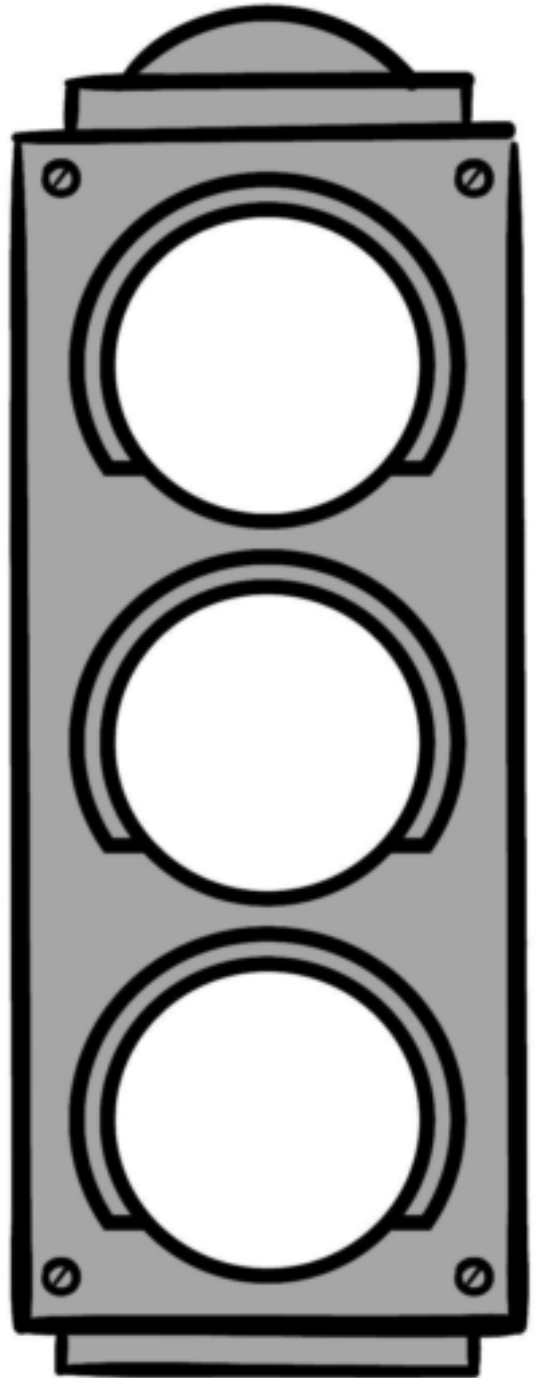


إشارات المرور



لوّن كل دائرة باللون الصحيح. اكتب ما يشير إليه كل لون.

Handwriting practice lines consisting of three sets of horizontal lines. Each set includes a solid blue top line, a dashed pink middle line, and a solid blue bottom line.



حافظ على سلامتك



اكتب جملة تذكر فيها كيف تحافظ على سلامتك أثناء السير، وأثناء استخدام وسيلة من وسائل المواصلات.

أثناء السير سأحرص على أن

عندما أركب

سأحرص على أن

ارسم صورة تعبر عن سلوكك لتحافظ على سلامتك أثناء استخدام إحدى وسائل المواصلات.



عملية التصميم




يحتوي كل مربع على خطوة من خطوات عملية التصميم.
اتبع إرشادات المعلم لإكمال خطوة في كل مرة.

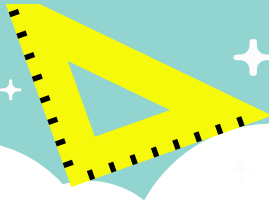


١- الفكرة: ما فكرتك التي اخترتها كوسيلة للمواصلات؟

٢- المواد المستخدمة: حدد المواد التي سوف تستخدمها.

٣- التخطيط: ارسم تصميمك. اكتب البيانات على الرسم.





عرض النموذج

أكمل الجمل التالية. ستقرأ هذه المعلومات لزملائك في الفصل عند عرض النموذج.

الفكرة: نختار بناء نموذج

المواد المستخدمة : استخدمنا لبناء النموذج

القاعدة: ما الذي يجب عليك القيام به عند استخدام وسيلة مواصلاتنا؟

من الأشياء الإيجابية التي ظهرت:

من الأشياء التي نفكر في تغييرها:

مراجعة النموذج



أجب عن الأسئلة التالية حول نموذج زميلك في الفصل.

١- ما وسيلة المواصلات التي مثلها النموذج؟

٢- ما أوجه التشابه بين نموذج المجموعة والنموذج الخاص بك؟

العالم من حولي

الفصل الثالث: زراعة الغذاء في


العالم من حولنا




الشمس في السماء



اقرأ القصة. استخدم اللون الأصفر لتلوين الشمس.



تستيقظ من نومها. ترى منى الشمس.



تذهب منى إلى السرير.
لا ترى منى الشمس.



تتناول منى الغداء. ترى منى الشمس.



تلعب منى لعبة. ترى منى الشمس.

«فصول السنة»



استمع إلى معلمك



١- في كل فصل من فصول السنة، يتغير الطقس
يتغير الطقس، يتغير الطقس
في كل فصل من فصول السنة، يتغير الطقس
طوال العام

٢- في الخريف تسقط أوراق الشجر على الأرض
على الأرض، على الأرض
أوراق الشجر تسقط على الأرض،
طوال الخريف.

٣- الطقس بارد وممطر
بارد وممطر، بارد وممطر
الطقس بارد وممطر
طوال الشتاء

٤- تبدأ الزهور وأوراق الشجر في النمو
تبدأ في النمو، تبدأ في النمو
الزهور وأوراق الشجر تبدأ في النمو، طوال الربيع

٥- الطقس حار ومشمس
حار ومشمس، حار ومشمس
الطقس حار ومشمس طوال الصيف!



حدّد فصل السنة



لاحظ الصور ثم اكتب اسم فصل السنة أسفل الصورة.


الصيف

الربيع

الخريف

الشتاء





تصنيف الملابس



صنف الملابس الموجودة أسفل الشكل ثم اكتب أسماءها في المكان المناسب.

الصيف

الشتاء




الشتاء أم الصيف؟



اقرأ القصة، ارسـم خطاً تحت الفواكه والخضراوات.

هذا فلاح.

يقوم الفلاح بزراعة وجمع الفواكه والخضراوات.



إنه فصل الشتاء.

الفلاح يجمع البرتقال.

الفلاح يزرع الجزر.

الفلاح يزرع البنجر.

إنه فصل الصيف.

الفلاح يزرع البطيخ.

الفلاح يجمع المانجو.

الفلاح يجمع العنب.

شكراً لك أيها الفلاح.

اكتب أسماء الفواكه والخضراوات في الجدول التالي حسب فصل السنة المناسب.



الصيف	الشتاء

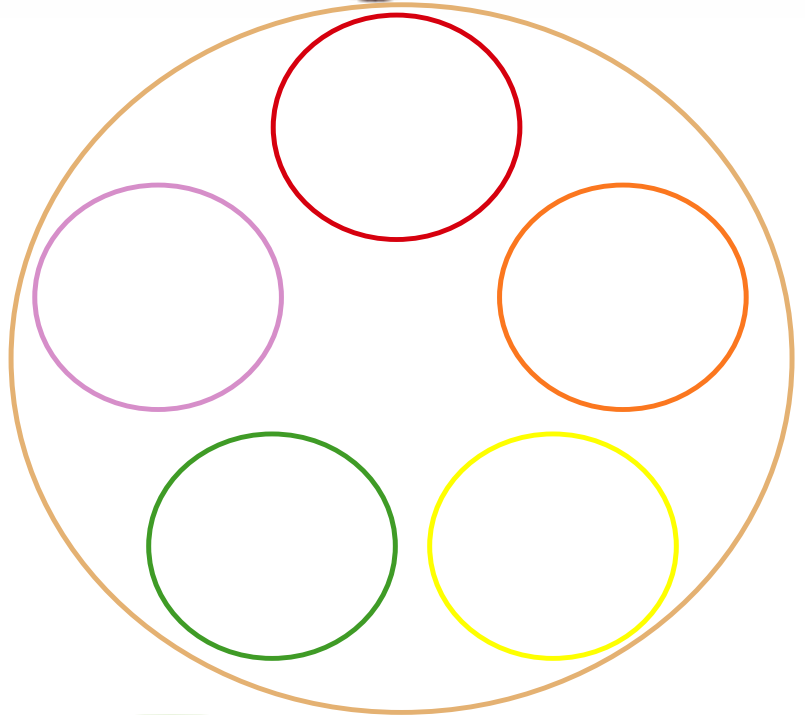
طبقي الملون

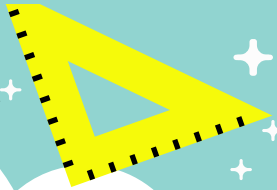


لَوِّن الفواكه والخضراوات باللون المناسب.



ارسم حبة فاكهة أو خضراوات
من كل لون على طبقك.



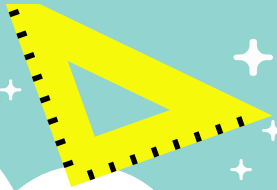


الطعام الصحي



ارسم دائرة حول الطعام الصحي.





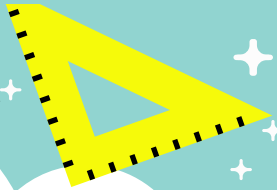
لغز المزارع



لَوِّنِ الصُّورَةَ، قِصِّ القِطْعَ.



الفصل الثالث: زراعة الغذاء في العالم من حولنا



المزارعون




لاحظ الصور. وحدد الأعمال التي يقوم بها الفلاح.



زراعية أم صناعية؟



ارسم دائرة خضراء حول الصور التي تمثل المهن الزراعية وأخرى حمراء حول الصور التي تمثل المهن الصناعية.





إذا كنت مزارعاً



اختر عملاً زراعياً، ارسم صورةً لنفسك وأنت تؤدي العمل وتستخدم الأدوات. اكتب جملتين عن العمل الذي تقوم به.



أدوات المزارعين



تأمل الصورة.

ارسم دائرة حول الأدوات الزراعية.






لغز النبات




لوّن الصورة، قص القِطْع.




كيف نستخدم النباتات؟



اذكر خمسة استخدامات للنباتات.



الطعام



الوقود



الملابس



الأدوية



المسكن




النبات المدهش



ارسم صورة لنباتك أو شجرتك المفضلة ولونها، اكتب قائمة باستخداماتها.


الاستخدامات:



احتياجات النبات



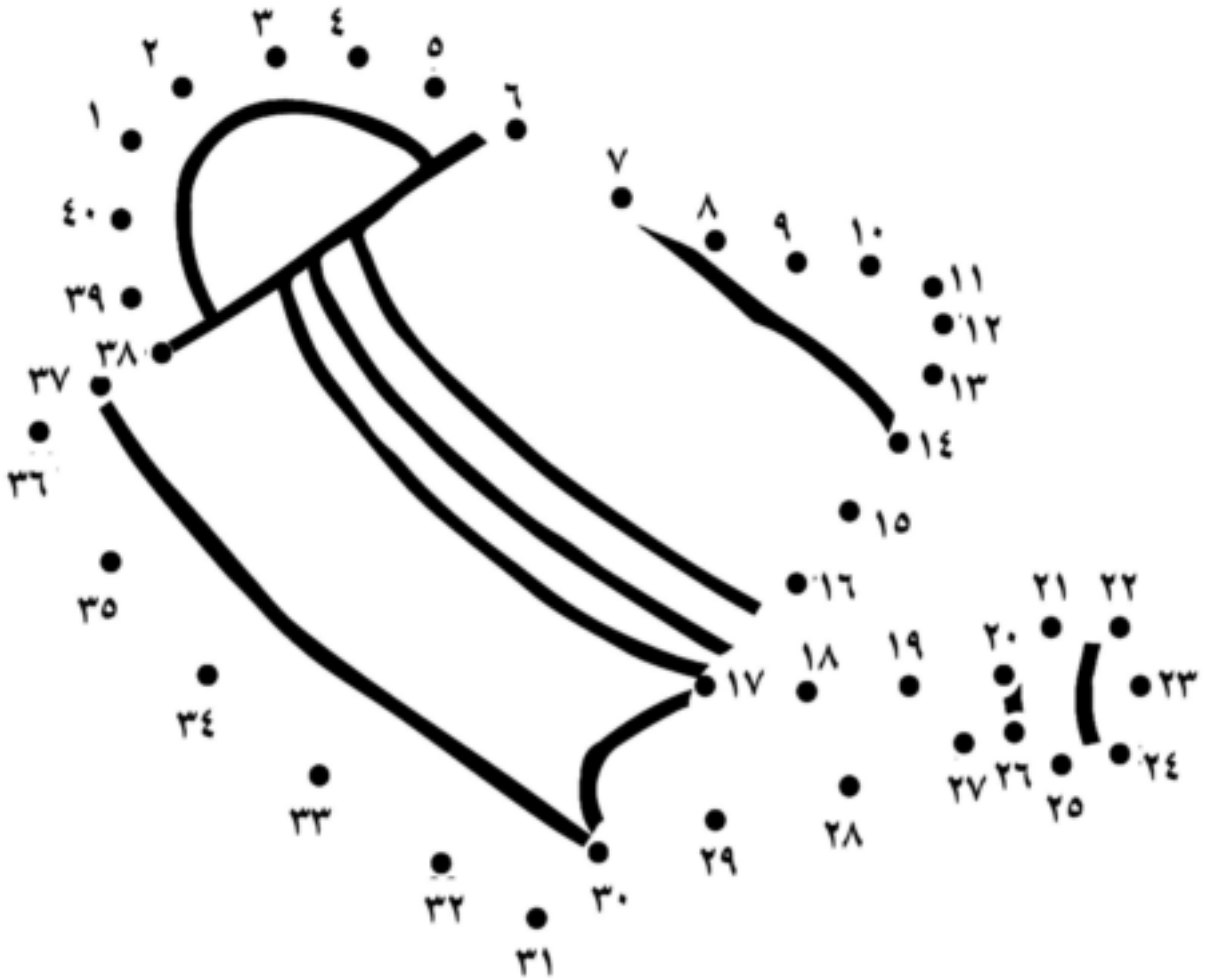
لون احتياجات النبات.



توصيل النقاط



صل النقاط، واكتشف الصورة ثم لونها.







الحشائش



تتنافس الحشائش في هذه الحديقة مع نبات الخس لتقترب أكثر من ضوء الشمس.

لَوْنُ كافة نباتات الخس باللون الأخضر.
لَوْنُ كافة الحشائش باللون البني.





صحيفة الفصل



املاً الفراغات كما يلي، ارسم صورة لأحد النباتات لنشرها في صحيفة الفصل.

املاً الفراغات.




١- أنا رقم



٢- سأرسم صورة



٣- ارسم صورة لموضوع النبات الذي سيتم نشره في صحيفة الفصل. استخدم التفاصيل والألوان.



٤- اقطع فوق الخطوط المتقطعة لإخراج صورتك من الكتاب.



العالم من حولي

الفصل الرابع: الاحتفالات

في العالم من حولنا



الأعياد المصرية



اقرأ القصة لتكتشف ما يحدث أثناء الأعياد المختلفة. ارسـم صورة لما يحدث أثناء كل عيد، اختر عنواناً لكل صورة.

ليلة رأس السنة: في ليلة رأس السنة تحتفل الأسر معاً، تنطلق الألعاب النارية في السماء ويرتدي الجميع ملابس جديدة زاهية الألوان. كما يحصل الأولاد والبنات على حلوى وألعاب.

عيد الفطر: في عيد الفطر تحتفل الأسر ويصلون معاً، نزور الأقارب ونتناول الكعك، يرتدي الأطفال الملابس الجديدة، كما يحصلون على العيدية.

الفصل الرابع: الاحتفالات في العالم من حولنا



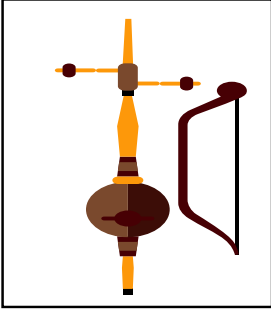
عيد الأضحى: في عيد الأضحى تحتفل الأسر، يصلون معاً ثم يشهدون ذبح الأضحية ويأكلون الفتة، ويتزاورون ويلبس الأطفال الملابس الجديدة ويحصلون على العيدية من الكبار.

عيد الميلاد: في عيد الميلاد (الكريسماس) الذي نحتفل به في يوم ٧ يناير تجتمع الأسر للاحتفال، ويأكلون الكثير من اللحوم، عيد ميلاد مجيد.

التقاليد المصرية



اقرأ المعلومات للتعرف على بعض التقاليد المصرية.



الأغاني: من الأغنيات التقليدية، أغنية شهيرة تحكي «سيرة بني هلال»، حيث يعزف. المغني على آلة الربابة.



الأطعمة: الكشري وجبة مصرية تقليدية، تتكون هذه الوجبة من الأرز، والعدس وصلصة الطماطم. ومن الأطعمة التقليدية الأخرى الفول المدمس.



الملابس: تعتمد الملابس التقليدية على المكان الذي يعيش فيه من يرتدونها؛ حيث اعتادت النساء في الإسكندرية ومناطق أخرى قديماً على ارتداء «الملاية اللف». وكان الرجال معتادين على ارتداء الجلباب والقفطان.

ما تعلمناه؟



أكمل الجمل التالية عن التقاليد المصرية باستخدام حواسك الخمس.

Handwriting practice lines for the first section, consisting of four horizontal lines: a solid top line, a dashed middle line, a solid bottom line, and a solid line below that.

يمكنني أن
أسمع




Handwriting practice lines for the second section, consisting of four horizontal lines: a solid top line, a dashed middle line, a solid bottom line, and a solid line below that.

يمكنني أن أشم وأتذوق



Handwriting practice lines for the third section, consisting of four horizontal lines: a solid top line, a dashed middle line, a solid bottom line, and a solid line below that.

يمكنني أن أرى وأمس



الآثار المصرية



اقرأ المعلومات التالية عن بعض الآثار المصرية.

يقع معبد حتشبسوت على الضفة الغربية لنهر النيل. تم بناء المعبد داخل منحدر صخري. وقد تم بناؤه تكريماً للملكة حتشبسوت. كما تم بناؤه أيضاً تكريماً للإله آمون.



يقع معبد الأقصر على الضفة الشرقية لنهر النيل. وقد تم بناء المعبد خصيصاً لدفن ثلاثة ملوك مصريين.



يوجد تمثال أبو الهول في محافظة الجيزة، على الضفة الغربية لنهر النيل. ويشتهر بكونه أكبر تمثال في العالم. ويتميز التمثال برأس إنسان وجسد أسد.



تقع أهرامات الجيزة في محافظة الجيزة. وتعد أشهر الآثار المصرية. ويبلغ عددها ثلاثة أهرامات، ويعد هرم خوفو الأكبر هو أكبر وأطول هرم في مصر.



السفر لمشاهدة الآثار المصرية



لاحظ الخريطة الموجودة بالأسفل. ارسم علامة «X» كبيرة عند المكان الذي يشير إلى موقعك.





السفر لمشاهدة الآثار المصرية



أكمل الجمل التالية مستعيناً بالخريطة، وحدد اتجاه ونوع وسيلة المواصلات.

للوصول إلى هناك، سأسافر بواسطة

يقع معبد حتشبسوت باتجاه

بالنسبة لي.

للوصول إلى هناك، سأسافر بواسطة

يقع معبد الأقصر باتجاه

بالنسبة لي.

للوصول إلى هناك، سأسافر بواسطة

يقع أبو الهول باتجاه

بالنسبة لي.

للوصول إلى هناك، سأسافر بواسطة

تقع أهرامات الجيزة باتجاه

بالنسبة لي.




احترام الآثار المصرية




اقرأ قائمة السلوكيات الملائمة عند زيارة الآثار أو المواقع التاريخية.

قف في الصف
في انتظار دورك



اصمت أو تحدث
بصوت منخفض



حافظ على نظافة المكان



لا تلمس شيئاً إلا إذا
تمت دعوتك لذلك





قائمة كتبى



اكتب عناوين خمسة كتب، ارسم دائرة حول الكتاب الذي اخترته لقراءته. اكتب
أو ارسم حقيقة واحدة تعلمتها أثناء القراءة.

الكتب

الحقيقة (التي تعلمتها)



الأثر المفضل لي



ارسم الأثر المفضل لك مع تحديد اسمه. أكمل الجملة الموجودة أسفل صورتك.

هذا هو الأثر المفضل لي لأن

نموذج أثر تاريخي




أكمل عملية التصميم خطوة بخطوة لتخطيط وبناء نموذجك الأثري.



١- الفكرة: سنقوم أنا وشريكي ببناء نموذج

٢- المواد المستخدمة: اكتب قائمة بالمواد التي يمكنك استخدامها لبناء النموذج الخاص بكما:

٣- التخطيط: ارسم الأثر الذي اخترته باستخدام الأشكال.
اكتب على كل جزء المواد التي استخدمتها في عمله.



جولة في معرض الآثار




تجوّل في الفصل وشاهد نموذج الأثر التاريخي الخاص بكل مجموعة. بعد رؤية كافة النماذج، اختر ثلاثة نماذج ثم أكمل ما يلي:

نموذج ١

هذا نموذج يجسد

فيما يلي صورة النموذج:



نموذج ٢

هذا نموذج يجسد

أعجبني هذا النموذج بسبب

نموذج ٣

هذا نموذج يجسد

هو يشبه نموذجي لأن



كراس الرياضيات

درس ١

ارسم ثلاثة أشياء من فصلك لها نفس الشكل.

The page contains ten sets of horizontal dashed lines, each set consisting of three lines in blue, pink, and green. These lines are provided for the student to draw three objects from their classroom that share the same shape.

حدد ثلاثة أشياء متشابهة في الفصل. ارسم هذه الأشياء.

A series of ten horizontal dashed lines, alternating in color from top to bottom: blue, pink, green, blue, pink, green, blue, pink, green, blue. These lines are intended for writing or drawing.

درس ٢

ارسم شيئين فى الفصل لهما نفس الشكل.
وشيئين آخرين مختلفين.

A series of horizontal dashed lines in blue, pink, and green, intended for drawing.

درس ٤
ارسم حيواناً له أربع أرجل.

A series of ten horizontal dashed lines for drawing practice, alternating in color: blue, pink, green, blue, pink, green, blue, pink, green, blue.

خطط حول يدك أو كف يد زميلك.

Handwriting practice lines consisting of multiple sets of three horizontal dashed lines in blue, pink, and green colors.

درس ٦

ارسم شيئاً وارسم دائرة حوله.

ارسم شيئين وارسم دائرة حولهما.

ارسم ثلاثة أشياء وارسم دائرة حولهم.

ارسم أربعة أشياء وارسم دائرة حولهم.

ارسم خمسة أشياء وارسم دائرة حولهم.

A series of horizontal dashed lines in blue, pink, and green, intended for drawing practice.

درس ٧

اكتب العدد (٠) ثلاثة مرات.

اكتب العدد (١) ثلاثة مرات.

ارسم صورة لشيء واحد.

A series of ten horizontal dashed lines for writing practice, alternating in color between blue, pink, and green. The lines are arranged in a repeating pattern of blue, pink, and green, with four lines of each color.

درس ٧

اكتب (٢) ثلاثة مرات.

ارسم نقطتين داخل إطار الخمس خانوات.

اكتب (٣) ثلاثة مرات.

ارسم ٣ نقاط داخل إطار الخمس خانوات.

A series of ten horizontal dashed lines for writing practice, alternating in color between blue, pink, and green. The lines are arranged in five pairs, with each pair consisting of a blue dashed line on top and a pink dashed line on the bottom, followed by a green dashed line on the bottom. This pattern repeats five times down the page.

درس ٨

ارسم خط الأعداد ومثل عليه الأعداد ٠ ، ١ ، ٢ ، ٣

The page contains ten sets of horizontal dashed lines, each set consisting of three lines in blue, pink, and green. These lines are intended for drawing a number line and representing the numbers 0, 1, 2, and 3.

درس ٩ ، ١٠

اكتب (٤) ثلاثة مرات.

ارسم ٤ نقاط داخل إطار الخمس خانات.

اكتب العدد (٥) ثلاثة مرات.

ارسم ٥ نقاط داخل إطار الخمس خانات.

إذا كان لديك ٥ بليات ما الطرق المختلفه التي يمكن بها عرض ذلك ؟

Handwriting practice area with ten sets of horizontal dashed lines in blue, pink, and green colors.

درس ١١

اكتب (٦) ثلاثة مرات.

ارسم ٦ سُحب أسفل العدد ٦.

ارسم ماتتوقع تعلمه غدا.

Handwriting practice lines consisting of 11 sets of horizontal dashed lines in blue, pink, and green colors.

درس ١٢
اكتب (٧) ثلاثة مرات.
ارسم ٧ نقاط داخل إطار الخمس خانات.

درس ١٣

اكتب (٨) ثلاثة مرات.

ارسم ٨ نقاط داخل إطار الخمس خانات.

درس ١٤
اكتب (٩) ثلاثة مرات.
ارسم ٩ أرغفة من الخبز.

A series of ten sets of horizontal dashed lines for writing practice. Each set consists of three lines: a top blue line, a middle pink line, and a bottom green line.

درس ١٥، ١٦

اكتب ١٠ ثلاثة مرات.

خطط حول يدك الإثنتين واكتب من ١ إلى ١٠ على كل إصبع بالترتيب.

ارسم مجموعة تتكون من ١٠ أشياء. اكتب الرقم ١٠.

A series of horizontal dashed lines in blue, pink, and green, intended for writing or drawing.

درس ١٧
ارسم ٦ فراشات كبيرة و٤ صغيرة.




درس ١٧

ارسم ٣ أشياء على شكل دائرة و ٤ على شكل مثلث.

The page contains ten sets of horizontal dashed lines, each set consisting of three lines in a repeating color sequence: blue, pink, and green. These lines are provided for the student to draw three circles and four triangles as instructed in the text above.

درس ١٧

ارسم ١٧ أقلام تلوين صغيرة وقلمي تلوين كبيرين.



استمع إلى مفاتيح حل اللغز من معلمك. ثم اكتب الرقم الغامض.

Handwriting practice lines consisting of multiple sets of horizontal dashed lines in blue, pink, and green colors.

درس ١٩

ارسم ١١ بالون واكتب العدد ١١ في آخر بالون، ثم أضف بالون آخر واكتب العدد ١٢ بداخله، ثم أضف بالون آخر واكتب العدد ١٣ في البالون الأخير.

A series of ten horizontal dashed lines for writing practice, alternating in color between blue, pink, and green. The lines are arranged in five pairs, with each pair consisting of a blue dashed line on top and a pink dashed line on the bottom, followed by a green dashed line. This pattern repeats five times down the page.

درس ٢٠

ارسم ١١ نقطة داخل إطار الخمس خانات.

واكتب العدد ١١ بجوارهم . ارسم ١٢ نقطة وارسم دائرة حولهم واكتب بجوارهم العدد ١٢ .

ارسم ١٣ نقطة وارسم دائرة حولهم واكتب بجوارهم العدد ١٣ .

A series of horizontal dashed lines in blue, pink, and green, intended for drawing and writing.

درس ٢١

ارسم ١٤ زهرة واكتب العدد ١٤ بجوارها.

ارسم ١٥ زهرة واكتب العدد ١٥ بجوارها.

A series of ten horizontal dashed lines for drawing and writing. Each line set consists of a top blue dashed line, a middle pink dashed line, and a bottom green dashed line.

اعمل مع زميلك المجاور في كتابة ثلاثة جمل عددية على أن تتضمن علامات ($=$ ، $>$ ، $<$).

Handwriting practice lines consisting of multiple sets of three horizontal dashed lines in blue, pink, and green colors.

درس ٢٥

اكتب العدد ١٦ وارسم ١٦ مثلثا واكتب العدد ١٦ فى المثلث الأخير.
اكتب العدد ١٧ وارسم ١٧ مثلثا واكتب العدد ١٧ فى المثلث الأخير.

A series of ten sets of horizontal dashed lines for writing practice. Each set consists of three lines: a top blue dashed line, a middle pink dashed line, and a bottom green dashed line.

ارسم صور حيوانات لكي تجيب عن أسئلة معلمك عن الرسم البياني الشريطي.

The page contains a series of horizontal dashed lines for drawing or writing. The lines are arranged in a repeating pattern of three colors: blue, pink, and green. There are 12 rows of these dashed lines, each row consisting of a solid top line and a dashed bottom line.

درس ٢٨
ارسم ١٨ دائرة واكتب العدد ١٨.

A series of ten horizontal dashed lines for drawing and writing. Each line set consists of three parallel dashed lines: a top blue line, a middle pink line, and a bottom green line.

درس ٢٩

اكتب العدد ١٩ وارسم ١٩ مثلثاً.

ارسم ٢٠ شيئاً واكتب العدد ٢٠

A series of horizontal dashed lines in blue, pink, and green, intended for drawing and writing.

درس ٣١

اكتب العدد ٢١ ثلاثة مرات.

واكتب العدد ٢٢ ثلاث مرات.

Handwriting practice lines consisting of ten sets of horizontal dashed lines in blue, pink, and green colors.

درس ٣٢

اكتب العدد ٢٣ ثلاثة مرات.

واكتب العدد ٢٤ ثلاث مرات.

Handwriting practice lines consisting of 12 sets of horizontal dashed lines in blue, pink, and green colors.

ارسم صور لحل المسألة اللفظية وعبر عنها بجملة عددية.

A series of ten horizontal dashed lines, alternating in color from top to bottom: blue, pink, green, blue, pink, green, blue, pink, green, blue. These lines are intended for drawing or writing.

درس ٣٣
اكتب العدد ٢٥ ثلاثة مرات.

Handwriting practice lines consisting of 12 sets of horizontal dashed lines in blue, pink, and green colors.

حل المسائل مع زميلك المجاور. اكتب مسألة عددية لكل منها.

Handwriting practice lines consisting of ten sets of horizontal dashed lines in blue, pink, and green colors.

درس ٣٤

اكتب العدد ٢٦ ثلاثة مرات.

اكتب العدد ٢٧ ثلاثة مرات.

Handwriting practice lines consisting of 12 sets of horizontal dashed lines in blue, pink, and green colors.

ارسم صور لحل المسائل اللفظية. اكتب جملة عددية لكل مسألة.

A series of ten horizontal dashed lines for writing answers, alternating in color: blue, pink, green, blue, pink, green, blue, pink, green, blue.

درس ٣٥

اكتب العدد ٢٨ ثلاثة مرات.

اكتب العدد ٢٩ ثلاثة مرات.

Handwriting practice lines consisting of 12 sets of horizontal dashed lines in blue, pink, and green colors.

درس ٣٦
اكتب العدد ٣٠ ثلاثة مرات.

Handwriting practice lines consisting of ten sets of three horizontal dashed lines. Each set includes a top blue dashed line, a middle pink dashed line, and a bottom green dashed line.

اكتب الأعداد التي يقولها المعلم بصوت مرتفع.

Handwriting practice lines consisting of multiple sets of three horizontal dashed lines in blue, pink, and green colors.

درس ٣٨

اكتب الأعداد التي يقولها المعلم بصوت مرتفع.
اكتب الأعداد من ٢١ حتى ٣٠ ومثلها مستخدماً إطار الخمس وحدات.

A series of ten horizontal dashed lines for writing practice, alternating in color between blue, pink, and green.

درس ٤٠

اكتب الأعداد التي يقولها المعلم بصوت مرتفع.

Handwriting practice lines consisting of 12 sets of horizontal dashed lines in blue, pink, and green colors.

The page contains ten sets of horizontal dashed lines, each set consisting of three lines in blue, pink, and green. These lines are spaced evenly down the page, providing a template for drawing or writing.

درس ٤١

اكتب العدد ٣١ ثلاثة مرات. اكتب العدد ٣٢ ثلاث مرات.

Handwriting practice lines consisting of 12 sets of horizontal dashed lines in blue, pink, and green colors.

ارسم صور لحل المسائل اللفظية. اكتب جملة عددية لكل مسألة.

Handwriting practice area with ten sets of horizontal dashed lines in blue, pink, and green colors.

درس ٤٢

اكتب العدد ٣٣ ثلاث مرات. اكتب العدد ٣٤ ثلاث مرات.

Handwriting practice lines consisting of 12 sets of horizontal dashed lines in blue, pink, and green colors.

درس ٤٣
اكتب العدد ٣٥ ثلاثة مرات

Handwriting practice lines consisting of ten sets of three horizontal dashed lines in blue, pink, and green colors.

درس ٤٤

اكتب العدد ٣٦ ثلاثة مرات. اكتب العدد ٣٧ ثلاث مرات.

Handwriting practice lines consisting of 12 sets of horizontal dashed lines in blue, pink, and green colors.

درس ٤٥

اكتب العدد ٣٨ ثلاثة مرات. اكتب العدد ٣٩ ثلاث مرات.

Handwriting practice lines consisting of ten sets of three horizontal dashed lines in blue, pink, and green colors.

درس ٤٤
اكتب العدد ٤٠ ثلاثة مرات

Handwriting practice lines consisting of 12 sets of horizontal dashed lines in blue, pink, and green colors.

اكتب الأعداد التي يقولها المعلم بصوت مرتفع.

Handwriting practice lines consisting of multiple rows of dashed lines in blue, pink, and green colors.

استخدم هذه الصفحة لحل مسائل طرح.

Handwriting practice lines consisting of 10 sets of horizontal dashed lines in blue, pink, and green colors.

اكتب الأعداد التي يقولها المعلم بصوت مرتفع.

Handwriting practice lines consisting of ten sets of horizontal dashed lines in blue, pink, and green colors.

درس ٤٨

اكتب $٥ + ٥ = ١٠$ ثم حل المسألة $١٠ - ٥ =$
ثم اكتب الجمل العددية هنا.

Handwriting practice lines consisting of 10 sets of horizontal dashed lines in blue, pink, and green colors.

Handwriting practice lines consisting of multiple rows of dashed lines in blue, pink, and green colors.

درس ٥٢
اكتب وحل المسائل الحسابية هنا.

Handwriting practice lines consisting of 12 sets of horizontal dashed lines in blue, pink, and green colors.

Handwriting practice lines consisting of 10 sets of horizontal dashed lines in blue, pink, and green colors.

درس ٥٤
اكتب الأعداد من ٤٠ إلى ٤٩.

Handwriting practice lines consisting of 10 sets of three horizontal dashed lines in blue, pink, and green colors.

اكتب الأوقات التي يقولها المعلم بصوت مرتفع .

Handwriting practice lines consisting of multiple sets of horizontal dashed lines in blue, pink, and green colors.

درس ٥٥
اكتب الأعداد من ٥٠ إلى ٥٩.

Handwriting practice lines consisting of 12 sets of horizontal dashed lines in blue, pink, and green colors.

درس ٥٦
اكتب الأعداد من ٦٠ إلى ٦٩.

Handwriting practice lines consisting of ten sets of three horizontal dashed lines. Each set includes a top blue dashed line, a middle pink dashed line, and a bottom green dashed line.

درس ٥٧
اكتب الأعداد من ٧٠ إلى ٧٩.

Handwriting practice lines consisting of 10 sets of horizontal dashed lines in blue, pink, and green colors.

درس ٥٨
اكتب الأعداد من ٨٠ إلى ٨٩ .

Handwriting practice lines consisting of ten sets of three horizontal dashed lines. Each set includes a top blue dashed line, a middle pink dashed line, and a bottom green dashed line.

درس ٥٩
اكتب الأعداد من ٩٠ إلى ٩٩.

Handwriting practice lines consisting of 12 sets of horizontal dashed lines in blue, pink, and green colors.

درس ٦٠
اكتب العدد ١٠٠ ثلاث مرات.

Handwriting practice lines consisting of ten sets of horizontal dashed lines in blue, pink, and green colors.

رقم الكتاب	التجليد	طباعة الغلاف	طباعة المتن	ورق الغلاف	ورق المتن	عدد الصفحات بالغلاف	المقاس
٧	بشر	٤ لون	٤ لون	١٨٠ جرام	٧٠ جرام	٢٣٦	$(٨٢ \times ٥٧) \frac{1}{8}$

حقوق الطبع والنشر © ٢٠١٨

جميع حقوق النشر محفوظة لوزارة التربية والتعليم والتعليم الفني
لا يسمح بتوزيع هذا الكتاب خارج وزارة التربية والتعليم والتعليم الفني

<http://elearning.moe.gov.eg>

