



اختبار الفترة الأولى مادة الرياضيات للصف الثالث الابتدائي



الفصل: .....

اسم الطالب/ة: .....

٢٠

السؤال الأول: اجب عن ما يلي :

• اختر الوحدة الأنسب لقياس الأشياء الآتية :

	١. كتلة حبة فراولة ( جرام - كيلوجرام )
	٢. سعة حوض سمك ( ملتر - لتر )
	٣. طول قلم حبر ( ملتر - سنتيمتر - متر - كيلومتر )
	٤. كتلة طفل ( جرام - كيلوجرام )
	٥. سعة ملعقة ( ملتر - لتر )
	٦. طول غرفة الصف ( ملتر - سنتيمتر - متر - كيلومتر )
	٧. طول المسافة بين الرياض وحائل ( ملتر - سنتيمتر - متر - كيلومتر )
	٨. طول عنملة ( ملتر - سنتيمتر - متر - كيلومتر )

• أوجد ما يلي :


الحجم = ..... وحدة مكعبة	المساحة = ..... وحدة مربعة	المحيط = ..... سم

• اكتب الزمن الذي تُشير إليه ساعة العقارب :

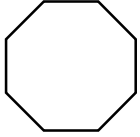


..... : .....

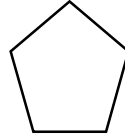
• اكمل الفراغ :

عدد الرؤوس	عدد الأحرف	عدد الأوجه	اسم الجسم	الجسم
.....	.....	.....	.....	

• اسم الشكل المستوي



.....



.....

• اكمل الجدول :

عدد محاور التماثل	هل له محور تماثل	الشكل
.....	( نعم - لا )	