

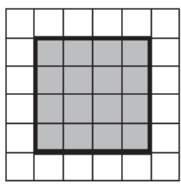
ورقة تدريبات: قياس المساحة

التاريخ / / ١٤٤٤ هـ

الصف : الرابع

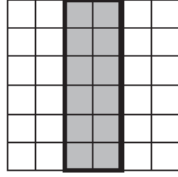
الاسم :

قَدِّرْ مِسَاحَةَ كُلِّ مُرَبَّعٍ أَوْ مُسْتَطِيلٍ، ثُمَّ أوجدْهَا بِالضَّبْطِ.



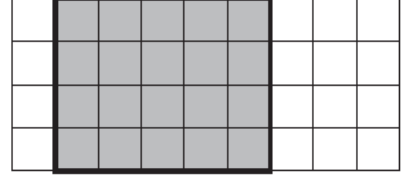
٣

.....



٢

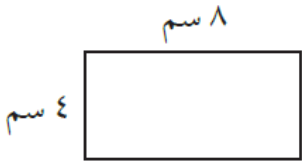
.....



١

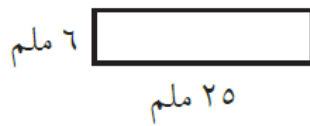
.....

أوجد مساحة كل شكل مما يلي:



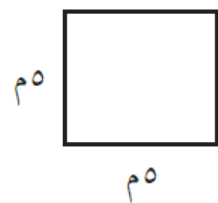
٦

.....



٥

.....



٤

.....

٧ مساحة غرفة ١٢١ مترًا مربعًا، وعرضها ١١ مترًا، ما طولها؟ .....