
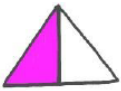




اسم الطالب:	اسم المدرسة:	الدرجة: _____ ٢٠
-------------	--------------	---------------------

اختر الإجابة الصحيحة فيما يأتي:

١	اكتب القيمة المنزلية للرقم الذي تحته خط في العدد ٥٣٤٥٦						
أ	٥	ب	٥٠٠	ج	٥٠٠٠	د	٥٠٠٠٠
٢	يكتب العدد (أربعون ألفاً وثلاث مئة وثمانون) بالصيغة القياسية :						
أ	٤٠٠٣٠٠٨	ب	٤٠٣٨٠	ج	٤٣٨٠٠	د	٤١٣٨٠
٣	اكتب العدد التالي : ١٠، ١٢، ١٤، ١٦،						
أ	٢	ب	١٨	ج	١٧	د	٢٢
٤	أي الأعداد الآتية أصغر من ٤٢٥٩ ؟						
أ	٤٢٨٠	ب	٤٢٦٠	ج	٤٢٠٩	د	٤٢٩٥
٥	اشترى محمد حاسوب ثمنه ٥٤٣٨ ريالاً ، ثم وجد نفس الحاسوب في متجر آخر وبأسعار مختلفة ، أي الاثمان أقل من الثمن الذي اشتراه محمد ؟						
أ	٥٤٨٣	ب	٥٣٤٨	ج	٥٨٤٣	د	٥٤٣٨
٦	الصورة التي تمثل الكسر $\frac{1}{6}$ هي :						
أ		ب		ج		د	
٧	توجد ٣ علب دهان حمراء و ٥ علب خضراء ما الكسر الذي يمثل عدد العلب الحمراء ؟						
أ	$\frac{3}{8}$	ب	$\frac{5}{8}$	ج	$\frac{8}{8}$	د	$\frac{7}{8}$

أ	ب	ج	د	
٨	فازت في مسابقة القرآن الكريم ٣١٥ طالبة من مدينة حائل وفاز ١٤٤ طالبة من مدينة جدة ، ما إجمالي عدد الطالبات الفائزات في المدينتين ؟			
أ	٢٩٨	ب	٤٥٩	ج
٩	أوجد ناتج العملية : $٣٤١ - ٢٧ =$			
أ	٢٩٠	ب	٣١٤	ج
١٠	$٤٥٠ = \square - ٤٥٠$			
أ	٠	ب	٢	ج
١١	إذا كان للعنكبوت ٨ أرجل ، فكم رجلاً لعنكبوتين ؟			
أ	٦	ب	١٦	ج
١٢	تريد سارة أن توزع ١٨ موزة بالتساوي على ٣ أطباق ، فكم موزة تضع في كل طبق ؟			
أ	٧	ب	٥	ج
١٣	اكتب جملة القسمة التي تمثل الشكل			
أ	$٢ = ٢ \div ٤$	ب	$٤ = ٢ \div ٨$	ج
د	$٨ = ١ \div ٨$	د	$١٢ = ٤ + ٨$	
١٤	قدر ناتج : $٢٢ - ٤٩$ باستعمال التقريب .			
أ	٤٠	ب	٣٠	ج
١٥	يوجد ٣ طاوولات على كل منها ٤ كتب ومع كل كتاب قلمان ، فما عدد الأقلام كلها ؟			
أ	٢١	ب	٢٧	ج
د	٢٤	د	٢٠	

زرعت ليلي ٢٤ نبتة زهور وفق النمط :

نبتة تباع الشمس يليها نبتتا ورداً جورياً فإذا استمرت على هذا النمط ... فكم نبتة جورية زرعت؟



١٠

د

١٢

ج

١٤

ب

١٦

أ

١٦

العدد	الاشارات	أنواع الفطائر
٣		جبين
٦	-	زعتر
٤		دجاج
٥		بيض

أرادت هند شراء عدد من الفطائر بحسب الجدول المجاور
أي العبارات التالية صحيحة :

٧ بيض

د

٤ دجاج

ج

٢ زعتر

ب

٤ جبين

أ

١٧

أ

أكمل : للمكعب

١٢ وجه

د

٤ أوجه

ج

٨ أوجه

ب

٦ أوجه

أ

مربع محيطه ١٦ سم ، طول ضلعه =

٦ سم

د

٥ سم

ج

٤ سم

ب

٣ سم

أ

دفع فيصل النقود التالية لشراء اللعبة فما ثمنها؟



٧٠٠ ريال

د

٦٦٠ ريال

ج

٦٥٠ ريال

ب

٦٠٠ ريال

أ

٢٠

انتهت الأسئلة

مع رجائي لكم بالتوفيق