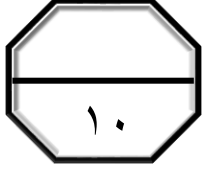





اسم الطالب /

ورقة عمل (الأسبوع السابع عشر) للصف الخامس الابتدائي الفصل الدراسي الأول للعام الدراسي ١٤٤٧ هـ



المهارات
تقريب الكسور
استقصاء حل المسألة

١	قرب كل كسر فيما يأتي إلى صفر ، أو إلى $\frac{1}{4}$ أو ١
	<div> $\frac{1}{12}$  </div> <div> $\frac{5}{11}$  </div> <div> $\frac{14}{16}$  </div>

٢	أوجد إلى أقرب نصف متر، ارتفاع أعلى دولا ب ملابس يمكن وضعه في غرفة ارتفاع سقفها $3\frac{2}{10}$ م
	<div> 3 م </div> <div> $3\frac{1}{2}$ م </div> <div> 4 م </div> <div> $4\frac{1}{2}$ م </div>

٣	اشترت سلمى خاتما ودفعت $\frac{1}{2}$ ثمنه الأصلي . إذا كانت قد دفعت ٥٠٠ ريال . فما ثمن الخاتم الأصلي ؟
	<div> 500 ريال </div> <div> 1000 ريال </div> <div> 1500 ريال </div> <div> 2000 ريال </div>

٤	أخبر المعلم طلابه بتقديراتهم في اختبار الرياضيات، فقال : $\frac{1}{3}$ الطلاب حصلوا على تقدير ممتاز، و $\frac{1}{3}$ آخر تقديرهم جيد جدا. ما الكسر الذي يمثل عدد الطلاب الذين تقديرهم جيد فأقل ؟
	<div> $\frac{2}{3}$ </div> <div> $\frac{1}{3}$ </div> <div> $\frac{1}{2}$ </div>