

تم تحميل وعرض المادة من



Google



موقع حصتي

موقع حصتي هو موقع تعليمي يعمل على تسهيل العملية التعليمية بطريقة بسيطة وسهلة وتوفير كل ما يحتاجه المعلم والطالب لكافة الصفوف الدراسية كما يحتوي الموقع على حلول جميع المواد مع الشروح المتنوعة للمعلمين.



التاريخ : ____ / ____ / ١٤٤٧ هـ

المادة : رياضيات الصف : الثاني ابتدائي

الزمن : ساعتان ونصف الفترة : ____

الاختبار النهائي لمادة الرياضيات للصف الثاني (الدور الاول) الفترة الدراسية الثانية للعام الدراسي ١٤٤٧ هـ

الدرجة كتابة	المجموع	السؤال (٣)	السؤال (٢)	السؤال (١)	السؤال
_____					الدرجة

	التوقيع		اسم المصحح
--	---------	--	------------

	التوقيع		اسم المراجع
--	---------	--	-------------

	التوقيع		اسم المدقق
--	---------	--	------------

_____	رقم الجلوس	الثاني (____)	الصف	اسم الطالب
-------	------------	-----------------	------	------------

أعدّ ثم أكتب السعر في البطاقة:



ب أكتب الوقت الذي تشير إليه الساعة:



٢


الساعة:



١

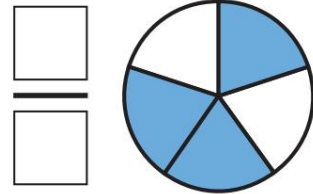
الساعة:

د ألون الأجزاء التي تمثل الكسر المكتوب:



$$\frac{2}{4}$$

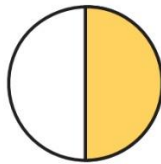
ج أكتب الكسر الدال على الجزء الملون:



ه أقرن بين الكسرين، أكتب < أو > :

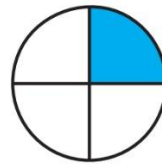


$$\frac{1}{3}$$

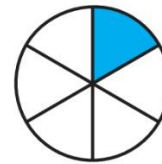


$$\frac{1}{2}$$

٢



$$\frac{1}{4}$$




$$\frac{1}{6}$$

١

أملأ جدول المنازل، وأكتب العدد:

آحاد	عشرات	مئات



٢ و ٨ و ٣

ج أكتب العدد بالأرقام:

ب أكتب العدد:

ثمانية وثلاثون.

$$= 600 + 30 + 8$$

د أقارن بين العددين، ثم أكتب الإشارة المناسبة ($=$ ، $>$ ، $<$):

٣١٣ ○ ٣١٣ **٣** ٢٥٧ ○ ٢٥٣ **٢** ١٢٤ ○ ١٤٢ **١**

و اكتشف النمط ثم اكتب الأعداد المفقودة:

٣١٦،، ٣١٤،، ٣١٢ **٢**
النمط هو: كل عدد يزيد عن
العدد السابق له.


ه أرتب الأعداد من الأصغر إلى الأكبر:

٨٠١، ٨٠٥، ٧٩٨ **١**
.....،،

١٣

• السؤال (٣)

ب أكتب عدد الأضلاع وعدد الرؤوس:

أضلاع  **٢**
رؤوس


ا أكتب اسم الجسم:

.....  **١**

د أحوِّط الوحدة المناسبة لقياس السعة:

 **٢**
مِلِّتْر لِتْر

ج أحوِّط الشكل الذي مساحته أكبر:

 **١**

ه أجد ناتج الجمع أو الطرح:

٦٤٠ **٣** ٢٤٣ **٢** ٤٠٠ **١**
٥٠ - ٢١٩ + ٣٠٠ +

للمزيد من الاختبارات اضغط
على قناة تيليجرام

معلمة المادة

❖ انتهت الأسئلة ❖

(مع أطيب الدعوات لكم بالنجاح والتفوق)

(لا أحل إعادة نشر هذا النموذج بدون حقوق القناة) قناة **مرح الرياضيات** TELEGRAM

https://t.me/math_marah

المملكة العربية السعودية

وزارة التعليم

اسم الإدارة

اسم المدرسة



وزارة التعليم
Ministry of Education

التاريخ : ____ / ____ / ١٤٤٧ هـ

المادة : رياضيات الصف : الثاني ابتدائي

الزمن : ساعتان ونصف الفترة : ____

الاختبار النهائي لمادة الرياضيات للصف الثاني (الدور الاول) الفترة الدراسية الثانية للعام الدراسي ١٤٤٧ هـ

السؤال	السؤال (١)	السؤال (٢)	السؤال (٣)	المجموع	الدرجة كتابة
الدرجة					

نموذج الاجابة

اسم الطالب	الصف	الثاني (____)	رقم الجلوس

موقع حصتي

قناة مرحب الرياضيات TELEGRAM

https://t.me/math_marah

أعدّ ثم أكتب السعر في البطاقة:



ب أكتب الوقت الذي تشير إليه الساعة:

درجة واحدة



٢

الثانية والنصف السّاعة:

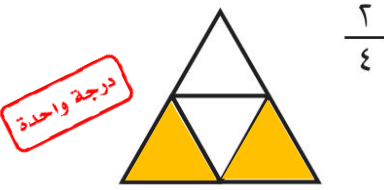
درجة واحدة



١

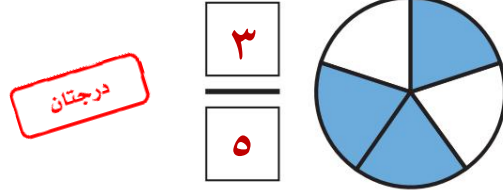
السّاعة ٨

د ألون الأجزاء التي تمثّل الكسر المكتوب:



درجة واحدة

ج أكتب الكسر الدال على الجزء الملون:

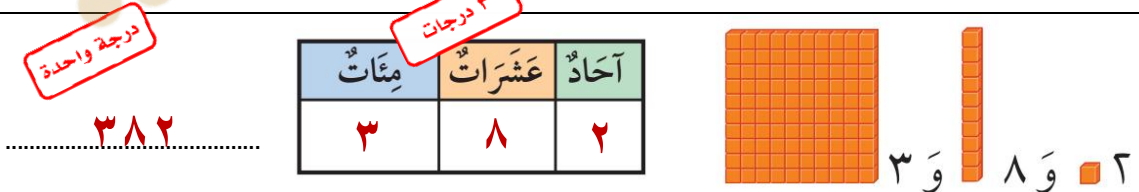


درجتان

ه أقرن بين الكسرين، أكتب < أو >:



أملأ جدول المنازل، وأكتب العدد:



درجة واحدة

٣ درجات

درجة واحدة

ج أكتب العدد بالأرقام:

درجة واحدة

ثمانية وثلاثون ٣٨

ب أكتب العدد:

درجة واحدة

٦٣٨ = ٦٠٠ + ٣٠ + ٨

د أقارن بين العددين، ثم أكتب الإشارة المناسبة ($=$ ، $>$ ، $<$):

3 درجات

٣١٣ $\textcircled{=}$ ٣١٣ $\textcircled{3}$ ٢٥٧ $\textcircled{>}$ ٢٥٣ $\textcircled{2}$ ١٢٤ $\textcircled{<}$ ١٤٢ $\textcircled{1}$

و اكتشف النمط ثم اكتب الأعداد المفقودة:

٣١٦، ٣١٥، ٣١٤، ٣١٣، ٣١٢ $\textcircled{2}$
النمط هو: كل عدد يزيد ١ عن
العدد السابق له.

3 درجات

ه أرتب الأعداد من الأصغر إلى الأكبر:

٨٠١ ، ٨٠٥ ، ٧٩٨ $\textcircled{1}$
٨٠٥ ، ٨٠١ ، ٧٩٨ $\textcircled{3}$

3 درجات

١٣

السؤال (٣)

ب أكتب عدد الأضلاع وعدد الرؤوس:

أضلاع ٥
رؤوس ٥



درجتان

ا أكتب اسم الجسم:

مكعب



درجة واحدة

د أحوِّط الوحدة المناسبة لقياس السعة:


لتر



مللتر

درجتان

ج أحوِّط الشكل الذي مساحته أكبر:



درجتان

ه أجد ناتج الجمع أو الطرح:

$$\begin{array}{r} 514 \\ 740 \\ \hline 590 \end{array}$$

درجتان

$$\begin{array}{r} 243 \\ 219 \\ \hline 462 \end{array}$$

درجتان

$$\begin{array}{r} 400 \\ 300 \\ \hline 700 \end{array}$$

درجتان

للمزيد من الاختبارات اضغط
على قناة تيليجرام



معلمة المادة

❖ انتهت الأسئلة ❖

(مع أطيب الدعوات لكم بالنجاح والتفوق)

(لا أحل إعادة نشر هذا النموذج بدون حقوق القناة) قناة **مرح الرياضيات** TELEGRAM

https://t.me/math_marah