

نموذج تدريب الطلاب على الاختبارات الوطنية (نافس)  
الصف الثالث الابتدائي

			اسم الطالب
	الدرجة من ٣٠		المدرسة

مستعيناً بالله احب على جميع الأسئلة وعددها (٣٠) سؤال

قسم الرياضيات

س ١	اكتب العدد المناسب في <input type="text"/> (٢٥، <input type="text"/> ، ١٥، ١٠، ٥)						
أ	٥	ب	٢٠	ج	٣٠	د	٥٠

س ٢	حدد اسم منزلة الرقم الذي تحته خط في العدد ٦٧٤٣٨						
أ	العشرات	ب	المئات	ج	الألوف	د	عشرات الألوف

س ٣	اختر الرمز المناسب من الرموز ( = ، > ، < ) للمقارنة بين ٩٣١ <input type="text"/> ٨٧٥						
أ	<	ب	>	ج	=	د	+

س ٤	أوجد ناتج الجمع = ٥٦ + ٣٨						
أ	٤٨	ب	٨٤	ج	٤٩	د	٩٤

س ٥	اكتب العدد المناسب في الفراغ ( ٢ + <input type="text"/> = ٩ + ٢ )						
أ	٢	ب	٦	ج	٩	د	١١


س ٦	أوجد ناتج الجمع						
$\begin{array}{r} 103 \\ 879 + \\ \hline \end{array}$							
أ	٨٨٢	ب	٩٨٢	ج	٨٩٢	د	٩٢٨

س ٧	أوجد ناتج الطرح = ١٣٧ - ٥٠٠						
أ	٣٦٣	ب	٣٧٣	ج	٤٣٧	د	٤٦٣

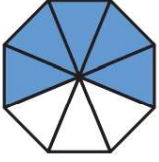
س ٨	أوجد ناتج الطرح						
$\begin{array}{r} 45 \\ 28 - \\ \hline \end{array}$							
أ	٧٣	ب	٤٧	ج	٣٧	د	١٧

س ٩	أوجد ناتج الضرب = ٨ × ٤						
أ	١٢	ب	٢٤	ج	٣٢	د	٣٦

س ١٠	أوجد ناتج القسمة = ٥ ÷ ٣٥						
أ	٧	ب	٥	ج	٤	د	٣

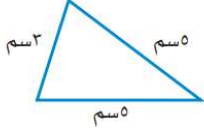
س ١١	الوقت الذي تشير إليه ساعة العقارب المجاورة						
							
أ	٦:١٢	ب	٦:٢٢	ج	٧:١٢	د	٧:٢٢

س ١٢				الكسر الذي يمثله الجزء المضلل في الشكل المجاور			
أ		ب		ج		د	
$\frac{1}{5}$		$\frac{1}{8}$		$\frac{3}{8}$		$\frac{5}{8}$	




س ١٣				اختر الوحدة الأنسب لقياس طول قلم الرصاص			
أ		ب		ج		د	
الملمتر (ملم)		السنتيمتر (سم)		المترا (م)		الكيلومتر (كلم)	

س ١٤				أوجد محيط المثلث المجاور			
أ		ب		ج		د	
١٣ سم		١٤ سم		١٥ سم		١٦ سم	



س ١٥				حدد اسم الجسم في الشكل المجاور			
أ		ب		ج		د	
هرم		أسطوانة		مخروط		كرة	



قسم القراءة

" لم يبق إلا يوم واحد " الكلمة التي فيها مد هي :							١٦
أ	ب	لم	ج	واحد	د	يوم	

الترتيب الصحيح لهذه الكلمات : " المستقبل ، عبادة ، وهو ، طريق ، العمل " :							١٧
أ	ب	طريق العمل عبادة المستقبل	ج	العمل عبادة وهو طريق المستقبل	د	عبادة المستقبل وهو طريق العمل	

حرف السين الذي يناسب بداية الكلمة التالية : ...فِينَة :							١٨
أ	ب	س	ج	س	د	س	

عندما نحول كلمة " رَجُل " إلى معرفة فإننا نقول :							١٩
أ	ب	رَجُلَان	ج	الرَّجُل	د	رِجَال	

مَعْنَى كَلِمَةِ " العِبْرَة " :							٢٠
أ	ب	العِظَة والدرس	ج	الكلام المضحك	د	السخرية والاستهزاء	

نوع الهمزة في كلمة " اكتمل " :							٢١
أ	ب	همزة متوسطة	ج	همزة متطرفة	د	همزة وصل	

" رجوع الحجاج غير حاج واحد " يُسمى هذا الأسلوب :							٢٢
أ	ب	أسلوب استثناء	ج	أسلوب أمر	د	أسلوب استفهام	

ضد كلمة ( قوي ) :							٢٣
أ	ب	ضعيف	ج	غليظ	د	خفيف	

اختار الحرف المناسب لإكمال الكلمة التالية " ميا... " :							٢٤
أ	ب	ة	ج	ه	د	ت	

كلمة " موز " تبدأ بحرف :							٢٥
أ	ب	و	ج	م	د	ز	

الحركة التي تسبق حرف المد في كلمة ( طيارا ) هي :							٢٦
أ	الفتحة	ب	الكسرة	ج	الضمة	د	الشدّة مع الفتحة

اسم الإشارة المناسب لكلمة ( سبورة ) هو :							٢٧
أ	هذا	ب	هاذان	ج	هذه	د	هاتان

اسمُ الْمَكَانِ مِنَ الْفِعْلِ ( نَزَلَ ) :							٢٨
أ	يَنْزِلُ	ب	نَازِلٌ	ج	مَنْزِلٌ	د	نَزَالٌ

المعنى الصحيح لكلمة (صنعا) هو :							٢٩
أ	فكرة	ب	قولا	ج	عملا	د	جميع ما سبق

مَا أَجْمَلَ الْأَزْهَارَ (... ) عَلامَةُ التَّرْفِيمِ الْمُنَاسِبَةِ :							٣٠
أ	تَعَجُّبٌ ( ! )	ب	اسْتِيفْهَامٌ ( ؟ )	ج	فَاصِلَةٌ ( ، )	د	نُقْطَةٌ ( . )

انتهت الأسئلة مع تمنياتنا لكم بالتوفيق، ، ،