

تشخيص مستوى الطالبات في المهارات المستهدفة للصف الرابع الابتدائي
الاسم: الفصل: المدرسة:

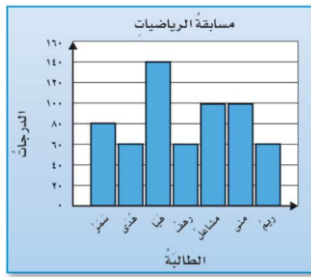
السؤال الأول: الصيغة اللفظية لمليونان وست مئة وسبعة عشر ألفاً تكتب بالصيغة اللفظية كالتالي:

الهدف الأول /قراءة الأعداد وكتابتها ضمن الملايين بطرق مختلفة وترتيبها

- ٢٦١٧٠٠٠
 ٢٦١٧٠٠
 ٢٦٧١٠٠
 ٢٦٧١٠٠٠

الهدف الثاني/ تمثيل البيانات بالنقاط والأعمدة وتفسيرها

السؤال الثاني: من التمثيل البياني الجاور تزيد درجة هيا على درجة سمر بـ:



- ٦٠
 ١٤٠
 ٨٠
 ٤٠

الهدف الثالث/ استعمال عمليات الجمع والطرح والضرب والقسمة لإنشاء جدول أو إكماله

السؤال الثالث: قاعدة الدالة التي يمثلها الجدول الجاور:

القاعدة:	
المخرجة □	المدخلة △
٣٣	٤٤
٢٢	٣٣
١١	٢٢
٠	١١

- = ١٠ - △
 □ = ١١ - △
 □ = ١١ + △
 □ = ١٠ + △

الهدف الرابع/ ضرب عدد من ثلاثة أرقام في عدد من رقمين

السؤال الرابع: ناتج الضرب ٣٥ يساوي:

$$\begin{array}{r} 35 \\ \times 24 \\ \hline \end{array}$$

- ٥٩
 ٨٤٠
 ٦٢٠
 ٦٩

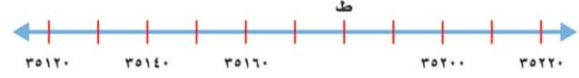
السؤال الخامس: بلغ استهلاك عائلة بدر للمياه ٧٨٩ لترًا في ٣ أيام. إذا كانت العائلة تستهلك الكمية نفسها

الهدف الخامس/ إيجاد ناتج القسمة من ثلاثة أرقام

يومياً، فكم لترًا تستهلك في اليوم الواحد؟

- ٦٢٣ لترًا
 ٣٦٢ لترًا
 ٢٦٣ لترًا
 ٣٢٦ لترًا

السؤال السادس: من الرسم النقطة ط =



الهدف السادس/ تمثيل النقاط على خط الأعداد
والمستوى الإحداثي

- 35160 ○
35170 ○
35180 ○
35190 ○


السؤال السابع: نام خالد عند الساعة ٩:١٥، واستيقظ في الساعة ٥:٣٠ صباحاً. فإن طول الفترة الزمنية

التي نامها خالد هي:

الهدف السابع/ إيجاد الزمن المنقضي وطول
الفترة الزمنية في موقف حياتي

- ٨ ساعات ○
٨ ساعات و ١٥ دقيقة ○
٤ ساعات و ١٥ دقيقة ○
٤ ساعات و ٣٠ دقيقة ○

السؤال الثامن: الكسر العشري الذي يعبر عن الجزء المظلل في الشكل المجاور.



- ٠,٩ ○
٠,١ ○
٠,٨ ○
٠,٥ ○

الهدف الثامن/ قراءة الكسور العشرية وطرحها

الهدف التاسع/ جمع الكسور العشرية وطرحها

السؤال التاسع: ناتج جمع

$$\begin{array}{r} ٠,٧ \\ + ٠,٢ \\ \hline \end{array}$$

يساوي:

- ٠,١٤ ○
٠,٩ ○
٠,٥ ○
٠,٦ ○

الهدف العاشر/ حل المسائل باستعمال التخمين والتحقق

السؤال العاشر: في مزرعة والد فاطمة طيور وخراف عددها معاً ٢٠، وعدد

أرجلها ٦٤. فما عدد كل من الطيور والخراف في المزرعة؟

- عدد الطيور ٨ وعدد الخراف ١٢ ○
عدد الطيور ١٢ وعدد الخراف ٨ ○
عدد الطيور ١٠ وعدد الخراف ١٠ ○
عدد الطيور ٩ وعدد الخراف ١١ ○

انتهت الأسئلة