


اختبار مادة العلوم للصف الثالث ابتدائي الفصل الدراسي الأول الدور (الأول) لعام ١٤٤٠-١٤٤١ هـ



عزيزتي الطالبة إليك بعض التعليمات :

- ١- بعد النسخة أقرني الأسئلة بتأني..٢- تأكد من الفقرات وعدد الصفحات.
- ٣- عدم ترك أي فقرة بدون حل.٤- ابدئي بحل الأسئلة تدريجياً...



السؤال الأول:

أختاري الإجابة الصحيحة فيما يلي:

١- يحتاج المخلوق الحي لكي يعيش وينمو الى  
(أ- الماء      ب- التنوير      ج- الشوارع      د- المصانع)

٢- من الطرائق العلمية التي يستخدمها العلماء في دراسة العلوم  
( أ- النظر      ب- الرسم      ج- الملاحظة      د- المكان)


٣- يحمل الأوراق والأزهار والثمار  
( أ- الأملاح      ب- الساق      ج- الشمس      د- الخلية)

٤- من أمثلة المخلوقات الحية  
( أ- الشمس      ب- الصخور      ج- التربة      د- الحيوانات)

٥- من أمثلة المخلوقات  
( أ- النمر      ب- البكتيريا      ج- الذئب      د- التفاح)

٦- من تكيفات التي تساعد الجمل على البقاء والعيش  
( أ- اللون      ب- الوزن      ج- الذيل      د- الشفة المشقوقة)

ب- اكتبي أجزاء النبتة عند كل سهم بما يناسبة



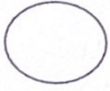
## السؤال الثاني:

١- أكمل الفراغات التالية بما يناسبها من الكلمات التي أمامك:

(المخلية- التكاثر- الهجرة- البناء الضوئي- التعرية- الزلزال- التكيف- دورة الحياة)



- ١- مراحل حياة المخلوق الحي.
- ٢- انتقال المخلوق الحي من بيئة الى بيئة أخرى بحثاً عن الغذاء.
- ٣- النبات يصنع غذاءه بعملية تسمى.
- ٤- تفتت الصخور إلى قطع صغيرة جداً.
- ٥- من خصائص المخلوقات الحية.
- ٦- هو حركة فجائية لصخور القشرة الأرضية.
- ٧- هو التركيب أو السلوك الذي يساعد المخلوق الحي على البقاء حياً.
- ٨- تسمى الوحدة البنائية التي تكون أجسام المخلوقات الحية.



ب- عددي بعض طرق حماية الإنسان لبيئته:

- ١- .....
- ٢- .....
- ٣- .....
- ٤- .....



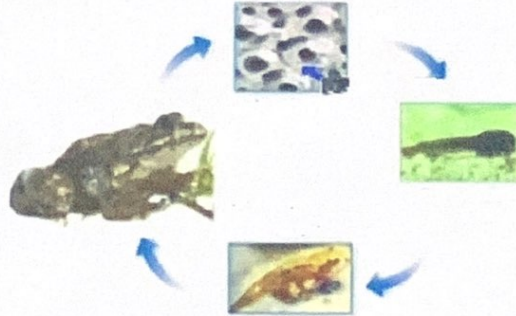
ج- مثلي لسلسلة غذائية من عندك:

.....

السؤال الثالث: أ- تعرفي على دورة الحياة التي أمامك، ثم اكمل بياناتها:



دورة حياة.....





دورة حياة .....



ب-اكتبی الرقم المناسب من العمود ( أ ) امام العبارات المناسبة في العمود ( ب )

الرقم	أ	ب
١-	لها تراكيب هوائية تمكنها من الطفو فوق سطح البحر	الثعبان
٢-	له مخالب حادة تمكنه من الصيد	التعرية
٣-	من صور التكيف التخفي مثل	النباتات المائية
٤-	انحباس الامطار فترة طويلة	الترسيب
٥-	الحيوان الذي لا يبقى من نوعه أي فرد يسمى	التلوث
٦-	من التغيرات البطيئة التي تحدث على سطح الأرض	الاسد
٧-	نقل فتات الصخور بالمياه الجارية والرياح	الجفاف
٨-	اشياء ضارة في الهواء والماء والتربة	منقرضاً
٩-	فتحة في القشرة الأرضية تندفع منها الصهارة	البركان

انتهت الأسئلة  
تمنيتي للجميع بالتوفيق والنجاح