

تم تحميل وعرض المادة من



Google



موقع حصتي

موقع حصتي هو موقع تعليمي يعمل على تسهيل العملية التعليمية بطريقة بسيطة وسهلة وتوفير كل ما يحتاجه المعلم والطالب لكافة الصفوف الدراسية كما يحتوي الموقع على طول جميع المواد مع الشروح المتنوعة للمعلمين.

## اختبار الفترة مادة المهارات الرقمية للصف الرابع ابتدائي الفصل الدراسي الأول 1447

اسم الطالبة: ..... الصف: .....

اختاري الإجابة الصحيحة:

1- هو أحد أنواع الأجهزة الإلكترونية الذي يمكنه اتباع تعليمات محددة واتخاذ القرارات والقيام بالكثير من الأمور المفيدة:

أ السيارة ب الحاسب ج الكاميرا د المكيف

2- عند بدء تشغيل جهاز الحاسب تظهر الشاشة الرئيسية لنظام التشغيل تسمى:

أ لوحة التحكم ب سطح المكتب ج الملفات د المستندات

3- تسمى البيانات والمعلومات المخزنة والموجودة في الحاسب باسم :

أ المجلدات ب الملفات ج البرامج د نظام التشغيل

4- جهاز يمكنك استخدامه لكتابة النصوص والأرقام عند استخدام جهاز الحاسب:

أ الفأرة ب لوحة المفاتيح ج الميكرفون د السماعات

5- جهاز يمكن استخدامه لطباعة صفحة:

أ الطابعة ب الكاميرا الرقمية ج السماعات د لوحة المفاتيح

6- - لإعادة تسمية المجلد نضغط بالزر الأيمن ونختار :

أ إعادة التسمية ب نسخ ج حذف د قص

7- لحذف النص المحدد نضغط على لوحة المفاتيح مفتاح :

أ Shift ب Esa ج Delete د Enter

8- لإنشاء سطر جديد نضغط على مفتاح:

أ Shift ب Backspace ج Enter د Delete

9- للتبديل بين لغة الكتابة نضغط على :

أ Delete ب Enter ج Backspace د Shift + Alt

10- لتغيير لون الخط نضغط على :

أ U ب *I* ج **B** د **A**



ضعي علامة ✓ أو ✗ أمام العبارات التالية:

10

1- يتكون الحاسب المكتبي من مجموعة من الأجهزة المتصلة ببعضها.	<input type="radio"/>
2- يجب عليك تحديد النص الذي تريد تعديله قبل القيام بتنسيق الخط .	<input type="radio"/>
3- لكتابة النصوص والأرقام يمكننا استخدام برنامج معالج النصوص مثل مايكروسوفت وورد.	<input type="radio"/>
4- يمكن تغيير مظهر سطح المكتب في جهاز الحاسب	<input type="radio"/>
5- لا يمكن ادراج رموز في برنامج معالج النصوص مايكروسوفت وورد.	<input type="radio"/>
6- لا يمكن التراجع عن التنسيق الذي قمتي به	<input type="radio"/>

اكتبي تحت كل صورة علاقة الجهاز بالحاسب من خلال الخيارين بالتالية: بكتابة الرقم



(2) جهاز ملحق بالحاسب

(1) من مكونات الحاسب




انتهت الاسئلة

أرجو لكن التوفيق

## اختبار المهارات الرقمية للصف الرابع

الأسم / ..... الفصل / رابع .....

1	 <p>نوع الملف الموجود في الصورة المقابلة ملف صور.</p>	(1) صح	(2) خطأ
2	<p>الملف هو:</p> <p>(1) أحد أنواع الأجهزة الإلكترونية.</p> <p>(2) البيانات المخزنة والمعلومات الموجودة في الحاسب.</p> <p>(3) مساحة تخزينية على القرص الصلب حيث يمكن حفظ وتخزين الملفات والبرامج الخاصة بك.</p>		
3	<p>نقوم بإنشاء اختصار للملفات والمجلدات ل.....</p> <p>(1) الوصول إليها بسرعة وسهولة.</p> <p>(2) توفير مساحة على أجهزة الحاسب.</p> <p>(2) إرسالها كمرفقات عبر البريد الإلكتروني.</p>		
4	<p>تستخدم وحدة ..... لتحديد دقة الشاشة على الأجهزة الإلكترونية.</p> <p>(1) البايت.</p> <p>(2) البكسل.</p> <p>(3) الكيلو.</p>		
5	<p>نقوم بضغط حجم الملفات والمجلدات ل.....</p> <p>(1) إرسالها إلى سلة المحذوفات.</p> <p>(2) نسخها في مجلد المستندات.</p> <p>(3) توفير مساحة على أجهزة الحاسب.</p>		
6	<p>من المهم تثبيت برامج الحماية من الفيروسات.</p> <p>(1) صح.</p> <p>(2) خطأ.</p>		
7	 <p>حددي نوع المجلد الموجود في الصورة المقابلة.</p> <p>(1) مضغوط.</p> <p>(2) اختصار.</p> <p>(3) مجلد فرعي.</p>		
8	 <p>ما اسم جهاز التخزين الموجود في الصورة التالية:</p> <p>(1) وحدة الذاكرة.</p> <p>(2) وحدة الذاكرة الفلاشية.</p> <p>(3) القرص المضغوط CD.</p>		
9	<p>من أضرار الفيروسات: جعل الحاسب أبطأ، سرقة كلمات المرور والملفات، يُظهر رسائل مزعجة على الشاشة.</p> <p>(1) صح.</p> <p>(2) خطأ.</p>		
10	<p>نستخدم ..... للتواصل المرئي عبر الانترنت.</p> <p>(1) الميكرفون.</p> <p>(2) الماسح الضوئي.</p> <p>(3) كاميرا الويب.</p>		

١١	مكونات صندوق الحاسب هي: محرك القرص الصلب ومحرك أقراص الفيديو الرقمي وذاكرة الوصول العشوائي ووحدة المعالجة المركزي ومزود الطاقة و.....	(١) اللوحة الأم.	(٢) الشاشة.	(٣) الطابعة.
١٢	تتميز الطابعة النافثة للحبر باستخدام ٤ ألوان من الحبر ويرخص ثمنها.	(١) صح.	(٢) خطأ.	
١٣	تتميز طابعة الليزر بأنها أكثر أنواع الطابعات شيوعاً.	(١) صح.	(٢) خطأ.	
١٤	نستخدم ..... لتسجيل الصوت.	(١) السماعات.	(٢) الميكروفون	(٣) الطابعة.
١٥	نستخدم الماسح الضوئي لطباعة الصفحة.	(١) صح.	(٢) خطأ.	
١٦	فيروس الحاسب هو .....	(١) بكتيريا ضارة.	(٢) برنامج أو ملف.	(٣) أحد مكونات الحاسب.
١٧	أي من الأجهزة التالية من ملحقات الحاسب؟	(١) اللوحة الأم.	(٢) وحدة الذاكرة.	(٣) الكاميرا الرقمية.
١٨	تشير الصورة المقابلة إلى مكونات .....			
١٩	التاريخ والوقت، التحكم بالصوت، زر ابدأ، متصفح مايكروسوفت ايدج موجودين في .....	(١) مجلد المستندات.	(٢) شريط المهام.	(٣) سلة المحذوفات.
٢٠	تشير الصورة المقابلة إلى .....	(١) برنامج	(٢) ملف	(٣) مجلد

أ/ نعيمة العتيبي

( اختبار الفترة الاولى) المادة: ( مهارات رقمية ) الصف: ( الرابع )

اسم الطالب : .....









السؤال الأول: ضع الكلمات الآتية في أماكنها الصحيحة  
( سلة المحذوفات - متصفح إيدج - التحكم بمستوى الصوت - الاتصال بالإنترنت - مستكشف الملفات -  
زر ابدأ - شريط المهام - التاريخ والوقت )



السؤال الثاني: اجب بعلامة ✓ او ✗ امام العبارات التالية

- 1- هناك دائما نقطة بين اسم الملف وامتداده ( )
- 2- لطباعة أي مستند تأكد من ان الحاسب متصل بالطابعة ( )
- 3- لا يمكنك الطباعة على احجام مختلفة من ورق الطباعة ( )
- 4- يتكون الحاسب المكتبي من مجموعة من الاجهزة المتصلة ببعضها البعض تمكنه من اداء المهام المختلفة ( )

السؤال الثالث: اختر الاجابة الصحيحة فيما يلي

ملف	مجلد	برنامج	
<input type="radio"/>	<input type="radio"/>	<input type="radio"/>	
<input type="radio"/>	<input type="radio"/>	<input type="radio"/>	
<input type="radio"/>	<input type="radio"/>	<input type="radio"/>	
<input type="radio"/>	<input type="radio"/>	<input type="radio"/>	
<input type="radio"/>	<input type="radio"/>	<input type="radio"/>	
<input type="radio"/>	<input type="radio"/>	<input type="radio"/>	
<input type="radio"/>	<input type="radio"/>	<input type="radio"/>	
<input type="radio"/>	<input type="radio"/>	<input type="radio"/>	

بالتوفيق والسداد معلم المادة

معلم المادة: خالد ال الشيخ

٢٠

اسم الطالبة: ..... الصف: .....

طالبتي مبرمجة المستقبل تذكري ان التفوق في مجال التكنولوجيا يعزز شعور الفخر

٨

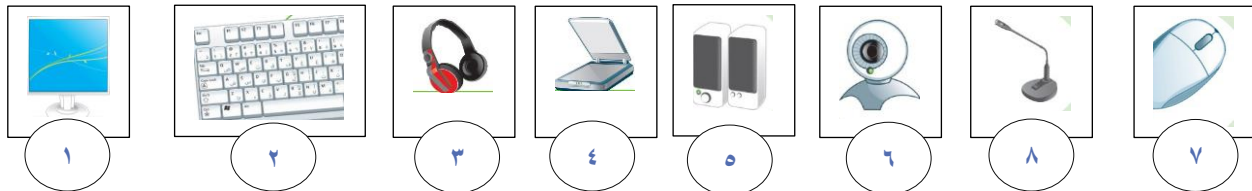
السؤال الأول / ضع علامة (V) أو (X) أمام العبارات التالية:

١	يتكون الحاسب المكتبي من مجموعة من الأجهزة المتصلة ببعضها	V
٢	كل ما تراه على شاشتك يمكنك طباعته على الورق	V
٣	لطباعة المستند ليس من الضروري ان تكون الطابعة متصلة بالحاسب	X
٤	لإجراء أي تنسيق على النص يجب علينا تحديد النص	V
٥	لحذف حرف من الكلمة اضغط backspace	V
٦	يوجد في شريط المهام زر أبدا فقط	V
٧	لكتابة النصوص والأرقام يمكننا استخدام برنامج معالج النصوص مثل مايكروسوفت وورد	V
٨	لا يمكننا تغيير مظهر سطح المكتب بالألوان التي نفضلها	X

٨

السؤال الثاني: اكتب رقم الاسم الصحيح في الدائرة تحت الصور :-

١ الشاشة ٢ لوحة المفاتيح ٣ سماعات الأذن ٤ الماسح الضوئي ٥ مكبرات الصوت ٦ كاميرا الويب ٧ الفأرة ٨ الميكروفون











السؤال الثالث / صل بين العمود أ بما يناسبه من العمود ب

٤

العمود (ب)	العمود (أ)
	ملف نصي
	ملف مستند
	ملف العرض التقديمي
	ملف صورة

بالتوفيق للجميع ,, انتهت الأسئلة

معلمة المادة : أثير التويجري

