

اسم الطالب / .....

ورقة عمل ( الأسبوع التاسع ) للصف الرابع الابتدائي الفصل الدراسي الثاني للعام الدراسي ١٤٤٧ هـ.



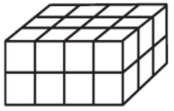
المهارات
وحدات الكتلة في النظام المتري
خطة حل المسألة ( خطة التبرير المنطقي )
تقدير الحجم وقياسه

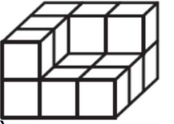
ضع علامة ( √ ) أمام العبارة الصحيحة وعلامة ( x ) أمام العبارة الخاطئة :	
أ كتلة الشيء هي مقدار ما يحتويه من مادة.	١
ب اكثر الوحدات استعمالا لقياس الكتلة . الجرام والكيلوجرام .	
ج يقاس الحجم بالوحدات المكعبة .	

اختر التقدير الأنسب لكتلة الشكل المجاور :	
	٢
أ ٣ جم	ب ٣ كجم

اختر التقدير الأنسب لكتلة الشكل المجاور :	
	٣
أ ٢٥٠ جم	ب ٢٥٠ كجم

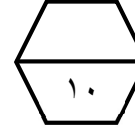
يلعب كل من أحمد وفارس ويوسف وناصر في فريق المدرسة لكرة السلة، وأرقامهم ٤ ، ٥ ، ٨ ، ١١ ، فإذا كان رقم ناصر هو نفس عدد أحرف اسمه، ورقم أحمد يتكون من منزلتين، ورقم فارس ليس عددا أوليا، فما رقم يوسف ؟	
أ ٤ ب ٥ ج ٨ د ١١	٤

أوجد حجم الجسم المجاور :			
	٥		
أ ٨ وحدات مكعبة	ب ١٦ وحدة مكعبة	ج ٢٤ وحدة مكعبة	د ٣٠ وحدة مكعبة

أوجد حجم الجسم المجاور :			
	٦		
أ ٨ وحدات مكعبة	ب ١٠ وحدات مكعبة	ج ١٤ وحدة مكعبة	د ٢٠ وحدة مكعبة

اسم الطالب / .....


ورقة عمل ( الأسبوع التاسع ) للصف الرابع الابتدائي الفصل الدراسي الثاني للعام الدراسي ١٤٤٧ هـ.



المهارات
وحدات الكتلة في النظام المتري
خطة حل المسألة ( خطة التبرير المنطقي )
تقدير الحجم وقياسه


ضع علامة ( √ ) أمام العبارة الصحيحة وعلامة ( x ) أمام العبارة الخاطئة :	
أ كتلة الشيء هي مقدار ما يحتويه من مادة.	١
ب اكثر الوحدات استعمالا لقياس الكتلة . الجرام والكيلوجرام .	
ج يقاس الحجم بالوحدات المكعبة .	

اختر التقدير الأنسب لكتلة الشكل المجاور :	
	٢
أ ٣ جم	ب ٣ كجم

اختر التقدير الأنسب لكتلة الشكل المجاور :	
	٣
أ ٢٥٠ جم	ب ٢٥٠ كجم

يلعب كل من أحمد وفارس ويوسف وناصر في فريق المدرسة لكرة السلة، وأرقامهم ٤ ، ٥ ، ٨ ، ١١ ، فإذا كان رقم ناصر هو نفس عدد أحرف اسمه، ورقم أحمد يتكون من منزلتين، ورقم فارس ليس عددا أوليا، فما رقم يوسف ؟	
أ ٤ ب ٥ ج ٨ د ١١	٤

أوجد حجم الجسم المجاور :			
	٥		
أ ٨ وحدات مكعبة	ب ١٦ وحدة مكعبة	ج ٢٤ وحدة مكعبة	د ٣٠ وحدة مكعبة

أوجد حجم الجسم المجاور :			
	٦		
أ ٨ وحدات مكعبة	ب ١٠ وحدات مكعبة	ج ١٤ وحدة مكعبة	د ٢٠ وحدة مكعبة