

المملكة العربية السعودية

وزارة التعليم

MINISTRY OF EDUCATION



لكل المهتمين و المهتمات
بدروس و مراجع الجامعية

هام

مدونة المناهج السعودية eduschool40.blog

تطبيق الفصل الرابع أساسيات العرض والطلب ونظام الأسعار

الكمية المعروضة من التفاح اللبناني بالكيلو Qs	الكمية المطلوبة من التفاح اللبناني بالكيلو Qd	سعر كيلو التفاح اللبناني بالريال p
5	25	6
10	20	12
15	15	18
20	10	24
25	5	30

السؤال الاول من خلال الجدول السابق أجيبني على مايلي:

١- ارسمي منحنى الطلب والعرض مع توضيح سعر التوازن والكمية التوازنية؟

٢- بيني وضع السوق عندما يكون سعر الكيلو ١٢ ريال؟

٣- بفرض أن عاصفة ضربت المزارع اللبنانية أتلفت المزروعات، وضحى بالشرح والرسم تأثير ذلك على

التوازن في سوق التفاح؟

٤- وضحى بالشرح والرسم ماذا يحدث للطلب على التفاح التركي إذا علمت أن سعر التفاح أن سعر

التفاح اللبناني ارتفع إلى ٣٥؟

٥- بافتراض ارتفاع مستوى الوعي الصحى حول فوائد التفاح وضحى تأثير ذلك على التوازن في

سوق التفاح (بالشرح وبالرسم)؟

السؤال الثاني:

إذا كان السعر التوازني للمدافئ الكهربائية في فصل الصيف ٥٠٠ ريال والكمية التوازنية ٧ قطع،

بينما بلغ السعر التوازني لها في فصل الشتاء ١٥٠٠ ريال، والكمية التوازنية ١٢ قطعة.

أين يكمن سبب هذا التغير من وجهة نظرك الرجاء توضيحه بالشرح والرسم؟

تطبيق الفصل الرابع أساسيات العرض والطلب ونظام الأسعار

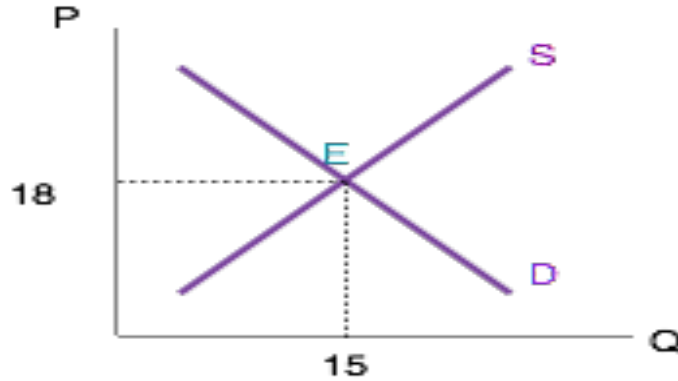
الكمية المعروضة من التفاح اللبناني بالكيلو Qs	الكمية المطلوبة من التفاح اللبناني بالكيلو Qd	سعر كيلو التفاح اللبناني بالريال p
5	25	6
10	20	12
15	15	18
20	10	24
25	5	30

السؤال الاول من خلال الجدول السابق أجيبني على مايلي:

١- ارسمي منحنى الطلب والعرض مع توضيح سعر التوازن والكمية التوازنية؟

السعر التوازني=18 والكمية التوازنية =15، فلا يوجد فائض طلب أو عرض عند نقطة التوازن

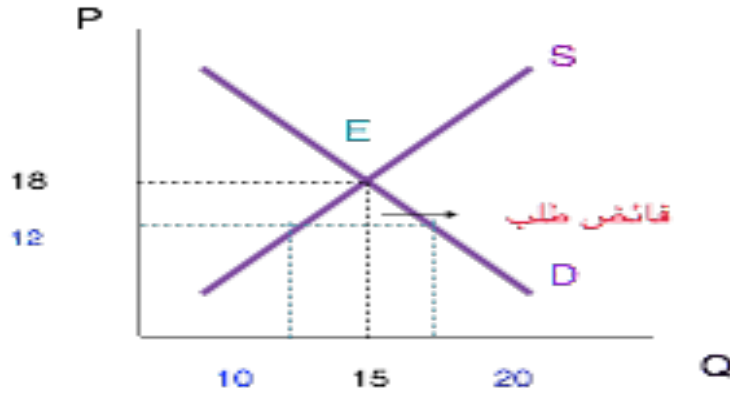
E حيث الكمية المطلوبة = الكمية المعروضة.



٢- بيني وضع السوق عندما يكون سعر الكيلو ١٢ ريال؟

$Q_s < Q_d$ فائض طلب

$$Q_s - Q_d = 10 - 20 = -10$$



٣- بفرض أن عاصفة ضربت المزارع اللبنانية أتلفت المزروعات، وضح

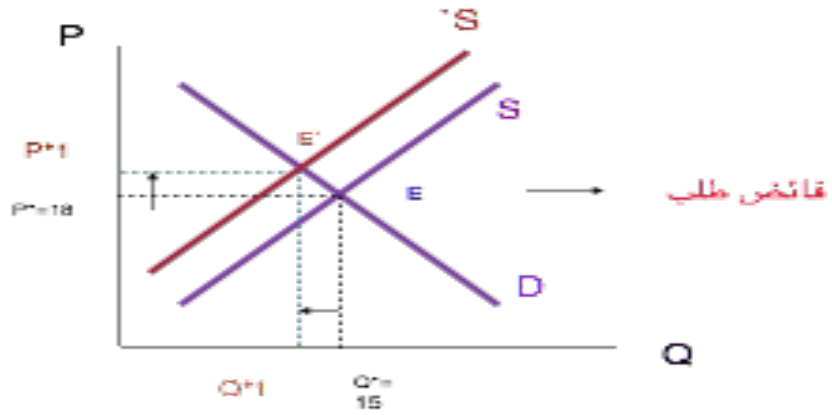
بالشرح والرسم تأثير ذلك على التوازن في سوق التفاح؟

تؤدي العواصف لانخفاض العرض فينزحف منحنى العرض لليسار

محدثاً فائض طلب عند مستوى السعر التوازني السابق سيضغط هذا الفائض حتى يرتفع السعر

ليصل إلى سعر توازني اعلى وكمية توازنية أقل

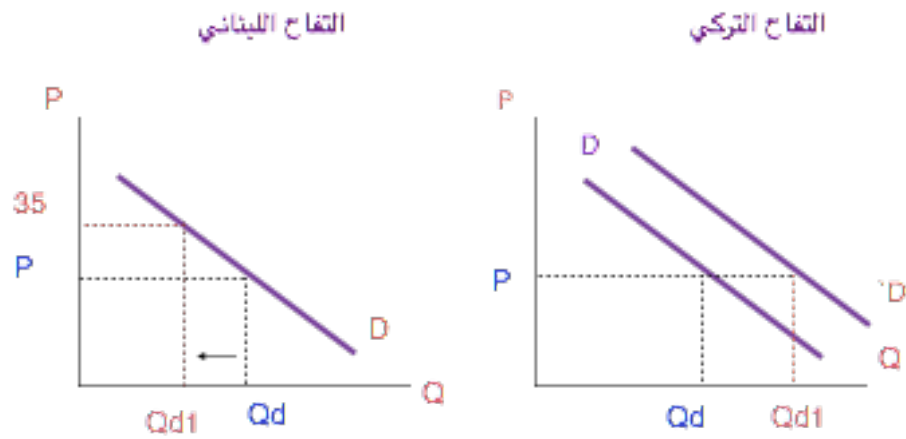
$(p1^*, Q1^*)$



٤- وضح بالشرح والرسم ماذا يحدث للطلب على التفاح التركي إذا علمتِ

أن سعر التفاح اللبناني ارتفع إلى ٣٥؟

تقل الكمية المطلوبة من التفاح اللبناني نظراً لارتفاع سعره ويزيد الطلب على التفاح التركي فينزحف منحنى الطلب لليمين.

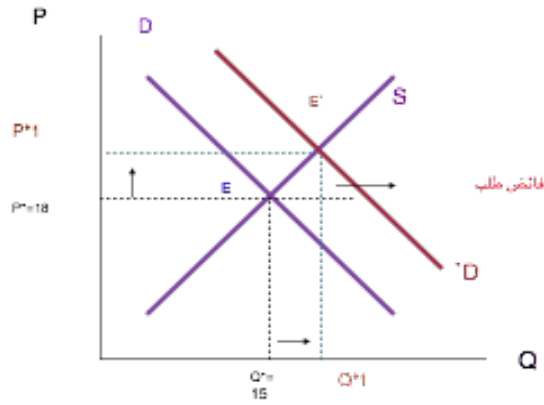


٥- بافتراض ارتفاع مستوى الوعي الصحي حول فوائد التفاح وضحي تأثير

ذلك على التوازن في سوق التفاح (بالشرح وبالرسم)؟

يؤدي ارتفاع الوعي الصحي الى زيادة الطلب على التفاح فينزحف منحنى الطلب لليمين محدثاً فائض طلب عند مستوى السعر التوازني السابق، سيضغط هذا الفائض حتى يرتفع السعر الى سعر توازني جديد اعلى من السابق وكمية توازنية اعلى.

$P1^*$ و $Q1^*$



السؤال الثاني:

إذا كان السعر التوازني للمدافئ الكهربائية في فصل الصيف ٥٠٠ ريال والكمية التوازنية ٧ قطع، بينما بلغ السعر التوازني لها في فصل الشتاء ١٥٠٠ ريال، والكمية التوازنية ١٢ قطعة. أين يكمن سبب هذا التغير من وجهة نظرك الرجاء توضيحه بالشرح والرسم؟

أدى دخول فصل الشتاء إلى زيادة الطلب على المدافئ الكهربائية فينزحف منحنى الطلب لليمين محدثاً فائض طلب عند مستوى السعر التوازني السابق ٥٠٠ فيضغط هذا الفائض على سعر توازني السابق حتى يرتفع ويصل الي سعر توازني أعلى ١٥٠٠ وكمية توازنية اعلى .١٢

