



نموذج اسئلة الاختبار الفترة الثانية لمادة الدراسات الاجتماعية للفصل الدراسي الثاني 1447هـ

اسم الطالب	الدرجة	30
------------	--------	----

12 درجة

السؤال الأول:

أ ضع علامة ( ✓ ) امام العبارة الصائبة وعلامة ( x ) امام العبارة الخاطئة ؟ 4 درجات

1	تعد رؤية المملكة 2030 نموذجا للتخطيط المستقبلي واطارا عاما للتنظيم والاصلاح
2	اختيار الوقت و المكان المناسب للمذاكرة و حل الواجبات مهم جدا للتفوق
3	عندما أخطط لأعمالي ومهامي فإني لا أبالي او اهتم بالوقت
4	يتفق جميع الناس في الهوايات

ب اختار الاجابة الصحيحة فيما يأتي ؟ 4 درجات

1	انتاج السلع والخدمات وتبادلها :	أ	النشاط الاقتصادي	ب	التنافسية	ج	الميزان التجاري	د	الفعالية
2	ترتيب الاعمال وفق اهميتها والزمن لتنفيذها:	أ	تقويم التخطيط	ب	الهوايات	ج	الأولويات	د	ادارة الوقت
3	تنمية و تطوير الاستثمار يسهم في :	أ	التنوع الاقتصادي	ب	التضخم الاقتصادي	ج	الركود الاقتصادي	د	قلة الايرادات
4	اشراك القطاع الخاص في الاقتصاد الوطني و رفع جودته :	أ	التخصيص	ب	الكفاءة	ج	التبادل التجاري	د	التنمية البشرية

ج اكمل الفراغات التالية بكلمات مناسبة ؟ 4 درجات

1/ من جهود حكومة المملكة العربية السعودية للتنوع الاقتصادي: .....

2/ من شروط ممارسة الهوايات: .....

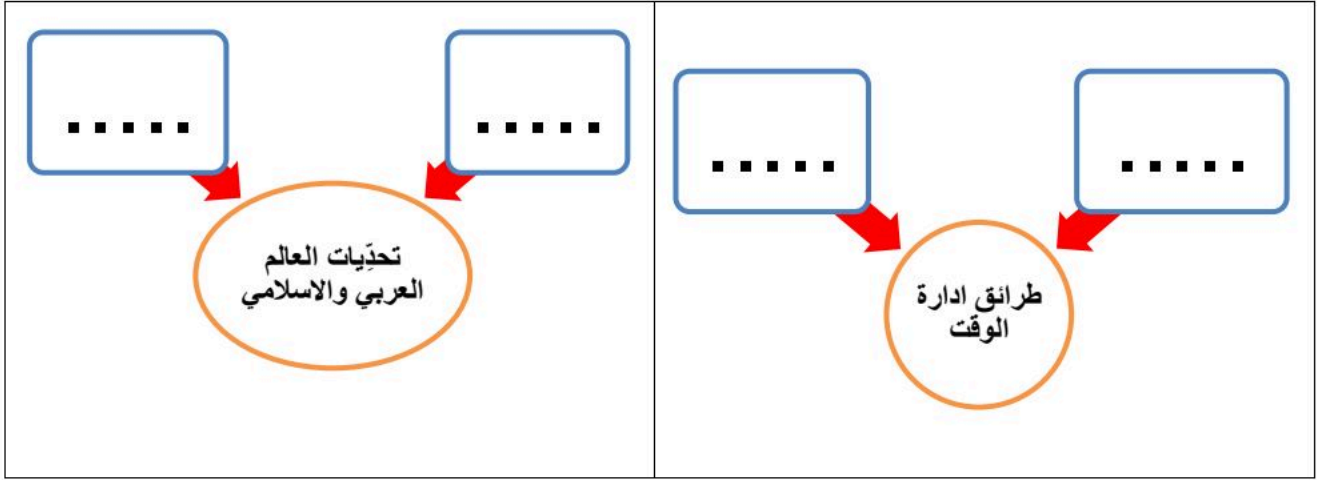
18 درجة

السؤال الثاني:

4 درجات

أكمل خرائط المفاهيم التالية ؟

أ



6 درجات

ضع الأرقام الموجودة أمام المجموعة الأولى أمام ما يناسبها من المجموعة الثانية ؟

ب

المجموعة الثانية	الرقم	المجموعة الاولى	الرقم
المملكة العربية السعودية		جبال طوروس	1
باكستان		جبال الحجاز	2
العالم العربي		الدول الاعضاء في منظمة التعاون الاسلامي	3
تركيا		هضبة بلوخستان	4
العراق		الدول الأعضاء في جامعة الدول العربية	5
العالم الاسلامي		نهر دجلة والفرات	6
مصر			

6 درجات

عزيزي الطالب من خلال دراستك للوحدات السياسية في العالم العربي و الاسلامي قارن وفق الجدول ؟

ج

وجه المقارنة	إندونيسيا	نيجيريا	ألبانيا
الموقع ( القارة فقط )			
العاصمة			

درجتين

صنّف وحدّد نوع ونمط الهواية في الصور أدناه ؟

د



هواية .....



هواية .....

← انتهت الاسئلة ←

مدير المدرسة:

معلم المادة: محمد علي القرني



نموذج اسئلة الاختبار الفترة الثانية لمادة الدراسات الاجتماعية للفصل الدراسي الثاني 1447هـ

اسم الطالب	نموذج اجابة	الدرجة	محمد القرني	30
------------	-------------	--------	-------------	----

12 درجة

السؤال الأول:

أ ضع علامة ( ✓ ) امام العبارة الصائبة وعلامة ( × ) امام العبارة الخاطئة ؟ 4 درجات

1	تعد رؤية المملكة 2030 نموذجا للتخطيط المستقبلي واطارا عاما للتنظيم والاصلاح	✓
2	اختيار الوقت و المكان المناسب للمذاكرة و حل الواجبات مهم جدا للتفوق	✓
3	عندما أخطط لأعمالي ومهامي فإني لا أبالي او اهتم بالوقت	×
4	يتفق جميع الناس في الهوايات	×

ب اختار الاجابة الصحيحة فيما يأتي ؟ 4 درجات

1	انتاج السلع والخدمات وتبادلها :	أ	النشاط الاقتصادي	ب	التنافسية	ج	الميزان التجاري	د	الفعالية
2	ترتيب الاعمال وفق اهميتها والزمن لتنفيذها:	أ	تقويم التخطيط	ب	الهوايات	ج	الاولويات	د	ادارة الوقت
3	تنمية و تطوير الاستثمار يسهم في :	أ	التنوع الاقتصادي	ب	التضخم الاقتصادي	ج	الركود الاقتصادي	د	قلة الايرادات
4	اشراك القطاع الخاص في الاقتصاد الوطني و رفع جودته :	أ	التخصيص	ب	الكفاءة	ج	التبادل التجاري	د	التنمية البشرية

ج اكمل الفراغات التالية بكلمات مناسبة ؟ 4 درجات

1/ من جهود حكومة المملكة العربية السعودية للتنوع الاقتصادي: التنمية البشرية و تطوير الانظمة

2/ من شروط ممارسة الهوايات: مناسبتها للعمر و لا تكون مؤذية

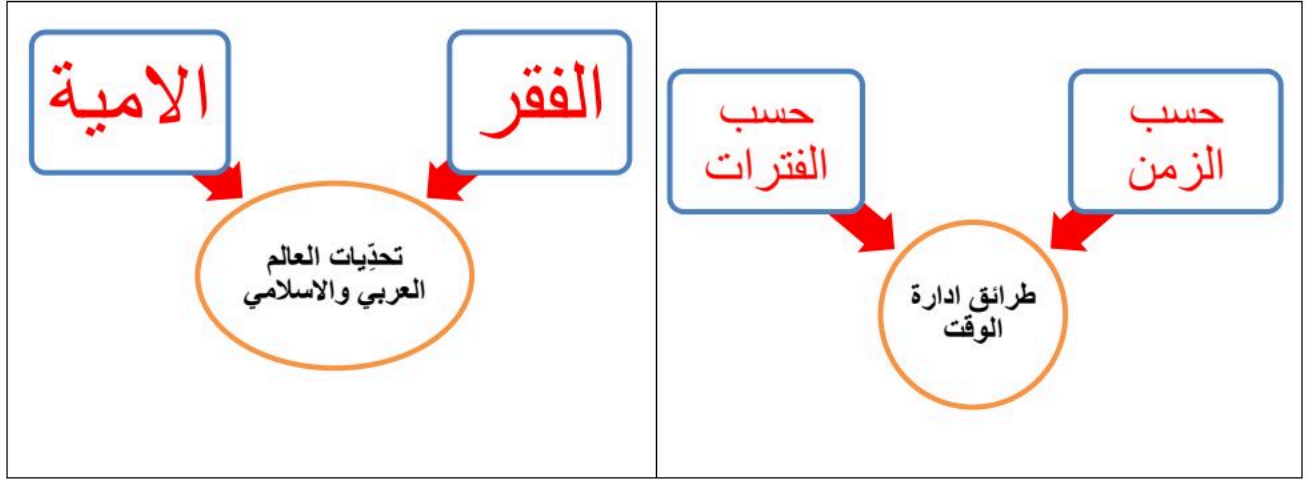
18 درجة

السؤال الثاني:

4 درجات

أكمل خرائط المفاهيم التالية ؟

أ



6 درجات

ضع الأرقام الموجودة أمام المجموعة الأولى أمام ما يناسبها من المجموعة الثانية ؟

ب

المجموعة الثانية	الرقم	المجموعة الاولى	الرقم
المملكة العربية السعودية	2	جبال طوروس	1
باكستان	4	جبال الحجاز	2
العالم العربي	5	الدول الاعضاء في منظمة التعاون الاسلامي	3
تركيا	1	هضبة بلوخرستان	4
العراق	6	الدول الأعضاء في جامعة الدول العربية	5
العالم الاسلامي	3	نهر دجلة والفرات	6
مصر			

6 درجات

عززي الطالب من خلال دراستك للوحدات السياسية في العالم العربي و الاسلامي قارن وفق الجدول ؟

ج

وجه المقارنة	ألبانيا	نيجيريا	إندونيسيا
الموقع ( القارة فقط)	أوروبا	أفريقيا	آسيا
العاصمة	تيرانا	ابوجا	جاكرتا

درجتين

صنّف وحدّد نوع ونمط الهواية في الصور أدناه ؟

د



هواية ابداع

موقع اجاباتكم



هواية منافسة .

← انتهت الاسئلة ←

مدير المدرسة:

معلم المادة: محمد علي القرني

المملكة العربية السعودية	إدارة تعليم	رؤية VISION 2030	المادة : الدراسات الاجتماعية
وزارة التعليم	مدرسة		الصف: الثاني متوسط
اسم الطالب/ة:			اختبار الوحدة ٥ الفصل ٢

### السؤال الأول: اختر الإجابة الصحيحة فيما يلي :

١	تقع دول الخليج العربي بالنسبة لقارة آسيا	أ	جنوب غرب	ب	جنوب شرق	ج	شمال شرق	د	شمال غرب
٢	" حار رطب صيفاً , معتدل شتاءً " يتركز هذا المناخ في دول الخليج على	أ	المناطق المنخفضة	ب	المناطق الداخلية	ج	المناطق الساحلية	د	المرتفعات
٣	دائرة العرض التي تمر بدول مجلس التعاون	أ	السرطان	ب	الاستواء	ج	الجدي	د	جربنتش
٤	بلغ عدد سكان دول الخليج العربي في عام ١٤٤١ هـ حوالي :	أ	٥٧,٧ مليون نسمة	ب	٤٤,٥ مليون نسمة	ج	٦٤,٥ مليون نسمة	د	٧٤,٥ مليون نسمة
٥	يقع الجبل الأخضر في	أ	البحرين	ب	قطر	ج	الكويت	د	عُمان
٦	يربط مضيق هرمز الخليج العربي بالمحيط	أ	الهادي	ب	الهندي	ج	الاطلسي	د	المتجمد الشمالي
٧	أصغر دول مجلس التعاون من حيث المساحة	أ	البحرين	ب	قطر	ج	الكويت	د	الإمارات
٨	حققت المملكة العربية السعودية بشكل خاص الاكتفاء الذاتي من إنتاج	أ	التمور	ب	القمح	ج	الأرز	د	الفاكهة
٩	من أهم العوامل المؤثرة في مناخ دول الخليج العربي	أ	الرياح والمرتفعات	ب	توزيع اليابس والماء	ج	الموقع الفلكي	د	جميع ما ذكر
١٠	مقر مجلس التعاون الخليجي	أ	الرياض	ب	أبو ظبي	ج	الكويت	د	مسقط
١١	من التحديات البيئية التي تواجه دول الخليج العربية	أ	البراكين	ب	الزلازل	ج	التصحّر	د	الأعاصير
١٢	من الخصائص المشتركة بين دول مجلس التعاون	أ	الدين	ب	اللغة	ج	العادات والتقاليد	د	جميع ما ذكر

تابع خلف الورقة

السؤال الثاني: ضع إشارة ( √ ) أمام الإجابة الصحيحة وإشارة ( × ) أمام الإجابة الخاطئة:

١	عدد دول مجلس التعاون الخليجي ( ٧ ) دول
٢	يهدف مجلس التعاون إلى تحقيق التعاون والتكامل بين الدول الأعضاء
٣	النفط والغاز من أهم الموارد الاقتصادية لدول مجلس التعاون
٤	تهدف السوق الخليجية المشتركة إلى تسهيل انتقال السلع ورؤوس الأموال
٥	تحقيق التضامن و الوحدة العربية الاسلامية من الانجازات الاقتصادية لمجلس التعاون الخليجي
٦	يعقد المجلس الأعلى اجتماعاته كل ثلاثة أشهر
٧	التصحّر هو " تدهور الأراضي الزراعية والرعية " "
٨	التلوث هو " إضافة أشياء ضارة إلى الماء أو الهواء أو التربة " "
٩	إنشاء المحميات الطبيعية ساهمت في المحافظة على الغطاء النباتي
١٠	عملت دول مجلس التعاون " موازنة بين العمالة الوطنية والعمالة الوافدة " "
١١	من الأشجار في دول المجلس " الخزامي والاقحوان " "
١٢	تطل دول مجلس التعاون على أربع بحار
١٣	جزيرة حالول تقع في قطر
١٤	مدينة صلالة تقع في البحرين
١٥	تحسن الخدمات الصحية ساهمت في نمو سكان دول الخليج
١٦	إنشاء السدود ساهم في تحقيق الامن الغذائي في دول مجلس التعاون الخليجي
١٧	البطالة هي ألا يجد المرء وهو غير قادر عليه
١٨	تأسس مجلس التعاون لدول الخليج العربية عام ١٤١٠ هـ

[اختبار اجتماعيات الصف الثاني متوسط الوحدة \(٥\) الفصل الدراسي الثاني ١٤٤٧ هـ - نسخ النموذج](#)

**فورمز**

[https://forms.office.com/Pages/ShareFormPage.aspx?id=DZRkri6E9EC\\_qGdigAk1c8Mm0nUPK\\_IajDYTMHH-](https://forms.office.com/Pages/ShareFormPage.aspx?id=DZRkri6E9EC_qGdigAk1c8Mm0nUPK_IajDYTMHH-)

[٣qBURVpERFBMREE4QUtYQzZQVUg5NUFDVU1FQy4u&sharetoken=9q3flEqHKBIrUfYZHPxd](#)

**للمزيد من الاختبارات اضغط هنا**



## نموذج إجابة

المملكة العربية السعودية  
وزارة التعليم  
إدارة تعليم  
مدرسة  
اسم الطالب/ة:

المادة : الدراسات الاجتماعية  
الصف: الثاني متوسط  
اختبار الوحدة ٥ الفصل ٢

السؤال الأول: اختر الإجابة الصحيحة فيما يلي :

١	تقع دول الخليج العربي بالنسبة لقارة آسيا	أ	جنوب غرب	ب	جنوب شرق	ج	شمال شرق	د	شمال غرب
٢	" حار رطب صيفاً , معتدل شتاءً " يتركز هذا المناخ في دول الخليج على	أ	المناطق المنخفضة	ب	المناطق الداخلية	ج	المناطق الساحلية	د	المرتفعات
٣	دائرة العرض التي تمر بدول مجلس التعاون	أ	السرطان	ب	الاستواء	ج	الجدى	د	جرينتش
٤	بلغ عدد سكان دول الخليج العربي في عام ١٤٤١ هـ حوالي :	أ	٥٧,٧ مليون نسمة	ب	٤٤,٥ مليون نسمة	ج	٦٤,٥ مليون نسمة	د	٧٤,٥ مليون نسمة
٥	يقع الجبل الأخضر في	أ	البحرين	ب	قطر	ج	الكويت	د	عمان
٦	يربط مضيق هرمز الخليج العربي بالمحيط	أ	الهادي	ب	الهندي	ج	الاطلسي	د	المتجمد الشمالي
٧	أصغر دول مجلس التعاون من حيث المساحة	أ	البحرين	ب	قطر	ج	الكويت	د	الإمارات
٨	حققت المملكة العربية السعودية بشكل خاص الاكتفاء الذاتي من إنتاج	أ	التمور	ب	القمح	ج	الأرز	د	الفاكهة
٩	من أهم العوامل المؤثرة في مناخ دول الخليج العربي	أ	الرياح والمرتفعات	ب	توزيع اليابس والماء	ج	الموقع الفلكي	د	جميع ما ذكر
١٠	مقر مجلس التعاون الخليجي	أ	الرياض	ب	أبو ظبي	ج	الكويت	د	مسقط
١١	من التحديات البيئية التي تواجه دول الخليج العربية	أ	البراكين	ب	الزلازل	ج	التصحّر	د	الأعاصير
١٢	من الخصائص المشتركة بين دول مجلس التعاون	أ	الدين	ب	اللغة	ج	العادات والتقاليد	د	جميع ما ذكر

تابع خلف الورقة

اجاباتكم

موقع



السؤال الثاني: ضع إشارة ( ✓ ) أمام الإجابة الصحيحة وإشارة ( × ) أمام الإجابة الخاطئة:

×	عدد دول مجلس التعاون الخليجي ( ٧ ) دول	١
✓	يهدف مجلس التعاون إلى تحقيق التعاون والتكامل بين الدول الأعضاء	٢
✓	النفط والغاز من أهم الموارد الاقتصادية لدول مجلس التعاون	٣
✓	تهدف السوق الخليجية المشتركة إلى تسهيل انتقال السلع ورؤوس الأموال	٤
×	تحقيق التضامن و الوحدة العربية الاسلامية من الانجازات الاقتصادية لمجلس التعاون الخليجي	٥
×	يعقد المجلس الأعلى اجتماعاته كل ثلاثة أشهر	٦
✓	التصحّر هو " تدهور الأراضي الزراعية والرعية "	٧
✓	التلوث هو " إضافة أشياء ضارة إلى الماء أو الهواء أو التربة "	٨
✓	إنشاء المحميات الطبيعية ساهمت في المحافظة على الغطاء النباتي	٩
✓	عملت دول مجلس التعاون " موازنة بين العمالة الوطنية والعمالة الوافدة "	١٠
×	من الأشجار في دول المجلس " الخزامي والاقحوان "	١١
✓	تطل دول مجلس التعاون على أربع بحار	١٢
✓	جزيرة حالول تقع في قطر	١٣
×	مدينة صلالة تقع في البحرين	١٤
✓	تحسن الخدمات الصحية ساهمت في نمو سكان دول الخليج	١٥
✓	إنشاء السدود ساهم في تحقيق الامن الغذائي في دول مجلس التعاون الخليجي	١٦
×	البطالة هي ألا يجد المرء وهو غير قادر عليه	١٧
×	تأسس مجلس التعاون لدول الخليج العربية عام ١٤١٠ هـ	١٨

موقع اجاباتكم

اختبار اجتماعيات الصف الثاني متوسط الوحدة (٥) الفصل الدراسي الثاني ١٤٤٧ هـ - نسخ النموذج

فورمز

[https://forms.office.com/Pages/ShareFormPage.aspx?id=DZRkri6E9EC\\_qGdigAk1c8Mm0nUPK\\_IajDYTMHH-2qBURVpERFBMREE4QUtYQzZQVUg5NUFDVU1FQy4u&sharetoken=9q3flEqHKBirUfYZHPxd](https://forms.office.com/Pages/ShareFormPage.aspx?id=DZRkri6E9EC_qGdigAk1c8Mm0nUPK_IajDYTMHH-2qBURVpERFBMREE4QUtYQzZQVUg5NUFDVU1FQy4u&sharetoken=9q3flEqHKBirUfYZHPxd)

للمزيد من الاختبارات اضغط هنا



المملكة العربية السعودية	إدارة تعليم	رؤية VISION 2030 مملكة العربية السعودية	المادة : الدراسات الاجتماعية
وزارة التعليم	مدرسة		الصف: ٢م
اسم الطالب/ة:			اختبار الوحدة ٦ الفصل ٢

السؤال الأول: اختر الإجابة الصحيحة فيما يلي :

١	مراحل صدور النظام						
أ	٥ مراحل	ب	٦ مراحل	ج	٧ مراحل	د	٨ مراحل
٢	الجهة المسؤولة عن دراسة مشروع النظام ومراجعته وتقديم التوصيات بشأنه قبل مجلس الوزراء هي:						
أ	مجلس الشورى.	ب	هيئة الخبراء.	ج	مجلس الوزراء.	د	الديوان الملكي.
٣	الفوائد التي تتعلق بتحقيق التطوير والنمو المستدام هي فوائد						
أ	اقتصادية	ب	اجتماعية	ج	تنظيمية	د	تنموية
٤	تصدر الأنظمة العامة التي تختص بموضوعات عامة أو الأجهزة الإدارية						
أ	بأمر سام		بمرسوم ملكي		بأمر ملكي		بقرار وزاري
٥	تأتي مرحلة إقرار النظام في مجلس الوزراء مباشرة بعد مرحلة:						
أ	النشر	ب	الإصدار	ج	الدراسة والمراجعة	د	الاقتراح
٦	قواعد السير للمركبات وقواعد الطريق						
أ	لائحة تنفيذية	ب	لائحة تنظيمية	ج	لائحة ضبط	د	لائحة أساسية
٧	تنظيم وترتيب عمل المرفقات العامة						
أ	لائحة تنفيذية	ب	لائحة تنظيمية	ج	لائحة ضبط	د	لائحة أساسية
٨	مراقبة الأغذية والباعة المتجولين						
أ	لائحة تنفيذية	ب	لائحة تنظيمية	ج	لائحة ضبط	د	لائحة أساسية
٩	نظام مكافحة الجرائم المعلوماتية						
أ	النظام الأساسي	ب	النظام العامة	ج	النظام الخاص	د	النظام الخاص والعام
١٠	نظام مجلس الوزراء						
أ	النظام الأساسي	ب	النظام العامة	ج	النظام الخاص	د	النظام الخاص والعام
١١	تنشر الأنظمة في المملكة في جريدة						
أ	أم القرى	ب	عكاظ	ج	الرياض	د	المدينة
١٢	المرحلة الثانية من مراحل صدور النظام هي						
أ	الاقتراح		الإعداد والتحضير		الدراسة والمراجعة		الإقرار

تابع خلف الورقة

السؤال الثاني: ضع إشارة ( √ ) أمام الإجابة الصحيحة وإشارة ( × ) أمام الإجابة الخاطئة:

١	اللوائح هي "قواعد وأحكام عامة مُلزِمة"
٢	أداة إصدار الأنظمة العامة " أمر ملكي"
٣	أداة إصدار الأنظمة الأساسية " مرسوم ملكي"
٤	تنقسم الأنظمة الى نوعين أنظمة أساسية وأنظمة عامة
٥	الرشوة من المشكلات الاجتماعية التي عالجتها الأنظمة و اللوائح
٦	إلزام سائقي السيارات بحزام الأمان من اللوائح التنظيمية
٧	نظام حماية الطفل هو مثال على تطبيق الأنظمة لمعالجة المشكلات الاجتماعية.
٨	الهدف الرئيسي من لوائح الضبط هو حماية الأمن والصحة العامة
٩	تصدر الأنظمة الأساسية بأمر ملكي لأنها تتعلق بأساس الدولة.
١٠	تختص اللوائح التنظيمية بترتيب عمل المرافق العامة وتحديد اختصاصاتها
١١	تقتصر فوائد الأنظمة واللوائح على تنظيم عمل الأجهزة الحكومية فقط.
١٢	لوائح الضبط " تصدرها الجهات التنفيذية
١٣	نظام هيئة البيعة يصدر بمرسوم ملكي
١٤	نظام الإقامة يصدر بأمر ملكي
١٥	الأنظمة العامة هي التي تختص بموضوعات عامة أو تختص بأحكام الأجهزة الإدارية
١٦	التعديل في النظام " كثير "
١٧	أول مراحل صدور النظام هو الاقتراح
١٨	آخر مراحل صدور النظام هو النشر

انتهت الأسئلة

رابط اختبار الفورمز

[https://forms.office.com/Pages/ShareFormPage.aspx?id=DZRkri6E9EC\\_qGdigAk1c8Mm0nUPK1AjDYTMHH-3qBUMVpPSk1HNk5RVzgyUzZaN1ZYMTVZUIFDMC4u&sharetoken=9q3flEqHKBIrUfYZHPxd](https://forms.office.com/Pages/ShareFormPage.aspx?id=DZRkri6E9EC_qGdigAk1c8Mm0nUPK1AjDYTMHH-3qBUMVpPSk1HNk5RVzgyUzZaN1ZYMTVZUIFDMC4u&sharetoken=9q3flEqHKBIrUfYZHPxd)

المادة : اجتماعيات		إدارة تعليم	المملكة العربية السعودية
الصف : الثاني متوسط		مدرسة	وزارة التعليم
اختبار الوحدة ٧ الفصل ٢		اسم الطالب/ة:	

السؤال الأول: اختر الإجابة الصحيحة فيما يلي :

١	يحد العالم العربي والإسلامي من الغرب المحيط		
	أ) الهندي	ب) الأطلسي	ج) الهادئ
٢	يتوزع أغلب سكان العالم العربي والإسلامي بين قارتي		
	أ) أوربا و أفريقيا	ب) آسيا و أفريقيا	ج) آسيا و أمريكا
٣	أول وصول للإسلام لقارة إفريقيا كان إلى		
	أ) الحبشة	ب) مصر	ج) السودان
٤	نسبة مساحة العالم العربي من مساحة العالم الإسلامي		
	أ) ٤١%	ب) ٥٩%	ج) ٢٠%
٥	تبلغ عدد دول العالم الإسلامي		
	أ) ٢٢ دولة	ب) ٥٧ دولة	ج) ٣٥ دولة
٦	اللغة الرئيسية في إندونيسيا		
	أ) الفارسية	ب) الأوردو	ج) البهاسا
٧	النشاط الاقتصادي الذي يؤدي إلى انخفاض الكثافة السكانية		
	أ) الزراعة	ب) الصناعة	ج) الرعي
٨	تقع إندونيسيا بالنسبة لقارة آسيا		
	أ) جنوب شرق	ب) جنوب غرب	ج) شمال غرب
٩	يحد دولة نيجيريا من الجنوب :		
	أ) خليج غينيا والكاميرون	ب) النيجر و الكاميرون	ج) الكاميرون و بنين
١٠	أكبر دولة إسلامية من حيث عدد السكان		
	أ) المملكة العربية السعودية	ب) نيجيريا	ج) إندونيسيا
١١	مناخ جنوب نيجيريا		
	أ) صحراوي جاف	ب) استوائي حار ممطر طوال العام	ج) بحر متوسط معتدل
١٢	من أسباب انتشار البطالة في العالم العربي والإسلامي		
	أ) التركيز على التعليم المهني والفني	ب) قلة الصناعة	ج) انخفاض عدد السكان
١٣	من نتائج انتشار الفقر في العالم العربي والإسلامي		
	أ) ارتفاع مستوى التعليم	ب) زيادة الديون الخارجية	ج) تحسن المستوى الصحي

من آثار انتشار الأمية في العالم العربي والإسلامي

١٤

(د) التطور الصناعي

(ج) انخفاض انتشار الأمراض

(ب) ارتفاع الإنتاجية

(أ) ركود التنمية


السؤال الثاني: ضع إشارة ( √ ) أمام الإجابة الصحيحة وإشارة ( × ) أمام الإجابة الخاطئة:

١	يمتد العالم العربي والإسلامي فلكياً من خط الطول ١٧ غرباً إلى ١٤١ شرقاً
٢	في العالم الإسلامي يوجد معظم الأقاليم المناخية
٣	من أهم نتائج البطالة في العالم الإسلامي انتشار الفقر والهجرة
٤	من أهم نتائج الفقر في العالم الإسلامي انتشار الأمية وزيادة الديون الخارجية
٥	عاصمة ألبانيا هي تيرانا
٦	من المحاصيل التي تشترك في زراعتها كل من إندونيسيا ونيجيريا ( نخيل الزيت )
٧	تحتل إندونيسيا في إنتاج القصدير المركز الأول على مستوى العالم
٨	تقع البانيا في جنوب غرب أوروبا
٩	جبال طوروس تقع في إيران
١٠	تشكل السهول المظهر السائد في تضاريس العالم العربي والإسلامي.
١١	يقع نهر السند ونهر سرديريا في قارة آسيا
١٢	العاصمة الحالية لجمهورية نيجيريا هي مدينة لاجوس
١٣	مناخ ألبانيا هو مناخ البحر المتوسط ولكنه معتدل عموماً إلى بارد على الجبال
١٤	دخل الإسلام إلى إندونيسيا عن طريق الفتوحات العسكرية والجيوش
١٥	يشكل سكان العالم العربي والإسلامي سدس سكان العالم تقريباً
١٦	سوء استثمار الثروات الطبيعية من أسباب انتشار الفقر

انتهت الأسئلة

رابط اختبار الفورمز

[https://forms.office.com/Pages/ShareFormPage.aspx?id=DZRkri6E9EC\\_qGdigAk1c8Mm0nUP\\_K\\_1AjDYTMHH-3qBUNkFMWTQ5WFBYUThCVIJOWEFSMEJHVEIDMy4u&sharetoken=9q3flEqHKBIrUfY\\_ZHPxd](https://forms.office.com/Pages/ShareFormPage.aspx?id=DZRkri6E9EC_qGdigAk1c8Mm0nUP_K_1AjDYTMHH-3qBUNkFMWTQ5WFBYUThCVIJOWEFSMEJHVEIDMy4u&sharetoken=9q3flEqHKBIrUfY_ZHPxd)

المادة : اجتماعيات		إدارة تعليم	المملكة العربية السعودية
الصف : الثاني متوسط		مدرسة	وزارة التعليم
اختبار الوحدة ٧ الفصل ٢		اسم الطالب/ة:	

السؤال الأول: اختر الإجابة الصحيحة فيما يلي :

١	يحد العالم العربي والإسلامي من الغرب المحيط	أ) الهندي	ب) الأطلسي	ج) الهادئ	د) المحيط المتجمد الشمالي
٢	يتوزع أغلب سكان العالم العربي والإسلامي بين قارتي	أ) أوروبا و أفريقيا	ب) آسيا و أفريقيا	ج) آسيا و أمريكا	د) آسيا و أستراليا
٣	أول وصول للإسلام لقارة إفريقيا كان إلى	أ) الحبشة	ب) مصر	ج) السودان	د) تونس
٤	نسبة مساحة العالم العربي من مساحة العالم الإسلامي	أ) ٤١%	ب) ٥٩%	ج) ٢٠%	د) ٨٥%
٥	تبلغ عدد دول العالم الإسلامي	أ) ٢٢ دولة	ب) ٥٧ دولة	ج) ٣٥ دولة	د) ٤٠ دولة
٦	اللغة الرئيسية في إندونيسيا	أ) الفارسية	ب) الأوردو	ج) البھاسا	د) الهوسا
٧	النشاط الاقتصادي الذي يؤدي إلى انخفاض الكثافة السكانية	أ) الزراعة	ب) الصناعة	ج) الرعي	د) التعدين
٨	تقع إندونيسيا بالنسبة لقارة آسيا	أ) جنوب شرق	ب) جنوب غرب	ج) شمال غرب	د) شمال شرق
٩	يحد دولة نيجيريا من الجنوب :	أ) خليج غينيا والكاميرون	ب) النيجر و الكاميرون	ج) الكاميرون و بنين	د) بنين والنيجر
١٠	أكبر دولة إسلامية من حيث عدد السكان	أ) المملكة العربية السعودية	ب) نيجيريا	ج) إندونيسيا	د) باكستان
١١	مناخ جنوب نيجيريا	أ) صحراوي جاف	ب) استوائي حار ممطر طوال العام	ج) بحر متوسط معتدل	د) قطبي بارد
١٢	من أسباب انتشار البطالة في العالم العربي والإسلامي	أ) التركيز على التعليم المهني والفني	ب) قلة الصناعة	ج) انخفاض عدد السكان	د) زيادة نصيب الفرد من الأراضي الزراعية
١٣	من نتائج انتشار الفقر في العالم العربي والإسلامي	أ) ارتفاع مستوى التعليم	ب) زيادة الديون الخارجية	ج) تحسن المستوى الصحي	د) زيادة القدرة على الإنتاج

تابع خلف الورقة

موقع اجاباتكم

www.ajabatkm.com



موقع اجاباتكم

(د) التطور الصناعي	(ج) انخفاض انتشار الأمراض	(ب) ارتفاع الإنتاجية	(أ) ركود التنمية
--------------------	---------------------------	----------------------	------------------

السؤال الثاني: ضع إشارة ( √ ) أمام الإجابة الصحيحة وإشارة ( × ) أمام الإجابة الخاطئة:

✓	١	يمتد العالم العربي والإسلامي فلكياً من خط الطول ١٧ غرباً إلى ١٤١ شرقاً
✓	٢	في العالم الإسلامي يوجد معظم الأقاليم المناخية
✓	٣	من أهم نتائج البطالة في العالم الإسلامي انتشار الفقر والهجرة
✓	٤	من أهم نتائج الفقر في العالم الإسلامي انتشار الأمية وزيادة الديون الخارجية
✓	٥	عاصمة ألبانيا هي تيرانا
✓	٦	من المحاصيل التي تشترك في زراعتها كل من إندونيسيا ونيجيريا ( نخيل الزيت )
×	٧	تحتل إندونيسيا في إنتاج القصدير المركز الأول على مستوى العالم
×	٨	تقع البانيا في جنوب غرب أوروبا
×	٩	جبال طوروس تقع في إيران
×	١٠	تشكل السهول المظهر السائد في تضاريس العالم العربي والإسلامي.
✓	١١	يقع نهر السند ونهر سرداريا في قارة آسيا
×	١٢	العاصمة الحالية لجمهورية نيجيريا هي مدينة لاجوس
✓	١٣	مناخ ألبانيا هو مناخ البحر المتوسط ولكنه معتدل عموماً إلى بارد على الجبال
×	١٤	دخل الإسلام إلى إندونيسيا عن طريق الفتوحات العسكرية والجيوش
✓	١٥	يشكل سكان العالم العربي والإسلامي سدس سكان العالم تقريباً
✓	١٦	سوء استثمار الثروات الطبيعية من أسباب انتشار الفقر

انتهت الأسئلة

موقع اجاباتكم

www.ajabatkm.com




رابط اختبار الفورمز

[https://forms.office.com/Pages/ShareFormPage.aspx?id=DZRkri6E9EC\\_qGdigAk1c8Mm0nUP\\_K\\_IajDYTMHH-3qBUNkFMWTQ5WFBYUThCVIJOWEFSMEJHVEIDMy4u&sharetoken=9q3flEqHKBIrUfY\\_ZHPxd](https://forms.office.com/Pages/ShareFormPage.aspx?id=DZRkri6E9EC_qGdigAk1c8Mm0nUP_K_IajDYTMHH-3qBUNkFMWTQ5WFBYUThCVIJOWEFSMEJHVEIDMy4u&sharetoken=9q3flEqHKBIrUfY_ZHPxd)

للمزيد من الاختبارات اضغط هنا



المادة : اجتماعيات		إدارة تعليم	المملكة العربية السعودية
الصف : ثاني متوسط		مدرسة	وزارة التعليم
اختبار الوحدة ٨ الفصل ٢		اسم الطالب/ة:	

### السؤال الأول: اختر الإجابة الصحيحة فيما يلي :

١	ترتيب الأعمال والأنشطة حسب أهميتها مع مراعاة الزمن يسمى		
	(أ) تصميم الجداول	(ب) الأولويات	(ج) الهويات
٢	تنقسم الأعمال من حيث الزمن إلى قسمين، هما:		
	(أ) مهمة وغير مهمة	(ب) عاجلة وغير عاجلة	(ج) قصيرة المدى وطويلة المدى
٣	مثال على الأعمال طويلة المدى		
	(أ) يوم واحد	(ب) أسبوع واحد	(ج) فصل دراسي
٤	الأعمال المهمة والعاجلة في مصفوفة الأولويات يجب		
	(أ) تأجيلها لوقت لاحق	(ب) إنجازها الآن وعلى الفور	(ج) تجاهلها تماماً
٥	من خطوات التخطيط للواجبات المدرسي		
	(أ) إهمال المواعيد النهائية	(ب) تصميم الجداول	(ج) العمل دون راحة
٦	يعتمد التخطيط الجيد أساساً على		
	(أ) كثرة الأعمال	(ب) حسن إدارة الوقت والاستفادة منه	(ج) عدد ساعات النوم
٧	الطريقة التي ترتب الأعمال بالدقائق والساعات تسمى		
	(أ) إدارة الوقت وفق الفترات	(ب) إدارة الوقت وفق الفصل الدراسي	(ج) إدارة الوقت وفق التوقيت الزمني
٨	في إدارة الوقت وفق الفصل الدراسي يتم التخطيط حسب		
	(أ) تخطيط الأعمال بالأسابيع	(ب) تخطيط الأعمال بالساعات	(ج) تخطيط الأعمال بالدقائق
٩	مثال على فترات اليوم في إدارة الوقت وفق الفترات		
	(أ) الساعة السابعة صباحاً	(ب) الأسبوع الأول	(ج) فترة الظهر
١٠	مدة الاستراحة المناسبة أثناء أداء الواجبات لا تزيد على		
	(أ) خمس دقائق	(ب) عشر دقائق	(ج) نصف ساعة
١١	من مشتتات الانتباه أثناء أداء الواجبات		
	(أ) استخدام الساعة	(ب) الكتاب المدرسي	(ج) القلم والدفتري
١٢	اختراع الأجهزة يعد من هويات مجال		
	(أ) الإبداع	(ب) الابتكار	(ج) الجمع
	(د) المنافسة		

قراءة تاريخ شخصيات الوطن من فوائد الهوايات التي تسهم في				
١٣	(أ) تفرغ الطاقة	(ب) الإسهام في بناء الشخصية	(ج) تقوية التركيز	(د) جمع المقتنيات
مبادرة وزارة التعليم لتنمية الهوايات في المدارس تسمى				
١٤	(أ) أندية الحي	(ب) أندية الابتكار	(ج) أندية القراءة	(د) أندية المنافسة
هواية تنمي الخيال الواسع				
١٥	(أ) كرة القدم	(ب) حل المسائل الرياضية	(ج) الرسم	(د) جمع الطوابع

السؤال الثاني: ضع إشارة ( √ ) أمام الإجابة الصحيحة وإشارة ( × ) أمام الإجابة الخاطئة:

١	الأولويات تعني البدء بالأعمال الأقل أهمية ثم الأكثر أهمية.
٢	الأعمال قصيرة المدى هي التي لا بد من إنجازها في يوم أو أسبوع.
٣	يعتمد نجاح التخطيط على حسن تنفيذ الجدول والالتزام به.
٤	تخصيص أوقات للراحة وممارسة التمارين الرياضية يقلل من التركيز.
٥	يعتمد التخطيط الجيد على حسن إدارة الوقت والاستفادة منه.
٦	يخصص لكل أسبوع خانة خاصة به في جدول إدارة الوقت وفق الفصل الدراسي.
٧	يجب على الطلبة مراعاة فروق التوقيت ومواقيت الصلاة عند إعداد جداولهم.
٨	الصدق والواقعية في كتابة الملحوظات يسهمان في تقويم التخطيط بشكل صحيح.
٩	عندما تتزاحم الأعمال ويضيق الوقت، فهذا دليل على أن التخطيط كان ناجحاً.
١٠	ينبغي عند بناء الجدول تحديد الهدف والأولويات وتنفيذه تنفيذاً سليماً.
١١	استخدام الساعة لمعرفة الوقت وتحديد بدقه يعتبر مضيعة للوقت أثناء المذاكرة.
١٢	تُسهم ممارسة الهوايات بشكل صحيح في زيادة التحصيل الدراسي.
١٣	من ضوابط ممارسة الهواية أن تكون مناسبة للعمر وألا تكون مؤذية.
١٤	تعتبر هواية جمع التحف القديمة والصور من مجال المنافسة.
١٥	أسهمت الألعاب الشعبية القديمة في تقوية العلاقات الاجتماعية ونشر الألفة.


انتهت الأسئلة

رابط اختبار فورمز

[https://forms.office.com/Pages/ShareFormPage.aspx?id=DZRkri6E9EC\\_qGdigAk1c8Mm0nUPK\\_IAjDYTMHH-3qBUQIFRVDNLNUxMSjYwMTFBTDZLOEwxOVIZQv4u&sharetoken=9q3flEqHKBIRUfyZHPxd](https://forms.office.com/Pages/ShareFormPage.aspx?id=DZRkri6E9EC_qGdigAk1c8Mm0nUPK_IAjDYTMHH-3qBUQIFRVDNLNUxMSjYwMTFBTDZLOEwxOVIZQv4u&sharetoken=9q3flEqHKBIRUfyZHPxd)

للمزيد من الاختبارات اضغط هنا



المادة : اجتماعيات		إدارة تعليم	المملكة العربية السعودية
الصف : ثاني متوسط		مدرسة	وزارة التعليم
اختبار الوحدة ٨ الفصل ٢		اسم الطالب/ة:	

### السؤال الأول: اختر الإجابة الصحيحة فيما يلي :

ترتيب الأعمال والأنشطة حسب أهميتها مع مراعاة الزمن يسمى				١
(أ) تصميم الجداول	(ب) الأولويات	(ج) الهويات	(د) إنجاز الواجبات	
تنقسم الأعمال من حيث الزمن إلى قسمين، هما:				٢
(أ) مهمة وغير مهمة	(ب) عاجلة وغير عاجلة	(ج) قصيرة المدى وطويلة المدى	(د) فردية وجماعية	
مثال على الأعمال طويلة المدى				٣
(أ) يوم واحد	(ب) أسبوع واحد	(ج) فصل دراسي	(د) ساعة واحدة	
الأعمال المهمة والعاجلة في مصفوفة الأولويات يجب				٤
(أ) تأجيلها لوقت لاحق	(ب) إنجازها الآن وعلى الفور	(ج) تجاهلها تماماً	(د) التركيز عليها بعد الأعمال غير المهمة	
من خطوات التخطيط للواجبات المدرسي				٥
(أ) إهمال المواعيد النهائية	(ب) تصميم الجداول	(ج) العمل دون راحة	(د) البدء بالأعمال غير المهمة	
يعتمد التخطيط الجيد أساساً على				٦
(أ) كثرة الأعمال	(ب) حسن إدارة الوقت والاستفادة منه	(ج) عدد ساعات النوم	(د) أوقات الفراغ الطويلة	
الطريقة التي ترتب الأعمال بالدقائق والساعات تسمى				٧
(أ) إدارة الوقت وفق الفترات	(ب) إدارة الوقت وفق الفصل الدراسي	(ج) إدارة الوقت وفق التوقيت الزمني	(د) إدارة الوقت العشوائي	
في إدارة الوقت وفق الفصل الدراسي يتم التخطيط حسب				٨
(أ) تخطيط الأعمال بالأسابيع	(ب) تخطيط الأعمال بالساعات	(ج) تخطيط الأعمال بالدقائق	(د) تخطيط الأعمال بالفترات اليومية	
مثال على فترات اليوم في إدارة الوقت وفق الفترات				٩
(أ) الساعة السابعة صباحاً	(ب) الأسبوع الأول	(ج) فترة الظهر	(د) نهاية الفصل الدراسي	
مدة الاستراحة المناسبة أثناء أداء الواجبات لا تزيد على				١٠
(أ) خمس دقائق	(ب) عشر دقائق	(ج) نصف ساعة	(د) ساعة كاملة	
من مشتتات الانتباه أثناء أداء الواجبات				١١
(أ) استخدام الساعة	(ب) الكتاب المدرسي	(ج) القلم والدفتري	(د) جهاز التلفاز والهاتف	
اختراع الأجهزة يعد من هويات مجال				١٢
(أ) الإبداع	(ب) الابتكار	(ج) الجمع	(د) المنافسة	

قراءة تاريخ شخصيات الوطن من فوائد الهوايات التي تسهم في

١٣	(أ) تفرغ الطاقة	(ب) الإسهام في بناء الشخصية	(ج) تقوية التركيز	(د) جمع المقتنيات
١٤	(أ) أندية الحي	(ب) أندية الابتكار	(ج) أندية القراءة	(د) أندية المنافسة
١٥	(أ) كرة القدم	(ب) حل المسائل الرياضية	(ج) الرسم	(د) جمع الطوابع

السؤال الثاني: ضع إشارة ( √ ) أمام الإجابة الصحيحة وإشارة ( × ) أمام الإجابة الخاطئة:

١	الأولويات تعني البدء بالأعمال الأقل أهمية ثم الأكثر أهمية.	×
٢	الأعمال قصيرة المدى هي التي لا بد من إنجازها في يوم أو أسبوع.	✓
٣	يعتمد نجاح التخطيط على حسن تنفيذ الجدول والالتزام به.	✓
٤	تخصيص أوقات للراحة وممارسة التمارين الرياضية يقلل من التركيز.	×
٥	يعتمد التخطيط الجيد على حسن إدارة الوقت والاستفادة منه.	✓
٦	يخصص لكل أسبوع خانة خاصة به في جدول إدارة الوقت وفق الفصل الدراسي.	✓
٧	يجب على الطلبة مراعاة فروق التوقيت ومواقيت الصلاة عند إعداد جداولهم.	✓
٨	الصدق والواقعية في كتابة الملاحظات يسهمان في تقويم التخطيط بشكل صحيح.	✓
٩	عندما تتزاحم الأعمال ويضيق الوقت، فهذا دليل على أن التخطيط كان ناجحاً.	×
١٠	ينبغي عند بناء الجدول تحديد الهدف والأولويات وتنفيذه تنفيذاً سليماً.	✓
١١	استخدام الساعة لمعرفة الوقت وتحديد به بدقة يعتبر مضيعة للوقت أثناء المذاكرة.	×
١٢	تسهم ممارسة الهوايات بشكل صحيح في زيادة التحصيل الدراسي.	✓
١٣	من ضوابط ممارسة الهواية أن تكون مناسبة للعمر وألا تكون مؤذية.	✓
١٤	تعتبر هواية جمع التحف القديمة والصور من مجال المنافسة.	×
١٥	أسهمت الألعاب الشعبية القديمة في تقوية العلاقات الاجتماعية ونشر الألفة.	✓

انتهت الأسئلة

موقع اجاباتكم

رابط اختبار فورمز

[https://forms.office.com/Pages/ShareFormPage.aspx?id=DZRkri6E9EC\\_qGdigAk1c8Mm0nUPK\\_IAjDYTMHH-3qBUQIFRVDNLNUxMSjYwMTFBTDZLOEwxOVzQy4u&sharetoken=9q3flEqHKBIrUfYZHPxd](https://forms.office.com/Pages/ShareFormPage.aspx?id=DZRkri6E9EC_qGdigAk1c8Mm0nUPK_IAjDYTMHH-3qBUQIFRVDNLNUxMSjYwMTFBTDZLOEwxOVzQy4u&sharetoken=9q3flEqHKBIrUfYZHPxd)

للمزيد من الاختبارات اضغط هنا

