

رقم السؤال 9

في مايكروسوفت وورد 2016 : يستخدم اختصار لوحة المفاتيح Ctrl + Backspace لـ _____
In MS Word 2016: The keyboard shortcut "Ctrl + Backspace" is used to _____

- ① حذف الحرف الموجود بعد نقطة الإدراج
delete the existing character after the Insertion point
- ② حذف فقرة كاملة على يمين نقطة الإدراج
delete the entire paragraph to the right of the Insertion point
- ③ الانتقال الى نهاية السطر الحالي
move to the end of the current line
- ④ حذف الكلمة الموجودة قبل نقطة الإدراج
delete the existing word before the Insertion point

حفظ والتالي

Practical

Objective

رقم السؤال 7

في مايكروسوفت وورد 2016. لا تحتوي علامة التبويب الصفحة الرئيسية على أي من المجموعات التالية _____
In MS Word 2016: The Home tab does NOT contain any of the following groups _____

Document Formatting تنسيق المستند

Styles أنماط

Paragraph فقرات

Editing تحرير

A

ط. قطر

رقم السؤال 12

في مايكروسوفت ورد 2016: تُمكنك الأوامر الموجودة في مجموعة _____ من إدراج حاشية سفلية وتعليقات ختامية.
In MS Word 2016: The commands in the _____ group enable you to insert footnotes and endnotes.

تسميات توضيحية Captions

جدول المحتويات Table of Contents

فهرس Index

حواشي سفلية Footnotes



تتمتع جميع تطبيقات ويندوز بما فيها مايكروسوفت وورد 2016 بالقدرة على نسخ التحديدات أو نقلها باستخدام خاصية _____
Windows applications including Microsoft Word 2016 have the ability to copy or move selections using the _____ feature.

التنسيق

Formatting

المسحب والإسقاط

Drag and Drop

نسخ التنسيق

Format Painter

لون تمييز النص

Text Highlight Color



Practical


Objective

رقم السؤال 12

في مايكروسوفت وورد 2016: يمكنك علامة التبويب من التحكم في شكل المستند ومظهره العام، حيث يمكنك تطبيق تصميم عالمي لمستند
المناحة وأنظمة الألوان المتاحة

The _____ Tab lets you control the look and feel of your document, where you can apply a global design by using one of the available themes and color schemes

- تخطيط Layout
- إدراج Insert
- تصميم Design
- الصفحة الرئيسية Home



حفظ وإغلاق

في مايكروسوفت وورد 2016: نستخدم أيقونة _____ لوضع المؤشر على الصفحة التالية حتى ولو كان هناك بعض الفراغ في أسفل الصفحة الحالية.
MS Word 2016: The _____ icon is used to place the cursor on the next pages even though there is some blank space at the bottom of the current page

- صفحة الغلاف Cover Page
- دمج الصفحات Merge Pages
- نسخ التنسيق Painter Format
- قائل الصفحات Page Break



رقم السؤال 4

في مايكروسوفت وورد 2016 : يمكن تغيير حجم الصفحة وهوامشها من خلال علامة التبويب _____
In MS Word 2016: The size of the page and its margins can be changed by the _____ Tab.

 إدراج Insert تخطيط Layout الصفحة الرئيسية Home عرض View

Practical

Objective

رقم السؤال 10

في مايكروسوفت وورد 2016: أي مما يلي لا يندرج ضمن خيارات علامة تبويب ملف "File Tab"؟
In MS Word 2016: Which of the following is NOT a part of the File Tab options?

- حفظ "Save"
- فتح "Open"
- إعداد الصفحة "Page Setup"
- طباعة "Print"

حفظ وإغلاق

Practical

رقم السؤال 11

في مايكروسوفت وورد 2016: تسمى المساحة المتبقية بين الهامش وبداية الفقرة بـ
left between the margin and the start of a paragraph is called

- Page Orientation إتجاه الصفحة
- Alignment المحاذاة
- Page Layout تخطيط الصفحة
- Indentation المسافة البادئة



في مايكروسوفت وورد 2016: أي مما يلي ليس طريقة لإغلاق الملف؟

In MS Word 2016: Which of the following is NOT a method for closing a file?

- استخدم اختصار لوحة المفاتيح CTRL + W
Use the keyboard shortcut "CTRL + W"
- استخدم اختصار لوحة المفاتيح ALT + C
Use the keyboard shortcut "ALT + C"
- انقر فوق علامة تبويب ملف ثم حدد إغلاق "Close"
Click the File Tab and select "Close"
- انقر فوق الأيقونة على شكل "X" الموجودة في شريط العنوان
Click on the "X" shaped icon at the Title bar

B

Practical

Objective

رقم السؤال 1

في مايكروسوفت وورد 2016: لإتقاء جدول المحتويات، يبحث وورد داخل المصنّفد عن العناصر مثل _____ لإستخدامها داخل هذا الجدول.

In MS Word 2016: To create a Table of Contents, Word searches within the document for elements such as _____ to be used within this table

● أنماط العناوين Heading Styles

● إشارات مرجعية Bookmarks

● إندخالات فهرسة Index Entries

● الإسناديات الترافقية Cross-References

A

Practical

Objective

رقم السؤال 5

في مايكروسوفت وورد 2016: أي من الأوامر التالية لا يندرج تحت مجموعة "رسومات توضيحية" في علامة التبويب "إدراج"؟
Microsoft Word 2016: Which of the following commands does NOT exist on the "illustrations" group in the "Insert" Tab?

 أنماط Styles صور Pictures أشكال Shapes مخطط Chart**A**

رقم السؤال 2

في مايكروسوفت وورد 2016 يمكننا التنقل بين خلايا الجدول بالضغط على مفتاح _____ من لوحة المفاتيح، أو بالنقر على الخلية المطلوبة بزر الفأرة
In MS Word 2016: We can move between table cells by pressing the _____ key from the keyboard, or by clicking on the desired cell with the mouse

Ctrl+Enter Tab SHIFT Enter 

Objective

Questions : 12

مجموع الأسئلة :

تم الإجابة 2

لم يتم زيارته 0

2

1

9

8

Practical

Objective

رقم السؤال

في مايكروسوفت وورد 2016: مجموعة "بيانات" هي إحدى المجموعات الموجودة ضمن علامة التنوير السياقية "تخطيط" تحت العنوان أدوات الجدول.
2016: The group "data" is one of the groups located in the "Layout" contextual Tab under the title Table Tools.

A

صح

TRUE

خطأ

FALSE

Practical

Objective

رقم السؤال 2

في ميكروسوفت ورد 2016 اختصار لوحة المفاتيح المستخدم لإدراج فاصل صفحات هو _____
In MS Word 2016. The keyboard shortcut that is used to insert a page break is _____

- Alt + F4
- Ctrl + Break
- Ctrl + P
- Ctrl + Enter



في مايكروسوفت وورد 2016: يُطلق على علامة التبويب _____ اسم عرض الأوامر الخلفية "Backstage View".
In MS Word 2016: The _____ Tab is called the Backstage View.

الصفحة الرئيسية

Home

تخطيط الصفحة

Page layout

ملف

File

إدراج

Insert



حفظ والتالي

Practical

Objective

رقم السؤال 6

6: When you insert a table in a document, the two contextual tabs _____ and _____ are appeared.
في مايكروسوفت وورد 2016 عند ادراج جدول تظهر علامتي تبويب سياقيه هما _____ و _____

- تصميم وتخطيط
Design and Layout
- عرض وتخطيط
View and layout
- ملف وتصميم
File and Design
- ادراج وتخطيط
Insert and Layout



حفظ والتالي

Practical

Objective

رقم السؤال 8

في مايكروسوفت وورد 2016 جدول المحتويات عبارة عن قائمة الموضوعات الموجودة في المستند ومراجع الصفحات ذات الصلة بهذه الموضوعات.
"Table of Contents" is a listing of the topics that appear in a document with their associated page references.

 خطأ

FALSE

 صحيح

TRUE

B

خطا والتالي

Practical

Objective

رقم السؤال 8

في مايكروسوفت وورد 2016 جدول المحتويات عبارة عن قائمة الموضوعات الموجودة في المستند ومراجع الصفحات ذات الصلة بهذه الموضوعات.
"Table of Contents" is a listing of the topics that appear in a document with their associated page references.

 خطأ

FALSE

 صحيح

TRUE

B

خط والى

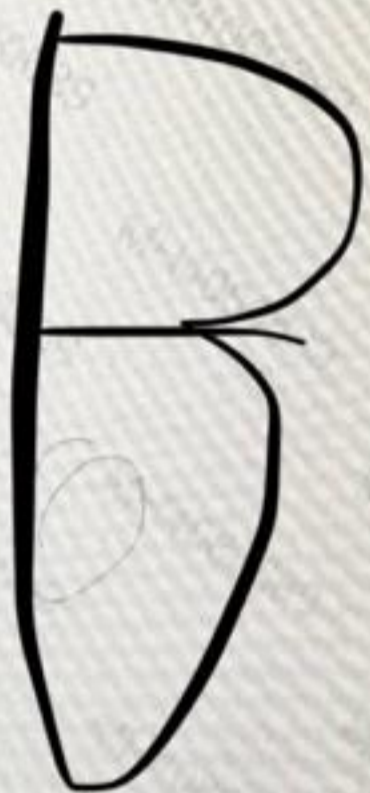
Practical

Objective

رقم السؤال 9

في مايكروسوفت وورد 2016 اختصار لوحة المفاتيح المستخدم لمحاذاة النص في وسط الصفحة هو _____
In MS Word 2016: The keyboard shortcut that is used to align text to the center of a page is _____

- Ctrl + L
- Ctrl + E
- Ctrl + J
- Ctrl + R



حفظ والتالي

Practical

Objective

رقم السؤال 14

في مايكروسوفت وورد 2010: هذه المجموعة عبارة عن جزء من علامة التبويب
In MS Word 2010: This group is a part of tab



Watermark * Page Color * Page Borders
Page Background

إدراج

Insert

عرض

View

الصفحة الرئيسية

Home

تخطيط الصفحة

Page Layout

P: 08

Practical

Objective

رقم السؤال 3

تظهر الهوامش "Margins" والمسافات البانئة "Indents" في تطبيق مايكروسوفت وورد في:
In MS-Word, Margins, Indents and Tabs indicators are shown on

- تدریج القوائم "Menu bar"
- المسطرة الأفقية "Horizontal Ruler"
- تدریج العناوين "Title bar"
- تدریج التمریر "Scroll Bar"

حفظ والتالى

Practical

Objective

رقم السؤال 3

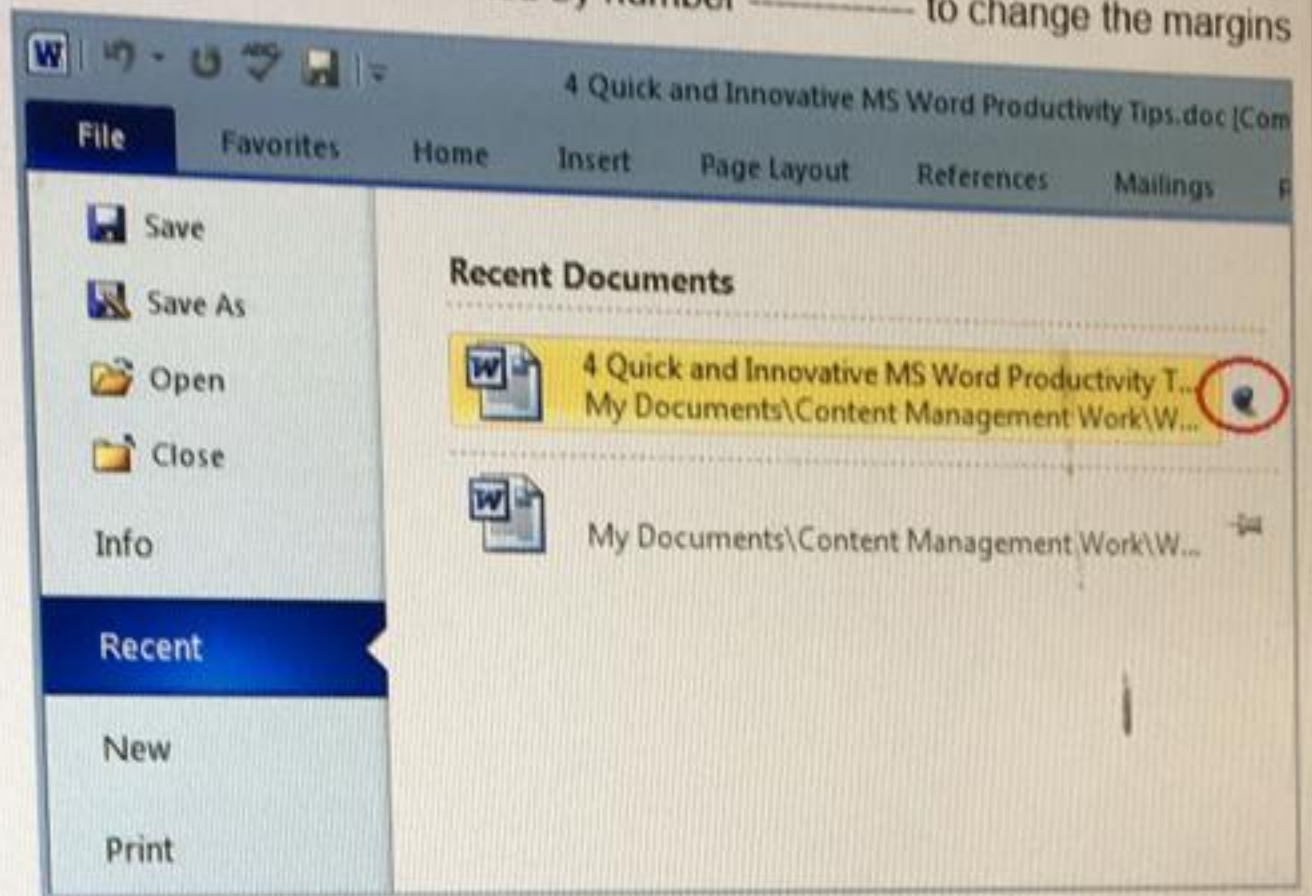
تظهر الهوامش "Margins" والمسافات البانئة "Indents" في تطبيق مايكروسوفت وورد في:
In MS-Word, Margins, Indents and Tabs indicators are shown on

- تدریج القوائم "Menu bar"
- المسطرة الأفقية "Horizontal Ruler"
- تدریج العناوين "Title bar"
- تدریج التمریر "Scroll Bar"

حفظ والتالى

رقم السؤال 9

في مايكروسوفت وورد 2016 في الصورة التالية، لتغيير هوامش الصفحة نضغط على الاختيار المقتران إليه برقم _____
 16: In the following image, we press the option indicated by number _____ to change the margins



9

8

10

7

حفظ والتالي



40 مجموع الأسئلة في الاختبار | الأسئلة المحلوقة: 13

Practical

Objective

رقم السؤال 14

في مايكروسوفت إكسل 2016: هي الميزة التي تعرض البيانات في العمود (الأعمدة) فقط وفقاً لمعايير محددة
y the data in column(s) according to specified criteria; specially when the data
contained within a worksheet is very voluminous

الفرز Sorting

التمييز الشرطي Conditional Format

التصفية Filtering

الصيغة Formula

حفظ والتالي

+966 50 759 1794

Select

8 Photos

em1_2018

MKCL OES

40 مجموع الأسئلة في الاختبار | الأسئلة المحولة: 0

Practical

Objective

رقم السؤال 13

في مايكروسوفت بوربوينت 2016 إحدى طرق تكامل بوربوينت مع اكسيل هو إدراج جدول بيانات في العرض التقديمي.
One way to integrate PowerPoint with Excel is to insert a spreadsheet into a presentation.

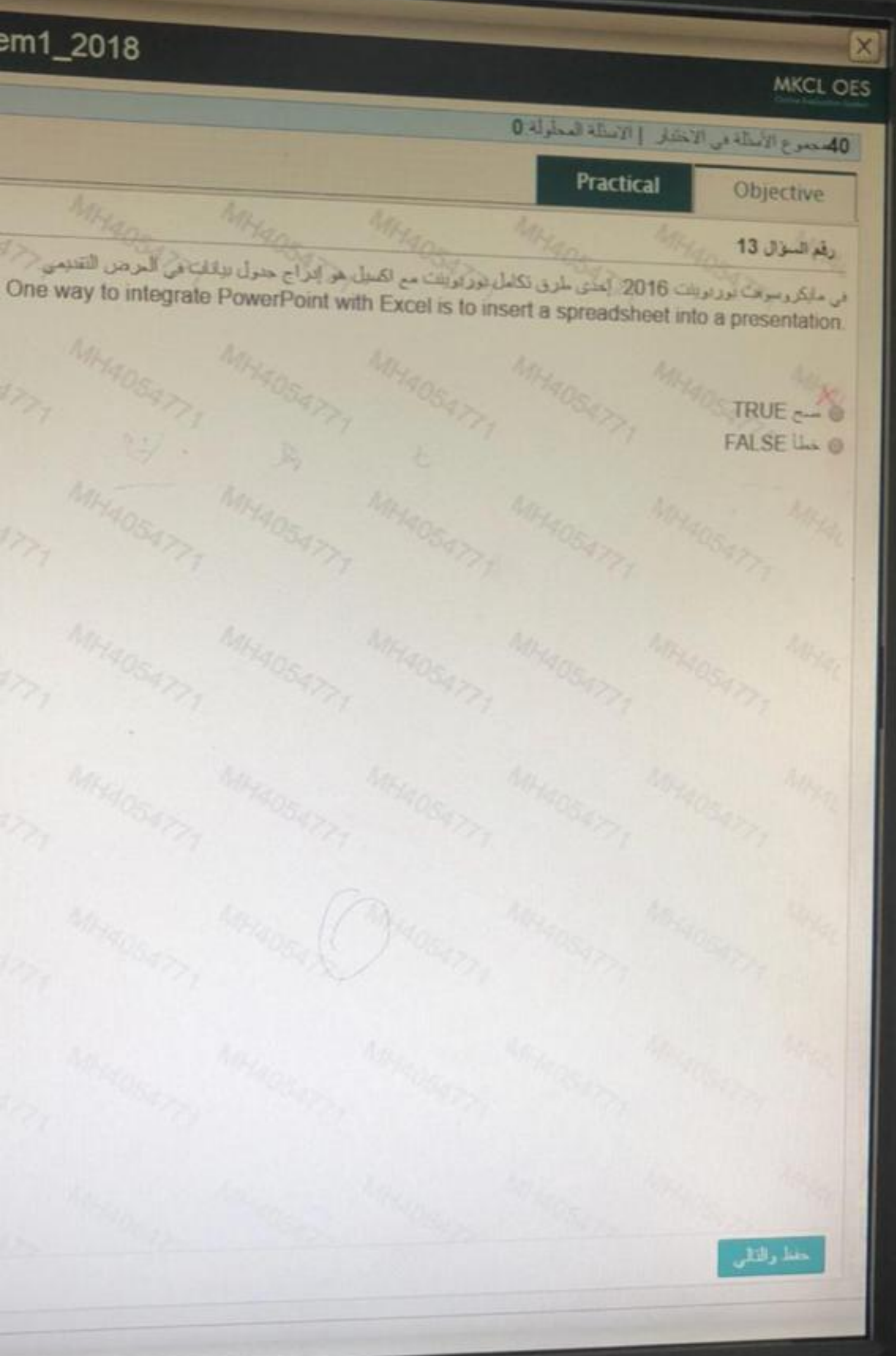
صح TRUE
خطأ FALSE

حفظ والتالي

+966 50 759 1794

Select

8 Photos



Practical

Objective

رقم السؤال 10

في مايكروسوفت بوربوينت 2016 عند الإنتهاء من تطبيق نسخ التنسيق المحدث على أماكن متعددة، نضغط على مفتاح
6: We press the key _____ when we finish to apply "Format Painter" at multiple places.

F2

Enter

Escape

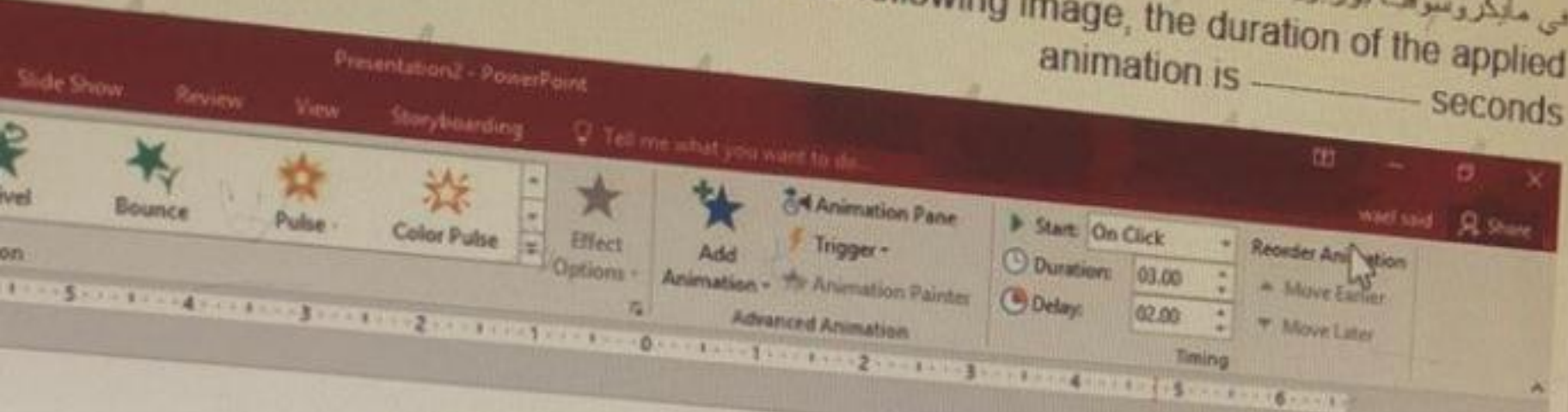
Tab



حفظ والتالى


رقم السؤال 1

في مايكروسوفت بوربوينت 2016 في الصورة التالية. مدة الحركة المُطبقة هي ثانية
In MS PowerPoint 2016: In the following image, the duration of the applied animation is _____ seconds



برنامج العروض التقديمية مايكروسوفت 2016

- 1 الفصل الاول : الشروع في العمل في العروض التقديمية
- الفصل الثاني : علامة التوثيق ملف File
- الفصل الثالث : علامة التوثيق الصفحة الرئيسية ملف Home
- الفصل الرابع : علامة التوثيق ادراج Insert
- الفصل الخامس : علامة التوثيق تصميم Design
- الفصل السادس : علامة التوثيق انتقال Transition
- الفصل السابع : علامة التوثيق حركات Animation
- الفصل الثامن : علامة التوثيق عرض الشرائح View Show
- الفصل التاسع : ميزات اضافية



- 3 ●
- 4 ●
- 2 ●
- 5 ●

حفظ والتالي

رقم السؤال 18

في مايكروسوفت وورد 2016: تُستخدم أيقونة أرقام الأمتظر لعرض أرقام الأمتظر في هامش نهاية كل سطر بالمستند من خلال علامة التتويج تسميم

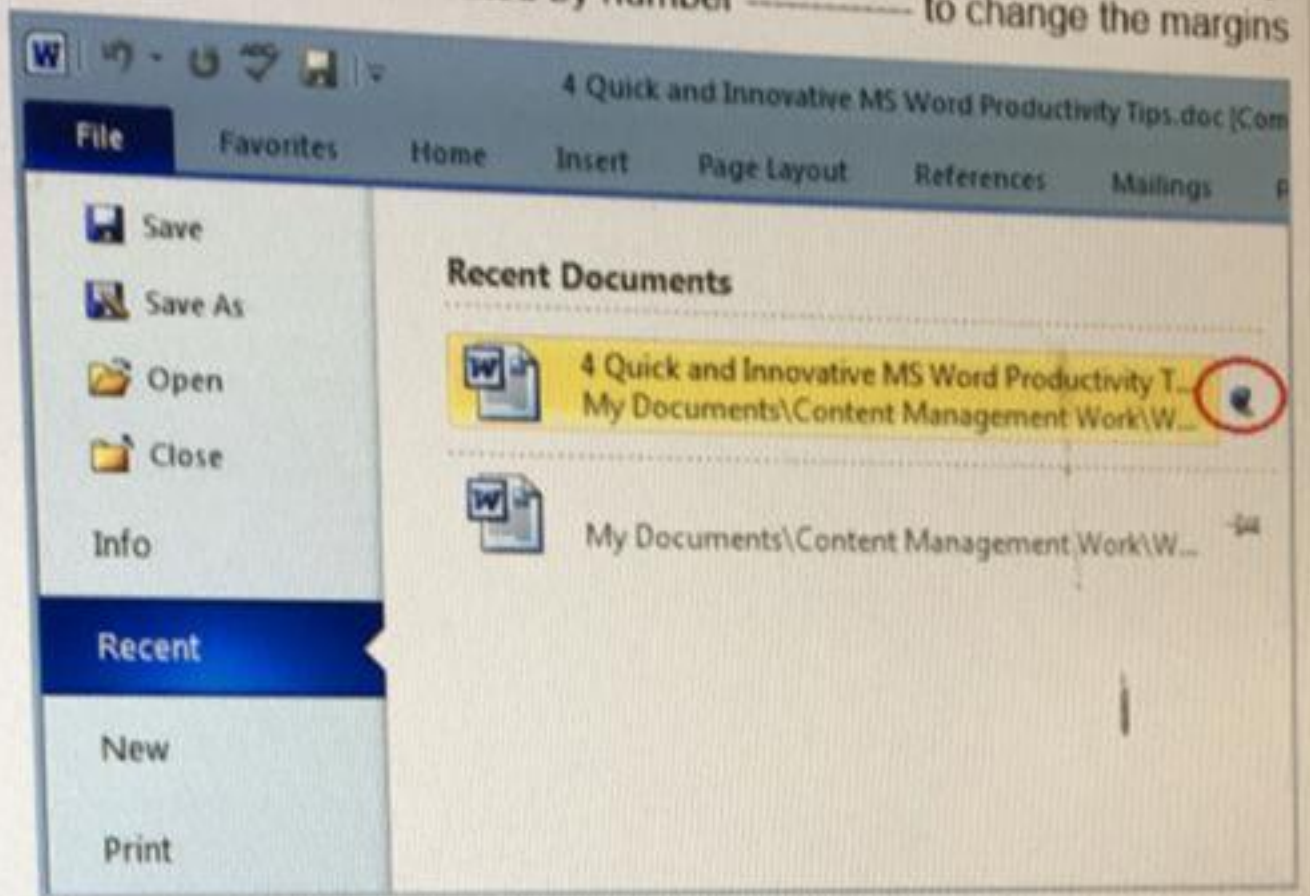
MS Word 2016: The "Line Numbers" icon is used to display line numbers in the margin in end of each line of a document through the "Design" Tab

- صح
- TRUE
- خطأ
- FALSE

حفظ والتالي

رقم السؤال 9

في مايكروسوفت وورد 2016 في الصورة التالية، لتغيير هوامش الصفحة نضغط على الاختيار المقتر إله برقم _____
 16: In the following image, we press the option indicated by number _____ to change the margins



9

8

10

7

الصورة هنا غلط

حفظ والتالي

الوقت المتبقي
70:38

اسم المستخدم MH4054787

Objective

Number of main questions 23
مجموع الأسئلة 23

تم الإجابة 6

تم الإجابة 8

Partially Answered 0

لم يتم رده 9

7	6	5	4	3	2	1
14	13	12	11	10	9	8
21	20	19	18	17	16	15
					23	22

Practical

Objective

رقم السؤال 22

في مايكروسوفت بورنويت 2016 تتضمن علامة ...
 In MS PowerPoint 2016 The _____ Tab contains tools that help
 ... could appear to the audience

- عرض القرائح Slide Show
- حركات Animations
- مراجعة Review
- عرض View

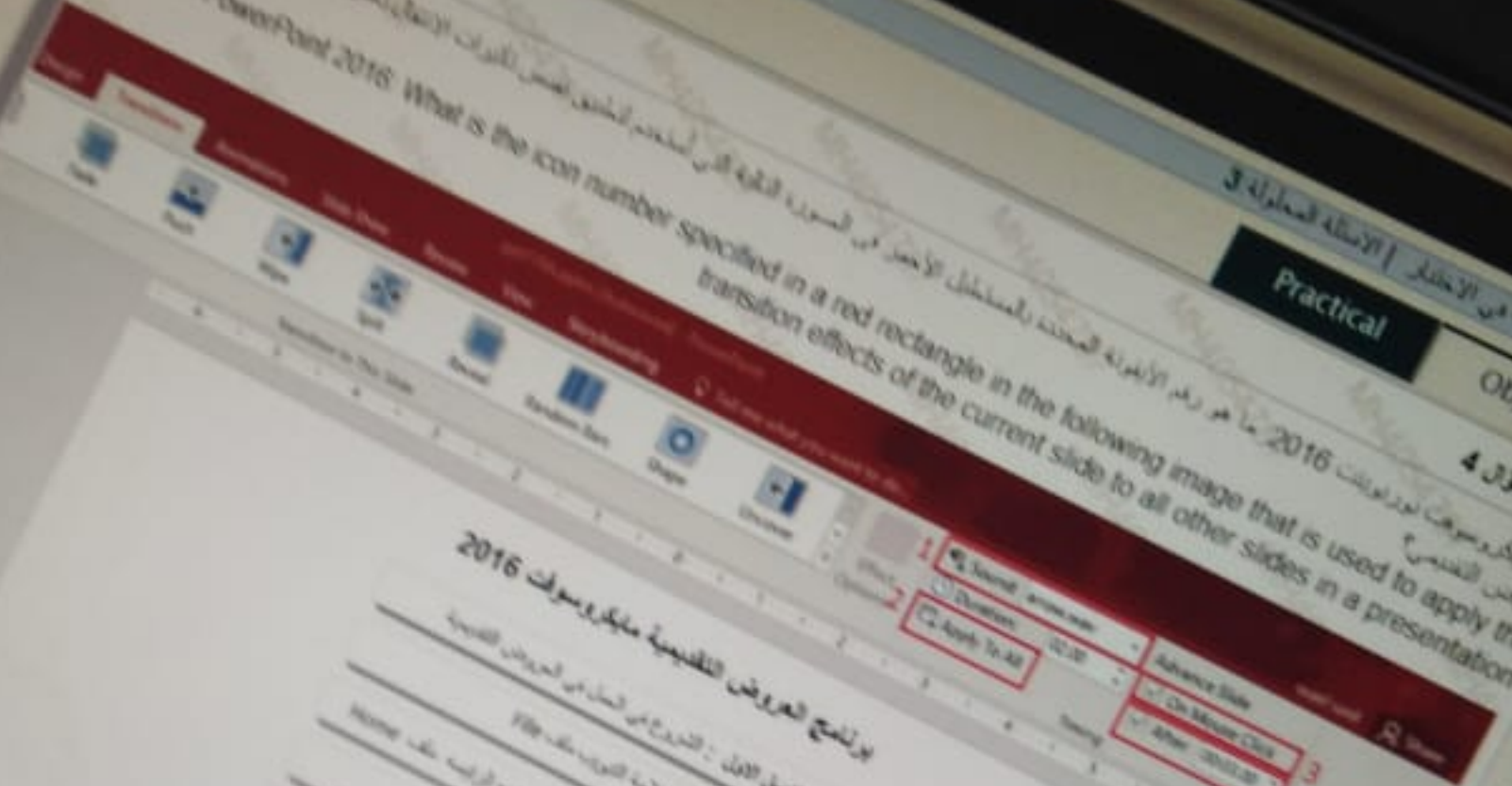
حفظ والتالي

الهدف: 23
 Objective: 23
 عدد الاسئلة: 23
 Number of exam questions: 23

1
2
3
4

من مايكروسوفت نوداونت 2016 ما هو رقم الأيقونة المحددة بالمستطيل الأحمر في الصورة التالية التي استخدم لتطبيق نفس التأثيرات التي استخدمها في اسلايد العرض في برنامج العروض التقديمية في مايكروسوفت نوداونت 2016 ما هو رقم الأيقونة المحددة بالمستطيل الأحمر في الصورة التالية التي استخدم لتطبيق نفس التأثيرات التي استخدمها في اسلايد العرض في برنامج العروض التقديمية في مايكروسوفت نوداونت 2016

What is the icon number specified in a red rectangle in the following image that is used to apply the transition effects of the current slide to all other slides in a presentation in MS PowerPoint 2016




برنامج العروض التقديمية مايكروسوفت 2016

- الفصل الأول : الترويج من السلايد في العروض التقديمية
- الفصل الثاني : نفاذ الترويج من السلايد في العروض التقديمية
- الفصل الثالث : نفاذ الترويج من السلايد في العروض التقديمية
- الفصل الرابع : نفاذ الترويج من السلايد في العروض التقديمية
- الفصل الخامس : نفاذ الترويج من السلايد في العروض التقديمية
- الفصل السادس : نفاذ الترويج من السلايد في العروض التقديمية
- الفصل السابع : نفاذ الترويج من السلايد في العروض التقديمية
- الفصل الثامن : نفاذ الترويج من السلايد في العروض التقديمية
- الفصل التاسع : نفاذ الترويج من السلايد في العروض التقديمية
- الفصل العاشر : نفاذ الترويج من السلايد في العروض التقديمية

Practical Objective

رقم السؤال 5
في مايكروسوفت ورد 2016. أيقونتكم الأيقونة التالية لتحديد
of a document



- حجم النص Text Size
- حجم الجدول Table Size
- حجم الصورة Picture Size
- حجم الورقة Page Size

In MS Word 2016. The following icon is used to set the

الوقت المتبقي
81:21

الاسئلة المسئلة 5
MH4054787

Objective
Number of main questions 23
عدد الاسئلة 23

Partial answers 0
الاجابات الجزئية 0

7	6	5	4	3	2	1
14	13	12	11	10	9	8
21	20	19	18	17	16	15
					23	22

IT_FT_Sem1_2018

السؤال رقم 7
في ما يلي اسئلة بوربوينت 2016 في الصورة التالية عدد الشرائح التي سوف تظهر أثناء عرض الشرائح هو
Objective
Practical

In MS PowerPoint 2016 From the following image, the number of slides that will be displayed at slide show is

1
4
2
6

جواب السؤال

Practical

Objective

رقم السؤال 2

في مايكروسوفت بوربوينت 2016: تُسمى الحدود المنقطعة في كل شريحة بـ _____
In MS PowerPoint 2016: The dotted borders in each slide are called _____

 جزء الشرائح Slide Pane حدود الصفحة Page Borders العناصر النائية Placeholders حدود الشريحة Slide Borders

حفظ والتالي

89:14

IT_FT_Sem1_2018

الإستراتيجية المعتمدة 0
موضوع الإستراتيجية في الإختبار | Practical

Objective

رقم السؤال 1

في مذكرتي 2016 ماذا تدعى تلك الخلية التي تحتوي على أكبر قيمة لجميع الأرقام من الخلية D1 إلى D7?
 In MS Excel 2016 What will you type in D10, if you want to find the largest value of all numbers from the cells D1 to D7?

- =MAX(D1:D7)
- =MAXIMUM(D1:D7)
- =MAX(D1:D7)
- =MX(D1)

جواب السؤال

الهدف

Objective
Number of main questions 20

عدد الاسئلة
20

Number of main questions: 20

Number of questions: 20

Number of questions: 20

1	2	3	4	5	6	7	8	9	10
11	12	13	14	15	16	17	18	19	20
21	22	23	24	25	26	27	28	29	30

Objective
 23 مجموع الأسئلة
 2
 19

1 2 1
 10 9 8
 17 16 15
 23 22

في مايكروسوفت وورد 2016 أي رقم يشير إلى الخيار المستخدم لتحديد رقم الصفحة أو الصفحات المراد طباعتها أو اختيار كافة الصفحات في المستند الطباعه
 In MS Word 2016. Which number refers to the option used to specify the page number(s) you want to print or to print the whole document

Practical
 Objective
 رقم السؤال 3

The screenshot shows the 'Print' dialog box in Microsoft Word 2016. A vertical blue sidebar on the left contains the following options: Info, New, Open, Save, Save As, Print, Share, Export, Close, Account, and Options. The 'Print' option is selected. The main area of the dialog box contains the following elements, each with a red box and a number:

- 1**: The 'Print' button (represented by a printer icon).
- 2**: The 'Copies' field, currently set to 1.
- 3**: The 'Printer' dropdown menu, showing 'Brother HL-1110 series' and 'Offline'.
- 4**: The 'Settings' section, which includes:
 - 5**: 'Print All Pages' (The whole thing).
 - 6**: 'Print One Sided' (Only print on one side of th...).
 - 7**: 'Collated' (1,2,3 1,2,3 1,2,3).
 - 8**: 'Portrait Orientation'.
 - 9**: 'Letter' (8.5" x 11").
 - 'Normal Margins' (Left: 1" Right: 1").

At the bottom right of the dialog box, there is a button labeled 'حفظ والتالى' (Save and Next).

Practical

Objective

رقم السؤال 8

في مايكروسوفت أكسل 2016: ماذا سوف تكتب في الخلية D10 لو كنت تريد إيجاد طول النص الموجود في الخلية D1?
Excel 2016: What will you type in cell D10, if you want to find the length of the text in cell D1?

=LEN(D1)

=LENGTH("\$D1")

=SIZE("\$D1")

=LEN("\$D1")

حفظ والتالي

رقم السؤال 2

في مايكروسوفت بوربوينت 2016: تحتوي المجموعة _____ على الأوامر لإدراج أشكال محددة مسبقاً وترتيبها وتطبيق أنماط على الكائنات وتعديتها وتحسين مظهر الكائنات

In MS PowerPoint 2016: The _____ group contains the commands to insert predefined shapes and arrange them, apply styles to objects, fill shape, and enhance the appearance of objects

Clipboard الحافظة

Images صور

Drawing رسم

Editing تحرير

في مايكروسوفت أكسل 2016: الدالة _____ تُستخدم للحصول على أكبر درجة من درجات اختبارات الطلاب.

In MS Excel 2016: The function _____ would be used to find the largest score on a series of student test scores.

- SUM
- AVERAGE
- MAX
- MAXIMUM

Practical

Objective

رقم السؤال 8

في مايكروسوفت وورد 2016. إختصار لوحة المفاتيح المستخدم لإزالة كل الارتباطات التشعبية بعد تحديد
sed to remove all hyperlinks after selecting the entire document is _____

Ctrl + F8 Ⓐ

Ctrl + F9 Ⓑ

Ctrl + Shift + F9 Ⓒ

Ctrl + Shift + F8 Ⓓ

في مايكروسوفت أكسل 2016: الدالة _____ تُعد الخلايا في نطاق ما حسب معيار محدد.
In MS Excel 2016: The _____ function counts the number of cells within a range that meet a certain criteria.

COUNTIF

IF

SUM

UPPER

رقم السؤال 15

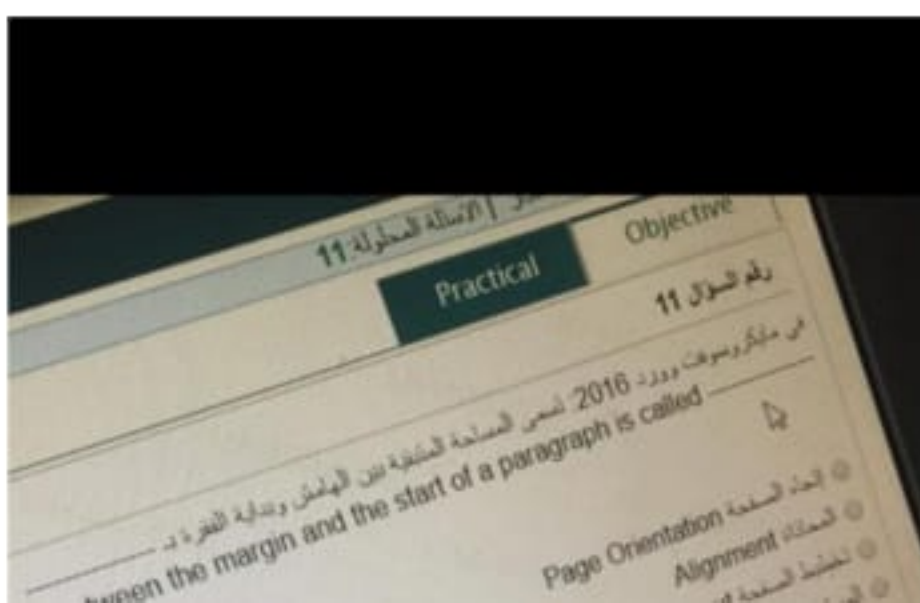
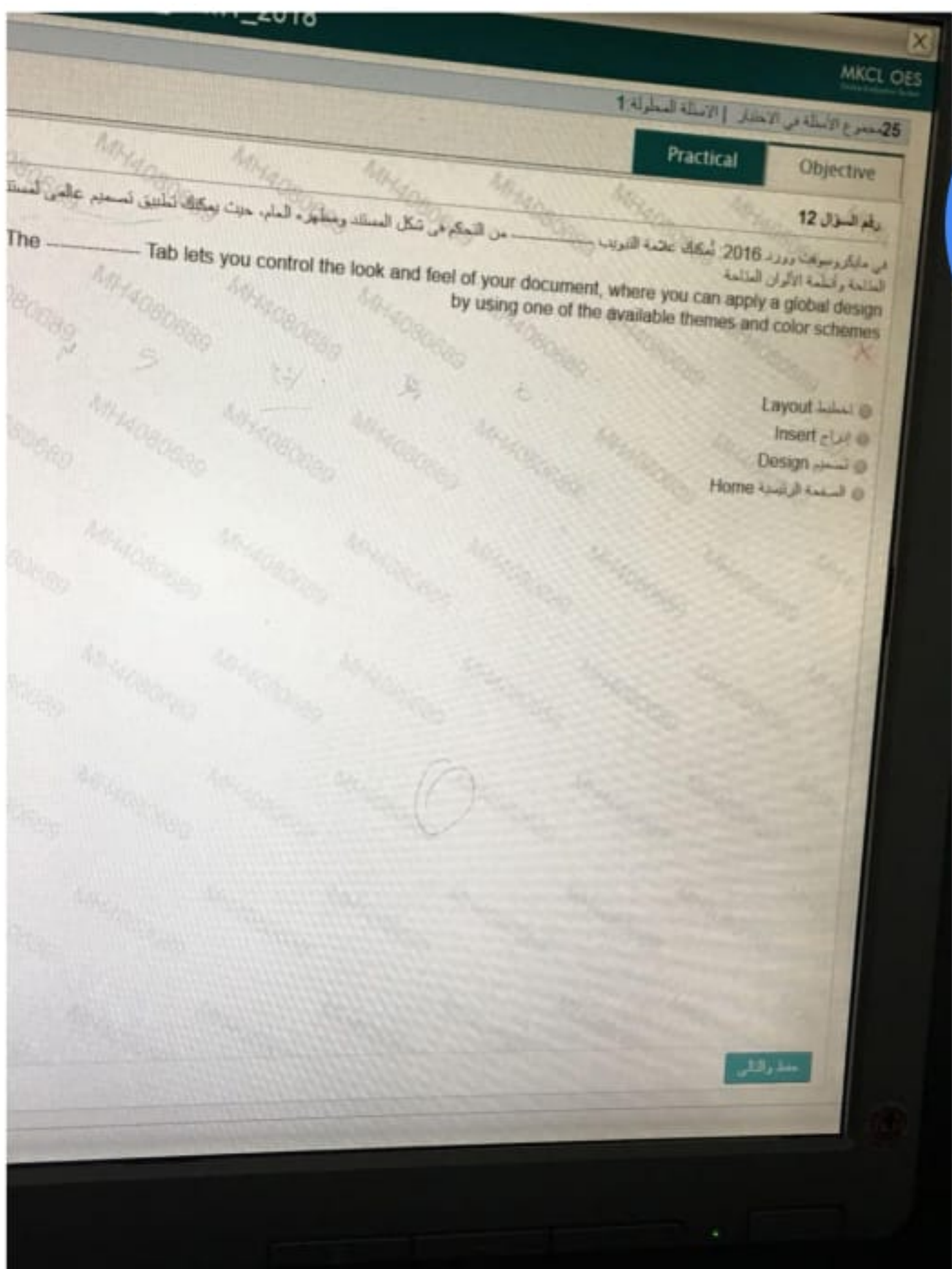
في مايكروسوفت بوربوينت 2016: نُسختم مجموعة _____ لإدراج التاريخ والوقت في شريحة.
PowerPoint 2016: The _____ group is used to insert date and time into a slide.

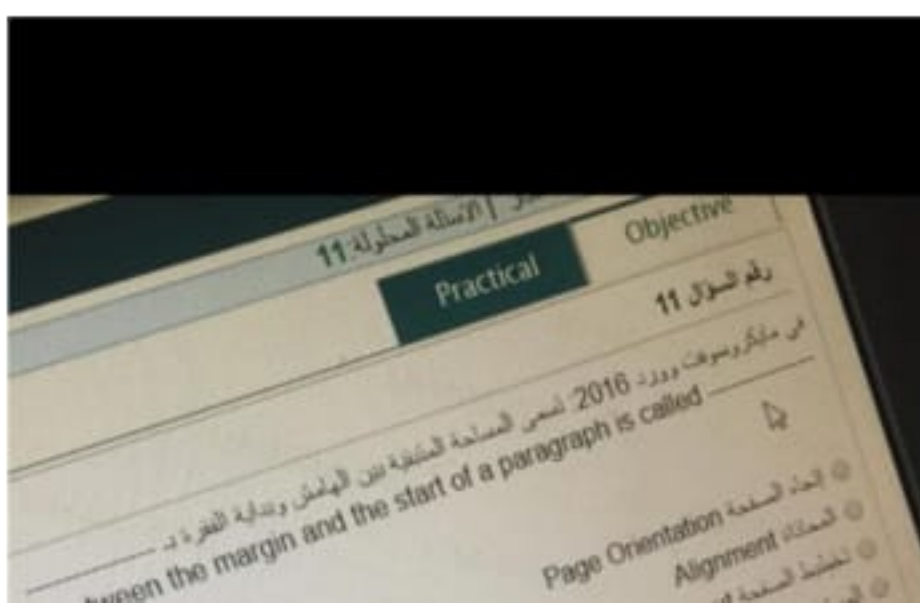
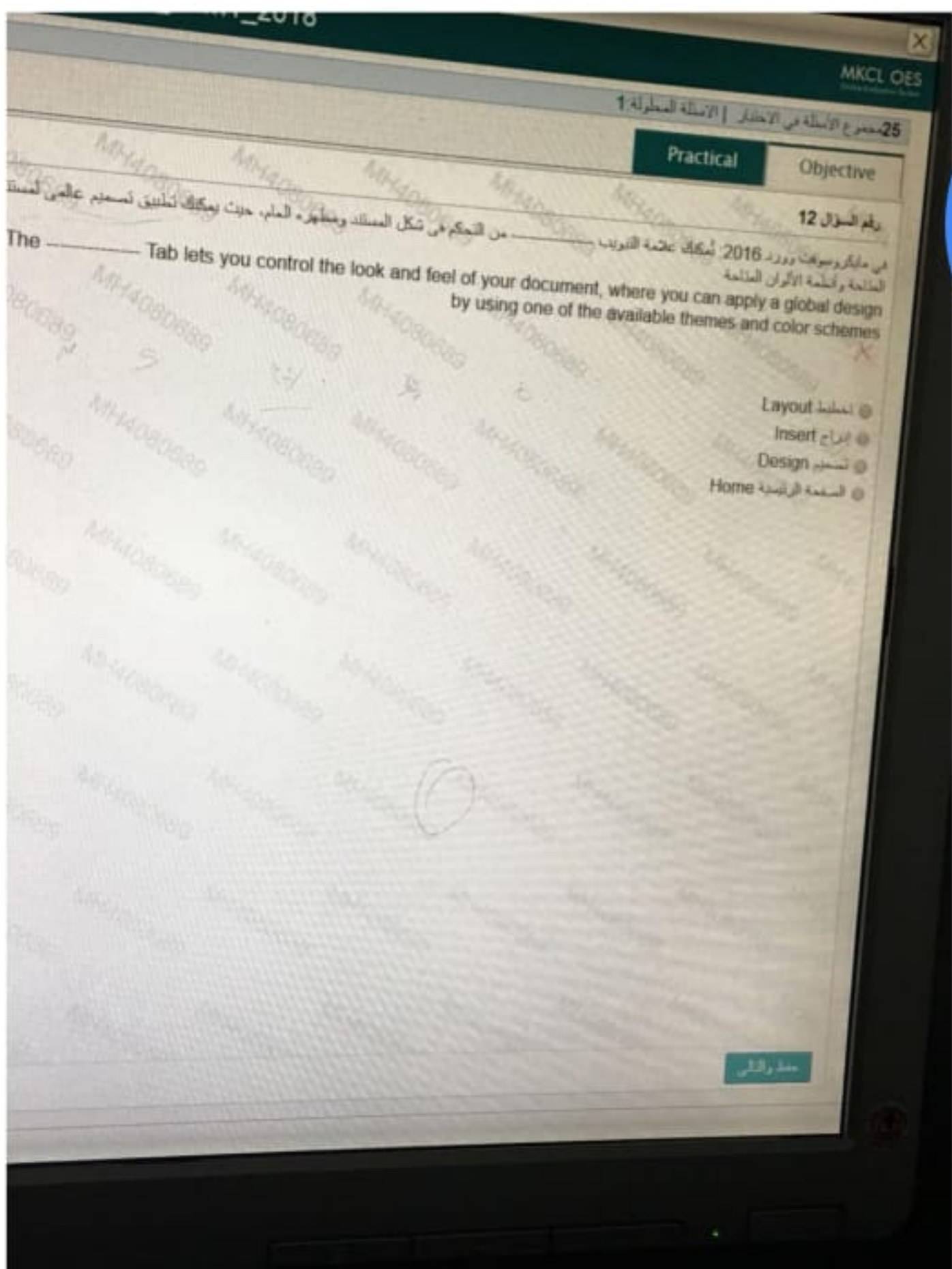
 Timing توقيت Tracking تتبع Text نص Show إظهار

في مايكروسوفت أكسل 2016: الدالة _____ تُستخدم للحصول على أكبر درجة من درجات اختبارات الطلاب.

In MS Excel 2016: The function _____ would be used to find the largest score on a series of student test scores.

- SUM
- AVERAGE
- MAX
- MAXIMUM





Objective

Number of main questions: 23

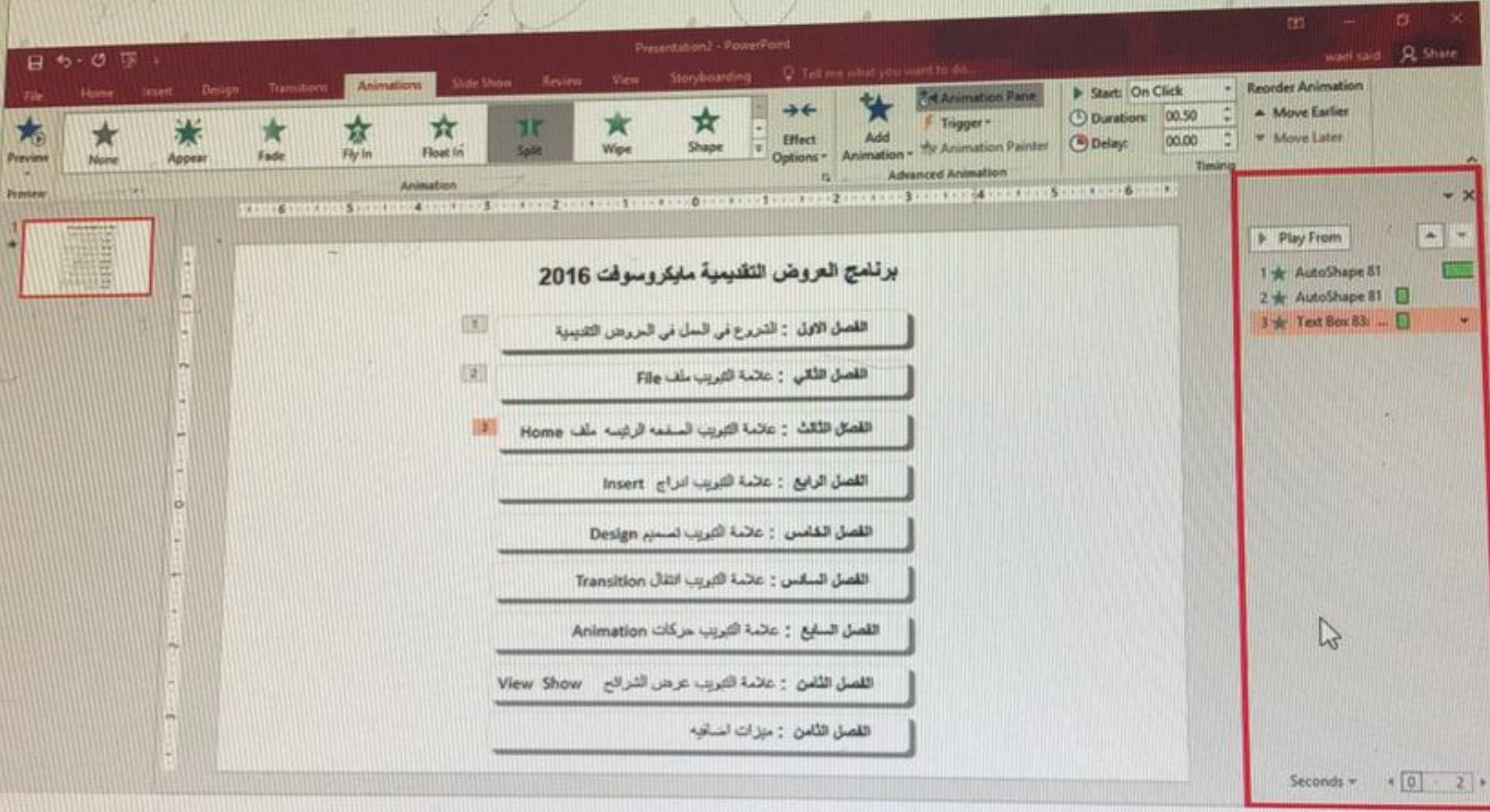
مجموع الأسئلة: 23

تم الإجابة 4 لم يتم الإجابة 19

Partially Answered 0 لم يتم زيارته 0

7	6	5	4	3	2	1
4	13	12	11	10	9	8
1	20	19	18	17	16	15
					23	22

في مايكروسوفت بوربوينت 2016: الجزء المحدد بمستطيل أحمر على يمين الصورة التالية يسمى _____ والذي يوجد به كل تأثيرات الحركة الموجودة بالفتريجة الحالية.
 In MS PowerPoint 2016: The specified red rectangular part in the right of the following image, is called _____ which all the animation effects are existed



- نامخ الحركة Animation Painter
- ترتيب الحركة Reorder Animation
- جزء الحركة Animation Pane
- جزء المعاينة Preview Pane

Practical

Objective

رقم السؤال 2

في مايكروسوفت اكسل 2016: إذا كانت قيمة $A80 = 100$. ما هي نتيجة الدالة $=IF(A80 < 80, 20, 12)$ ؟
In MS Excel 2016: What is the result of the function $=IF(A80 < 80, 20, 12)$, when $A80 = 100$?

12 32 80 20

حفظ والتالي

Practical

Objective

رقم السؤال 2

في مايكروسوفت اكسل 2016: إذا كانت قيمة $A80 = 100$. ما هي نتيجة الدالة $=IF(A80 < 80, 20, 12)$ ؟
In MS Excel 2016: What is the result of the function $=IF(A80 < 80, 20, 12)$, when $A80 = 100$?

12 32 80 20

حفظ والتالي

الوقت
51

اسم المستخدم: MH4054787

Objective

Number of main questions: 23

مجموع الأسئلة: 23

تمت	7	تم الإجابة	10
لم يتم	0	لم يتم رده	6

5	4	3	2	1
12	11	10	9	8
19	18	17	16	15
			23	

Practical

Objective

رقم السؤال 21

في مايكروسوفت بوربوينت 2016 في علامة التبويب _____ يتم تحديد الطريقة التي تظهر بها التغييرات عند الانتقال من شريحة لأخرى أثناء عرض الشرائح


In MS PowerPoint 2016: The _____ Tab is used to specify how the display changes when we move from one slide to another during a slide show

تصميم Design

عرض View

حركات Animations

انتقالات Transitions



Practical

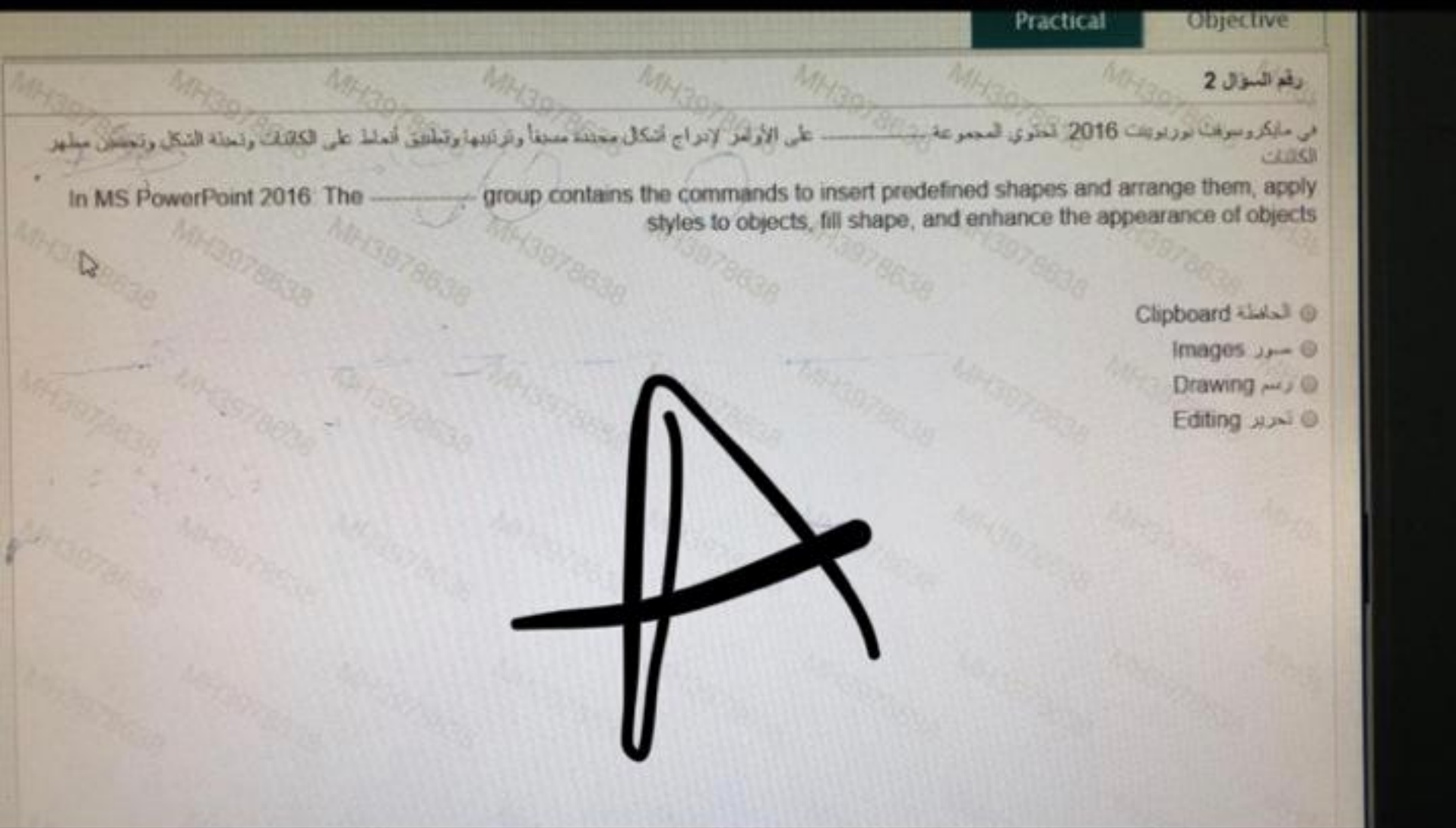
Objective

رقم السؤال 22

في مايكروسوفت بوربوينت 2016 تحتوي مجموعة
 على معرض أيقونات تمثل تأثيرات الانتقال المتنوعة.
 16. The _____ group contains a gallery of icons representing different transitions effects.

- معاينة Preview
- انتقال الى هذه الشريحة Transition to this slide
- توقيت Timing
- سمات Themes

حفظ راسلي



Practical

Objective

رقم السؤال 8

في مايكروسوفت وورد 2016. أي من المجموعات التالية تندرج تحت علامة التوثيق ادراج؟
In MS Word 2016. Which of the following groups falls under the Insert Tab?

- صفحات Pages
- تصميم Design
- إعداد الصفحة Page Setup
- فقرة Paragraph

Practical

Objective

رقم السؤال 8
في مايكروسوفت وورد 2016 أي من المجموعات التالية تندرج تحت علامة التنوين اذراج؟
In MS Word 2016 Which of the following groups falls under the Insert Tab?

- صفحات Pages
- تصميم Design
- إعداد الصفحة Page Setup
- فقرة Paragraph

Practical

Objective

رقم السؤال 10

في مايكروسوفت بوربوينت 2016 عند الإنتهاء من تطبيق نسخ التنسيق المجدد على أماكن متعددة، نضغط على مفتاح
6: We press the key _____ when we finish to apply "Format Painter" at multiple places.

F2

Enter

Escape

Tab

حفظ والتالي

Practical

Objective

رقم السؤال 23

في مايكروسوفت بوربوينت 2016: تُستخدم أيقونة _____ لعرض كيفية ظهور تكبيرات الحركة المُطبقة على الشريحة الحالية.

In MS PowerPoint 2016: The _____ icon is used to view how all the applied animation effects will appear in the current slide.

عرض الشرائح Slide Show

عرض القراءة Reading View

معاينة Preview

معاينة قبل الطباعة Print Preview

اسم المستخدم 787

Objective

Questions: 23

مجموع الأسئلة: 23

م الإجابة 8

لديهم زيارته 10

3 2 1

10 9 8

17 16 15

23 22

في مايكروسوفت أكسل 2016: تَرجع الدالة

عدد الأحرف في سلسلة نصية.

In MS Excel 2016: the

function returns the number of characters in a text string.

- UPPOR
- LOWER
- LEN
- LENGTH

Objective

Number of main questions: 23

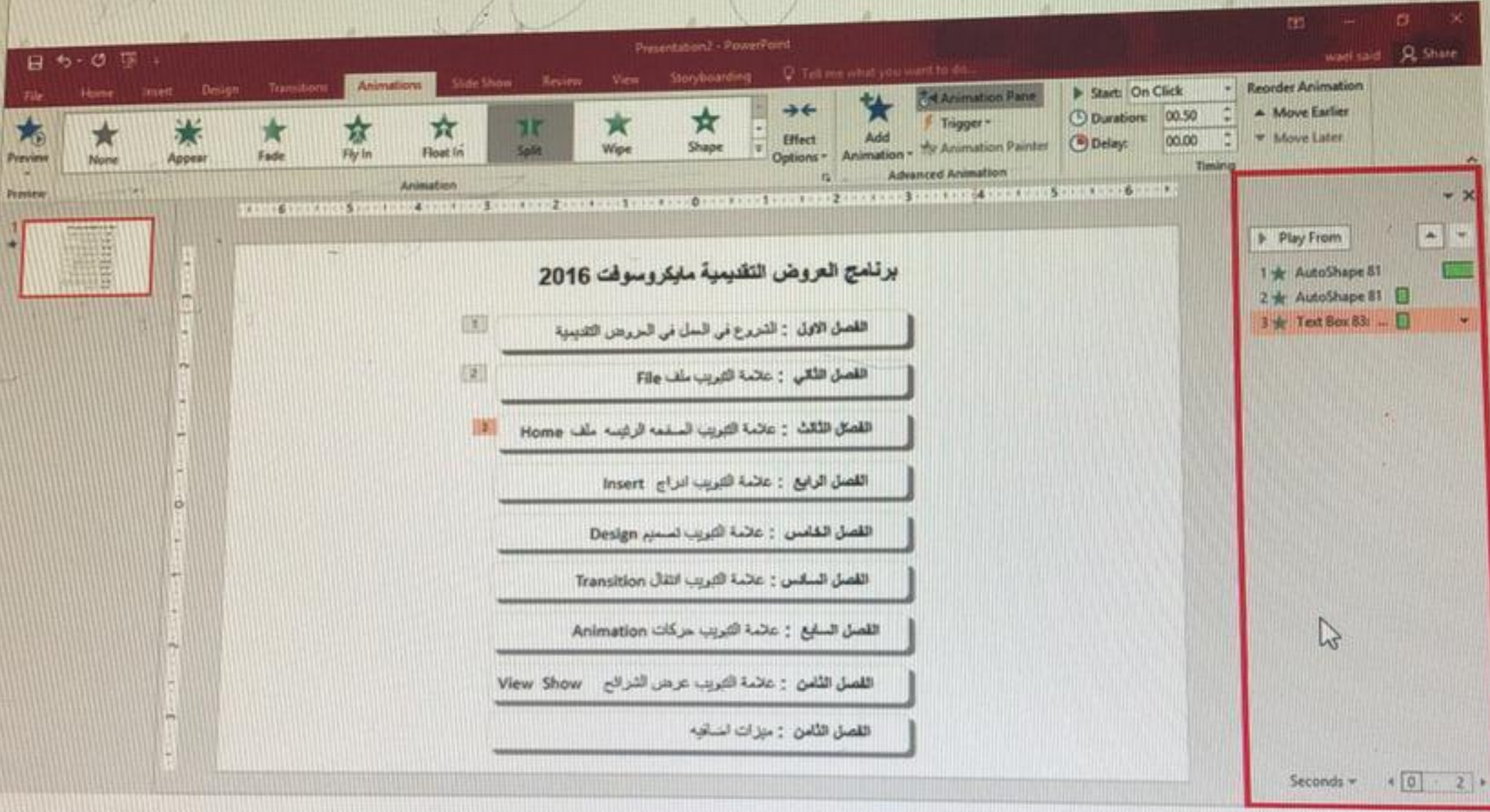
مجموع الأسئلة: 23

تم الإجابة 4 لم يتم الإجابة 19

Partially Answered 0 لم يتم زيارته 0

7	6	5	4	3	2	1
4	13	12	11	10	9	8
1	20	19	18	17	16	15
					23	22

في مايكروسوفت بوربوينت 2016: الجزء المحدد بمستطيل أحمر على يمين الصورة التالية يسمى _____ والذي يوجد به كل تأثيرات الحركة الموجودة بالفتريجة الحالية.
 In MS PowerPoint 2016: The specified red rectangular part in the right of the following image, is called _____ which all the animation effects are existed



- نامخ الحركة Animation Painter
- ترتيب الحركة Reorder Animation
- جزء الحركة Animation Pane
- جزء المعاينة Preview Pane

رقم السؤال	الاجابة
402	الاجابة
404	الاجابة
405	الاجابة
402	الاجابة
404	الاجابة

25 مجموع الأسئلة في الاختبار | الأسئلة المحلولة 18

Practical

Objective

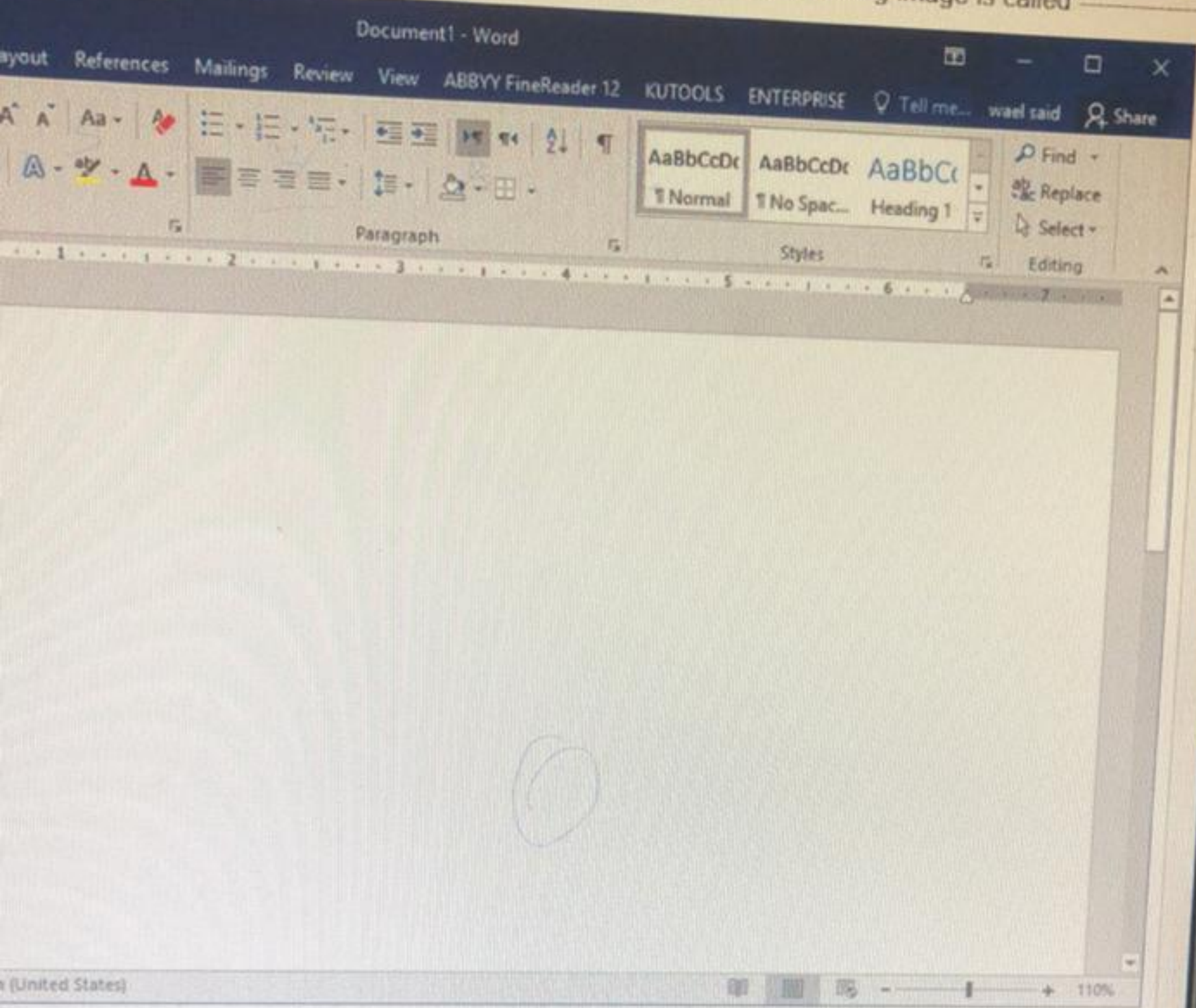
رقم السؤال 8

في مايكروسوفت وورد 2016: إختصار لوحة المفاتيح المستخدم لإزالة كل الارتباطات التشعبية بعد تحديد
sed to remove all hyperlinks after selecting the entire document is -----

- Ctrl + F8
- Ctrl + F9
- Ctrl + Shift + F9
- Ctrl + Shift + F8

حفظ والتالي

في مايكروسوفت وورد 2016 يسمى المؤشر الموجود في الشكل البيضاوي في الصورة التالية بـ
rd 2016: The pointer that is shown inside the oval shape in the following image is called _____



- نقطة التاندير Indicator point
- نقطة البدء Start point
- نقطة التقدم Forward point

حفظ والقلى

Practical

Objective

رقم السؤال 9

في مايكروسوفت وورد 2016 أي من الإختيارات التالية ليس من خيارات عرض الترميز "Ribbon"
In MS Word 2016 Which of the following is NOT a Ribbon Display Options?

- إخفاء الترميز تلقائياً
Auto-hide Ribbon
- حذف الترميز تمامًا
Completely delete the Ribbon
- إظهار علامات التنويذ والأوامر
Show Tabs and Commands
- إظهار علامات التنويذ
Show Tabs

+966 54 941 3191

قبل ٢٥ دقيقة

11_FT_Sem1_2018

40 سؤال في الاختبار | الأسئلة المتعلّقة 13

Practical

Objective

رقم السؤال 4

في اختبار سبوت لكانال 2016 بعد ابراج الدالة MAX في الخلية A12 والتي تعتمد على الخلايا A1, A2, A3 التي تحتوي على القيم 3, 5, 1 على التوالي من الخلية A12 تكون _____

16 When the MAX function is entered in A12 and is based on cells A1, A2, A3 which contains the values 3, 5, and 1 respectively. The displayed value in cell A12 would be

- 1
- 5
- 9
- 3

رقم السؤال 3

في مايكروسوفت ورد 2016: أستخدم أيقونة _____ لوضع المؤشر على الصفحة التالية حتى ولو كان هناك بعض الفراغ في أسفل الصفحة الحالية
MS Word 2016. The _____ icon is used to place the cursor on the next pages even though there is some blank space at the bottom of the current page

- صفحة الغلاف Cover Page
- دمج الصفحات Merge Pages
- تنسيق الطابع Painter Format
- فاصل الصفحات Page Break

Practical

Objective

رقم السؤال 19

في مايكروسوفت 2016، أي من الأوامر التالية لا يتدرج تحت مجموعة "الشرائح" في علامة التبويب "ملف"؟
In MS PowerPoint 2016: Which of the following commands does NOT exist in the "Slides" group from the "File" Tab?

- حذف Delete
- تخطيط Layout
- شريحة جديدة New Slide
- إعادة تعيين Reset

خط والفرق

رقم السؤال 2

في مايكروسوفت بوربوينت 2016: تحتوي المجموعة _____ على الأوامر لإدراج أشكال محددة مسبقاً وترتيبها وتطبيق أنماط على الكائنات وتعينة الشكل وتحسين مظهر الكائنات

In MS PowerPoint 2016: The _____ group contains the commands to insert predefined shapes and arrange them, apply styles to objects, fill shape, and enhance the appearance of objects

- الحافظة Clipboard
- صور Images
- رسم Drawing
- تحرير Editing

Practical


Objective

رقم السؤال 13

في مايكروسوفت اكسل 2016، في الدالة $=MAX(A1:A5)$ ، الجزء (A1:A5) من الدالة هو مثال على _____
In MS Excel 2016, in the function $=MAX(A1:A5)$, the (A1:A5) portion of the function is an example of a(n) _____

 بناء الدالة | Function Call اسم الدالة | Function Name الوسيط | Argument المراجع | Reference

حفظ والتالي



Practical

Objective

رقم السؤال 14

في مايكروسوفت إكسل 2016، إذا كانت الخلية A1 تحتوي على القيمة "75" فإن نتيجة الصيغة (=IF(A1>60, "Pass", "Fail")) هي _____
In MS Excel 2016, if the cell A1 contains the value "75" the result of the formula =IF(A1>60, "Pass", "Fail") is _____

Pass Fail A1>60 75



Practical

Objective

رقم السؤال 14

في مايكروسوفت أكسل 2016 أي من التالي هو الصيغة الصحيحة لاستخدام الدالة COUNTIF؟
In MS Excel 2016: Which of the following is the correct syntax for the COUNTIF function?

- =COUNT(IF(range, criteria))
- =COUNTIF(range, criteria)
- =COUNTIF(criteria, range)
- =COUNTIF(criteria, range, [count_range])

رقم السؤال 12

في مايكروسوفت إكسل 2016 إذا كانت قيمة A1= 10، ما هي نتيجة الدالة =IF(A1=10 " Smaller", " Larger")
In MS Excel 2016. What is the result of the function =IF(A1=10, "Smaller", "Larger"), when A1= 10?

- Larger
- large
- Smaller
- small

Practical


Objective

رقم السؤال 13

في برنامج ميكروسوفت بوربوينت 2016، يُستخدم معبر الامتلاء لتغيير حجم العناصر المتكررة في الشرائح.
In MS PowerPoint 2016, The Rotation Handle is used to resize the placeholders in slides.

صح TRUE

خطأ FALSE



Practical

Objective

رقم السؤال 19

في مايكروسوفت بورن بونت 2016 أي من المجموعات التالية لا توجد تحت علامة التبويب "عرض الشرائح"؟
In MS PowerPoint 2016. Which of the following groups does NOT exist in the "Slide Show" Tab?

 إظهار Show بدء عرض الشرائح Start Slide Show أجهزة العرض Monitors إعداد Setup



Practical

Objective

الهدف

في برنامج الـ PowerPoint 2010، الـ Animation هي إضافة تأثيرات بصرية أو صوتية للـ Objects على الـ Slides.
في برنامج الـ PowerPoint 2010، Animation تعني إضافة تأثيرات بصرية أو صوتية للـ Objects على الـ Slides.

FALSE

TRUE

رقم السؤال 15

في مايكروسوفت بوربوينت 2016 : تُستخدم أيقونة _____ في تحديد حالة خاصة لبدء الحركة.
 2016: The _____ icon is used to specify a special condition for the start of an animation.

 متشغل Trigger

 ناسخ الحركة Animation Painter

 جزء الحركة Animation Pane

 سرعة الحركة Animation Speed