

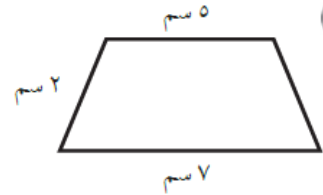
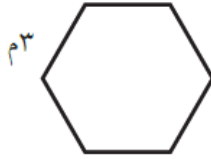
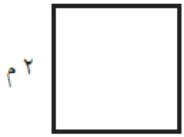
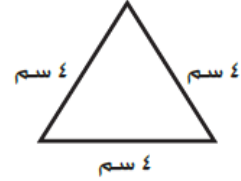
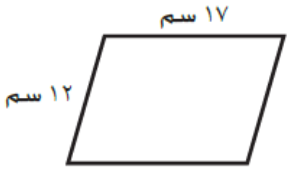
## ورقة تدريبات: المحيط

التاريخ / / ١٤٤٤ هـ


الصف : الثالث

الاسم :


اجد محيط كل شكل مما يأتي:




أظلل شكلاً على شبكة المربعات طول محيطه كالاتي:



$$9 + 2 + 9 + 2$$



$$2 + 6 + 2 + 6$$



$$4 + 5 + 4 + 5$$