



موقع اجاباتكم

Google

للمزيد اكتب
في جوجل



موقع اجاباتكم

موقع اجاباتكم التعليمي يوفر كل ما يحتاجه الطالب
والمعلم من حلول الكتب توزيع المنهج. اختبارات
نهائية وفترية ملخصات. أوراق عمل والكثير

اختبار مادة العلوم للصف الثالث الفصل الدراسي الأول (الفترة الثانية) لعام ١٤٤٧ هـ

السؤال الأول : ضع علامة (✓) أمام العبارة الصحيحة، وعلامة (x) أمام العبارة الخاطئة ؟

٤

١	الموطن المكان الذي يعيش فيه المخلوق الحي و يجد حاجاته الأساسية .	()
٢	المنتج مخلوق حي يصنع غذائه بنفسه .	()
٣	التلوث دخول مواد ضارة في الهواء أو الماء أو التربة .	()
٤	الجفاف أحد أشكال الكوارث الطبيعية ينتج عن الأمطار الغزيرة و العواصف .	()


السؤال الثاني : أكتب الإجابة الصحيحة من المجموعة (أ) أمام ما يناسبها من المجموعة (ب) ؟

٤

المجموعة (أ)	المجموعة (ب)
١ الجفاف	استهلاك أقل كمية من الشيء .
٢ المستهلكات	ينام الحيوان نهاراً و ينشط ليلاً عندما يبرد الجو .
٣ الشبكة الغذائية	تشابك السلاسل الغذائية .
٤ النشاط الليلي	مخلوق حي يتغذى على مخلوق حي آخر .
٥ الترشيح	

السؤال الثالث : أجب عن الأسئلة التالية من خلال الصورة المجاورة ؟

٢



- ١- كون سلسلة غذائية ؟
- ٢- أذكر تكيف واحد للجمل في بيئة الصحراء ؟
- ٣- مخلوق حي منتج ؟
- ٤- مخلوق حي مستهلك ؟


السؤال الرابع : أكمل الفراغات التالية بالكلمة المناسبة ؟

٤

النظام البيئي - التخفي - الحرائق - إحداث التنافس - الهجرة

- ١- انتقال الحيوانات من مكان إلى آخر بحثاً عن الغذاء و الماء .
- ٢- اندماج شكل و لون الحيوان مع بيئته .
- ٣- من طرق تغيير الإنسان للبيئة .
- ٤- المخلوقات الحية و الأشياء الغير حية التي تتشارك بالموطن و يوجد بينها تفاعل .

١- تعتبر ديدان الأرض .



أ (منتجات

ب (مستهلكات

ج (محلات

٢- أشواك القنفذ تساعد على .




أ (حمايته من الأعداء

ب (التخفي

ج (الحصول على الغذاء

٣- تساعد جذور نباتات الصحراء على



أ (حماية النبات

ب (امتصاص أكبر كمية من الماء

ج (صنع الغذاء

٤- يغير الإنسان بيئته في الصورة .



أ (التلوث

ب (إزالة الغابات و الاحتطاب

ج (إحداث التنافس

٥- تمثل الصورة المجاورة .




أ (التدوير

ب (الترشيد

ج (إعادة الاستخدام

٦- يعد غزال الريم حيوان .



أ (مهدد بالانقراض

ب (منقرض

ج (شيء غير حي

” انتهت الأسئلة ”

اجاباتكم