

الصف: سادس ابتدائي
اليوم:
التاريخ: / / ١٤٤٤ هـ
الزمن: ساعة ونصف فقط



المملكة العربية السعودية
وزارة التعليم
إدارة تعليم منطقة تبوك

اختبار نهاية الفصل الدراسي الثاني (الدور الأول)

مادة **العلوم** للصف السادس ابتدائي

للعام الدراسي ١٤٤٤ هـ

اسم الطالبة :
رقم الجلوس :

| رقم السؤال | الدرجة رقما | الدرجة كتابة | المصححة | المراجعة | المدققة |
|---------------|-------------|--------------|---------|----------|---------|
| السؤال الأول | | | | | |
| السؤال الثاني | | | | | |
| السؤال الثالث | | | | | |

درجة الاختبار النهائية : فقط لا غير من ٤٠ درجة



اعمل بجد في صمت .. ودع النجاح يحدث ضجيجاً


السؤال الأول:

أ- اختاري الإجابة الصحيحة في كلاً مما يلي:


| | | | | | |
|--|-------------------|---|--------------------|---|-------------------------|
| ١- مخلوقات حية تحصل على غذائها عن طريق قتل مخلوقات حية أخرى هي | | | | | |
| أ | اكلات الاعشاب | ب | المفترسات | ج | المحللات |
| د | الحيوانات الكانسة | | | | |
| ٢- تتشابه التندرا والتايجا والصحراء ب..... | | | | | |
| أ | لها فصل واحد | ب | مناخها قاسي | ج | مناخها حار |
| د | مناخها بارد | | | | |
| ٣- تشكل قاعدة الهرم الغذائي. | | | | | |
| أ | المحللات | ب | المفترسات | ج | المستهلكات |
| د | المنتجات | | | | |
| ٤- الطاقة التي يمكن الحصول عليها من يتابع المياه الساخنة هي..... | | | | | |
| أ | الطاقة الشمسية | ب | الطاقة الكهرومائية | ج | الطاقة الحرارية الجوفية |
| د | طاقة الرياح | | | | |
| ٥- من الحيوانات القارئة | | | | | |
| أ | الاسد | ب | الراكون | ج | الحصان |
| د | العصفور | | | | |
| ٦- نطاق التربة الذي يحوي معظم المواد العضوية يسمى..... | | | | | |
| أ | نطاق أ | ب | نطاق ب | ج | نطاق ج |
| د | نطاق د | | | | |
| ٧- المدة التي يستغرقها القمر ليكمل جميع أطواره هي..... | | | | | |
| أ | سنة | ب | شهر | ج | يوم |
| د | يومان | | | | |
| ٨- ليس من معالم سطح القمر..... | | | | | |
| أ | الجبال | ب | الاوودية | ج | الفوهات |
| د | المحيطات | | | | |
| ٩- المصدر الرئيسي لمادة الدبال في التربة..... | | | | | |
| أ | الفتات الصخري | ب | الماء | ج | بقايا مخلوقات ميتة |
| د | الطين | | | | |
| ١٠- ما نوع مجرة درب التبانة؟ | | | | | |
| أ | مجرة بدائية | ب | مجرة غير منتظمة | ج | مجرة اهليجية |
| د | مجرة لولبية | | | | |

يمثل الشكل التالي:

.....



.....



ب- ضعي الكلمات التالية في المكان المناسب: (محلل - مستهلك ثالث - مستهلك اول - مستهلك ثاني - منتج)




ج- سمى النطاقات التالية:

..... (أ) ←

..... (ب) ←

..... (ج) ←



السؤال الثالث:

أ- ضعي المصطلحات التالية في مكانها المناسب:

(التلوث – المناخ – الكون - التربة)

- ١- (.....) متوسط حالة الطقس في منطقة معينة خلال فترة زمنية طويلة.
 ٢- (.....) خليط من فتات الصخور وأجزاء نباتات ومخلوقات ميتة.
 ٣- (.....) إضافة مواد ضارة الى التربة او الماء او الهواء.
 ٤- (.....) جميع الاجرام والكواكب والنجوم والمجرات في الفضاء الشاسع.

ب- ضعي علامة (✓) او (✗) امام العبارات التالية:

| | |
|----|--|
| ١ | الغراب والديدان والعقاب مستهلكات تسمى بالحيوانات الكانسة. |
| ٢ | يسمى النظام البيئي الذي يتكون عند التقاء مياه النهر مع البحر بمصب النهر. |
| ٣ | تعد الأشرطة المتبادلة من طرق حفظ التربة. |
| ٤ | الترشيد وإعادة التدوير من طرق المحافظة على موارد البيئة. |
| ٥ | تسبب جاذبية القمر والارض حدوث المد والجزر. |
| ٦ | الطاقة الكهرومائية من مصادر الطاقة الغير متجددة. |
| ٧ | يفصل بين الكواكب الداخلية والخارجية في النظام الشمسي غلاف جوي. |
| ٨ | اللون الأصفر يدل على النجوم الأكثر سخونة. |
| ٩ | تقاس المسافات بين النجوم بالكيلو متر. |
| ١٠ | عطارد هو احد الكواكب الخارجية. |

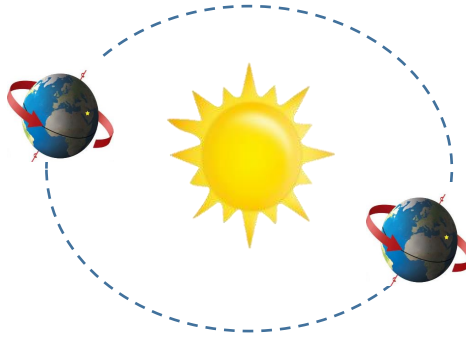
ج- أكمل الفراغات التالية:



دورة الأرض.....

تستغرق.....

ينتج عنها.....



دورة الأرض.....

تستغرق.....

ينتج عنها.....

انتهت الاسئلة

دعواتي لكن بالتوفيق والنجاح

العلمة: أمل الزهراني