

# أوراق تدريبات

رياضيات الصف الأول ابتدائي – الفصل ٣

## الجزء الأول

المرجع: كتاب التمارين

تذكر:

في تدريبات الرياضيات ليس المهم أن تحل فقط!  
الأهم من ذلك أن تعرف كيف جاء الحل؟



إعداد: حسن القرني

الاسم :

الصف : الأول

التاريخ / / ١٤٤٤ هـ

## أَكْتُبِ الْعَدَدَ:

١ ١٦ آحَادًا = ..... آحَادٍ وَ ..... عَشْرَاتٍ = .....

٢ ٢٢ آحَادًا = ..... آحَادٍ وَ ..... عَشْرَاتٍ = .....

٣ ٣٣ آحَادًا = ..... آحَادٍ وَ ..... عَشْرَاتٍ = .....

٤ ٤١ آحَادًا = ..... آحَادٍ وَ ..... عَشْرَاتٍ = .....

٥ ٣٠ آحَادًا = ..... آحَادٍ وَ ..... عَشْرَاتٍ = .....

٦ ٥٨ آحَادًا = ..... آحَادٍ وَ ..... عَشْرَاتٍ = .....

ورقة تدريبات: الأعداد حتى ٥٠

الاسم :

الصف : الأول

التاريخ / / ١٤٤٤ هـ

أَكْتُبْ عَدَدَ الْآحَادِ وَالْعَشْرَاتِ، ثُمَّ أَقْرَأِ الْعَدَدَ وَأَكْتُبْهُ.

..... آحَادٍ ..... عَشْرَاتٍ

أَقُولُ: تِسْعَةٌ وَأَرْبَعُونَ

أَكْتُبُ: .....

عَشْرَاتٌ	آحَادٌ
<input type="checkbox"/>	<input type="checkbox"/>
<input type="checkbox"/>	<input type="checkbox"/>
<input type="checkbox"/>	<input type="checkbox"/>
<input type="checkbox"/>	<input type="checkbox"/>
<input type="checkbox"/>	<input type="checkbox"/>

١

..... آحَادٍ ..... عَشْرَاتٍ

أَقُولُ: ثَلَاثَةٌ وَثَلَاثُونَ

أَكْتُبُ: .....

عَشْرَاتٌ	آحَادٌ
<input type="checkbox"/>	<input type="checkbox"/>
<input type="checkbox"/>	<input type="checkbox"/>
<input type="checkbox"/>	<input type="checkbox"/>

٢

..... آحَادٍ ..... عَشْرَاتٍ

أَقُولُ: سَبْعَةَ عَشَرَ

أَكْتُبُ: .....

عَشْرَاتٌ	آحَادٌ
<input type="checkbox"/>	<input type="checkbox"/>
<input type="checkbox"/>	<input type="checkbox"/>
<input type="checkbox"/>	<input type="checkbox"/>
<input type="checkbox"/>	<input type="checkbox"/>
<input type="checkbox"/>	<input type="checkbox"/>

٣

التاريخ / / ١٤٤٤ هـ

الصف : الأول

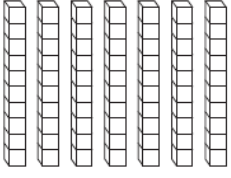

الاسم :

اَكْتُبْ عَدَدَ الْآحَادِ وَالْعَشْرَاتِ، ثُمَّ اَكْتُبِ الْعَدَدَ وَأَقْرُؤْهُ:

..... آحَادٍ ..... عَشْرَاتٍ

اَكْتُبْ: .....

أَقُولُ: سَبْعَةٌ وَسَبْعُونَ

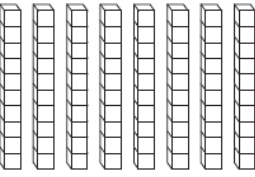

عَشْرَاتٌ	آحَادٌ
	

١

..... آحَادٍ ..... عَشْرَاتٍ

اَكْتُبْ: .....

أَقُولُ: ثَلَاثَةٌ وَثَمَانُونَ

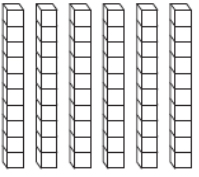

عَشْرَاتٌ	آحَادٌ
	

٢

..... آحَادٍ ..... عَشْرَاتٍ

اَكْتُبْ: .....

أَقُولُ: خَمْسَةٌ وَسِتُّونَ

عَشْرَاتٌ	آحَادٌ
	

٣

..... آحَادٍ ..... عَشْرَاتٍ

اَكْتُبْ: .....

أَقُولُ: ثَمَانِيَةٌ وَعِشْرُونَ

عَشْرَاتٌ	آحَادٌ
	

٤

ورقة تدريبات: التقدير

التاريخ / / ١٤٤٤ هـ

الصف : الأول

الاسم :

أَعِدُّ العَشْرَاتِ وَأُقَدِّرُ العَدَدَ، ثُمَّ أَعِدُّ لِأَجَدِ العَدَدَ الحَقِيقِيَّ:

١

التَّقْدِيرُ: .....

العَدَدُ الحَقِيقِيُّ: .....

٢

التَّقْدِيرُ: .....

العَدَدُ الحَقِيقِيُّ: .....

٣

التَّقْدِيرُ: .....

العَدَدُ الحَقِيقِيُّ: .....

التاريخ / / ١٤٤٤ هـ

الصف : الأول

الاسم :

أحوظُ الإجابة الصحيحة، ثم اكتبُ (< أو > أو =) في ○ :

١ ١٤ أكبر من ٢٩ ٢ ٢٢ أكبر من ٢٥

١٤ أصغر من ٢٩ ٢٢ أصغر من ٢٥

١٤ يساوي ٢٩ ٢٢ يساوي ٢٥

١٤ ○ ٢٩ ٢٢ ○ ٢٥

٣ ١٥ يساوي ١٥ ٤ ٧٢ يساوي ٤٤

١٥ أكبر من ١٥ ٧٢ أكبر من ٤٤

١٥ أصغر من ١٥ ٧٢ أصغر من ٤٤

١٥ ○ ١٥ ٧٢ ○ ٤٤

اكتبُ (< أو > أو =) :

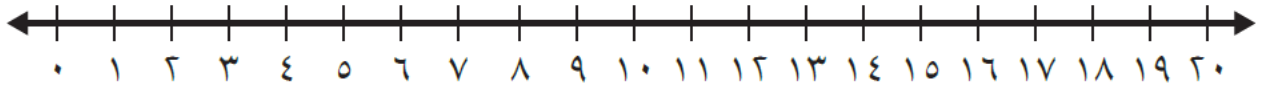
٥ ٣٦ ○ ٣٨ ٦ ٧٧ ○ ٢٥

٧ ٥٤ ○ ٤٥ ٨ ٣٦ ○ ٦٣

ورقة تدريبات: ترتيب الأعداد حتى ١٠٠

الاسم : \_\_\_\_\_ الصف : الأول التاريخ / / ١٤٤٤ هـ

أَكْتُبِ العَدَدَ الَّذِي يَسْبِقُ مُبَاشَرَةً:



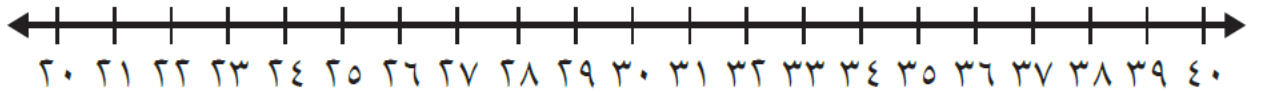
١٥ ، ..... ٢

١٨ ، ..... ١

١٩ ، ..... ٤

١١ ، ..... ٣

أَكْتُبِ العَدَدَ الَّذِي يَلِي مُبَاشَرَةً:



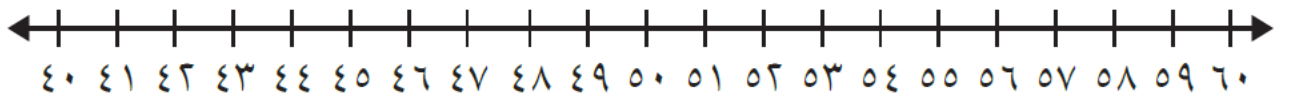
..... ، ٣٦ ٦

..... ، ٣٢ ٥

..... ، ٢٩ ٨

..... ، ٢٤ ٧

أَكْتُبِ العَدَدَ الوَاقِعَ بَيْنَ العَدَدَيْنِ:



٦٠ ، ..... ، ٥٨ ١٠

٤٧ ، ..... ، ٤٥ ٩

٥١ ، ..... ، ٤٩ ١٢

٥٤ ، ..... ، ٥٢ ١١

الاسم : الصف : الأول التاريخ : / / ١٤٤٤ هـ

أحوظُ الكَلِمَةَ المُناسِبَةَ (أَطوْلُ مِنْ ، أَقْصَرُ مِنْ) لِأُقارِنَ بَيْنَ الأَطْوَالِ.



١



النَّمْلَةُ (أَطوْلُ مِنْ ، أَقْصَرُ مِنْ) الدُّودَةُ.



٢



قَلَمُ التَّخْطِيطِ (أَطوْلُ مِنْ ، أَقْصَرُ مِنْ) قَلَمِ الرِّصَاصِ.



٣



السَّوَارُ (أَطوْلُ مِنْ ، أَقْصَرُ مِنْ) مَاسِكِ الشَّعْرِ.



ورقة تدريبات: مقارنة الكتل وترتيبها

الاسم : الصف : الأول التاريخ : / / ١٤٤٤ هـ

أقارن، ثم أحوطُ الإجابة الصحيحة:

١ أيهما أثقل؟



٢ أيهما أخف؟



٣ أيها الأثقل؟



٤ أيها الأثقل؟





ورقة تدريبات: مقارنة السعات وترتيبها

التاريخ / / ١٤٤٤ هـ

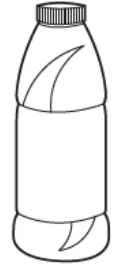
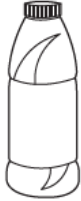
الصف : الأول

الاسم :

أَحَوِّطُ الْأَقَلَّ سَعَةً:

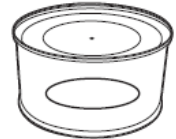
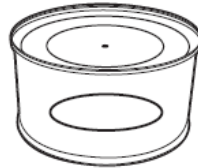
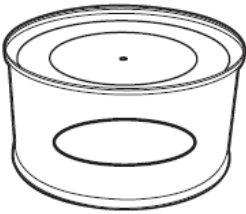


١



٢

أَحَوِّطُ الْأَكْثَرَ سَعَةً:



٣




٥



٤

ورقة تدريبات: العد بالعشرات

الاسم : \_\_\_\_\_ الصف : الأول التاريخ : / / ١٤٤٤ هـ

أَسْتَعْمِلُ  ، وَأَعُدُّ بِالْعَشْرَاتِ ، ثُمَّ أَقْرَأُ الْعَدَدَ وَأَكْتُبُهُ :

٢

□	□	□	□	□	□	□	□	□	□	□	□	□	□	□	□	□	□	□	□
□	□	□	□	□	□	□	□	□	□	□	□	□	□	□	□	□	□	□	□
□	□	□	□	□	□	□	□	□	□	□	□	□	□	□	□	□	□	□	□
□	□	□	□	□	□	□	□	□	□	□	□	□	□	□	□	□	□	□	□
□	□	□	□	□	□	□	□	□	□	□	□	□	□	□	□	□	□	□	□
□	□	□	□	□	□	□	□	□	□	□	□	□	□	□	□	□	□	□	□
□	□	□	□	□	□	□	□	□	□	□	□	□	□	□	□	□	□	□	□
□	□	□	□	□	□	□	□	□	□	□	□	□	□	□	□	□	□	□	□
□	□	□	□	□	□	□	□	□	□	□	□	□	□	□	□	□	□	□	□

١

□	□	□	□	□	□	□	□	□	□	□	□	□	□	□	□	□	□	□	□
□	□	□	□	□	□	□	□	□	□	□	□	□	□	□	□	□	□	□	□
□	□	□	□	□	□	□	□	□	□	□	□	□	□	□	□	□	□	□	□
□	□	□	□	□	□	□	□	□	□	□	□	□	□	□	□	□	□	□	□
□	□	□	□	□	□	□	□	□	□	□	□	□	□	□	□	□	□	□	□
□	□	□	□	□	□	□	□	□	□	□	□	□	□	□	□	□	□	□	□
□	□	□	□	□	□	□	□	□	□	□	□	□	□	□	□	□	□	□	□
□	□	□	□	□	□	□	□	□	□	□	□	□	□	□	□	□	□	□	□
□	□	□	□	□	□	□	□	□	□	□	□	□	□	□	□	□	□	□	□

..... = عَشْرَاتٍ .....  
تِسْعِينَ

..... = عَشْرَاتٍ .....  
ثَمَانِينَ

أَكْتُبُ الْعَدَدَ.

..... = ٦ عَشْرَاتٍ .....  
سِتِّينَ

..... = ٥ عَشْرَاتٍ .....  
خَمْسِينَ

..... = ٣ عَشْرَاتٍ .....  
ثَلَاثِينَ

..... = ٤ عَشْرَاتٍ .....  
أَرْبَعِينَ

ورقة تدريبات: لوحة المئة

التاريخ / / ١٤٤٤ هـ

الصف : الأول

الاسم :

أَسْتَعْمِلُ لَوْحَةَ الْمِئَةِ لِأَكْتُبَ الْأَعْدَادَ بِالترْتِيبِ:

١٠	٩	٨	٧	٦	٥	٤	٣	٢	١
٢٠	١٩	١٨	١٧	١٦	١٥	١٤	١٣	١٢	١١
٣٠	٢٩	٢٨	٢٧	٢٦	٢٥	٢٤	٢٣	٢٢	٢١
٤٠	٣٩	٣٨	٣٧	٣٦	٣٥	٣٤	٣٣	٣٢	٣١
٥٠	٤٩	٤٨	٤٧	٤٦	٤٥	٤٤	٤٣	٤٢	٤١
٦٠	٥٩	٥٨	٥٧	٥٦	٥٥	٥٤	٥٣	٥٢	٥١
٧٠	٦٩	٦٨	٦٧	٦٦	٦٥	٦٤	٦٣	٦٢	٦١
٨٠	٧٩	٧٨	٧٧	٧٦	٧٥	٧٤	٧٣	٧٢	٧١
٩٠	٨٩	٨٨	٨٧	٨٦	٨٥	٨٤	٨٣	٨٢	٨١
١٠٠	٩٩	٩٨	٩٧	٩٦	٩٥	٩٤	٩٣	٩٢	٩١

١ أَكْتُبُ الْأَعْدَادَ مِنْ ٣ إِلَى ١٢ بِالترْتِيبِ:

٣ ، ..... ، ١٢

أَكْتُبُ الْأَعْدَادَ بِالترْتِيبِ:

٣ ٤٠ ، ٥٠ ، ٦٠

٢ ٥ ، ٧ ، ٤

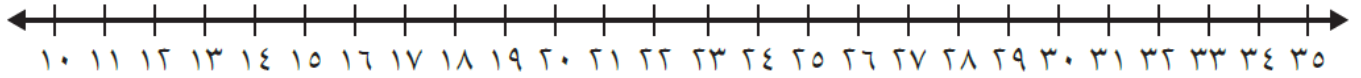
.....

.....

ورقة تدريبات: العد القفزي

الاسم : \_\_\_\_\_ الصف : الأول التاريخ : / / ١٤٤٤ هـ

أَسْتَعْمَلُ خَطَّ الْأَعْدَادِ لِأَعْدِّ بِالْقَفْزِ:



- ١ ..... ، ١٦ ، ١٤
- ٢ ..... ، ١٥ ، ١٠
- ٣ ..... ، ٢٠ ، ١٠

أَسْتَعْمِلُ لَوْحَةَ الْمِئَةِ لِأَعْدِّ بِالْقَفْزِ:

١٠	٩	٨	٧	٦	٥	٤	٣	٢	١
٢٠	١٩	١٨	١٧	١٦	١٥	١٤	١٣	١٢	١١
٣٠	٢٩	٢٨	٢٧	٢٦	٢٥	٢٤	٢٣	٢٢	٢١
٤٠	٣٩	٣٨	٣٧	٣٦	٣٥	٣٤	٣٣	٣٢	٣١
٥٠	٤٩	٤٨	٤٧	٤٦	٤٥	٤٤	٤٣	٤٢	٤١
٦٠	٥٩	٥٨	٥٧	٥٦	٥٥	٥٤	٥٣	٥٢	٥١
٧٠	٦٩	٦٨	٦٧	٦٦	٦٥	٦٤	٦٣	٦٢	٦١
٨٠	٧٩	٧٨	٧٧	٧٦	٧٥	٧٤	٧٣	٧٢	٧١
٩٠	٨٩	٨٨	٨٧	٨٦	٨٥	٨٤	٨٣	٨٢	٨١
١٠٠	٩٩	٩٨	٩٧	٩٦	٩٥	٩٤	٩٣	٩٢	٩١

٤ أَعْدِّ بِالْقَفْزِ اثْنَيْنَاتٍ حَتَّى ٤٠ ،  
أُحَوِّطُ الْعَدَدَ.

٥ أَعْدِّ بِالْقَفْزِ خَمْسَاتٍ حَتَّى ١٠٠ ،  
أُحَوِّطُ الْعَدَدَ.

٦ أَذْكُرُ كُلَّ عَدَدٍ حَوَّطْتُهُ مَرَّتَيْنِ .

.....

ورقة تدريبات: المجسمات

التاريخ / / ١٤٤٤ هـ

الصف : الأول

الاسم :



كُرَّة



مَخْرُوطٌ


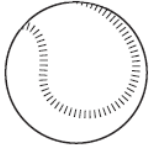


أُسْطُوَانَةٌ

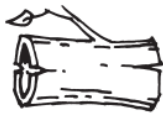


مُكَعَّبٌ


أحِوِّطُ الشَّيْءَ الَّذِي لَا يُشْبِهُ شَكْلَ الْمَجَسِّمِ الْمُعْطَى :




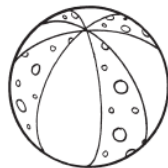

١



٢



٣



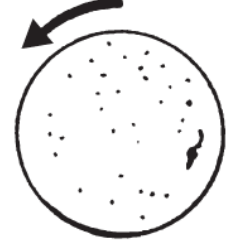
٤

التاريخ / / ١٤٤٤ هـ

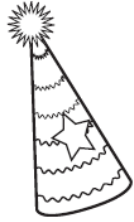
الصف : الأول

الاسم :

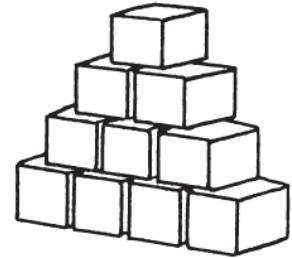
١ أصلُ بَيْنِ الصُّورَةِ وَبَيْنَ كُلِّ مُجَسِّمٍ يَتَدَخَّرُجُ:



يَتَدَخَّرُجُ



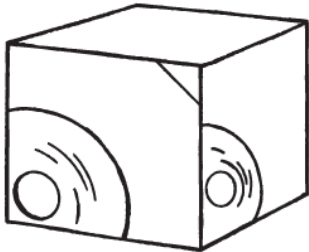
٢ أصلُ بَيْنِ الصُّورَةِ وَبَيْنَ كُلِّ مُجَسِّمٍ يَتَرَاصُّ:



يَتَرَاصُّ



٣ أصلُ بَيْنِ الصُّورَةِ وَبَيْنَ كُلِّ مُجَسِّمٍ يَنْزَلِقُ:



يَنْزَلِقُ

الاسم : الصف : الأول التاريخ : / / ١٤٤٤ هـ

أرسم الأشكال الآتية:

مربعًا

٢

دائرة

١

مستطيلًا

٤

مثلثًا

٣

أكتب عدد الأضلاع والرؤوس:

أضلاع .....  
رؤوس .....



٦

أضلاع .....  
رؤوس .....




٥

أضلاع .....  
رؤوس .....



٨

أضلاع .....  
رؤوس .....



٧



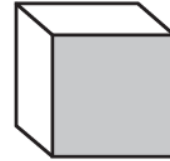
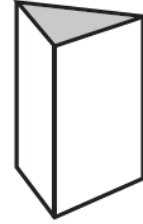


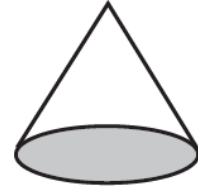

ورقة تدريبات: الأشكال المستوية والمجسمات

التاريخ / / ١٤٤٤ هـ


الصف : الأول

الاسم :

١ أصلُ بينَ المُجَسِّمِ والشَّكْلِ المُسْتَوِي الَّذِي يَظْهَرُ عَلَيْهِ:



٢ أَلْوَنُ الشَّكْلِ المُسْتَوِي الَّذِي يَظْهَرُ عَلَى المُجَسِّمِ المُجَاوِرِ:



٣



٢

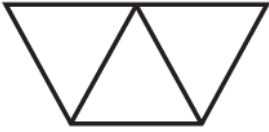
ورقة تدريبات: الأجزاء المتطابقة

التاريخ / / ١٤٤٤ هـ

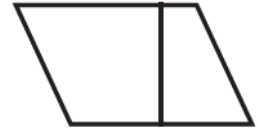
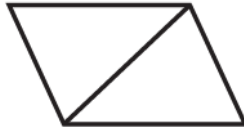
الصف : الأول

الاسم :

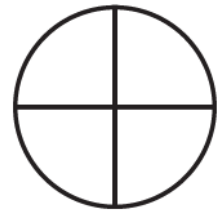
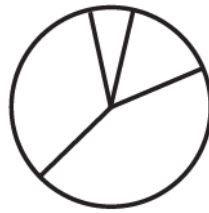
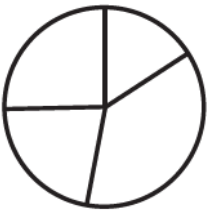
أحَوِّطُ كُلَّ شَكْلِ أَجْزَائِهِ مُتَطَابِقَةً:




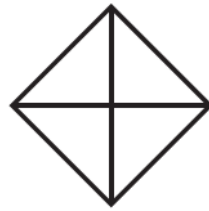

١



٢



٣



٤


ورقة تدريبات: الثلث والربع

التاريخ / / ١٤٤٤ هـ

الصف : الأول

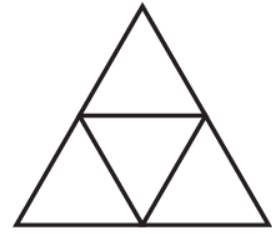
الاسم :

ألون جزءًا واحدًا من الأجزاء المتطابقة، وأحوط الكسر:



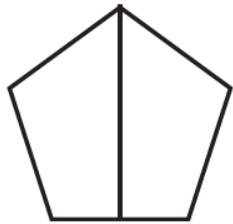
٢

$$\frac{1}{2} \quad \frac{1}{3} \quad \frac{1}{4}$$



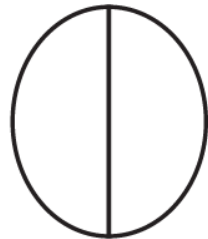
١

$$\frac{1}{2} \quad \frac{1}{3} \quad \frac{1}{4}$$



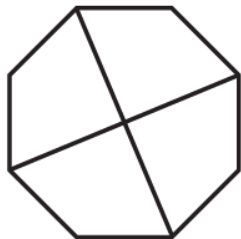
٤

$$\frac{1}{2} \quad \frac{1}{3} \quad \frac{1}{4}$$




٣

$$\frac{1}{2} \quad \frac{1}{3} \quad \frac{1}{4}$$



٦

$$\frac{1}{2} \quad \frac{1}{3} \quad \frac{1}{4}$$



٥

$$\frac{1}{2} \quad \frac{1}{3} \quad \frac{1}{4}$$

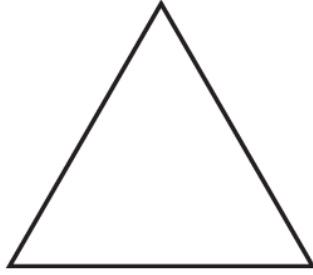
ورقة تدريبات: النصف

التاريخ / / ١٤٤٤ هـ


الصف : الأول

الاسم :


ألون  $\frac{1}{3}$  الشَّكْلِ:



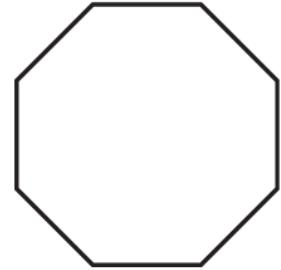
٢



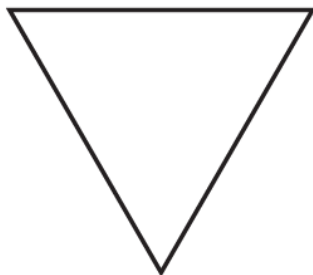
١



٤



٣



٦



٥